






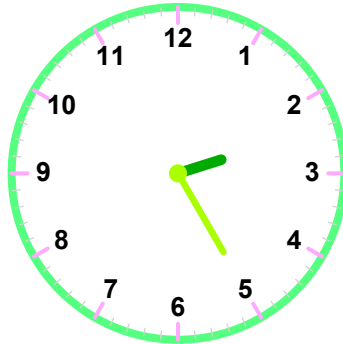
AD SOYAD:

SINIF / NO: /

DERS: MATEMATİK

KONU: SAATLER 5'İN KATLARI

SORU: Aşağıdaki analog saatlerin kaçı gösterdiğini altlarındaki dijital saatlere yazalım.



AD SOYAD:

SINIF / NO: /

DERS: MATEMATİK

KONU: SAATLER 5'İN KATLARI

SORU: Aşağıdaki analog saatlerin kaçı gösterdiğini altlarındaki dijital saatlere yazalım.



SÜREÇ ODAKLI DEĞERLENDİRME ÖLÇEĞİ

[] 0-4 Doğru (Geliştirilmeli)

[] 5-8 Doğru (Yeterli)

[] 9-10 Doğru (İyi)

[] 11-12 Doğru (Çok İyi)

Bu form Matematik dersi için ... çalışmasını değerlendirmek amacıyla hazırlanmıştır. Her doğru cevap 1 puandır.

	Adı-Soyadı	Toplam Puan	Değerlendirme
1			
2			
3			
4			
5			
6			
7			
8			
9			
10			
11			
12			
13			
14			
15			
16			
17			
18			
19			
20			
21			
22			
23			
24			
25			
26			
27			
28			
29			
30			