

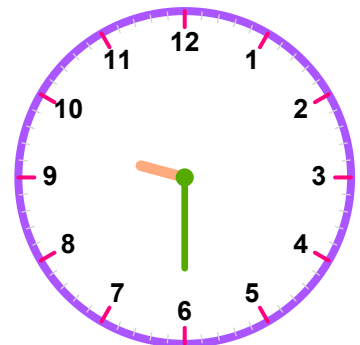
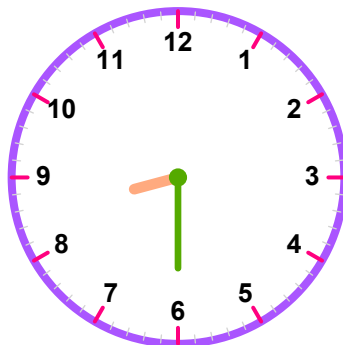
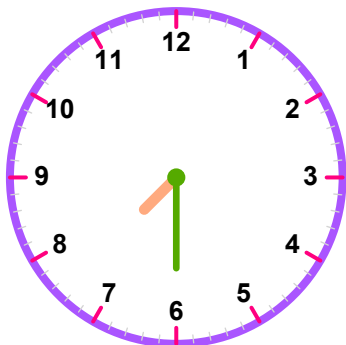
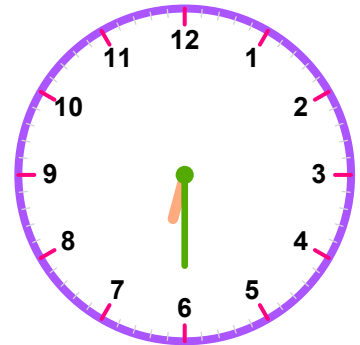
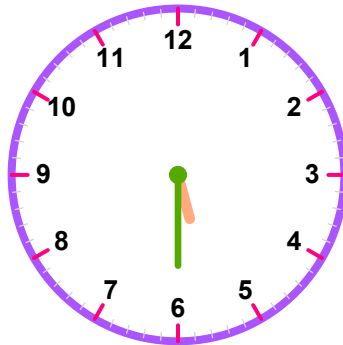
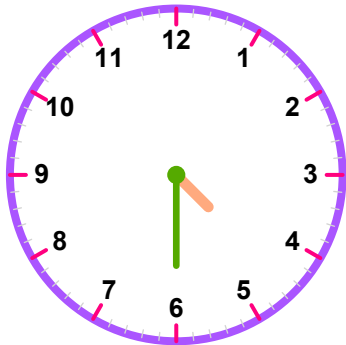
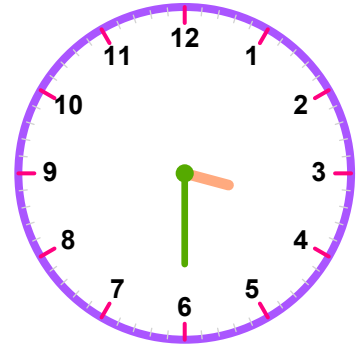
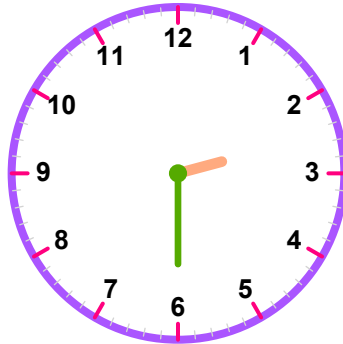
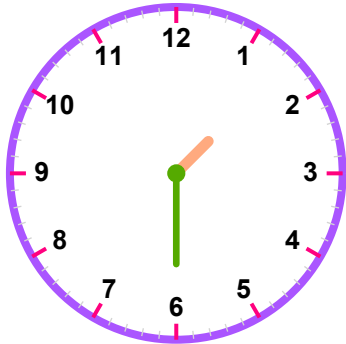
AD SOYAD: .....

SINIF / NO: ..... / .....

DERS: MATEMATİK

KONU: YARIM

**SORU:** Aşağıdaki analog saatlerin kaç gösterdiğini altlarındaki dijital saatlere yazalım.



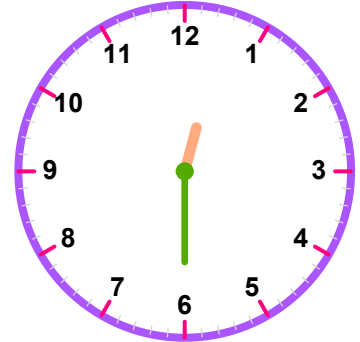
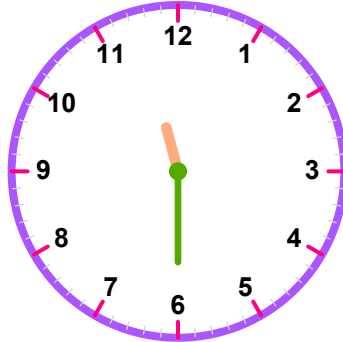
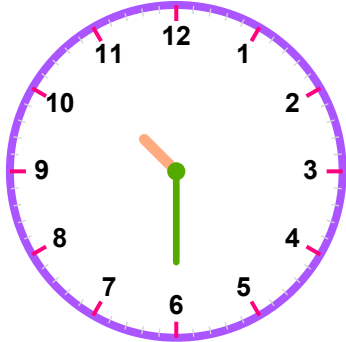
AD SOYAD: .....

SINIF / NO: ..... / .....

DERS: MATEMATİK

KONU: YARIM

**SORU:** Aşağıdaki analog saatlerin kaçı gösterdiğini altlarındaki dijital saatlere yazalım.



### SÜREÇ ODAKLI DEĞERLENDİRME ÖLÇEĞİ

[ ] 0-4 Doğru (Geliştirilmeli)

[ ] 5-8 Doğru (Yeterli)

[ ] 9-10 Doğru (İyi)

[ ] 11-12 Doğru (Çok İyi)

**Bu form Matematik dersi için "Saatler Konusu" çalışmasını değerlendirmek amacıyla hazırlanmıştır. Her doğru cevap 1 puandır.**

|    | Adı-Soyadı | Toplam Puan | Değerlendirme |
|----|------------|-------------|---------------|
| 1  |            |             |               |
| 2  |            |             |               |
| 3  |            |             |               |
| 4  |            |             |               |
| 5  |            |             |               |
| 6  |            |             |               |
| 7  |            |             |               |
| 8  |            |             |               |
| 9  |            |             |               |
| 10 |            |             |               |
| 11 |            |             |               |
| 12 |            |             |               |
| 13 |            |             |               |
| 14 |            |             |               |
| 15 |            |             |               |
| 16 |            |             |               |
| 17 |            |             |               |
| 18 |            |             |               |
| 19 |            |             |               |
| 20 |            |             |               |
| 21 |            |             |               |
| 22 |            |             |               |
| 23 |            |             |               |
| 24 |            |             |               |
| 25 |            |             |               |
| 26 |            |             |               |
| 27 |            |             |               |
| 28 |            |             |               |
| 29 |            |             |               |
| 30 |            |             |               |