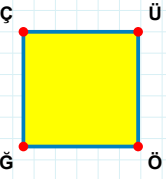
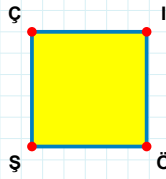


SORU: Aşağıdaki şekillerde verilen kenarlardan şekle ait olmayanı bulunuz.



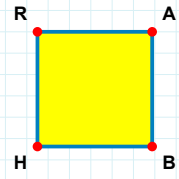
Şekle ait olmayan kenar/kenarları işaretleyelim.

- ☐ ĞÇ kenarı
☐ ÇÖ kenarı
☐ ÜĞ kenarı



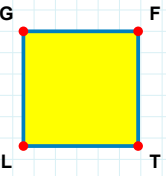
Şekle ait olmayan kenar/kenarları işaretleyelim.

- ☐ Çİ kenarı
☐ İŞ kenarı
☐ ÇÖ kenarı



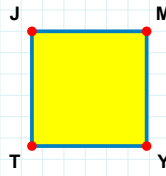
Şekle ait olmayan kenar/kenarları işaretleyelim.

- ☐ BH kenarı
☐ AB kenarı
☐ RB kenarı



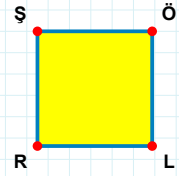
Şekle ait olmayan kenar/kenarları işaretleyelim.

- ☐ FL kenarı
☐ FT kenarı
☐ TL kenarı



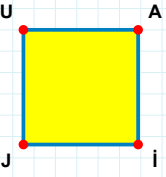
Şekle ait olmayan kenar/kenarları işaretleyelim.

- ☐ TJ kenarı
☐ MY kenarı
☐ MT kenarı



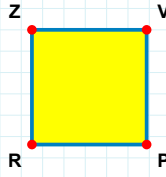
Şekle ait olmayan kenar/kenarları işaretleyelim.

- ☐ LR kenarı
☐ ÖR kenarı
☐ ŞL kenarı



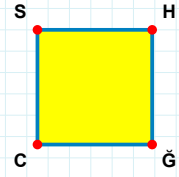
Şekle ait olmayan kenar/kenarları işaretleyelim.

- ☐ JU kenarı
☐ UI kenarı
☐ İJ kenarı



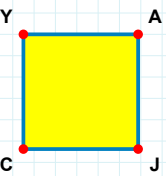
Şekle ait olmayan kenar/kenarları işaretleyelim.

- ☐ VR kenarı
☐ RZ kenarı
☐ ZP kenarı



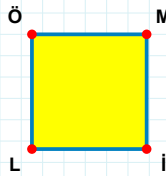
Şekle ait olmayan kenar/kenarları işaretleyelim.

- ☐ HĞ kenarı
☐ SH kenarı
☐ SĞ kenarı



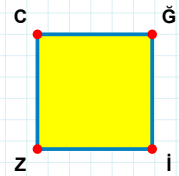
Şekle ait olmayan kenar/kenarları işaretleyelim.

- ☐ AJ kenarı
☐ CY kenarı
☐ YJ kenarı



Şekle ait olmayan kenar/kenarları işaretleyelim.

- ☐ ÖM kenarı
☐ ML kenarı
☐ Öİ kenarı



Şekle ait olmayan kenar/kenarları işaretleyelim.

- ☐ Ğİ kenarı
☐ ĞZ kenarı
☐ Cİ kenarı

SORU: Aşağıdaki şekillerde verilen kenarlardan şekle ait olmayanı bulunuz.

Şekle ait olmayan kenar/kenarları işaretleyelim.

☐ ÜK kenarı
☐ CK kenarı
☐ YÜ kenarı

Şekle ait olmayan kenar/kenarları işaretleyelim.

☐ YÜ kenarı
☐ MÜ kenarı
☐ EY kenarı

Şekle ait olmayan kenar/kenarları işaretleyelim.

☐ GE kenarı
☐ UE kenarı
☐ TG kenarı

Şekle ait olmayan kenar/kenarları işaretleyelim.

☐ LÜ kenarı
☐ EL kenarı
☐ ÜE kenarı

Şekle ait olmayan kenar/kenarları işaretleyelim.

☐ BÇ kenarı
☐ VN kenarı
☐ VÇ kenarı

Şekle ait olmayan kenar/kenarları işaretleyelim.

☐ ÖY kenarı
☐ ZÖ kenarı
☐ ZY kenarı

Şekle ait olmayan kenar/kenarları işaretleyelim.

☐ HI kenarı
☐ İU kenarı
☐ UI kenarı

Şekle ait olmayan kenar/kenarları işaretleyelim.

☐ UT kenarı
☐ UB kenarı
☐ JT kenarı

Şekle ait olmayan kenar/kenarları işaretleyelim.

☐ IB kenarı
☐ OF kenarı
☐ FI kenarı

Şekle ait olmayan kenar/kenarları işaretleyelim.

☐ İA kenarı
☐ ŞY kenarı
☐ AŞ kenarı


Şekle ait olmayan kenar/kenarları işaretleyelim.

☐ TĞ kenarı
☐ NT kenarı
☐ ĞN kenarı

Şekle ait olmayan kenar/kenarları işaretleyelim.

☐ SI kenarı
☐ ĞS kenarı
☐ RS kenarı

SORU: Aşağıdaki şekillerde verilen kenarlardan şekle ait olmayanı bulunuz.




Şekle ait olmayan kenar/kenarları işaretleyelim.

- ☐ OC kenarı
☐ CL kenarı
☐ HO kenarı




Şekle ait olmayan kenar/kenarları işaretleyelim.

- ☐ HC kenarı
☐ ÜH kenarı
☐ HÇ kenarı




Şekle ait olmayan kenar/kenarları işaretleyelim.

- ☐ UĞ kenarı
☐ JU kenarı
☐ JĞ kenarı




Şekle ait olmayan kenar/kenarları işaretleyelim.

- ☐ RD kenarı
☐ DY kenarı
☐ YR kenarı




Şekle ait olmayan kenar/kenarları işaretleyelim.

- ☐ KŞ kenarı
☐ BJ kenarı
☐ KB kenarı



Şekle ait olmayan kenar/kenarları işaretleyelim.

- ☐ HÖ kenarı
☐ RÖ kenarı
☐ YR kenarı




Şekle ait olmayan kenar/kenarları işaretleyelim.

- ☐ EH kenarı
☐ ŞE kenarı
☐ ŞA kenarı




Şekle ait olmayan kenar/kenarları işaretleyelim.

- ☐ ÜC kenarı
☐ UÜ kenarı
☐ ÜV kenarı




Şekle ait olmayan kenar/kenarları işaretleyelim.

- ☐ AZ kenarı
☐ AC kenarı
☐ ZN kenarı




Şekle ait olmayan kenar/kenarları işaretleyelim.

- ☐ PV kenarı
☐ VY kenarı
☐ AY kenarı



Şekle ait olmayan kenar/kenarları işaretleyelim.


- ☐ PL kenarı
☐ PÜ kenarı
☐ OÜ kenarı



Şekle ait olmayan kenar/kenarları işaretleyelim.


- ☐ BÖ kenarı
☐ IN kenarı
☐ ÖN kenarı

SORU: Aşağıdaki şekillerde verilen kenarlardan şekle ait olmayanı bulunuz.




Şekle ait olmayan kenar/kenarları işaretleyelim.

- ☐ ZL kenarı
☐ NZ kenarı
☐ ZH kenarı




Şekle ait olmayan kenar/kenarları işaretleyelim.

- ☐ SM kenarı
☐ MÇ kenarı
☐ SL kenarı




Şekle ait olmayan kenar/kenarları işaretleyelim.

- ☐ ÖA kenarı
☐ ÖŞ kenarı
☐ VÖ kenarı




Şekle ait olmayan kenar/kenarları işaretleyelim.

- ☐ ZC kenarı
☐ ZP kenarı
☐ ŞZ kenarı




Şekle ait olmayan kenar/kenarları işaretleyelim.

- ☐ ĞP kenarı
☐ OĞ kenarı
☐ OV kenarı




Şekle ait olmayan kenar/kenarları işaretleyelim.

- ☐ ŞV kenarı
☐ VÇ kenarı
☐ ŞS kenarı




Şekle ait olmayan kenar/kenarları işaretleyelim.

- ☐ OR kenarı
☐ RY kenarı
☐ RÖ kenarı




Şekle ait olmayan kenar/kenarları işaretleyelim.

- ☐ JF kenarı
☐ ZJ kenarı
☐ ZF kenarı




Şekle ait olmayan kenar/kenarları işaretleyelim.

- ☐ MR kenarı
☐ MJ kenarı
☐ SM kenarı



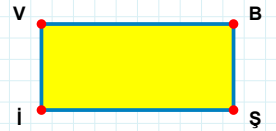
Şekle ait olmayan kenar/kenarları işaretleyelim.

- ☐ BF kenarı
☐ FH kenarı
☐ BH kenarı



Şekle ait olmayan kenar/kenarları işaretleyelim.

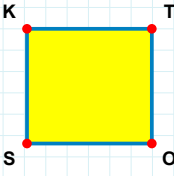
- ☐ ŞH kenarı
☐ HT kenarı
☐ TÇ kenarı



Şekle ait olmayan kenar/kenarları işaretleyelim.

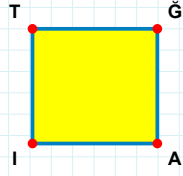
- ☐ İV kenarı
☐ Bİ kenarı
☐ VŞ kenarı

SORU: Aşağıdaki şekillerde verilen kenarlardan şekle ait olmayanı bulunuz.



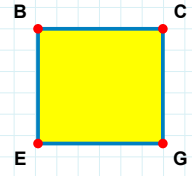
Şekle ait olmayan kenar/kenarları işaretleyelim.

- ☐ TS kenarı
☐ SK kenarı
☐ KO kenarı



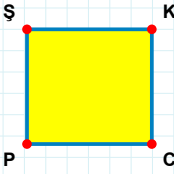
Şekle ait olmayan kenar/kenarları işaretleyelim.

- ☐ ĞA kenarı
☐ ĞI kenarı
☐ AI kenarı



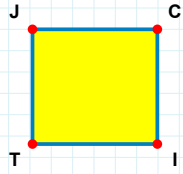
Şekle ait olmayan kenar/kenarları işaretleyelim.

- ☐ BC kenarı
☐ CE kenarı
☐ BG kenarı



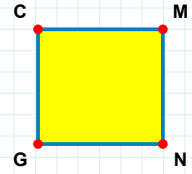
Şekle ait olmayan kenar/kenarları işaretleyelim.

- ☐ ŞK kenarı
☐ KP kenarı
☐ ŞC kenarı



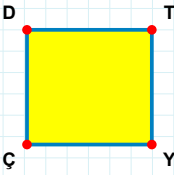
Şekle ait olmayan kenar/kenarları işaretleyelim.

- ☐ JI kenarı
☐ CT kenarı
☐ CI kenarı



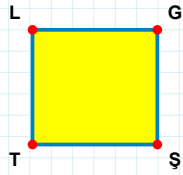
Şekle ait olmayan kenar/kenarları işaretleyelim.

- ☐ MG kenarı
☐ CN kenarı
☐ MN kenarı



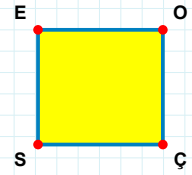
Şekle ait olmayan kenar/kenarları işaretleyelim.

- ☐ TÇ kenarı
☐ DY kenarı
☐ TY kenarı



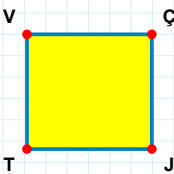
Şekle ait olmayan kenar/kenarları işaretleyelim.

- ☐ LŞ kenarı
☐ TL kenarı
☐ GŞ kenarı



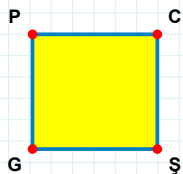
Şekle ait olmayan kenar/kenarları işaretleyelim.

- ☐ OS kenarı
☐ EO kenarı
☐ OÇ kenarı



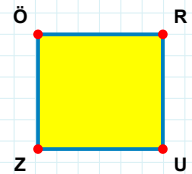
Şekle ait olmayan kenar/kenarları işaretleyelim.

- ☐ ÇJ kenarı
☐ ÇT kenarı
☐ JT kenarı



Şekle ait olmayan kenar/kenarları işaretleyelim.

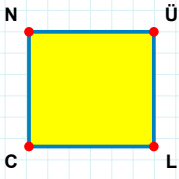
- ☐ PŞ kenarı
☐ CG kenarı
☐ ŞG kenarı



Şekle ait olmayan kenar/kenarları işaretleyelim.

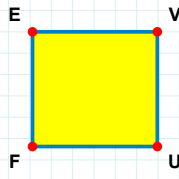
- ☐ ZÖ kenarı
☐ RZ kenarı
☐ ÖU kenarı

SORU: Aşağıdaki şekillerde verilen kenarlardan şekle ait olmayanı bulunuz.



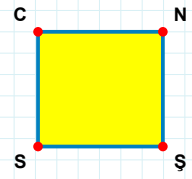
Şekle ait olmayan kenar/kenarları işaretleyelim.

- ☐ NÜ kenarı
☐ ÜL kenarı
☐ NL kenarı



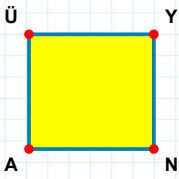
Şekle ait olmayan kenar/kenarları işaretleyelim.

- ☐ EU kenarı
☐ EV kenarı
☐ VF kenarı



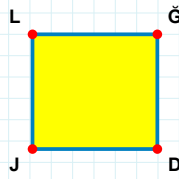
Şekle ait olmayan kenar/kenarları işaretleyelim.

- ☐ SC kenarı
☐ NS kenarı
☐ CŞ kenarı



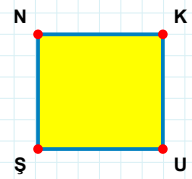
Şekle ait olmayan kenar/kenarları işaretleyelim.

- ☐ YA kenarı
☐ ÜN kenarı
☐ NA kenarı



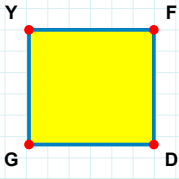
Şekle ait olmayan kenar/kenarları işaretleyelim.

- ☐ JL kenarı
☐ ĞJ kenarı
☐ LD kenarı



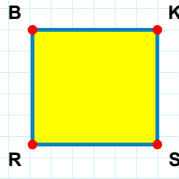
Şekle ait olmayan kenar/kenarları işaretleyelim.

- ☐ KŞ kenarı
☐ ŞN kenarı
☐ NK kenarı



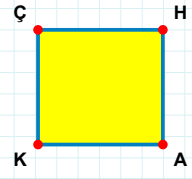
Şekle ait olmayan kenar/kenarları işaretleyelim.

- ☐ YF kenarı
☐ FG kenarı
☐ YD kenarı



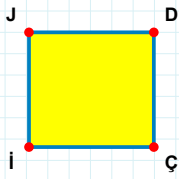
Şekle ait olmayan kenar/kenarları işaretleyelim.

- ☐ BS kenarı
☐ BK kenarı
☐ KR kenarı



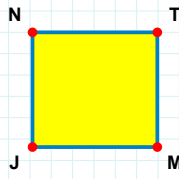
Şekle ait olmayan kenar/kenarları işaretleyelim.

- ☐ HK kenarı
☐ ÇA kenarı
☐ HA kenarı



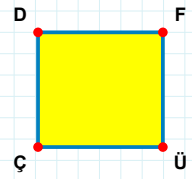
Şekle ait olmayan kenar/kenarları işaretleyelim.

- ☐ JÇ kenarı
☐ JD kenarı
☐ Çİ kenarı



Şekle ait olmayan kenar/kenarları işaretleyelim.

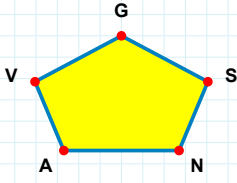
- ☐ NT kenarı
☐ TJ kenarı
☐ NM kenarı



Şekle ait olmayan kenar/kenarları işaretleyelim.

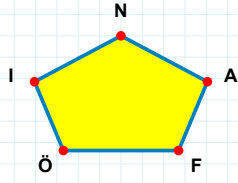
- ☐ ÇD kenarı
☐ DÜ kenarı
☐ FÇ kenarı

SORU: Aşağıdaki şekillerde verilen kenarlardan şekle ait olmayanı bulunuz.



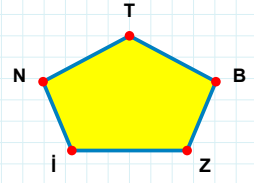
Şekle ait olmayan kenar/kenarları işaretleyelim.

- ☐ VA kenarı
☐ GN kenarı
☐ AS kenarı



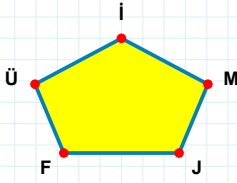
Şekle ait olmayan kenar/kenarları işaretleyelim.

- ☐ ÖA kenarı
☐ ÖF kenarı
☐ NF kenarı



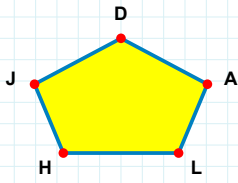
Şekle ait olmayan kenar/kenarları işaretleyelim.

- ☐ ZB kenarı
☐ Tİ kenarı
☐ NZ kenarı



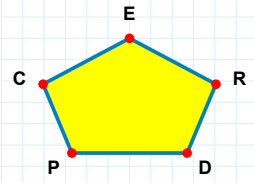
Şekle ait olmayan kenar/kenarları işaretleyelim.

- ☐ İJ kenarı
☐ İÜ kenarı
☐ İF kenarı



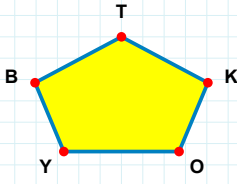
Şekle ait olmayan kenar/kenarları işaretleyelim.

- ☐ JA kenarı
☐ DJ kenarı
☐ DL kenarı



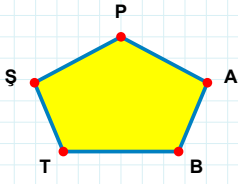
Şekle ait olmayan kenar/kenarları işaretleyelim.

- ☐ PD kenarı
☐ DR kenarı
☐ CR kenarı



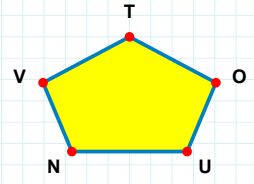
Şekle ait olmayan kenar/kenarları işaretleyelim.

- ☐ BK kenarı
☐ YK kenarı
☐ BO kenarı



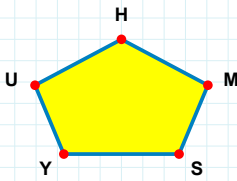
Şekle ait olmayan kenar/kenarları işaretleyelim.

- ☐ AP kenarı
☐ PT kenarı
☐ TB kenarı



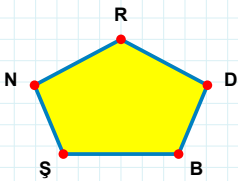
Şekle ait olmayan kenar/kenarları işaretleyelim.

- ☐ VO kenarı
☐ TV kenarı
☐ VN kenarı



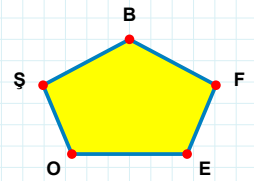
Şekle ait olmayan kenar/kenarları işaretleyelim.

- ☐ SM kenarı
☐ HU kenarı
☐ UM kenarı



Şekle ait olmayan kenar/kenarları işaretleyelim.

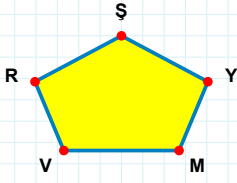
- ☐ RN kenarı
☐ ŞD kenarı
☐ NB kenarı



Şekle ait olmayan kenar/kenarları işaretleyelim.

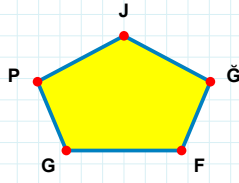
- ☐ EF kenarı
☐ FB kenarı
☐ BE kenarı

SORU: Aşağıdaki şekillerde verilen kenarlardan şekle ait olmayanı bulunuz.



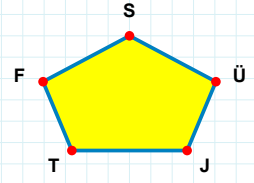
Şekle ait olmayan kenar/kenarları işaretleyelim.

- ☐ RY kenarı
☐ ŞM kenarı
☐ ŞV kenarı



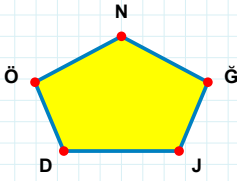
Şekle ait olmayan kenar/kenarları işaretleyelim.

- ☐ JG kenarı
☐ FĞ kenarı
☐ PĞ kenarı



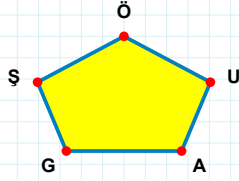
Şekle ait olmayan kenar/kenarları işaretleyelim.

- ☐ JÜ kenarı
☐ FÜ kenarı
☐ FJ kenarı



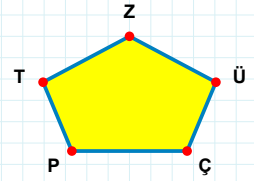
Şekle ait olmayan kenar/kenarları işaretleyelim.

- ☐ ND kenarı
☐ ÖĞ kenarı
☐ NJ kenarı



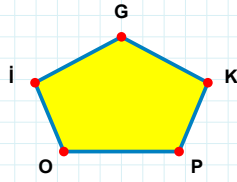
Şekle ait olmayan kenar/kenarları işaretleyelim.

- ☐ GU kenarı
☐ ŞU kenarı
☐ UÖ kenarı



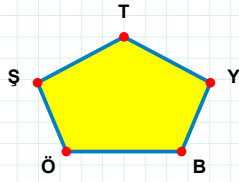
Şekle ait olmayan kenar/kenarları işaretleyelim.

- ☐ ZÇ kenarı
☐ TÇ kenarı
☐ ÇÜ kenarı



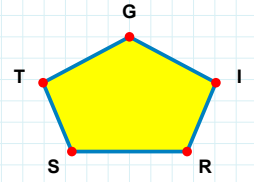
Şekle ait olmayan kenar/kenarları işaretleyelim.

- ☐ İO kenarı
☐ GO kenarı
☐ İP kenarı



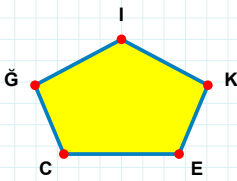
Şekle ait olmayan kenar/kenarları işaretleyelim.

- ☐ YT kenarı
☐ TB kenarı
☐ ŞY kenarı



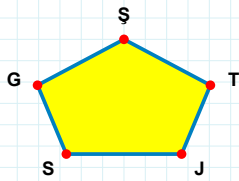
Şekle ait olmayan kenar/kenarları işaretleyelim.

- ☐ TI kenarı
☐ GT kenarı
☐ SI kenarı



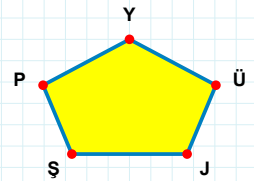
Şekle ait olmayan kenar/kenarları işaretleyelim.

- ☐ ĞE kenarı
☐ İĞ kenarı
☐ ĞC kenarı



Şekle ait olmayan kenar/kenarları işaretleyelim.

- ☐ GJ kenarı
☐ ŞG kenarı
☐ TŞ kenarı



Şekle ait olmayan kenar/kenarları işaretleyelim.

- ☐ ŞJ kenarı
☐ JÜ kenarı
☐ ŞÜ kenarı

SORU: Aşağıdaki şekillerde verilen kenarlardan şekle ait olmayanı bulunuz.

Şekle ait olmayan kenar/kenarları işaretleyelim.

☐ EH kenarı

☐ LE kenarı

☐ GH kenarı

Şekle ait olmayan kenar/kenarları işaretleyelim.

☐ JÜ kenarı

☐ ŞT kenarı

☐ ŞJ kenarı

Şekle ait olmayan kenar/kenarları işaretleyelim.

☐ IV kenarı

☐ HI kenarı

☐ IÇ kenarı

Şekle ait olmayan kenar/kenarları işaretleyelim.

☐ CT kenarı

☐ KS kenarı

☐ SF kenarı

Şekle ait olmayan kenar/kenarları işaretleyelim.

☐ ĞV kenarı

☐ YK kenarı

☐ YĞ kenarı

Şekle ait olmayan kenar/kenarları işaretleyelim.

☐ ĞF kenarı

☐ DĞ kenarı

☐ FD kenarı

Şekle ait olmayan kenar/kenarları işaretleyelim.

☐ FZ kenarı

☐ NA kenarı

☐ FA kenarı

Şekle ait olmayan kenar/kenarları işaretleyelim.

☐ İU kenarı

☐ ZP kenarı

☐ ĞU kenarı

Şekle ait olmayan kenar/kenarları işaretleyelim.

☐ SZ kenarı

☐ NZ kenarı

☐ SÇ kenarı

Şekle ait olmayan kenar/kenarları işaretleyelim.

☐ ZL kenarı

☐ LV kenarı

☐ ÜC kenarı

Şekle ait olmayan kenar/kenarları işaretleyelim.

☐ TC kenarı

☐ İR kenarı

☐ İF kenarı

Şekle ait olmayan kenar/kenarları işaretleyelim.

☐ NO kenarı

☐ ŞN kenarı

☐ ÖN kenarı

SORU: Aşağıdaki şekillerde verilen kenarlardan şekle ait olmayanı bulunuz.

Şekle ait olmayan kenar/kenarları işaretleyelim.

☐ RT kenarı

☐ Nİ kenarı

☐ RE kenarı

Şekle ait olmayan kenar/kenarları işaretleyelim.

☐ DI kenarı

☐ IS kenarı

☐ DS kenarı

Şekle ait olmayan kenar/kenarları işaretleyelim.

☐ DF kenarı

☐ DI kenarı

☐ IF kenarı

Şekle ait olmayan kenar/kenarları işaretleyelim.

☐ DA kenarı

☐ UÜ kenarı

☐ HÜ kenarı

Şekle ait olmayan kenar/kenarları işaretleyelim.

☐ LB kenarı

☐ ÇV kenarı

☐ LZ kenarı

Şekle ait olmayan kenar/kenarları işaretleyelim.

☐ TH kenarı

☐ TI kenarı

☐ YT kenarı

Şekle ait olmayan kenar/kenarları işaretleyelim.

☐ ES kenarı

☐ EÖ kenarı

☐ LS kenarı

Şekle ait olmayan kenar/kenarları işaretleyelim.

☐ GD kenarı

☐ DÖ kenarı

☐ ÖG kenarı

Şekle ait olmayan kenar/kenarları işaretleyelim.

☐ Öİ kenarı

☐ İP kenarı

☐ YF kenarı

Şekle ait olmayan kenar/kenarları işaretleyelim.

☐ SH kenarı

☐ ÜT kenarı

☐ LS kenarı

Şekle ait olmayan kenar/kenarları işaretleyelim.

☐ İJ kenarı

☐ JV kenarı

☐ OJ kenarı

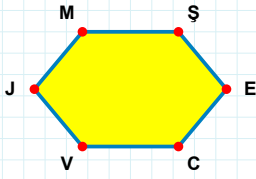
Şekle ait olmayan kenar/kenarları işaretleyelim.

☐ ÇD kenarı

☐ PÇ kenarı

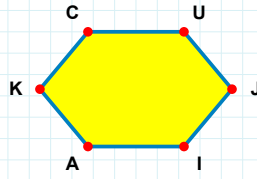
☐ BÇ kenarı

SORU: Aşağıdaki şekillerde verilen kenarlardan şekle ait olmayanı bulunuz.



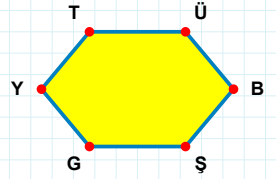
Şekle ait olmayan kenar/kenarları işaretleyelim.

- ☐ ME kenarı
☐ CJ kenarı
☐ EV kenarı



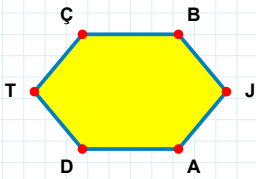
Şekle ait olmayan kenar/kenarları işaretleyelim.

- ☐ UJ kenarı
☐ KC kenarı
☐ UA kenarı



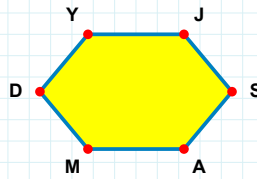
Şekle ait olmayan kenar/kenarları işaretleyelim.

- ☐ ÜŞ kenarı
☐ ÜG kenarı
☐ TB kenarı



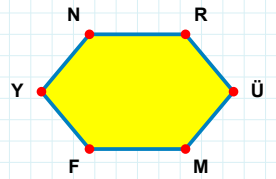
Şekle ait olmayan kenar/kenarları işaretleyelim.

- ☐ ÇA kenarı
☐ BJ kenarı
☐ BT kenarı



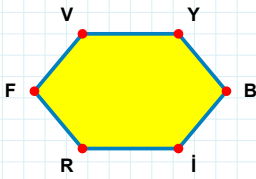
Şekle ait olmayan kenar/kenarları işaretleyelim.

- ☐ YM kenarı
☐ SD kenarı
☐ JD kenarı



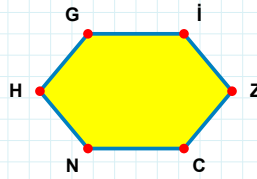
Şekle ait olmayan kenar/kenarları işaretleyelim.

- ☐ NR kenarı
☐ RY kenarı
☐ MF kenarı



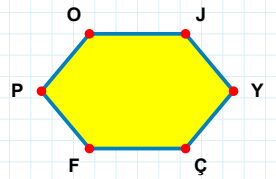
Şekle ait olmayan kenar/kenarları işaretleyelim.

- ☐ YF kenarı
☐ VB kenarı
☐ İR kenarı



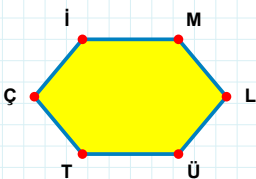
Şekle ait olmayan kenar/kenarları işaretleyelim.

- ☐ GN kenarı
☐ NH kenarı
☐ CN kenarı



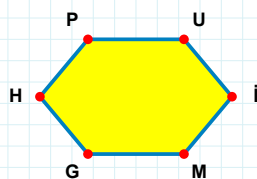
Şekle ait olmayan kenar/kenarları işaretleyelim.

- ☐ JP kenarı
☐ JÇ kenarı
☐ OY kenarı



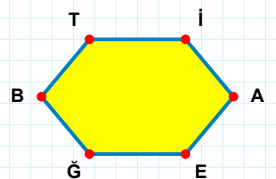
Şekle ait olmayan kenar/kenarları işaretleyelim.

- ☐ İL kenarı
☐ Çİ kenarı
☐ ÜT kenarı



Şekle ait olmayan kenar/kenarları işaretleyelim.

- ☐ PM kenarı
☐ İM kenarı
☐ GH kenarı



Şekle ait olmayan kenar/kenarları işaretleyelim.

- ☐ GB kenarı
☐ AB kenarı
☐ AE kenarı

SORU: Aşağıdaki şekillerde verilen kenarlardan şekle ait olmayanı bulunuz.

Şekle ait olmayan kenar/kenarları işaretleyelim.

☐ FO kenarı

☐ İZ kenarı

☐ FP kenarı

Şekle ait olmayan kenar/kenarları işaretleyelim.

☐ KF kenarı

☐ FĞ kenarı

☐ GR kenarı

Şekle ait olmayan kenar/kenarları işaretleyelim.

☐ UŞ kenarı

☐ DU kenarı

☐ ÜF kenarı

Şekle ait olmayan kenar/kenarları işaretleyelim.

☐ JN kenarı

☐ NC kenarı

☐ CI kenarı

Şekle ait olmayan kenar/kenarları işaretleyelim.

☐ BM kenarı

☐ UL kenarı

☐ UM kenarı

Şekle ait olmayan kenar/kenarları işaretleyelim.

☐ YA kenarı

☐ EY kenarı

☐ JA kenarı

Şekle ait olmayan kenar/kenarları işaretleyelim.

☐ IĞ kenarı

☐ OS kenarı

☐ ÇI kenarı

Şekle ait olmayan kenar/kenarları işaretleyelim.

☐ LĞ kenarı

☐ PÖ kenarı

☐ PL kenarı

Şekle ait olmayan kenar/kenarları işaretleyelim.

☐ CK kenarı

☐ ÖK kenarı

☐ KT kenarı

Şekle ait olmayan kenar/kenarları işaretleyelim.

☐ FA kenarı

☐ FI kenarı

☐ ÖF kenarı

Şekle ait olmayan kenar/kenarları işaretleyelim.

☐ HE kenarı

☐ ÇM kenarı

☐ ÇD kenarı

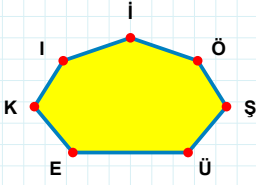
Şekle ait olmayan kenar/kenarları işaretleyelim.

☐ ÖŞ kenarı

☐ EŞ kenarı

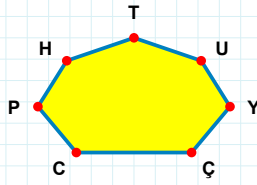
☐ JU kenarı

SORU: Aşağıdaki şekillerde verilen kenarlardan şekle ait olmayanı bulunuz.



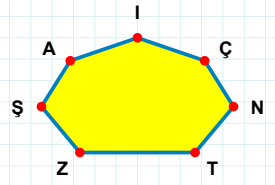
Şekle ait olmayan kenar/kenarları işaretleyelim.

- ☐ KŞ kenarı
☐ İŞ kenarı
☐ EÖ kenarı



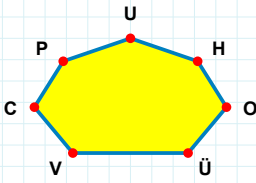
Şekle ait olmayan kenar/kenarları işaretleyelim.

- ☐ TÇ kenarı
☐ TY kenarı
☐ CY kenarı



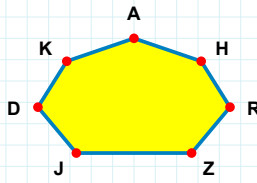
Şekle ait olmayan kenar/kenarları işaretleyelim.

- ☐ ŞN kenarı
☐ AŞ kenarı
☐ NÇ kenarı



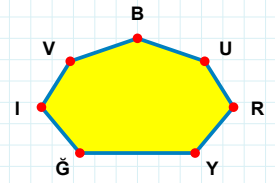
Şekle ait olmayan kenar/kenarları işaretleyelim.

- ☐ CV kenarı
☐ CH kenarı
☐ ÜH kenarı



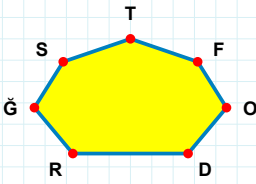
Şekle ait olmayan kenar/kenarları işaretleyelim.

- ☐ KJ kenarı
☐ ZH kenarı
☐ KZ kenarı



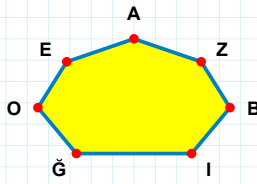
Şekle ait olmayan kenar/kenarları işaretleyelim.

- ☐ BV kenarı
☐ IĞ kenarı
☐ IY kenarı



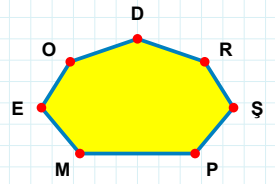
Şekle ait olmayan kenar/kenarları işaretleyelim.

- ☐ TR kenarı
☐ ĞO kenarı
☐ SO kenarı



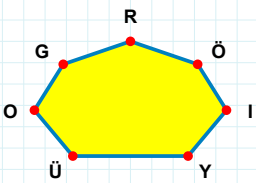
Şekle ait olmayan kenar/kenarları işaretleyelim.

- ☐ EZ kenarı
☐ EI kenarı
☐ OZ kenarı



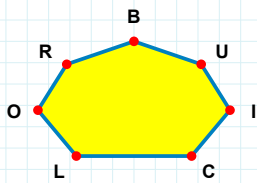
Şekle ait olmayan kenar/kenarları işaretleyelim.

- ☐ EŞ kenarı
☐ RD kenarı
☐ PŞ kenarı



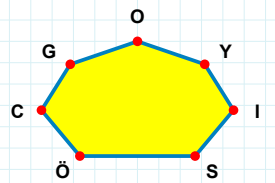
Şekle ait olmayan kenar/kenarları işaretleyelim.

- ☐ YI kenarı
☐ RI kenarı
☐ OÖ kenarı



Şekle ait olmayan kenar/kenarları işaretleyelim.

- ☐ OI kenarı
☐ UB kenarı
☐ BR kenarı



Şekle ait olmayan kenar/kenarları işaretleyelim.

- ☐ GÖ kenarı
☐ ÖY kenarı
☐ IY kenarı

SORU: Aşağıdaki şekillerde verilen kenarlardan şekle ait olmayanı bulunuz.

Şekle ait olmayan kenar/kenarları işaretleyelim.

- ☐ ĞF kenarı
- ☐ Sİ kenarı
- ☐ ÜF kenarı

Şekle ait olmayan kenar/kenarları işaretleyelim.

- ☐ YU kenarı
- ☐ ÜD kenarı
- ☐ YN kenarı

Şekle ait olmayan kenar/kenarları işaretleyelim.

- ☐ SK kenarı
- ☐ SU kenarı
- ☐ BS kenarı

Şekle ait olmayan kenar/kenarları işaretleyelim.

- ☐ ZO kenarı
- ☐ GF kenarı
- ☐ GO kenarı

Şekle ait olmayan kenar/kenarları işaretleyelim.

- ☐ ĞB kenarı
- ☐ OB kenarı
- ☐ PF kenarı

Şekle ait olmayan kenar/kenarları işaretleyelim.

- ☐ İR kenarı
- ☐ CU kenarı
- ☐ IU kenarı

Şekle ait olmayan kenar/kenarları işaretleyelim.

- ☐ SH kenarı
- ☐ CS kenarı
- ☐ KH kenarı

Şekle ait olmayan kenar/kenarları işaretleyelim.

- ☐ JM kenarı
- ☐ DM kenarı
- ☐ DZ kenarı

Şekle ait olmayan kenar/kenarları işaretleyelim.

- ☐ NA kenarı
- ☐ NE kenarı
- ☐ KS kenarı

Şekle ait olmayan kenar/kenarları işaretleyelim.

- ☐ RĞ kenarı
- ☐ ÜH kenarı
- ☐ RH kenarı

Şekle ait olmayan kenar/kenarları işaretleyelim.

- ☐ ÇP kenarı
- ☐ VP kenarı
- ☐ AL kenarı

Şekle ait olmayan kenar/kenarları işaretleyelim.

- ☐ VU kenarı
- ☐ HM kenarı
- ☐ UÜ kenarı

SORU: Aşağıdaki şekillerde verilen kenarlardan şekle ait olmayanı bulunuz.

Şekle ait olmayan kenar/kenarları işaretleyelim.

☐ RV kenarı

☐ VS kenarı

☐ ĞR kenarı

Şekle ait olmayan kenar/kenarları işaretleyelim.

☐ RK kenarı

☐ ÖR kenarı

☐ KÇ kenarı

Şekle ait olmayan kenar/kenarları işaretleyelim.

☐ DI kenarı

☐ ÖI kenarı

☐ PI kenarı

Şekle ait olmayan kenar/kenarları işaretleyelim.

☐ IM kenarı

☐ İZ kenarı

☐ İI kenarı

Şekle ait olmayan kenar/kenarları işaretleyelim.

☐ ÇJ kenarı

☐ ZI kenarı

☐ AZ kenarı

Şekle ait olmayan kenar/kenarları işaretleyelim.

☐ ÜZ kenarı

☐ RH kenarı

☐ ZG kenarı

Şekle ait olmayan kenar/kenarları işaretleyelim.

☐ İV kenarı

☐ VK kenarı

☐ İN kenarı

Şekle ait olmayan kenar/kenarları işaretleyelim.

☐ GV kenarı

☐ RP kenarı

☐ GN kenarı

Şekle ait olmayan kenar/kenarları işaretleyelim.

☐ İG kenarı

☐ İZ kenarı

☐ İN kenarı

Şekle ait olmayan kenar/kenarları işaretleyelim.

☐ UE kenarı

☐ ÖR kenarı

☐ CR kenarı

Şekle ait olmayan kenar/kenarları işaretleyelim.

☐ LP kenarı

☐ RV kenarı

☐ SP kenarı

Şekle ait olmayan kenar/kenarları işaretleyelim.

☐ VG kenarı

☐ VZ kenarı

☐ YR kenarı

SORU: Aşağıdaki şekillerde verilen kenarlardan şekle ait olmayanı bulunuz.

Şekle ait olmayan kenar/kenarları işaretleyelim.

☐ ÜT kenarı
☐ ÇK kenarı
☐ TP kenarı

Şekle ait olmayan kenar/kenarları işaretleyelim.

☐ NB kenarı
☐ JŞ kenarı
☐ JG kenarı

Şekle ait olmayan kenar/kenarları işaretleyelim.

☐ NU kenarı
☐ ÖP kenarı
☐ ÜU kenarı

Şekle ait olmayan kenar/kenarları işaretleyelim.

☐ ZT kenarı
☐ ŞG kenarı
☐ ZĞ kenarı

Şekle ait olmayan kenar/kenarları işaretleyelim.

☐ BV kenarı
☐ JE kenarı
☐ JB kenarı

Şekle ait olmayan kenar/kenarları işaretleyelim.

☐ YT kenarı
☐ ŞZ kenarı
☐ CI kenarı

Şekle ait olmayan kenar/kenarları işaretleyelim.

☐ Şİ kenarı
☐ FŞ kenarı
☐ FD kenarı

Şekle ait olmayan kenar/kenarları işaretleyelim.

☐ ÇÜ kenarı
☐ ÇU kenarı
☐ ZL kenarı

Şekle ait olmayan kenar/kenarları işaretleyelim.

☐ OZ kenarı
☐ OÇ kenarı
☐ OÖ kenarı

Şekle ait olmayan kenar/kenarları işaretleyelim.

☐ TF kenarı
☐ ĞH kenarı
☐ EĞ kenarı

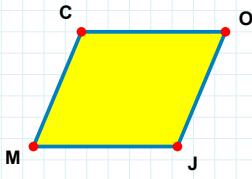
Şekle ait olmayan kenar/kenarları işaretleyelim.

☐ RB kenarı
☐ BJ kenarı
☐ GÜ kenarı

Şekle ait olmayan kenar/kenarları işaretleyelim.

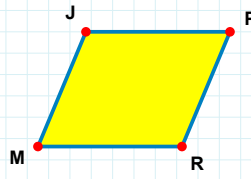
☐ VY kenarı
☐ TA kenarı
☐ VT kenarı

SORU: Aşağıdaki şekillerde verilen kenarlardan şekle ait olmayanı bulunuz.



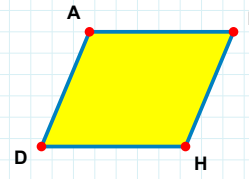
Şekle ait olmayan kenar/kenarları işaretleyelim.

- ☐ CO kenarı
☐ CJ kenarı
☐ OM kenarı



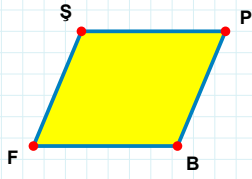
Şekle ait olmayan kenar/kenarları işaretleyelim.

- ☐ PR kenarı
☐ PM kenarı
☐ JP kenarı



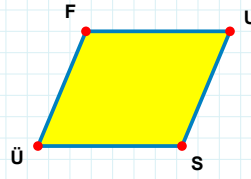
Şekle ait olmayan kenar/kenarları işaretleyelim.

- ☐ AE kenarı
☐ AH kenarı
☐ DA kenarı



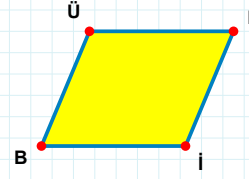
Şekle ait olmayan kenar/kenarları işaretleyelim.

- ☐ BF kenarı
☐ PF kenarı
☐ ŞB kenarı



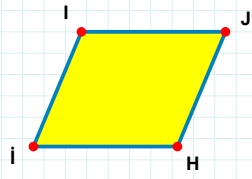
Şekle ait olmayan kenar/kenarları işaretleyelim.

- ☐ FS kenarı
☐ FU kenarı
☐ UÜ kenarı



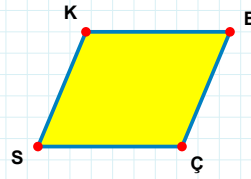
Şekle ait olmayan kenar/kenarları işaretleyelim.

- ☐ BÜ kenarı
☐ Üi kenarı
☐ İB kenarı



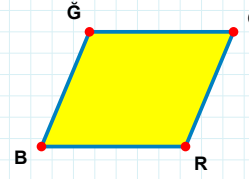
Şekle ait olmayan kenar/kenarları işaretleyelim.

- ☐ JH kenarı
☐ Jİ kenarı
☐ Hİ kenarı



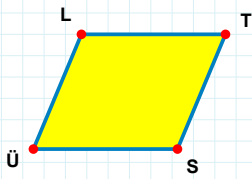
Şekle ait olmayan kenar/kenarları işaretleyelim.

- ☐ KÇ kenarı
☐ BS kenarı
☐ SK kenarı



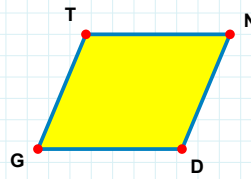
Şekle ait olmayan kenar/kenarları işaretleyelim.

- ☐ RB kenarı
☐ ÇB kenarı
☐ ÇR kenarı



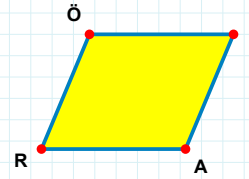
Şekle ait olmayan kenar/kenarları işaretleyelim.

- ☐ LS kenarı
☐ ÜL kenarı
☐ TÜ kenarı



Şekle ait olmayan kenar/kenarları işaretleyelim.

- ☐ GT kenarı
☐ ND kenarı
☐ NG kenarı



Şekle ait olmayan kenar/kenarları işaretleyelim.

- ☐ İR kenarı
☐ AR kenarı
☐ ÖA kenarı

SORU: Aşağıdaki şekillerde verilen kenarlardan şekle ait olmayanı bulunuz.

Şekle ait olmayan kenar/kenarları işaretleyelim.

☐ ER kenarı

☐ ŞR kenarı

☐ TŞ kenarı

Şekle ait olmayan kenar/kenarları işaretleyelim.

☐ LF kenarı

☐ LU kenarı

☐ YF kenarı

Şekle ait olmayan kenar/kenarları işaretleyelim.

☐ ÇŞ kenarı

☐ DŞ kenarı

☐ DU kenarı

Şekle ait olmayan kenar/kenarları işaretleyelim.

☐ LH kenarı

☐ ÇG kenarı

☐ LG kenarı

Şekle ait olmayan kenar/kenarları işaretleyelim.

☐ BK kenarı

☐ AÖ kenarı

☐ AB kenarı

Şekle ait olmayan kenar/kenarları işaretleyelim.

☐ EĞ kenarı

☐ IZ kenarı

☐ ZĞ kenarı

Şekle ait olmayan kenar/kenarları işaretleyelim.

☐ VU kenarı

☐ VM kenarı

☐ UO kenarı

Şekle ait olmayan kenar/kenarları işaretleyelim.

☐ NÜ kenarı

☐ CÜ kenarı

☐ GC kenarı

Şekle ait olmayan kenar/kenarları işaretleyelim.

☐ CN kenarı

☐ MN kenarı

☐ MD kenarı

Şekle ait olmayan kenar/kenarları işaretleyelim.

☐ KI kenarı

☐ IH kenarı

☐ ÇK kenarı

Şekle ait olmayan kenar/kenarları işaretleyelim.

☐ ÜF kenarı

☐ ID kenarı

☐ ÜI kenarı

Şekle ait olmayan kenar/kenarları işaretleyelim.

☐ EF kenarı

☐ OC kenarı

☐ OE kenarı

SORU: Aşağıdaki şekillerde verilen kenarlardan şekle ait olmayanı bulunuz.

Şekle ait olmayan kenar/kenarları işaretleyelim.

- ☐ NÖ kenarı
- ☐ DN kenarı
- ☐ KN kenarı

Şekle ait olmayan kenar/kenarları işaretleyelim.

- ☐ SÜ kenarı
- ☐ ES kenarı
- ☐ ÜT kenarı

Şekle ait olmayan kenar/kenarları işaretleyelim.

- ☐ RF kenarı
- ☐ IF kenarı
- ☐ PR kenarı

Şekle ait olmayan kenar/kenarları işaretleyelim.

- ☐ İO kenarı
- ☐ CI kenarı
- ☐ OA kenarı

Şekle ait olmayan kenar/kenarları işaretleyelim.

- ☐ JP kenarı
- ☐ PS kenarı
- ☐ HJ kenarı

Şekle ait olmayan kenar/kenarları işaretleyelim.

- ☐ HZ kenarı
- ☐ UZ kenarı
- ☐ UÇ kenarı

Şekle ait olmayan kenar/kenarları işaretleyelim.

- ☐ AU kenarı
- ☐ DÇ kenarı
- ☐ DA kenarı

Şekle ait olmayan kenar/kenarları işaretleyelim.

- ☐ HN kenarı
- ☐ NS kenarı
- ☐ SH kenarı

Şekle ait olmayan kenar/kenarları işaretleyelim.

- ☐ AS kenarı
- ☐ SR kenarı
- ☐ ĞR kenarı

Şekle ait olmayan kenar/kenarları işaretleyelim.

- ☐ İK kenarı
- ☐ İÖ kenarı
- ☐ İK kenarı

Şekle ait olmayan kenar/kenarları işaretleyelim.

- ☐ VG kenarı
- ☐ BM kenarı
- ☐ MV kenarı

Şekle ait olmayan kenar/kenarları işaretleyelim.

- ☐ ZO kenarı
- ☐ NO kenarı
- ☐ NR kenarı

SORU: Aşağıdaki şekillerde verilen kenarlardan şekle ait olmayanı bulunuz.

Şekle ait olmayan kenar/kenarları işaretleyelim.

- ☐ JN kenarı
- ☐ JU kenarı
- ☐ UB kenarı

Şekle ait olmayan kenar/kenarları işaretleyelim.

- ☐ İİ kenarı
- ☐ İA kenarı
- ☐ İY kenarı

Şekle ait olmayan kenar/kenarları işaretleyelim.

- ☐ AD kenarı
- ☐ LA kenarı
- ☐ AU kenarı

Şekle ait olmayan kenar/kenarları işaretleyelim.

- ☐ CH kenarı
- ☐ TC kenarı
- ☐ TO kenarı

Şekle ait olmayan kenar/kenarları işaretleyelim.

- ☐ ÜŞ kenarı
- ☐ GD kenarı
- ☐ ÜG kenarı

Şekle ait olmayan kenar/kenarları işaretleyelim.

- ☐ AL kenarı
- ☐ LJ kenarı
- ☐ JA kenarı

Şekle ait olmayan kenar/kenarları işaretleyelim.

- ☐ İV kenarı
- ☐ VŞ kenarı
- ☐ NV kenarı

Şekle ait olmayan kenar/kenarları işaretleyelim.

- ☐ SZ kenarı
- ☐ SI kenarı
- ☐ İZ kenarı

Şekle ait olmayan kenar/kenarları işaretleyelim.

- ☐ NK kenarı
- ☐ TN kenarı
- ☐ NI kenarı

Şekle ait olmayan kenar/kenarları işaretleyelim.

- ☐ ÇN kenarı
- ☐ FN kenarı
- ☐ NV kenarı

Şekle ait olmayan kenar/kenarları işaretleyelim.

- ☐ ĞB kenarı
- ☐ TB kenarı
- ☐ OĞ kenarı

Şekle ait olmayan kenar/kenarları işaretleyelim.

- ☐ ÇC kenarı
- ☐ CV kenarı
- ☐ RC kenarı

SORU: Aşağıdaki şekillerde verilen kenarlardan şekle ait olmayanı bulunuz.

Şekle ait olmayan kenar/kenarları işaretleyelim.

☐ ĞÜ kenarı

☐ ŞÜ kenarı

☐ JŞ kenarı

Şekle ait olmayan kenar/kenarları işaretleyelim.

☐ JO kenarı

☐ GF kenarı

☐ JF kenarı

Şekle ait olmayan kenar/kenarları işaretleyelim.

☐ JÖ kenarı

☐ ÖD kenarı

☐ JŞ kenarı

Şekle ait olmayan kenar/kenarları işaretleyelim.

☐ FJ kenarı

☐ JU kenarı

☐ FĞ kenarı

Şekle ait olmayan kenar/kenarları işaretleyelim.

☐ IJ kenarı

☐ JV kenarı

☐ IP kenarı

Şekle ait olmayan kenar/kenarları işaretleyelim.

☐ BÇ kenarı

☐ BH kenarı

☐ HÖ kenarı

Şekle ait olmayan kenar/kenarları işaretleyelim.

☐ AI kenarı

☐ VR kenarı

☐ VI kenarı

Şekle ait olmayan kenar/kenarları işaretleyelim.

☐ JI kenarı

☐ JE kenarı

☐ IC kenarı

Şekle ait olmayan kenar/kenarları işaretleyelim.

☐ ĞE kenarı

☐ ÜĞ kenarı

☐ ZĞ kenarı

Şekle ait olmayan kenar/kenarları işaretleyelim.

☐ YR kenarı

☐ RI kenarı

☐ SI kenarı

Şekle ait olmayan kenar/kenarları işaretleyelim.

☐ RB kenarı

☐ RA kenarı

☐ BV kenarı

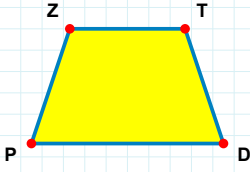
Şekle ait olmayan kenar/kenarları işaretleyelim.

☐ FL kenarı

☐ FJ kenarı

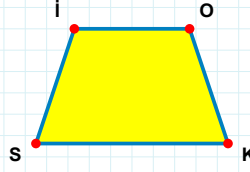
☐ JL kenarı

SORU: Aşağıdaki şekillerde verilen kenarlardan şekle ait olmayanı bulunuz.



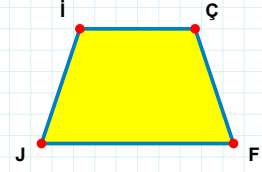
Şekle ait olmayan kenar/kenarları işaretleyelim.

- ☐ TP kenarı
☐ ZD kenarı
☐ ZT kenarı



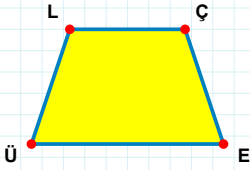
Şekle ait olmayan kenar/kenarları işaretleyelim.

- ☐ SI kenarı
☐ OS kenarı
☐ İK kenarı



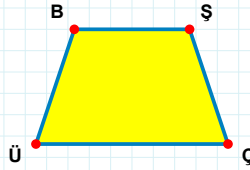
Şekle ait olmayan kenar/kenarları işaretleyelim.

- ☐ ÇJ kenarı
☐ İF kenarı
☐ JI kenarı



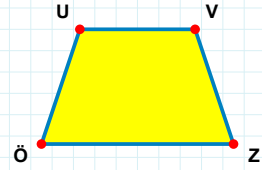
Şekle ait olmayan kenar/kenarları işaretleyelim.

- ☐ LÇ kenarı
☐ ÜL kenarı
☐ ÇÜ kenarı



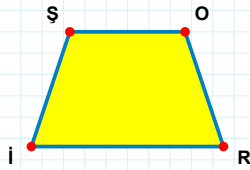
Şekle ait olmayan kenar/kenarları işaretleyelim.

- ☐ BŞ kenarı
☐ ÜB kenarı
☐ BÇ kenarı



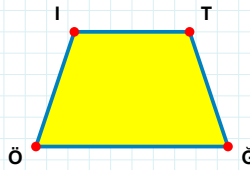
Şekle ait olmayan kenar/kenarları işaretleyelim.

- ☐ UZ kenarı
☐ ÖU kenarı
☐ VÖ kenarı



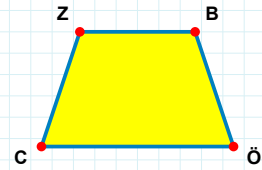
Şekle ait olmayan kenar/kenarları işaretleyelim.

- ☐ Oİ kenarı
☐ ŞR kenarı
☐ Rİ kenarı



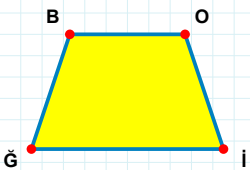
Şekle ait olmayan kenar/kenarları işaretleyelim.

- ☐ İT kenarı
☐ TĞ kenarı
☐ İĞ kenarı



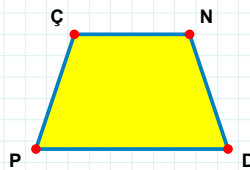
Şekle ait olmayan kenar/kenarları işaretleyelim.

- ☐ ZÖ kenarı
☐ BC kenarı
☐ ÖC kenarı



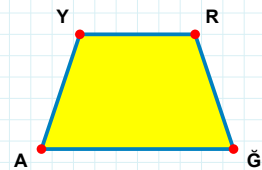
Şekle ait olmayan kenar/kenarları işaretleyelim.

- ☐ Bİ kenarı
☐ BO kenarı
☐ Oİ kenarı



Şekle ait olmayan kenar/kenarları işaretleyelim.

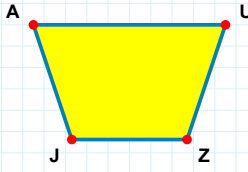
- ☐ ND kenarı
☐ ÇD kenarı
☐ NP kenarı



Şekle ait olmayan kenar/kenarları işaretleyelim.

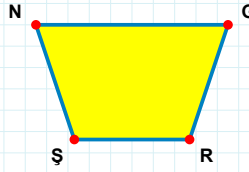
- ☐ YĞ kenarı
☐ RĞ kenarı
☐ YR kenarı

SORU: Aşağıdaki şekillerde verilen kenarlardan şekle ait olmayanı bulunuz.



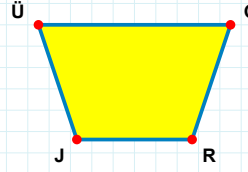
Şekle ait olmayan kenar/kenarları işaretleyelim.

- ☐ ZJ kenarı
☐ AZ kenarı
☐ UJ kenarı



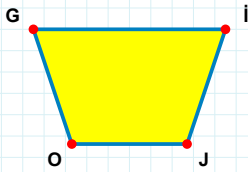
Şekle ait olmayan kenar/kenarları işaretleyelim.

- ☐ GR kenarı
☐ GŞ kenarı
☐ NR kenarı



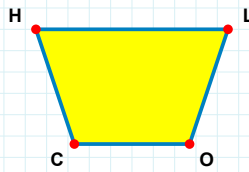
Şekle ait olmayan kenar/kenarları işaretleyelim.

- ☐ ÜR kenarı
☐ ĞR kenarı
☐ RJ kenarı



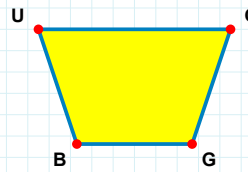
Şekle ait olmayan kenar/kenarları işaretleyelim.

- ☐ İO kenarı
☐ GI kenarı
☐ GJ kenarı



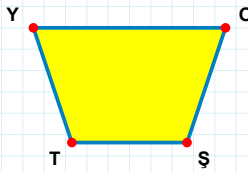
Şekle ait olmayan kenar/kenarları işaretleyelim.

- ☐ HL kenarı
☐ HO kenarı
☐ LC kenarı



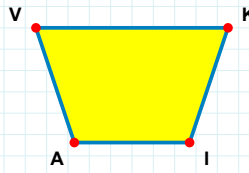
Şekle ait olmayan kenar/kenarları işaretleyelim.

- ☐ CG kenarı
☐ BU kenarı
☐ CB kenarı



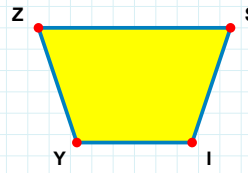
Şekle ait olmayan kenar/kenarları işaretleyelim.

- ☐ TY kenarı
☐ ŞT kenarı
☐ YŞ kenarı



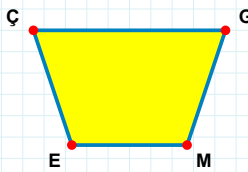
Şekle ait olmayan kenar/kenarları işaretleyelim.

- ☐ VI kenarı
☐ KA kenarı
☐ İA kenarı



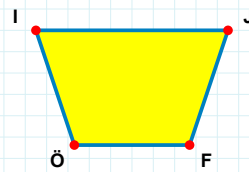
Şekle ait olmayan kenar/kenarları işaretleyelim.

- ☐ İY kenarı
☐ ŞY kenarı
☐ Şİ kenarı



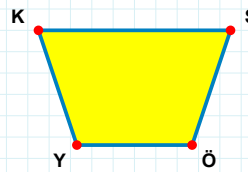
Şekle ait olmayan kenar/kenarları işaretleyelim.

- ☐ ME kenarı
☐ ÇM kenarı
☐ GE kenarı



Şekle ait olmayan kenar/kenarları işaretleyelim.

- ☐ Öİ kenarı
☐ İF kenarı
☐ JÖ kenarı



Şekle ait olmayan kenar/kenarları işaretleyelim.

- ☐ KÖ kenarı
☐ KŞ kenarı
☐ ŞY kenarı

SORU: Aşağıdaki şekillerde verilen kenarlardan şekle ait olmayanı bulunuz.

Şekle ait olmayan kenar/kenarları işaretleyelim.

☐ CU kenarı
☐ OC kenarı
☐ VO kenarı

Şekle ait olmayan kenar/kenarları işaretleyelim.

☐ HT kenarı
☐ EH kenarı
☐ EJ kenarı

Şekle ait olmayan kenar/kenarları işaretleyelim.

☐ ÜE kenarı
☐ PE kenarı
☐ FÜ kenarı

Şekle ait olmayan kenar/kenarları işaretleyelim.

☐ JY kenarı
☐ JZ kenarı
☐ ŞJ kenarı

Şekle ait olmayan kenar/kenarları işaretleyelim.

☐ ŞÖ kenarı
☐ ÜZ kenarı
☐ ÖÜ kenarı

Şekle ait olmayan kenar/kenarları işaretleyelim.

☐ CF kenarı
☐ FÜ kenarı
☐ YÜ kenarı

Şekle ait olmayan kenar/kenarları işaretleyelim.

☐ ZV kenarı
☐ ZM kenarı
☐ VM kenarı

Şekle ait olmayan kenar/kenarları işaretleyelim.

☐ BH kenarı
☐ BÜ kenarı
☐ HD kenarı

Şekle ait olmayan kenar/kenarları işaretleyelim.

☐ GŞ kenarı
☐ KŞ kenarı
☐ EK kenarı

Şekle ait olmayan kenar/kenarları işaretleyelim.

☐ ÖĞ kenarı
☐ ŞÖ kenarı
☐ UÖ kenarı

Şekle ait olmayan kenar/kenarları işaretleyelim.

☐ IZ kenarı
☐ ZH kenarı
☐ HS kenarı

Şekle ait olmayan kenar/kenarları işaretleyelim.

☐ AY kenarı
☐ YP kenarı
☐ AT kenarı

SÜREÇ ODAKLI DEĞERLENDİRME ÖLÇEĞİ			
Geliştirilmeli (0-100)	İyi (101-172)	Çok İyi (173-244)	Mükemmel (245-288)
<input type="checkbox"/>	<input type="checkbox"/>	<input type="checkbox"/>	<input type="checkbox"/>

Hazırlayan:

Bu bölüme sınıfınızın ilgili kazanıma yönelik genel durumuna ilişkin gözlem ve izlenimlerinizi, öğrencilerinizin bu kazanımla ilgili öğrenme eksikliklerini ve bu eksikliklerin giderilmesi amacıyla yaptığınız/yapmayı planladığınız faaliyetleri not edebilirsiniz.

No	Adı - Soyadı	Toplam Puan	Değerlendirme
1			
2			
3			
4			
5			
6			
7			
8			
9			
10			
11			
12			
13			
14			
15			
16			
17			
18			
19			
20			
21			
22			
23			
24			
25			
26			
27			
28			
29			
30			
31			
32			
33			
34			
35			

Hazırlayan: