

SORU: Aşağıdaki şekillerde verilen kenarlardan şekle ait olmayanı bulunuz.

Şekle ait olmayan kenar/kenarları işaretleyelim.

☐ NF kenarı

☐ NÖ kenarı

☐ İÖ kenarı

Şekle ait olmayan kenar/kenarları işaretleyelim.

☐ NM kenarı

☐ NÇ kenarı

☐ VÇ kenarı

Şekle ait olmayan kenar/kenarları işaretleyelim.

☐ LŞ kenarı

☐ ŞK kenarı

☐ BL kenarı

Şekle ait olmayan kenar/kenarları işaretleyelim.

☐ SÜ kenarı

☐ SU kenarı

☐ ÜÖ kenarı

Şekle ait olmayan kenar/kenarları işaretleyelim.

☐ BY kenarı

☐ PS kenarı

☐ YS kenarı

Şekle ait olmayan kenar/kenarları işaretleyelim.

☐ EK kenarı

☐ KI kenarı

☐ IE kenarı

Şekle ait olmayan kenar/kenarları işaretleyelim.

☐ SI kenarı

☐ IU kenarı

☐ UV kenarı

Şekle ait olmayan kenar/kenarları işaretleyelim.

☐ BM kenarı

☐ MŞ kenarı

☐ ŞB kenarı

Şekle ait olmayan kenar/kenarları işaretleyelim.

☐ UZ kenarı

☐ EZ kenarı

☐ KU kenarı

Şekle ait olmayan kenar/kenarları işaretleyelim.

☐ SI kenarı

☐ IB kenarı

☐ AI kenarı

Şekle ait olmayan kenar/kenarları işaretleyelim.

☐ FL kenarı

☐ LN kenarı

☐ NF kenarı

Şekle ait olmayan kenar/kenarları işaretleyelim.

☐ CM kenarı

☐ UC kenarı

☐ UM kenarı

SORU: Aşağıdaki şekillerde verilen kenarlardan şekle ait olmayanı bulunuz.

Şekle ait olmayan kenar/kenarları işaretleyelim.

☐ TP kenarı

☐ YT kenarı

☐ GY kenarı

Şekle ait olmayan kenar/kenarları işaretleyelim.

☐ CF kenarı

☐ iF kenarı

☐ LC kenarı

Şekle ait olmayan kenar/kenarları işaretleyelim.

☐ ÖA kenarı

☐ ÖD kenarı

☐ YA kenarı

Şekle ait olmayan kenar/kenarları işaretleyelim.

☐ İI kenarı

☐ ĞI kenarı

☐ İÇ kenarı

Şekle ait olmayan kenar/kenarları işaretleyelim.

☐ JI kenarı

☐ YG kenarı

☐ JY kenarı

Şekle ait olmayan kenar/kenarları işaretleyelim.

☐ ÜL kenarı

☐ ĞL kenarı

☐ ÜĞ kenarı

Şekle ait olmayan kenar/kenarları işaretleyelim.

☐ RO kenarı

☐ YR kenarı

☐ OY kenarı

Şekle ait olmayan kenar/kenarları işaretleyelim.

☐ SI kenarı

☐ IV kenarı

☐ VK kenarı

Şekle ait olmayan kenar/kenarları işaretleyelim.

☐ KE kenarı

☐ ÜH kenarı

☐ EH kenarı

Şekle ait olmayan kenar/kenarları işaretleyelim.

☐ OT kenarı

☐ FT kenarı

☐ IF kenarı

Şekle ait olmayan kenar/kenarları işaretleyelim.

☐ NJ kenarı

☐ AJ kenarı

☐ NŞ kenarı

Şekle ait olmayan kenar/kenarları işaretleyelim.

☐ ŞG kenarı

☐ ŞR kenarı

☐ RG kenarı

SORU: Aşağıdaki şekillerde verilen kenarlardan şekle ait olmayanı bulunuz.



Şekle ait olmayan kenar/kenarları işaretleyelim.

- ☐ LP kenarı
☐ RL kenarı
☐ BR kenarı




Şekle ait olmayan kenar/kenarları işaretleyelim.

- ☐ TĞ kenarı
☐ UĞ kenarı
☐ ĞH kenarı




Şekle ait olmayan kenar/kenarları işaretleyelim.

- ☐ ĞB kenarı
☐ ZS kenarı
☐ ĞS kenarı




Şekle ait olmayan kenar/kenarları işaretleyelim.

- ☐ UP kenarı
☐ ĞU kenarı
☐ ĞF kenarı




Şekle ait olmayan kenar/kenarları işaretleyelim.

- ☐ CĞ kenarı
☐ CD kenarı
☐ ÖC kenarı




Şekle ait olmayan kenar/kenarları işaretleyelim.

- ☐ EI kenarı
☐ NY kenarı
☐ İY kenarı




Şekle ait olmayan kenar/kenarları işaretleyelim.

- ☐ ÖT kenarı
☐ TY kenarı
☐ ÖD kenarı



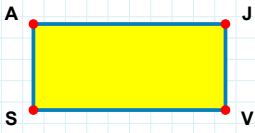
Şekle ait olmayan kenar/kenarları işaretleyelim.

- ☐ RF kenarı
☐ OT kenarı
☐ FT kenarı




Şekle ait olmayan kenar/kenarları işaretleyelim.

- ☐ DE kenarı
☐ EĞ kenarı
☐ ĞD kenarı



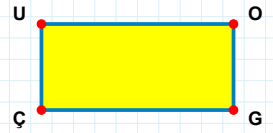
Şekle ait olmayan kenar/kenarları işaretleyelim.

- ☐ JV kenarı
☐ SA kenarı
☐ AV kenarı



Şekle ait olmayan kenar/kenarları işaretleyelim.


- ☐ BU kenarı
☐ KU kenarı
☐ KI kenarı



Şekle ait olmayan kenar/kenarları işaretleyelim.


- ☐ UO kenarı
☐ GÇ kenarı
☐ UG kenarı

SORU: Aşağıdaki şekillerde verilen kenarlardan şekle ait olmayanı bulunuz.




Şekle ait olmayan kenar/kenarları işaretleyelim.

- ☐ KĖ kenarı
☐ ĖC kenarı
☐ EK kenarı




Şekle ait olmayan kenar/kenarları işaretleyelim.

- ☐ EL kenarı
☐ IN kenarı
☐ NE kenarı




Şekle ait olmayan kenar/kenarları işaretleyelim.

- ☐ BJ kenarı
☐ LJ kenarı
☐ BI kenarı




Şekle ait olmayan kenar/kenarları işaretleyelim.

- ☐ DZ kenarı
☐ OD kenarı
☐ DV kenarı




Şekle ait olmayan kenar/kenarları işaretleyelim.

- ☐ FÇ kenarı
☐ OÇ kenarı
☐ ZO kenarı



Şekle ait olmayan kenar/kenarları işaretleyelim.

- ☐ VF kenarı
☐ FE kenarı
☐ VE kenarı




Şekle ait olmayan kenar/kenarları işaretleyelim.

- ☐ CA kenarı
☐ CU kenarı
☐ AŞ kenarı



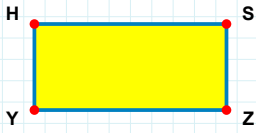
Şekle ait olmayan kenar/kenarları işaretleyelim.

- ☐ YÇ kenarı
☐ ÇÖ kenarı
☐ ÇI kenarı




Şekle ait olmayan kenar/kenarları işaretleyelim.

- ☐ HÜ kenarı
☐ ÜE kenarı
☐ İH kenarı



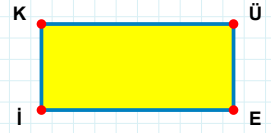
Şekle ait olmayan kenar/kenarları işaretleyelim.

- ☐ HS kenarı
☐ HZ kenarı
☐ SY kenarı



Şekle ait olmayan kenar/kenarları işaretleyelim.

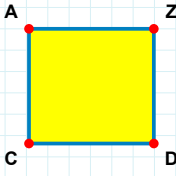
- ☐ JK kenarı
☐ KC kenarı
☐ CJ kenarı



Şekle ait olmayan kenar/kenarları işaretleyelim.

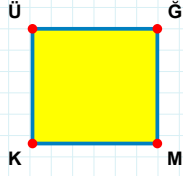
- ☐ ÜE kenarı
☐ KE kenarı
☐ Üİ kenarı

SORU: Aşağıdaki şekillerde verilen kenarlardan şekle ait olmayanı bulunuz.



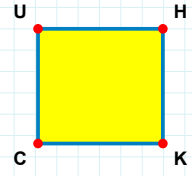
Şekle ait olmayan kenar/kenarları işaretleyelim.

- ☐ ZC kenarı
☐ AD kenarı
☐ CA kenarı



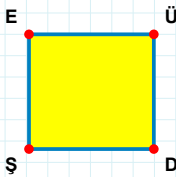
Şekle ait olmayan kenar/kenarları işaretleyelim.

- ☐ ĞK kenarı
☐ ĞM kenarı
☐ ÜM kenarı



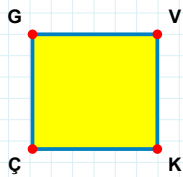
Şekle ait olmayan kenar/kenarları işaretleyelim.

- ☐ HK kenarı
☐ CU kenarı
☐ HC kenarı



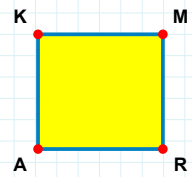
Şekle ait olmayan kenar/kenarları işaretleyelim.

- ☐ EÜ kenarı
☐ ÜŞ kenarı
☐ ED kenarı



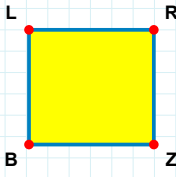
Şekle ait olmayan kenar/kenarları işaretleyelim.

- ☐ KÇ kenarı
☐ VÇ kenarı
☐ GK kenarı



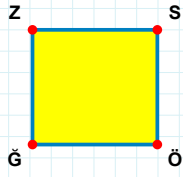
Şekle ait olmayan kenar/kenarları işaretleyelim.

- ☐ KR kenarı
☐ MA kenarı
☐ RA kenarı



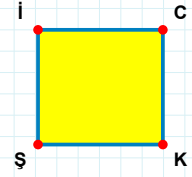
Şekle ait olmayan kenar/kenarları işaretleyelim.

- ☐ LZ kenarı
☐ RB kenarı
☐ ZB kenarı



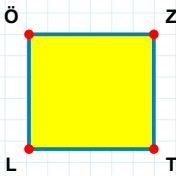
Şekle ait olmayan kenar/kenarları işaretleyelim.

- ☐ ZÖ kenarı
☐ ĞZ kenarı
☐ SĞ kenarı



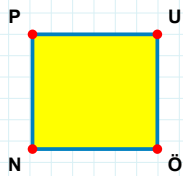
Şekle ait olmayan kenar/kenarları işaretleyelim.

- ☐ İC kenarı
☐ CŞ kenarı
☐ CK kenarı



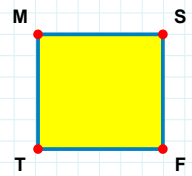
Şekle ait olmayan kenar/kenarları işaretleyelim.

- ☐ ZL kenarı
☐ ZT kenarı
☐ ÖZ kenarı



Şekle ait olmayan kenar/kenarları işaretleyelim.

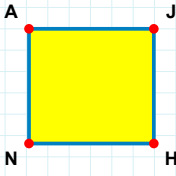
- ☐ UÖ kenarı
☐ PÖ kenarı
☐ UN kenarı



Şekle ait olmayan kenar/kenarları işaretleyelim.

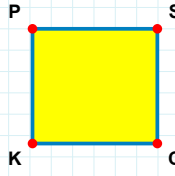
- ☐ MF kenarı
☐ ST kenarı
☐ SF kenarı

SORU: Aşağıdaki şekillerde verilen kenarlardan şekle ait olmayanı bulunuz.



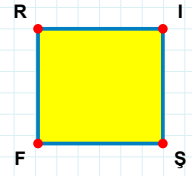
Şekle ait olmayan kenar/kenarları işaretleyelim.

- ☐ JH kenarı
☐ AH kenarı
☐ JN kenarı



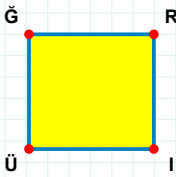
Şekle ait olmayan kenar/kenarları işaretleyelim.

- ☐ SK kenarı
☐ PS kenarı
☐ KP kenarı



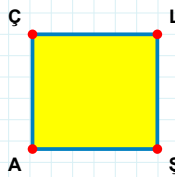
Şekle ait olmayan kenar/kenarları işaretleyelim.

- ☐ RŞ kenarı
☐ IF kenarı
☐ RI kenarı



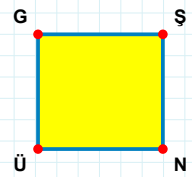
Şekle ait olmayan kenar/kenarları işaretleyelim.

- ☐ RÜ kenarı
☐ Ğİ kenarı
☐ ĞR kenarı



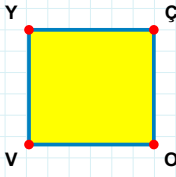
Şekle ait olmayan kenar/kenarları işaretleyelim.

- ☐ ŞA kenarı
☐ ÇŞ kenarı
☐ LA kenarı



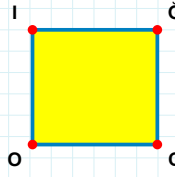
Şekle ait olmayan kenar/kenarları işaretleyelim.

- ☐ GN kenarı
☐ ÜG kenarı
☐ GŞ kenarı



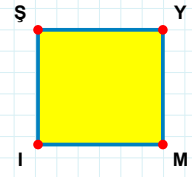
Şekle ait olmayan kenar/kenarları işaretleyelim.

- ☐ ÇV kenarı
☐ YO kenarı
☐ ÇO kenarı



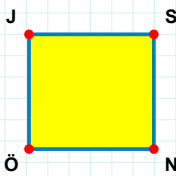
Şekle ait olmayan kenar/kenarları işaretleyelim.

- ☐ ĞO kenarı
☐ ĞC kenarı
☐ IC kenarı



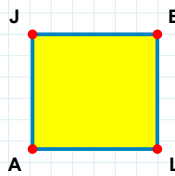
Şekle ait olmayan kenar/kenarları işaretleyelim.

- ☐ İŞ kenarı
☐ YM kenarı
☐ YI kenarı



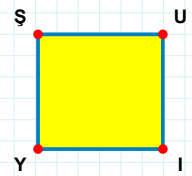
Şekle ait olmayan kenar/kenarları işaretleyelim.

- ☐ JS kenarı
☐ JN kenarı
☐ SÖ kenarı



Şekle ait olmayan kenar/kenarları işaretleyelim.

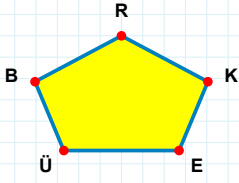
- ☐ BA kenarı
☐ JL kenarı
☐ BL kenarı



Şekle ait olmayan kenar/kenarları işaretleyelim.

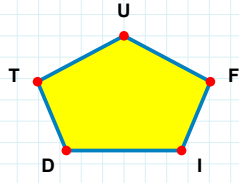
- ☐ İY kenarı
☐ Şİ kenarı
☐ UY kenarı

SORU: Aşağıdaki şekillerde verilen kenarlardan şekle ait olmayanı bulunuz.



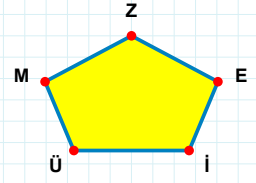
Şekle ait olmayan kenar/kenarları işaretleyelim.

- ☐ ÜE kenarı
☐ RE kenarı
☐ RÜ kenarı



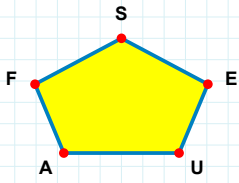
Şekle ait olmayan kenar/kenarları işaretleyelim.

- ☐ TF kenarı
☐ TD kenarı
☐ UT kenarı



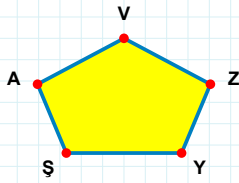
Şekle ait olmayan kenar/kenarları işaretleyelim.

- ☐ Üİ kenarı
☐ ZM kenarı
☐ ZÜ kenarı



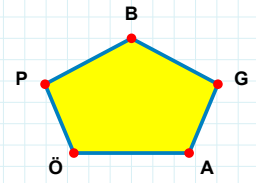
Şekle ait olmayan kenar/kenarları işaretleyelim.

- ☐ SA kenarı
☐ AE kenarı
☐ SF kenarı



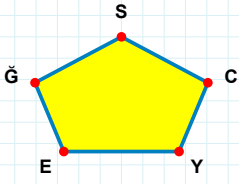
Şekle ait olmayan kenar/kenarları işaretleyelim.

- ☐ ŞY kenarı
☐ AY kenarı
☐ VŞ kenarı



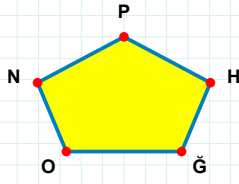
Şekle ait olmayan kenar/kenarları işaretleyelim.

- ☐ BÖ kenarı
☐ ÖA kenarı
☐ ÖG kenarı



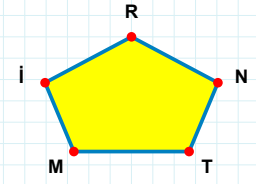
Şekle ait olmayan kenar/kenarları işaretleyelim.

- ☐ EC kenarı
☐ ĞE kenarı
☐ YC kenarı



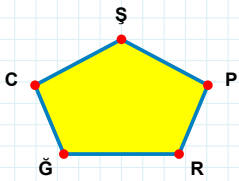
Şekle ait olmayan kenar/kenarları işaretleyelim.

- ☐ OĞ kenarı
☐ ĞH kenarı
☐ PĞ kenarı



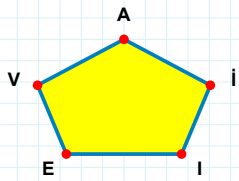
Şekle ait olmayan kenar/kenarları işaretleyelim.

- ☐ RT kenarı
☐ İM kenarı
☐ İT kenarı



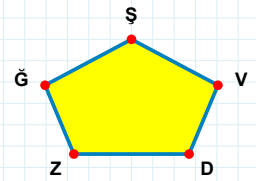
Şekle ait olmayan kenar/kenarları işaretleyelim.

- ☐ RP kenarı
☐ CR kenarı
☐ ŞR kenarı



Şekle ait olmayan kenar/kenarları işaretleyelim.

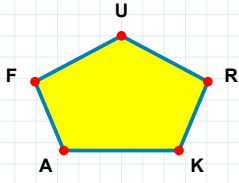
- ☐ Vİ kenarı
☐ İİ kenarı
☐ AV kenarı



Şekle ait olmayan kenar/kenarları işaretleyelim.

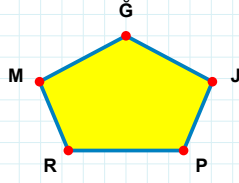
- ☐ ĞD kenarı
☐ ŞĞ kenarı
☐ ĞV kenarı

SORU: Aşağıdaki şekillerde verilen kenarlardan şekle ait olmayanı bulunuz.



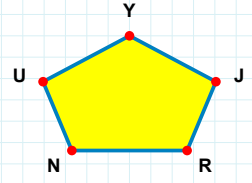
Şekle ait olmayan kenar/kenarları işaretleyelim.

- ☐ UF kenarı
☐ UA kenarı
☐ FK kenarı



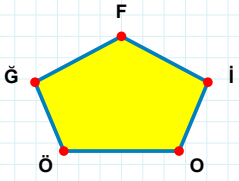
Şekle ait olmayan kenar/kenarları işaretleyelim.

- ☐ MR kenarı
☐ GM kenarı
☐ GP kenarı



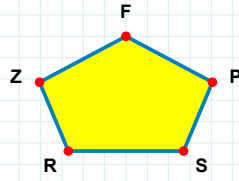
Şekle ait olmayan kenar/kenarları işaretleyelim.

- ☐ YN kenarı
☐ UJ kenarı
☐ NJ kenarı



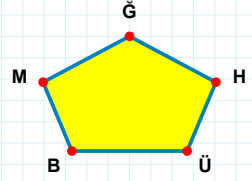
Şekle ait olmayan kenar/kenarları işaretleyelim.

- ☐ GÖ kenarı
☐ FO kenarı
☐ GO kenarı



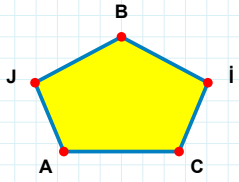
Şekle ait olmayan kenar/kenarları işaretleyelim.

- ☐ ZP kenarı
☐ FR kenarı
☐ ZS kenarı



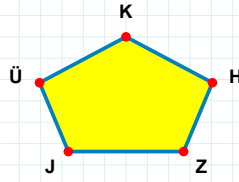
Şekle ait olmayan kenar/kenarları işaretleyelim.

- ☐ GB kenarı
☐ GM kenarı
☐ MÜ kenarı



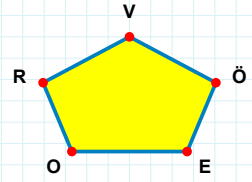
Şekle ait olmayan kenar/kenarları işaretleyelim.

- ☐ BA kenarı
☐ JA kenarı
☐ BJ kenarı



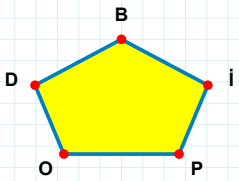
Şekle ait olmayan kenar/kenarları işaretleyelim.

- ☐ ÜH kenarı
☐ JH kenarı
☐ KÜ kenarı



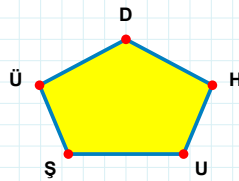
Şekle ait olmayan kenar/kenarları işaretleyelim.

- ☐ RÖ kenarı
☐ RO kenarı
☐ VR kenarı



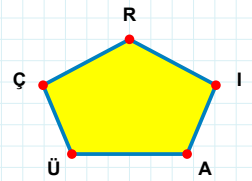
Şekle ait olmayan kenar/kenarları işaretleyelim.

- ☐ PI kenarı
☐ DP kenarı
☐ BP kenarı



Şekle ait olmayan kenar/kenarları işaretleyelim.

- ☐ ÜU kenarı
☐ ÜŞ kenarı
☐ DU kenarı



Şekle ait olmayan kenar/kenarları işaretleyelim.

- ☐ RA kenarı
☐ IR kenarı
☐ ÇA kenarı

SORU: Aşağıdaki şekillerde verilen kenarlardan şekle ait olmayanı bulunuz.

Şekle ait olmayan kenar/kenarları işaretleyelim.

☐ ĞF kenarı

☐ FM kenarı

☐ ÇF kenarı

Şekle ait olmayan kenar/kenarları işaretleyelim.

☐ UÜ kenarı

☐ ÜG kenarı

☐ ÜN kenarı

Şekle ait olmayan kenar/kenarları işaretleyelim.

☐ IR kenarı

☐ IT kenarı

☐ TV kenarı

Şekle ait olmayan kenar/kenarları işaretleyelim.

☐ VÖ kenarı

☐ FÖ kenarı

☐ KF kenarı

Şekle ait olmayan kenar/kenarları işaretleyelim.

☐ IĞ kenarı

☐ VI kenarı

☐ VY kenarı

Şekle ait olmayan kenar/kenarları işaretleyelim.

☐ MR kenarı

☐ ZR kenarı

☐ JR kenarı

Şekle ait olmayan kenar/kenarları işaretleyelim.

☐ LT kenarı

☐ TI kenarı

☐ TA kenarı

Şekle ait olmayan kenar/kenarları işaretleyelim.

☐ NL kenarı

☐ MH kenarı

☐ NK kenarı

Şekle ait olmayan kenar/kenarları işaretleyelim.

☐ ÇG kenarı

☐ ZĞ kenarı

☐ KG kenarı

Şekle ait olmayan kenar/kenarları işaretleyelim.

☐ SE kenarı

☐ PE kenarı

☐ SÇ kenarı

Şekle ait olmayan kenar/kenarları işaretleyelim.

☐ YU kenarı

☐ LY kenarı

☐ İY kenarı

Şekle ait olmayan kenar/kenarları işaretleyelim.

☐ HĞ kenarı

☐ HZ kenarı

☐ CZ kenarı

SORU: Aşağıdaki şekillerde verilen kenarlardan şekle ait olmayanı bulunuz.

Şekle ait olmayan kenar/kenarları işaretleyelim.

- ☐ LP kenarı
- ☐ İZ kenarı
- ☐ ZP kenarı

Şekle ait olmayan kenar/kenarları işaretleyelim.

- ☐ İK kenarı
- ☐ Sİ kenarı
- ☐ SK kenarı

Şekle ait olmayan kenar/kenarları işaretleyelim.

- ☐ ŞS kenarı
- ☐ MŞ kenarı
- ☐ MO kenarı

Şekle ait olmayan kenar/kenarları işaretleyelim.

- ☐ Şİ kenarı
- ☐ SL kenarı
- ☐ RL kenarı

Şekle ait olmayan kenar/kenarları işaretleyelim.

- ☐ JG kenarı
- ☐ DG kenarı
- ☐ AD kenarı

Şekle ait olmayan kenar/kenarları işaretleyelim.

- ☐ UO kenarı
- ☐ UF kenarı
- ☐ FO kenarı

Şekle ait olmayan kenar/kenarları işaretleyelim.

- ☐ LK kenarı
- ☐ AS kenarı
- ☐ HK kenarı

Şekle ait olmayan kenar/kenarları işaretleyelim.

- ☐ ML kenarı
- ☐ MD kenarı
- ☐ AM kenarı

Şekle ait olmayan kenar/kenarları işaretleyelim.

- ☐ EĞ kenarı
- ☐ ÜE kenarı
- ☐ MÜ kenarı

Şekle ait olmayan kenar/kenarları işaretleyelim.

- ☐ FM kenarı
- ☐ RV kenarı
- ☐ FO kenarı

Şekle ait olmayan kenar/kenarları işaretleyelim.

- ☐ DN kenarı
- ☐ YB kenarı
- ☐ DŞ kenarı

Şekle ait olmayan kenar/kenarları işaretleyelim.

- ☐ JF kenarı
- ☐ FY kenarı
- ☐ ÇY kenarı

SORU: Aşağıdaki şekillerde verilen kenarlardan şekle ait olmayanı bulunuz.

Şekle ait olmayan kenar/kenarları işaretleyelim.

☐ GY kenarı

☐ GK kenarı

☐ YO kenarı

Şekle ait olmayan kenar/kenarları işaretleyelim.

☐ GF kenarı

☐ GG kenarı

☐ MA kenarı

Şekle ait olmayan kenar/kenarları işaretleyelim.

☐ HI kenarı

☐ HY kenarı

☐ UV kenarı

Şekle ait olmayan kenar/kenarları işaretleyelim.

☐ NV kenarı

☐ VÖ kenarı

☐ GÖ kenarı

Şekle ait olmayan kenar/kenarları işaretleyelim.

☐ ME kenarı

☐ SG kenarı

☐ CG kenarı

Şekle ait olmayan kenar/kenarları işaretleyelim.

☐ CÜ kenarı

☐ GL kenarı

☐ GC kenarı

Şekle ait olmayan kenar/kenarları işaretleyelim.

☐ ŞD kenarı

☐ BŞ kenarı

☐ GŞ kenarı

Şekle ait olmayan kenar/kenarları işaretleyelim.

☐ BG kenarı

☐ RA kenarı

☐ RI kenarı

Şekle ait olmayan kenar/kenarları işaretleyelim.

☐ GH kenarı

☐ MH kenarı

☐ ÜH kenarı

Şekle ait olmayan kenar/kenarları işaretleyelim.

☐ CD kenarı

☐ CA kenarı

☐ AD kenarı

Şekle ait olmayan kenar/kenarları işaretleyelim.

☐ FG kenarı

☐ GÜ kenarı

☐ AC kenarı

Şekle ait olmayan kenar/kenarları işaretleyelim.

☐ HŞ kenarı

☐ MS kenarı

☐ PS kenarı

SORU: Aşağıdaki şekillerde verilen kenarlardan şekle ait olmayanı bulunuz.

Şekle ait olmayan kenar/kenarları işaretleyelim.

- ☐ GM kenarı
- ☐ PÇ kenarı
- ☐ UP kenarı

Şekle ait olmayan kenar/kenarları işaretleyelim.

- ☐ US kenarı
- ☐ İH kenarı
- ☐ İI kenarı

Şekle ait olmayan kenar/kenarları işaretleyelim.

- ☐ ŞK kenarı
- ☐ ZE kenarı
- ☐ LE kenarı

Şekle ait olmayan kenar/kenarları işaretleyelim.

- ☐ SY kenarı
- ☐ ÇT kenarı
- ☐ TD kenarı

Şekle ait olmayan kenar/kenarları işaretleyelim.

- ☐ AÖ kenarı
- ☐ BÖ kenarı
- ☐ ÖE kenarı

Şekle ait olmayan kenar/kenarları işaretleyelim.

- ☐ NR kenarı
- ☐ NK kenarı
- ☐ ÇJ kenarı

Şekle ait olmayan kenar/kenarları işaretleyelim.

- ☐ NY kenarı
- ☐ EU kenarı
- ☐ UN kenarı

Şekle ait olmayan kenar/kenarları işaretleyelim.

- ☐ GD kenarı
- ☐ ND kenarı
- ☐ OD kenarı

Şekle ait olmayan kenar/kenarları işaretleyelim.

- ☐ ŞM kenarı
- ☐ MS kenarı
- ☐ UŞ kenarı

Şekle ait olmayan kenar/kenarları işaretleyelim.

- ☐ NÜ kenarı
- ☐ ÜI kenarı
- ☐ ÜC kenarı

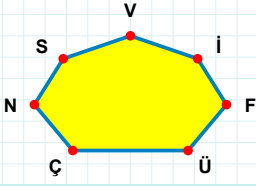
Şekle ait olmayan kenar/kenarları işaretleyelim.

- ☐ ÇY kenarı
- ☐ ÜÇ kenarı
- ☐ ÇJ kenarı

Şekle ait olmayan kenar/kenarları işaretleyelim.

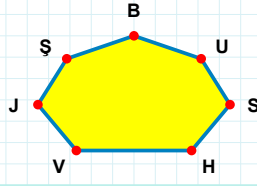
- ☐ TO kenarı
- ☐ ÖR kenarı
- ☐ RO kenarı

SORU: Aşağıdaki şekillerde verilen kenarlardan şekle ait olmayanı bulunuz.



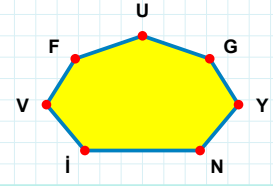
Şekle ait olmayan kenar/kenarları işaretleyelim.

- ☐ VN kenarı
☐ ÜF kenarı
☐ NÜ kenarı



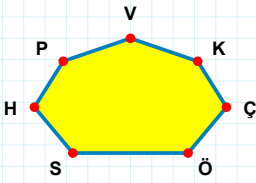
Şekle ait olmayan kenar/kenarları işaretleyelim.

- ☐ UB kenarı
☐ JV kenarı
☐ BH kenarı



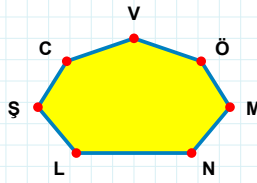
Şekle ait olmayan kenar/kenarları işaretleyelim.

- ☐ FI kenarı
☐ İG kenarı
☐ GU kenarı



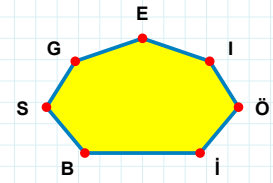
Şekle ait olmayan kenar/kenarları işaretleyelim.

- ☐ VH kenarı
☐ SK kenarı
☐ VS kenarı



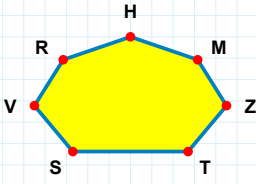
Şekle ait olmayan kenar/kenarları işaretleyelim.

- ☐ VC kenarı
☐ CN kenarı
☐ VŞ kenarı



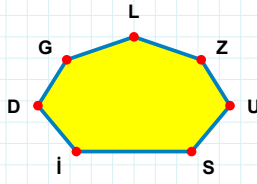
Şekle ait olmayan kenar/kenarları işaretleyelim.

- ☐ EG kenarı
☐ SI kenarı
☐ GI kenarı



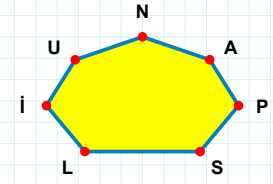
Şekle ait olmayan kenar/kenarları işaretleyelim.

- ☐ RV kenarı
☐ TM kenarı
☐ VT kenarı



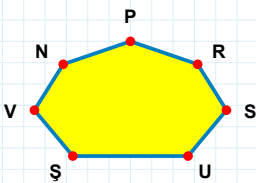
Şekle ait olmayan kenar/kenarları işaretleyelim.

- ☐ GU kenarı
☐ LI kenarı
☐ LS kenarı



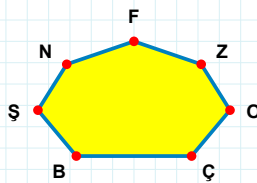
Şekle ait olmayan kenar/kenarları işaretleyelim.

- ☐ NL kenarı
☐ İA kenarı
☐ NI kenarı



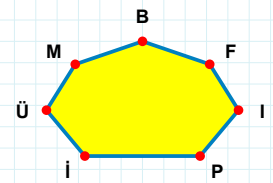
Şekle ait olmayan kenar/kenarları işaretleyelim.

- ☐ RP kenarı
☐ PN kenarı
☐ PU kenarı



Şekle ait olmayan kenar/kenarları işaretleyelim.

- ☐ ÇZ kenarı
☐ ÇO kenarı
☐ NŞ kenarı



Şekle ait olmayan kenar/kenarları işaretleyelim.

- ☐ PI kenarı
☐ İF kenarı
☐ ÜP kenarı

SORU: Aşağıdaki şekillerde verilen kenarlardan şekle ait olmayanı bulunuz.

Şekle ait olmayan kenar/kenarları işaretleyelim.

☐ RÇ kenarı

☐ DR kenarı

☐ UŞ kenarı

Şekle ait olmayan kenar/kenarları işaretleyelim.

☐ ZO kenarı

☐ ME kenarı

☐ MZ kenarı

Şekle ait olmayan kenar/kenarları işaretleyelim.

☐ CJ kenarı

☐ ÖJ kenarı

☐ JĞ kenarı

Şekle ait olmayan kenar/kenarları işaretleyelim.

☐ PJ kenarı

☐ ZJ kenarı

☐ ÖŞ kenarı

Şekle ait olmayan kenar/kenarları işaretleyelim.

☐ Jİ kenarı

☐ ÇU kenarı

☐ İJ kenarı

Şekle ait olmayan kenar/kenarları işaretleyelim.

☐ İB kenarı

☐ ÇB kenarı

☐ SN kenarı

Şekle ait olmayan kenar/kenarları işaretleyelim.

☐ UL kenarı

☐ İL kenarı

☐ ŞU kenarı

Şekle ait olmayan kenar/kenarları işaretleyelim.

☐ KĞ kenarı

☐ HB kenarı

☐ DĞ kenarı

Şekle ait olmayan kenar/kenarları işaretleyelim.

☐ GU kenarı

☐ ĞS kenarı

☐ SU kenarı

Şekle ait olmayan kenar/kenarları işaretleyelim.

☐ IC kenarı

☐ ÇŞ kenarı

☐ İZ kenarı

Şekle ait olmayan kenar/kenarları işaretleyelim.

☐ KP kenarı

☐ ZP kenarı

☐ KO kenarı

Şekle ait olmayan kenar/kenarları işaretleyelim.

☐ ZC kenarı

☐ İÜ kenarı

☐ Çİ kenarı

SORU: Aşağıdaki şekillerde verilen kenarlardan şekle ait olmayanı bulunuz.

Şekle ait olmayan kenar/kenarları işaretleyelim.

☐ YR kenarı
☐ PR kenarı
☐ ĞS kenarı

Şekle ait olmayan kenar/kenarları işaretleyelim.

☐ UÜ kenarı
☐ HF kenarı
☐ ÇU kenarı

Şekle ait olmayan kenar/kenarları işaretleyelim.

☐ GN kenarı
☐ OS kenarı
☐ OG kenarı

Şekle ait olmayan kenar/kenarları işaretleyelim.

☐ KÜ kenarı
☐ UM kenarı
☐ ŞS kenarı

Şekle ait olmayan kenar/kenarları işaretleyelim.

☐ ĞS kenarı
☐ YÇ kenarı
☐ İR kenarı

Şekle ait olmayan kenar/kenarları işaretleyelim.

☐ LC kenarı
☐ RC kenarı
☐ NR kenarı

Şekle ait olmayan kenar/kenarları işaretleyelim.

☐ SO kenarı
☐ FG kenarı
☐ ÜF kenarı

Şekle ait olmayan kenar/kenarları işaretleyelim.

☐ ZÜ kenarı
☐ SO kenarı
☐ PY kenarı

Şekle ait olmayan kenar/kenarları işaretleyelim.

☐ ŞC kenarı
☐ GT kenarı
☐ ÜN kenarı

Şekle ait olmayan kenar/kenarları işaretleyelim.

☐ LG kenarı
☐ ZT kenarı
☐ FK kenarı

Şekle ait olmayan kenar/kenarları işaretleyelim.

☐ VI kenarı
☐ GZ kenarı
☐ ÜI kenarı

Şekle ait olmayan kenar/kenarları işaretleyelim.

☐ ZU kenarı
☐ ĞT kenarı
☐ ZT kenarı

SORU: Aşağıdaki şekillerde verilen kenarlardan şekle ait olmayanı bulunuz.

Şekle ait olmayan kenar/kenarları işaretleyelim.

☐ KG kenarı

☐ JV kenarı

☐ YS kenarı

Şekle ait olmayan kenar/kenarları işaretleyelim.

☐ ÖA kenarı

☐ ÖG kenarı

☐ VI kenarı

Şekle ait olmayan kenar/kenarları işaretleyelim.

☐ GC kenarı

☐ GH kenarı

☐ SC kenarı

Şekle ait olmayan kenar/kenarları işaretleyelim.

☐ DG kenarı

☐ DS kenarı

☐ GM kenarı

Şekle ait olmayan kenar/kenarları işaretleyelim.

☐ AZ kenarı

☐ MA kenarı

☐ ŞM kenarı

Şekle ait olmayan kenar/kenarları işaretleyelim.

☐ ÇD kenarı

☐ BÖ kenarı

☐ FÇ kenarı

Şekle ait olmayan kenar/kenarları işaretleyelim.

☐ ÜŞ kenarı

☐ TG kenarı

☐ JŞ kenarı

Şekle ait olmayan kenar/kenarları işaretleyelim.

☐ ZR kenarı

☐ EÖ kenarı

☐ IJ kenarı

Şekle ait olmayan kenar/kenarları işaretleyelim.

☐ BF kenarı

☐ Mİ kenarı

☐ Yİ kenarı

Şekle ait olmayan kenar/kenarları işaretleyelim.

☐ UR kenarı

☐ SO kenarı

☐ GO kenarı

Şekle ait olmayan kenar/kenarları işaretleyelim.

☐ LD kenarı

☐ SV kenarı

☐ DT kenarı

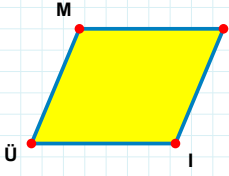
Şekle ait olmayan kenar/kenarları işaretleyelim.

☐ YĞ kenarı

☐ ŞS kenarı

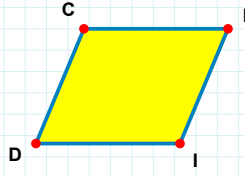
☐ ŞJ kenarı

SORU: Aşağıdaki şekillerde verilen kenarlardan şekle ait olmayanı bulunuz.



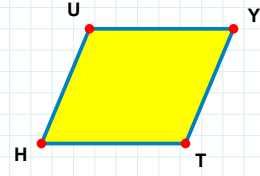
Şekle ait olmayan kenar/kenarları işaretleyelim.

- ☐ MI kenarı
☐ MZ kenarı
☐ ÜM kenarı



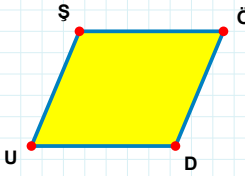
Şekle ait olmayan kenar/kenarları işaretleyelim.

- ☐ FI kenarı
☐ FD kenarı
☐ CI kenarı



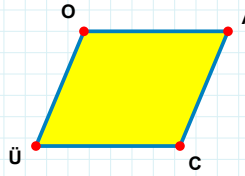
Şekle ait olmayan kenar/kenarları işaretleyelim.

- ☐ UT kenarı
☐ UY kenarı
☐ YH kenarı



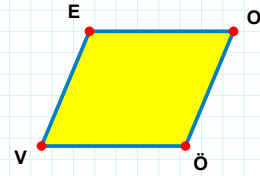
Şekle ait olmayan kenar/kenarları işaretleyelim.

- ☐ UŞ kenarı
☐ ÖD kenarı
☐ ÖU kenarı



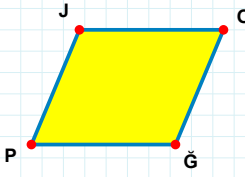
Şekle ait olmayan kenar/kenarları işaretleyelim.

- ☐ AÜ kenarı
☐ OC kenarı
☐ OA kenarı



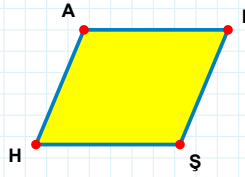
Şekle ait olmayan kenar/kenarları işaretleyelim.

- ☐ EÖ kenarı
☐ OÖ kenarı
☐ VE kenarı



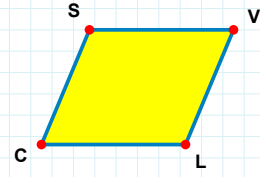
Şekle ait olmayan kenar/kenarları işaretleyelim.

- ☐ ĞP kenarı
☐ JĞ kenarı
☐ OP kenarı



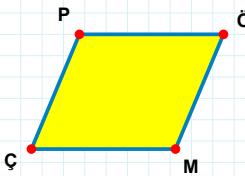
Şekle ait olmayan kenar/kenarları işaretleyelim.

- ☐ BH kenarı
☐ HA kenarı
☐ AŞ kenarı



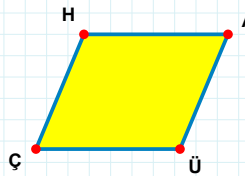
Şekle ait olmayan kenar/kenarları işaretleyelim.

- ☐ SL kenarı
☐ VC kenarı
☐ SV kenarı



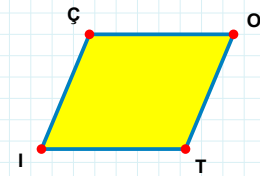
Şekle ait olmayan kenar/kenarları işaretleyelim.

- ☐ ÖM kenarı
☐ PÖ kenarı
☐ PM kenarı



Şekle ait olmayan kenar/kenarları işaretleyelim.

- ☐ HA kenarı
☐ ÜÇ kenarı
☐ HÜ kenarı



Şekle ait olmayan kenar/kenarları işaretleyelim.

- ☐ ÇO kenarı
☐ ÇT kenarı
☐ İÇ kenarı

SORU: Aşağıdaki şekillerde verilen kenarlardan şekle ait olmayanı bulunuz.

Şekle ait olmayan kenar/kenarları işaretleyelim.

☐ VB kenarı
☐ ŞZ kenarı
☐ BŞ kenarı

Şekle ait olmayan kenar/kenarları işaretleyelim.

☐ ŞM kenarı
☐ YŞ kenarı
☐ ÜŞ kenarı

Şekle ait olmayan kenar/kenarları işaretleyelim.

☐ OL kenarı
☐ ÖJ kenarı
☐ OJ kenarı

Şekle ait olmayan kenar/kenarları işaretleyelim.

☐ KU kenarı
☐ VU kenarı
☐ KN kenarı

Şekle ait olmayan kenar/kenarları işaretleyelim.

☐ HÖ kenarı
☐ PT kenarı
☐ HP kenarı

Şekle ait olmayan kenar/kenarları işaretleyelim.

☐ BC kenarı
☐ CŞ kenarı
☐ BŞ kenarı

Şekle ait olmayan kenar/kenarları işaretleyelim.

☐ DŞ kenarı
☐ ŞF kenarı
☐ EF kenarı

Şekle ait olmayan kenar/kenarları işaretleyelim.

☐ ÜF kenarı
☐ IF kenarı
☐ ÜI kenarı

Şekle ait olmayan kenar/kenarları işaretleyelim.

☐ MG kenarı
☐ MO kenarı
☐ OG kenarı

Şekle ait olmayan kenar/kenarları işaretleyelim.

☐ GB kenarı
☐ MG kenarı
☐ ÖM kenarı

Şekle ait olmayan kenar/kenarları işaretleyelim.

☐ RÇ kenarı
☐ UK kenarı
☐ ÇK kenarı

Şekle ait olmayan kenar/kenarları işaretleyelim.

☐ GF kenarı
☐ EF kenarı
☐ FR kenarı

SORU: Aşağıdaki şekillerde verilen kenarlardan şekle ait olmayanı bulunuz.

Şekle ait olmayan kenar/kenarları işaretleyelim.

- ☐ ĞŞ kenarı
- ☐ LK kenarı
- ☐ ŞK kenarı

Şekle ait olmayan kenar/kenarları işaretleyelim.

- ☐ İF kenarı
- ☐ FU kenarı
- ☐ OU kenarı

Şekle ait olmayan kenar/kenarları işaretleyelim.

- ☐ KU kenarı
- ☐ SP kenarı
- ☐ PK kenarı

Şekle ait olmayan kenar/kenarları işaretleyelim.

- ☐ ÜM kenarı
- ☐ ÜF kenarı
- ☐ NF kenarı

Şekle ait olmayan kenar/kenarları işaretleyelim.

- ☐ VĞ kenarı
- ☐ MĞ kenarı
- ☐ ÇV kenarı

Şekle ait olmayan kenar/kenarları işaretleyelim.

- ☐ HN kenarı
- ☐ FÇ kenarı
- ☐ HF kenarı

Şekle ait olmayan kenar/kenarları işaretleyelim.

- ☐ JZ kenarı
- ☐ JG kenarı
- ☐ MJ kenarı

Şekle ait olmayan kenar/kenarları işaretleyelim.

- ☐ ZÜ kenarı
- ☐ ĞÜ kenarı
- ☐ ĞJ kenarı

Şekle ait olmayan kenar/kenarları işaretleyelim.

- ☐ MV kenarı
- ☐ KV kenarı
- ☐ KM kenarı

Şekle ait olmayan kenar/kenarları işaretleyelim.

- ☐ UN kenarı
- ☐ UG kenarı
- ☐ NG kenarı

Şekle ait olmayan kenar/kenarları işaretleyelim.

- ☐ YÜ kenarı
- ☐ BG kenarı
- ☐ YB kenarı

Şekle ait olmayan kenar/kenarları işaretleyelim.

- ☐ İŞ kenarı
- ☐ Yİ kenarı
- ☐ ŞC kenarı

SORU: Aşağıdaki şekillerde verilen kenarlardan şekle ait olmayanı bulunuz.

Şekle ait olmayan kenar/kenarları işaretleyelim.

- ☐ MF kenarı
- ☐ FY kenarı
- ☐ NM kenarı

Şekle ait olmayan kenar/kenarları işaretleyelim.

- ☐ FJ kenarı
- ☐ VA kenarı
- ☐ FV kenarı

Şekle ait olmayan kenar/kenarları işaretleyelim.

- ☐ FT kenarı
- ☐ TI kenarı
- ☐ FI kenarı

Şekle ait olmayan kenar/kenarları işaretleyelim.

- ☐ ŞÜ kenarı
- ☐ ÜB kenarı
- ☐ NB kenarı

Şekle ait olmayan kenar/kenarları işaretleyelim.

- ☐ TE kenarı
- ☐ TĞ kenarı
- ☐ EÖ kenarı

Şekle ait olmayan kenar/kenarları işaretleyelim.

- ☐ Jİ kenarı
- ☐ İM kenarı
- ☐ NJ kenarı

Şekle ait olmayan kenar/kenarları işaretleyelim.

- ☐ RĞ kenarı
- ☐ ŞR kenarı
- ☐ ĞG kenarı

Şekle ait olmayan kenar/kenarları işaretleyelim.

- ☐ SD kenarı
- ☐ ZS kenarı
- ☐ ÖS kenarı

Şekle ait olmayan kenar/kenarları işaretleyelim.

- ☐ AM kenarı
- ☐ LM kenarı
- ☐ MC kenarı

Şekle ait olmayan kenar/kenarları işaretleyelim.

- ☐ SA kenarı
- ☐ ÇV kenarı
- ☐ SÇ kenarı

Şekle ait olmayan kenar/kenarları işaretleyelim.

- ☐ JV kenarı
- ☐ JS kenarı
- ☐ VH kenarı

Şekle ait olmayan kenar/kenarları işaretleyelim.

- ☐ ZA kenarı
- ☐ ZH kenarı
- ☐ HB kenarı

SORU: Aşağıdaki şekillerde verilen kenarlardan şekle ait olmayanı bulunuz.

Şekle ait olmayan kenar/kenarları işaretleyelim.

☐ Yİ kenarı
☐ OE kenarı
☐ İE kenarı

Şekle ait olmayan kenar/kenarları işaretleyelim.

☐ İF kenarı
☐ ĞŞ kenarı
☐ ĞF kenarı

Şekle ait olmayan kenar/kenarları işaretleyelim.

☐ PC kenarı
☐ TR kenarı
☐ RC kenarı

Şekle ait olmayan kenar/kenarları işaretleyelim.

☐ HÇ kenarı
☐ ĞÇ kenarı
☐ ĞÜ kenarı

Şekle ait olmayan kenar/kenarları işaretleyelim.

☐ ÇP kenarı
☐ ÇF kenarı
☐ Pİ kenarı

Şekle ait olmayan kenar/kenarları işaretleyelim.

☐ GL kenarı
☐ LC kenarı
☐ CŞ kenarı

Şekle ait olmayan kenar/kenarları işaretleyelim.

☐ Pİ kenarı
☐ OP kenarı
☐ OF kenarı

Şekle ait olmayan kenar/kenarları işaretleyelim.

☐ HM kenarı
☐ LM kenarı
☐ HG kenarı

Şekle ait olmayan kenar/kenarları işaretleyelim.

☐ ŞJ kenarı
☐ NO kenarı
☐ NŞ kenarı

Şekle ait olmayan kenar/kenarları işaretleyelim.

☐ NÜ kenarı
☐ ÜG kenarı
☐ VÜ kenarı

Şekle ait olmayan kenar/kenarları işaretleyelim.

☐ LÖ kenarı
☐ ÖV kenarı
☐ VL kenarı

Şekle ait olmayan kenar/kenarları işaretleyelim.

☐ ĞH kenarı
☐ AB kenarı
☐ AĞ kenarı

SORU: Aşağıdaki şekillerde verilen kenarlardan şekle ait olmayanı bulunuz.

Şekle ait olmayan kenar/kenarları işaretleyelim.

☐ GH kenarı

☐ FB kenarı

☐ BH kenarı

Şekle ait olmayan kenar/kenarları işaretleyelim.

☐ ŞP kenarı

☐ PA kenarı

☐ AŞ kenarı

Şekle ait olmayan kenar/kenarları işaretleyelim.

☐ IF kenarı

☐ BD kenarı

☐ FD kenarı

Şekle ait olmayan kenar/kenarları işaretleyelim.

☐ IÖ kenarı

☐ ÖH kenarı

☐ JH kenarı

Şekle ait olmayan kenar/kenarları işaretleyelim.

☐ ÜO kenarı

☐ RÜ kenarı

☐ SO kenarı

Şekle ait olmayan kenar/kenarları işaretleyelim.

☐ ÜA kenarı

☐ ÜP kenarı

☐ LA kenarı

Şekle ait olmayan kenar/kenarları işaretleyelim.

☐ IY kenarı

☐ IJ kenarı

☐ UY kenarı

Şekle ait olmayan kenar/kenarları işaretleyelim.

☐ UH kenarı

☐ BH kenarı

☐ HF kenarı

Şekle ait olmayan kenar/kenarları işaretleyelim.

☐ TJ kenarı

☐ ÜR kenarı

☐ ÜJ kenarı

Şekle ait olmayan kenar/kenarları işaretleyelim.

☐ ÜF kenarı

☐ YV kenarı

☐ FV kenarı

Şekle ait olmayan kenar/kenarları işaretleyelim.

☐ HK kenarı

☐ ÖH kenarı

☐ HB kenarı

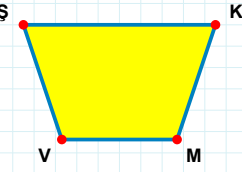
Şekle ait olmayan kenar/kenarları işaretleyelim.

☐ YO kenarı

☐ ZU kenarı

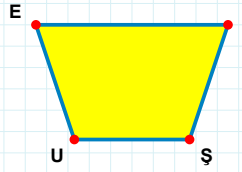
☐ UO kenarı

SORU: Aşağıdaki şekillerde verilen kenarlardan şekle ait olmayanı bulunuz.



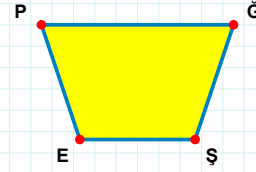
Şekle ait olmayan kenar/kenarları işaretleyelim.

- ☐ ŞK kenarı
☐ KV kenarı
☐ ŞM kenarı



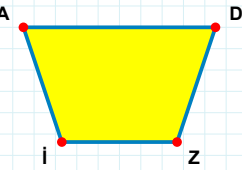
Şekle ait olmayan kenar/kenarları işaretleyelim.

- ☐ EP kenarı
☐ EŞ kenarı
☐ PŞ kenarı



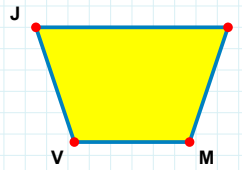
Şekle ait olmayan kenar/kenarları işaretleyelim.

- ☐ EP kenarı
☐ ĞE kenarı
☐ PŞ kenarı



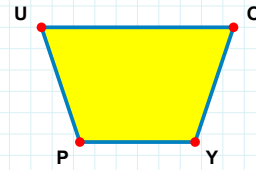
Şekle ait olmayan kenar/kenarları işaretleyelim.

- ☐ DI kenarı
☐ İA kenarı
☐ AD kenarı



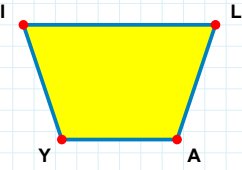
Şekle ait olmayan kenar/kenarları işaretleyelim.

- ☐ TM kenarı
☐ TV kenarı
☐ JM kenarı



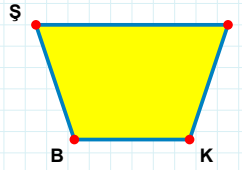
Şekle ait olmayan kenar/kenarları işaretleyelim.

- ☐ OY kenarı
☐ UY kenarı
☐ PU kenarı



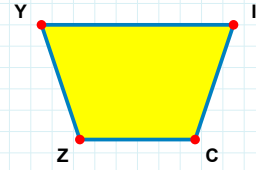
Şekle ait olmayan kenar/kenarları işaretleyelim.

- ☐ Yİ kenarı
☐ İA kenarı
☐ IL kenarı



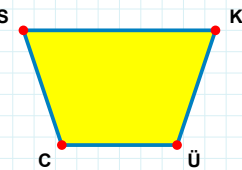
Şekle ait olmayan kenar/kenarları işaretleyelim.

- ☐ ŞK kenarı
☐ LB kenarı
☐ BŞ kenarı



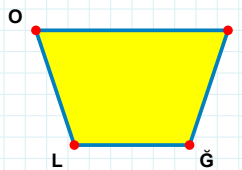
Şekle ait olmayan kenar/kenarları işaretleyelim.

- ☐ İC kenarı
☐ İZ kenarı
☐ YC kenarı



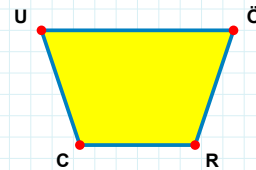
Şekle ait olmayan kenar/kenarları işaretleyelim.

- ☐ KC kenarı
☐ CS kenarı
☐ KÜ kenarı



Şekle ait olmayan kenar/kenarları işaretleyelim.

- ☐ ŞL kenarı
☐ ĞL kenarı
☐ OĞ kenarı



Şekle ait olmayan kenar/kenarları işaretleyelim.

- ☐ UR kenarı
☐ RC kenarı
☐ ÖC kenarı

SORU: Aşağıdaki şekillerde verilen kenarlardan şekle ait olmayanı bulunuz.

Şekle ait olmayan kenar/kenarları işaretleyelim.

☐ NL kenarı
☐ ÖL kenarı
☐ GN kenarı

Şekle ait olmayan kenar/kenarları işaretleyelim.

☐ PY kenarı
☐ JH kenarı
☐ JP kenarı

Şekle ait olmayan kenar/kenarları işaretleyelim.

☐ LĞ kenarı
☐ GÇ kenarı
☐ LG kenarı

Şekle ait olmayan kenar/kenarları işaretleyelim.

☐ KS kenarı
☐ ĞK kenarı
☐ FS kenarı

Şekle ait olmayan kenar/kenarları işaretleyelim.

☐ ÇG kenarı
☐ İÇ kenarı
☐ GI kenarı

Şekle ait olmayan kenar/kenarları işaretleyelim.

☐ ID kenarı
☐ IC kenarı
☐ DR kenarı

Şekle ait olmayan kenar/kenarları işaretleyelim.

☐ CP kenarı
☐ CÜ kenarı
☐ GÜ kenarı

Şekle ait olmayan kenar/kenarları işaretleyelim.

☐ MD kenarı
☐ JD kenarı
☐ DB kenarı

Şekle ait olmayan kenar/kenarları işaretleyelim.

☐ AD kenarı
☐ ZA kenarı
☐ UD kenarı

Şekle ait olmayan kenar/kenarları işaretleyelim.

☐ MI kenarı
☐ AÇ kenarı
☐ Çİ kenarı

Şekle ait olmayan kenar/kenarları işaretleyelim.

☐ Ğİ kenarı
☐ ÜĞ kenarı
☐ BI kenarı

Şekle ait olmayan kenar/kenarları işaretleyelim.

☐ FK kenarı
☐ JF kenarı
☐ YJ kenarı

SÜREÇ ODAKLI DEĞERLENDİRME ÖLÇEĞİ			
Geliştirilmeli (0-100)	İyi (101-172)	Çok İyi (173-244)	Mükemmel (245-288)
<input type="checkbox"/>	<input type="checkbox"/>	<input type="checkbox"/>	<input type="checkbox"/>

Hazırlayan:

Bu bölüme sınıfınızın ilgili kazanıma yönelik genel durumuna ilişkin gözlem ve izlenimlerinizi, öğrencilerinizin bu kazanımla ilgili öğrenme eksikliklerini ve bu eksikliklerin giderilmesi amacıyla yaptığınız/yapmayı planladığınız faaliyetleri not edebilirsiniz.

No	Adı - Soyadı	Toplam Puan	Değerlendirme
1			
2			
3			
4			
5			
6			
7			
8			
9			
10			
11			
12			
13			
14			
15			
16			
17			
18			
19			
20			
21			
22			
23			
24			
25			
26			
27			
28			
29			
30			
31			
32			
33			
34			
35			

Hazırlayan: