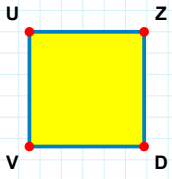
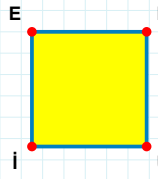


SORU: Aşağıdaki şekillerde verilen kenarlardan şekle ait olmayanı bulunuz.



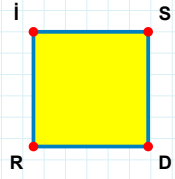
Şekle ait olmayan kenar/kenarları işaretleyelim.

- ☐ ZV kenarı
☐ DV kenarı
☐ UD kenarı



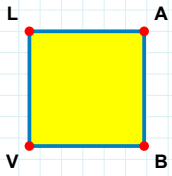
Şekle ait olmayan kenar/kenarları işaretleyelim.

- ☐ EÜ kenarı
☐ EN kenarı
☐ Nİ kenarı



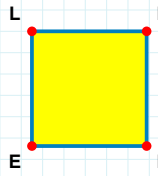
Şekle ait olmayan kenar/kenarları işaretleyelim.

- ☐ İD kenarı
☐ SR kenarı
☐ Rİ kenarı



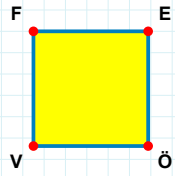
Şekle ait olmayan kenar/kenarları işaretleyelim.

- ☐ VL kenarı
☐ AV kenarı
☐ AB kenarı



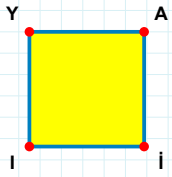
Şekle ait olmayan kenar/kenarları işaretleyelim.

- ☐ LN kenarı
☐ HE kenarı
☐ LH kenarı



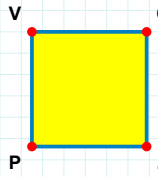
Şekle ait olmayan kenar/kenarları işaretleyelim.

- ☐ FE kenarı
☐ VF kenarı
☐ FÖ kenarı



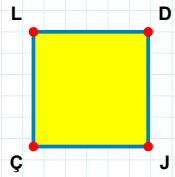
Şekle ait olmayan kenar/kenarları işaretleyelim.

- ☐ AI kenarı
☐ Yİ kenarı
☐ İY kenarı



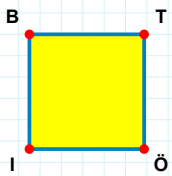
Şekle ait olmayan kenar/kenarları işaretleyelim.

- ☐ PV kenarı
☐ VZ kenarı
☐ ZP kenarı



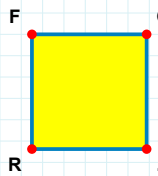
Şekle ait olmayan kenar/kenarları işaretleyelim.

- ☐ LJ kenarı
☐ JÇ kenarı
☐ DJ kenarı



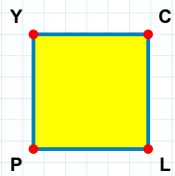
Şekle ait olmayan kenar/kenarları işaretleyelim.

- ☐ TI kenarı
☐ TÖ kenarı
☐ İB kenarı



Şekle ait olmayan kenar/kenarları işaretleyelim.

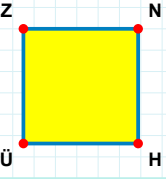
- ☐ ĞR kenarı
☐ FZ kenarı
☐ RF kenarı



Şekle ait olmayan kenar/kenarları işaretleyelim.

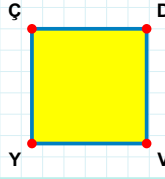
- ☐ PY kenarı
☐ CP kenarı
☐ YL kenarı

SORU: Aşağıdaki şekillerde verilen kenarlardan şekle ait olmayanı bulunuz.



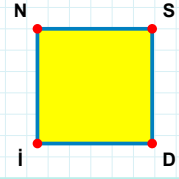
Şekle ait olmayan kenar/kenarları işaretleyelim.

- ☐ NÜ kenarı
☐ NH kenarı
☐ ZH kenarı



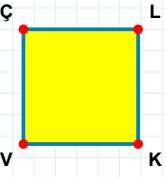
Şekle ait olmayan kenar/kenarları işaretleyelim.

- ☐ VY kenarı
☐ DY kenarı
☐ ÇV kenarı



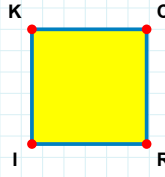
Şekle ait olmayan kenar/kenarları işaretleyelim.

- ☐ DI kenarı
☐ NS kenarı
☐ SI kenarı



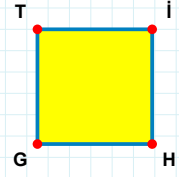
Şekle ait olmayan kenar/kenarları işaretleyelim.

- ☐ LK kenarı
☐ ÇK kenarı
☐ ÇL kenarı



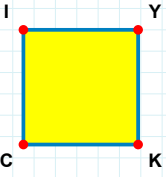
Şekle ait olmayan kenar/kenarları işaretleyelim.

- ☐ KC kenarı
☐ CI kenarı
☐ RI kenarı



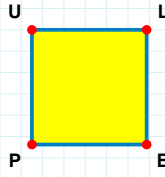
Şekle ait olmayan kenar/kenarları işaretleyelim.

- ☐ GT kenarı
☐ İH kenarı
☐ TH kenarı



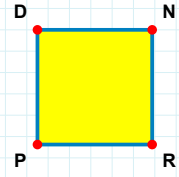
Şekle ait olmayan kenar/kenarları işaretleyelim.

- ☐ YC kenarı
☐ IY kenarı
☐ IK kenarı



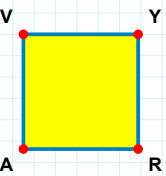
Şekle ait olmayan kenar/kenarları işaretleyelim.

- ☐ UL kenarı
☐ LB kenarı
☐ LP kenarı



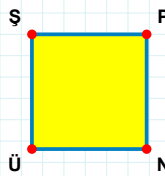
Şekle ait olmayan kenar/kenarları işaretleyelim.

- ☐ DN kenarı
☐ NP kenarı
☐ DR kenarı



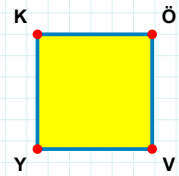
Şekle ait olmayan kenar/kenarları işaretleyelim.

- ☐ VR kenarı
☐ YR kenarı
☐ YA kenarı



Şekle ait olmayan kenar/kenarları işaretleyelim.


- ☐ ŞP kenarı
☐ PÜ kenarı
☐ ŞN kenarı



Şekle ait olmayan kenar/kenarları işaretleyelim.


- ☐ KÖ kenarı
☐ ÖY kenarı
☐ KV kenarı

SORU: Aşağıdaki şekillerde verilen kenarlardan şekle ait olmayanı bulunuz.




Şekle ait olmayan kenar/kenarları işaretleyelim.

- ☐ İC kenarı
☐ TE kenarı
☐ EC kenarı




Şekle ait olmayan kenar/kenarları işaretleyelim.

- ☐ BA kenarı
☐ AC kenarı
☐ UA kenarı




Şekle ait olmayan kenar/kenarları işaretleyelim.

- ☐ GZ kenarı
☐ ZN kenarı
☐ NG kenarı




Şekle ait olmayan kenar/kenarları işaretleyelim.

- ☐ GD kenarı
☐ DS kenarı
☐ İG kenarı




Şekle ait olmayan kenar/kenarları işaretleyelim.

- ☐ GÖ kenarı
☐ OG kenarı
☐ OK kenarı




Şekle ait olmayan kenar/kenarları işaretleyelim.

- ☐ OY kenarı
☐ İY kenarı
☐ SI kenarı




Şekle ait olmayan kenar/kenarları işaretleyelim.

- ☐ RY kenarı
☐ UY kenarı
☐ FR kenarı



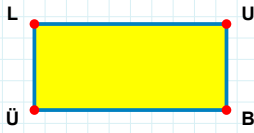
Şekle ait olmayan kenar/kenarları işaretleyelim.

- ☐ BU kenarı
☐ BG kenarı
☐ UI kenarı




Şekle ait olmayan kenar/kenarları işaretleyelim.

- ☐ PH kenarı
☐ YP kenarı
☐ SH kenarı



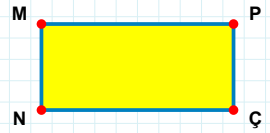
Şekle ait olmayan kenar/kenarları işaretleyelim.

- ☐ UÜ kenarı
☐ LB kenarı
☐ UB kenarı



Şekle ait olmayan kenar/kenarları işaretleyelim.


- ☐ CP kenarı
☐ ĞP kenarı
☐ CÇ kenarı



Şekle ait olmayan kenar/kenarları işaretleyelim.


- ☐ MÇ kenarı
☐ MP kenarı
☐ PN kenarı

SORU: Aşağıdaki şekillerde verilen kenarlardan şekle ait olmayanı bulunuz.




Şekle ait olmayan kenar/kenarları işaretleyelim.

- ☐ MS kenarı
☐ CS kenarı
☐ PC kenarı




Şekle ait olmayan kenar/kenarları işaretleyelim.

- ☐ KJ kenarı
☐ JT kenarı
☐ NT kenarı




Şekle ait olmayan kenar/kenarları işaretleyelim.

- ☐ TD kenarı
☐ ET kenarı
☐ DU kenarı




Şekle ait olmayan kenar/kenarları işaretleyelim.

- ☐ VC kenarı
☐ CP kenarı
☐ CI kenarı




Şekle ait olmayan kenar/kenarları işaretleyelim.

- ☐ YZ kenarı
☐ RT kenarı
☐ TY kenarı




Şekle ait olmayan kenar/kenarları işaretleyelim.

- ☐ ÇB kenarı
☐ PE kenarı
☐ ÇP kenarı




Şekle ait olmayan kenar/kenarları işaretleyelim.

- ☐ ÇA kenarı
☐ VJ kenarı
☐ AJ kenarı



Şekle ait olmayan kenar/kenarları işaretleyelim.

- ☐ IE kenarı
☐ LM kenarı
☐ IL kenarı




Şekle ait olmayan kenar/kenarları işaretleyelim.

- ☐ HM kenarı
☐ KH kenarı
☐ MÜ kenarı




Şekle ait olmayan kenar/kenarları işaretleyelim.

- ☐ KÜ kenarı
☐ KY kenarı
☐ YÇ kenarı



Şekle ait olmayan kenar/kenarları işaretleyelim.

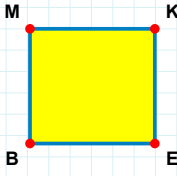
- ☐ YK kenarı
☐ KĞ kenarı
☐ ĞY kenarı



Şekle ait olmayan kenar/kenarları işaretleyelim.

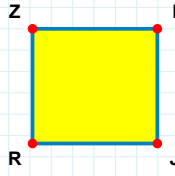
- ☐ ZU kenarı
☐ LZ kenarı
☐ LU kenarı

SORU: Aşağıdaki şekillerde verilen kenarlardan şekle ait olmayanı bulunuz.



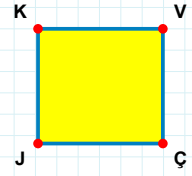
Şekle ait olmayan kenar/kenarları işaretleyelim.

- ☐ ME kenarı
☐ EB kenarı
☐ MK kenarı



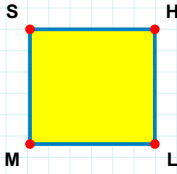
Şekle ait olmayan kenar/kenarları işaretleyelim.

- ☐ IR kenarı
☐ ZJ kenarı
☐ ZI kenarı



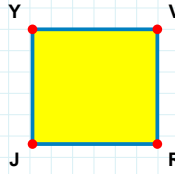
Şekle ait olmayan kenar/kenarları işaretleyelim.

- ☐ VÇ kenarı
☐ KÇ kenarı
☐ VJ kenarı



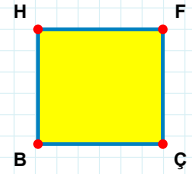
Şekle ait olmayan kenar/kenarları işaretleyelim.

- ☐ HM kenarı
☐ SH kenarı
☐ HL kenarı



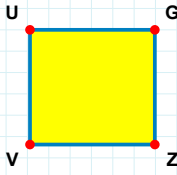
Şekle ait olmayan kenar/kenarları işaretleyelim.

- ☐ YR kenarı
☐ RJ kenarı
☐ VJ kenarı



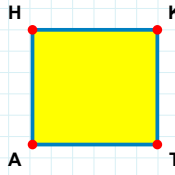
Şekle ait olmayan kenar/kenarları işaretleyelim.

- ☐ FÇ kenarı
☐ BH kenarı
☐ HÇ kenarı



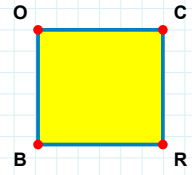
Şekle ait olmayan kenar/kenarları işaretleyelim.

- ☐ ZV kenarı
☐ UG kenarı
☐ GV kenarı



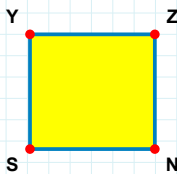
Şekle ait olmayan kenar/kenarları işaretleyelim.

- ☐ HT kenarı
☐ KA kenarı
☐ AH kenarı



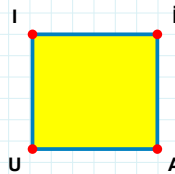
Şekle ait olmayan kenar/kenarları işaretleyelim.

- ☐ CB kenarı
☐ OR kenarı
☐ RB kenarı



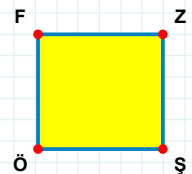
Şekle ait olmayan kenar/kenarları işaretleyelim.

- ☐ ZN kenarı
☐ NS kenarı
☐ YN kenarı



Şekle ait olmayan kenar/kenarları işaretleyelim.

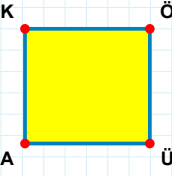
- ☐ İU kenarı
☐ IA kenarı
☐ İi kenarı



Şekle ait olmayan kenar/kenarları işaretleyelim.

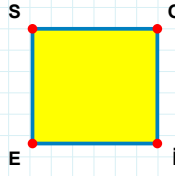
- ☐ FZ kenarı
☐ FŞ kenarı
☐ ZÖ kenarı

SORU: Aşağıdaki şekillerde verilen kenarlardan şekle ait olmayanı bulunuz.



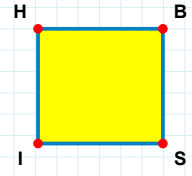
Şekle ait olmayan kenar/kenarları işaretleyelim.

- ☐ KÖ kenarı
☐ KÜ kenarı
☐ ÖA kenarı



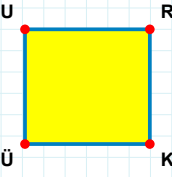
Şekle ait olmayan kenar/kenarları işaretleyelim.

- ☐ OE kenarı
☐ ES kenarı
☐ SI kenarı



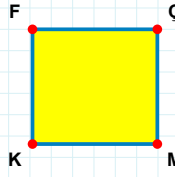
Şekle ait olmayan kenar/kenarları işaretleyelim.

- ☐ SI kenarı
☐ HS kenarı
☐ BI kenarı



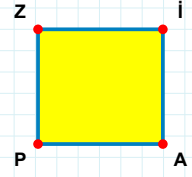
Şekle ait olmayan kenar/kenarları işaretleyelim.

- ☐ ÜU kenarı
☐ UR kenarı
☐ UK kenarı



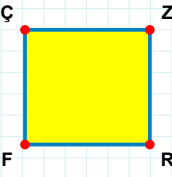
Şekle ait olmayan kenar/kenarları işaretleyelim.

- ☐ MK kenarı
☐ ÇK kenarı
☐ FÇ kenarı



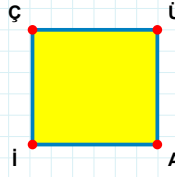
Şekle ait olmayan kenar/kenarları işaretleyelim.

- ☐ Zİ kenarı
☐ İP kenarı
☐ AP kenarı



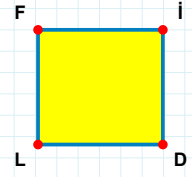
Şekle ait olmayan kenar/kenarları işaretleyelim.

- ☐ RF kenarı
☐ ZF kenarı
☐ ÇR kenarı



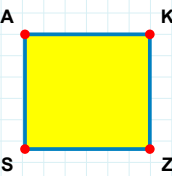
Şekle ait olmayan kenar/kenarları işaretleyelim.

- ☐ Üİ kenarı
☐ ÇA kenarı
☐ ÇÜ kenarı



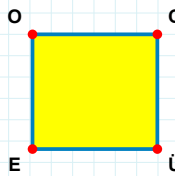
Şekle ait olmayan kenar/kenarları işaretleyelim.

- ☐ DL kenarı
☐ İD kenarı
☐ FD kenarı



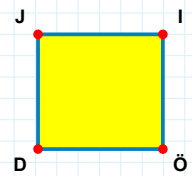
Şekle ait olmayan kenar/kenarları işaretleyelim.

- ☐ KS kenarı
☐ AZ kenarı
☐ KZ kenarı



Şekle ait olmayan kenar/kenarları işaretleyelim.

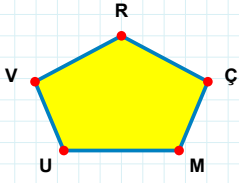
- ☐ CE kenarı
☐ OÜ kenarı
☐ OC kenarı



Şekle ait olmayan kenar/kenarları işaretleyelim.

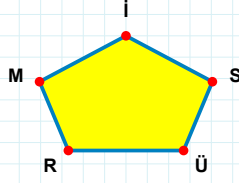
- ☐ ID kenarı
☐ JÖ kenarı
☐ Jİ kenarı

SORU: Aşağıdaki şekillerde verilen kenarlardan şekle ait olmayanı bulunuz.



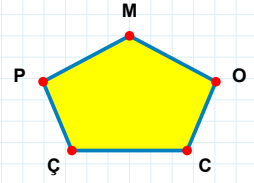
Şekle ait olmayan kenar/kenarları işaretleyelim.

- ☐ UÇ kenarı
☐ ÇR kenarı
☐ RV kenarı



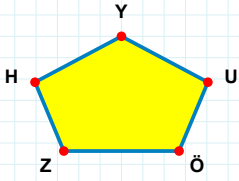
Şekle ait olmayan kenar/kenarları işaretleyelim.

- ☐ RS kenarı
☐ İR kenarı
☐ MÜ kenarı



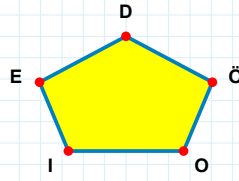
Şekle ait olmayan kenar/kenarları işaretleyelim.

- ☐ MC kenarı
☐ PO kenarı
☐ ÇO kenarı



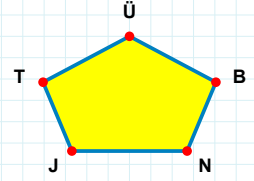
Şekle ait olmayan kenar/kenarları işaretleyelim.

- ☐ YÖ kenarı
☐ HU kenarı
☐ ZÖ kenarı



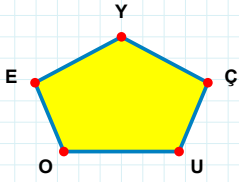
Şekle ait olmayan kenar/kenarları işaretleyelim.

- ☐ İÖ kenarı
☐ DO kenarı
☐ EÖ kenarı



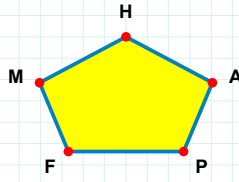
Şekle ait olmayan kenar/kenarları işaretleyelim.

- ☐ TN kenarı
☐ BÜ kenarı
☐ JN kenarı



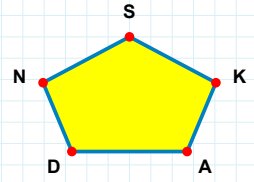
Şekle ait olmayan kenar/kenarları işaretleyelim.

- ☐ ÇY kenarı
☐ EU kenarı
☐ OÇ kenarı



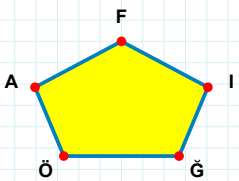
Şekle ait olmayan kenar/kenarları işaretleyelim.

- ☐ MP kenarı
☐ MF kenarı
☐ FP kenarı



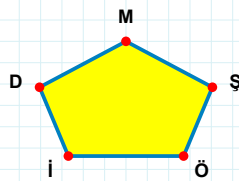
Şekle ait olmayan kenar/kenarları işaretleyelim.

- ☐ SD kenarı
☐ SA kenarı
☐ KS kenarı



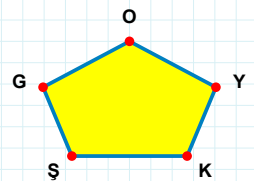
Şekle ait olmayan kenar/kenarları işaretleyelim.

- ☐ FÖ kenarı
☐ İF kenarı
☐ Ğİ kenarı



Şekle ait olmayan kenar/kenarları işaretleyelim.

- ☐ DÖ kenarı
☐ ŞM kenarı
☐ İŞ kenarı



Şekle ait olmayan kenar/kenarları işaretleyelim.

- ☐ OG kenarı
☐ GK kenarı
☐ GY kenarı

SORU: Aşağıdaki şekillerde verilen kenarlardan şekle ait olmayanı bulunuz.

Şekle ait olmayan kenar/kenarları işaretleyelim.

- ☐ FB kenarı
- ☐ ZŞ kenarı
- ☐ ŞB kenarı

Şekle ait olmayan kenar/kenarları işaretleyelim.

- ☐ PO kenarı
- ☐ CP kenarı
- ☐ CO kenarı

Şekle ait olmayan kenar/kenarları işaretleyelim.

- ☐ JĞ kenarı
- ☐ ÖD kenarı
- ☐ DĞ kenarı

Şekle ait olmayan kenar/kenarları işaretleyelim.

- ☐ SF kenarı
- ☐ FB kenarı
- ☐ BS kenarı

Şekle ait olmayan kenar/kenarları işaretleyelim.

- ☐ ZB kenarı
- ☐ HK kenarı
- ☐ HB kenarı

Şekle ait olmayan kenar/kenarları işaretleyelim.

- ☐ MĞ kenarı
- ☐ ĞI kenarı
- ☐ MI kenarı

Şekle ait olmayan kenar/kenarları işaretleyelim.

- ☐ UÖ kenarı
- ☐ UG kenarı
- ☐ GÜ kenarı

Şekle ait olmayan kenar/kenarları işaretleyelim.

- ☐ RK kenarı
- ☐ ZÇ kenarı
- ☐ ZO kenarı

Şekle ait olmayan kenar/kenarları işaretleyelim.

- ☐ CU kenarı
- ☐ ST kenarı
- ☐ CS kenarı

Şekle ait olmayan kenar/kenarları işaretleyelim.

- ☐ UD kenarı
- ☐ ÇU kenarı
- ☐ ÇD kenarı

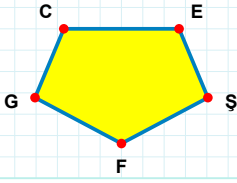
Şekle ait olmayan kenar/kenarları işaretleyelim.

- ☐ OJ kenarı
- ☐ OÇ kenarı
- ☐ MJ kenarı

Şekle ait olmayan kenar/kenarları işaretleyelim.

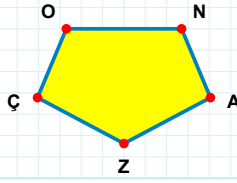
- ☐ RU kenarı
- ☐ RE kenarı
- ☐ EB kenarı

SORU: Aşağıdaki şekillerde verilen kenarlardan şekle ait olmayanı bulunuz.



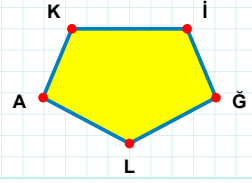
Şekle ait olmayan kenar/kenarları işaretleyelim.

- ☐ CF kenarı
☐ CE kenarı
☐ EG kenarı



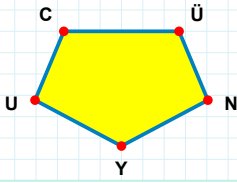
Şekle ait olmayan kenar/kenarları işaretleyelim.

- ☐ OZ kenarı
☐ OA kenarı
☐ ÇO kenarı



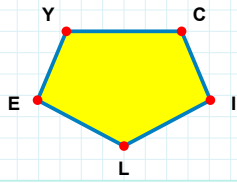
Şekle ait olmayan kenar/kenarları işaretleyelim.

- ☐ KĞ kenarı
☐ AK kenarı
☐ KL kenarı



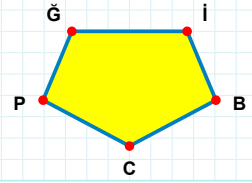
Şekle ait olmayan kenar/kenarları işaretleyelim.

- ☐ ÜN kenarı
☐ CY kenarı
☐ CN kenarı



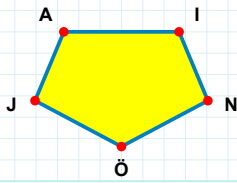
Şekle ait olmayan kenar/kenarları işaretleyelim.

- ☐ CI kenarı
☐ IE kenarı
☐ CE kenarı



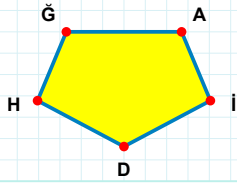
Şekle ait olmayan kenar/kenarları işaretleyelim.

- ☐ İC kenarı
☐ Ğİ kenarı
☐ ĞC kenarı



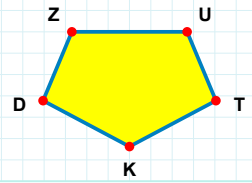
Şekle ait olmayan kenar/kenarları işaretleyelim.

- ☐ NJ kenarı
☐ İÖ kenarı
☐ İJ kenarı



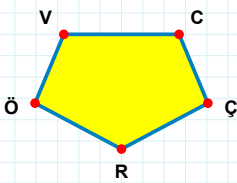
Şekle ait olmayan kenar/kenarları işaretleyelim.

- ☐ İH kenarı
☐ ĞA kenarı
☐ İD kenarı



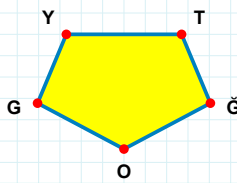
Şekle ait olmayan kenar/kenarları işaretleyelim.

- ☐ UK kenarı
☐ TD kenarı
☐ TK kenarı



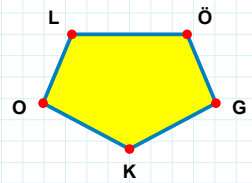
Şekle ait olmayan kenar/kenarları işaretleyelim.

- ☐ CR kenarı
☐ ÇÖ kenarı
☐ CÖ kenarı



Şekle ait olmayan kenar/kenarları işaretleyelim.

- ☐ TG kenarı
☐ TO kenarı
☐ ĞG kenarı



Şekle ait olmayan kenar/kenarları işaretleyelim.

- ☐ LÖ kenarı
☐ ÖK kenarı
☐ ÖO kenarı

SORU: Aşağıdaki şekillerde verilen kenarlardan şekle ait olmayanı bulunuz.

Şekle ait olmayan kenar/kenarları işaretleyelim.

☐ ŞP kenarı

☐ HÖ kenarı

☐ TŞ kenarı

Şekle ait olmayan kenar/kenarları işaretleyelim.

☐ IP kenarı

☐ RF kenarı

☐ RI kenarı

Şekle ait olmayan kenar/kenarları işaretleyelim.

☐ BC kenarı

☐ ZB kenarı

☐ ÜB kenarı

Şekle ait olmayan kenar/kenarları işaretleyelim.

☐ SG kenarı

☐ ES kenarı

☐ SD kenarı

Şekle ait olmayan kenar/kenarları işaretleyelim.

☐ TO kenarı

☐ OS kenarı

☐ TA kenarı

Şekle ait olmayan kenar/kenarları işaretleyelim.

☐ VF kenarı

☐ VE kenarı

☐ HE kenarı

Şekle ait olmayan kenar/kenarları işaretleyelim.

☐ FS kenarı

☐ GF kenarı

☐ GÜ kenarı

Şekle ait olmayan kenar/kenarları işaretleyelim.

☐ İT kenarı

☐ JT kenarı

☐ EJ kenarı

Şekle ait olmayan kenar/kenarları işaretleyelim.

☐ CI kenarı

☐ UE kenarı

☐ IU kenarı

Şekle ait olmayan kenar/kenarları işaretleyelim.

☐ ÇH kenarı

☐ ÇD kenarı

☐ CH kenarı

Şekle ait olmayan kenar/kenarları işaretleyelim.

☐ BS kenarı

☐ VS kenarı

☐ BÖ kenarı

Şekle ait olmayan kenar/kenarları işaretleyelim.

☐ ÖV kenarı

☐ JV kenarı

☐ JH kenarı

SORU: Aşağıdaki şekillerde verilen kenarlardan şekle ait olmayanı bulunuz.

Şekle ait olmayan kenar/kenarları işaretleyelim.

- ☐ PL kenarı
- ☐ PA kenarı
- ☐ JP kenarı

Şekle ait olmayan kenar/kenarları işaretleyelim.

- ☐ Bİ kenarı
- ☐ NM kenarı
- ☐ FG kenarı

Şekle ait olmayan kenar/kenarları işaretleyelim.

- ☐ GÇ kenarı
- ☐ ÇM kenarı
- ☐ ÇV kenarı

Şekle ait olmayan kenar/kenarları işaretleyelim.

- ☐ MN kenarı
- ☐ OV kenarı
- ☐ ON kenarı

Şekle ait olmayan kenar/kenarları işaretleyelim.

- ☐ LG kenarı
- ☐ LG kenarı
- ☐ OG kenarı

Şekle ait olmayan kenar/kenarları işaretleyelim.

- ☐ NL kenarı
- ☐ LA kenarı
- ☐ MA kenarı

Şekle ait olmayan kenar/kenarları işaretleyelim.

- ☐ İG kenarı
- ☐ FI kenarı
- ☐ GŞ kenarı

Şekle ait olmayan kenar/kenarları işaretleyelim.

- ☐ YŞ kenarı
- ☐ LN kenarı
- ☐ ŞN kenarı

Şekle ait olmayan kenar/kenarları işaretleyelim.

- ☐ KÜ kenarı
- ☐ ŞÜ kenarı
- ☐ GÜ kenarı

Şekle ait olmayan kenar/kenarları işaretleyelim.

- ☐ İY kenarı
- ☐ EY kenarı
- ☐ Öİ kenarı

Şekle ait olmayan kenar/kenarları işaretleyelim.

- ☐ UZ kenarı
- ☐ KB kenarı
- ☐ UB kenarı

Şekle ait olmayan kenar/kenarları işaretleyelim.

- ☐ İU kenarı
- ☐ İŞ kenarı
- ☐ UG kenarı

SORU: Aşağıdaki şekillerde verilen kenarlardan şekle ait olmayanı bulunuz.

Şekle ait olmayan kenar/kenarları işaretleyelim.

☐ YE kenarı
☐ İY kenarı
☐ İY kenarı

Şekle ait olmayan kenar/kenarları işaretleyelim.

☐ BÜ kenarı
☐ ÜÖ kenarı
☐ PÇ kenarı

Şekle ait olmayan kenar/kenarları işaretleyelim.

☐ KJ kenarı
☐ CN kenarı
☐ JC kenarı

Şekle ait olmayan kenar/kenarları işaretleyelim.

☐ OÇ kenarı
☐ Ğİ kenarı
☐ İB kenarı

Şekle ait olmayan kenar/kenarları işaretleyelim.

☐ ŞE kenarı
☐ ŞA kenarı
☐ TÖ kenarı

Şekle ait olmayan kenar/kenarları işaretleyelim.

☐ Yİ kenarı
☐ İM kenarı
☐ Pİ kenarı

Şekle ait olmayan kenar/kenarları işaretleyelim.

☐ FM kenarı
☐ KF kenarı
☐ RF kenarı

Şekle ait olmayan kenar/kenarları işaretleyelim.

☐ DM kenarı
☐ GH kenarı
☐ DG kenarı

Şekle ait olmayan kenar/kenarları işaretleyelim.

☐ YM kenarı
☐ YĞ kenarı
☐ CM kenarı

Şekle ait olmayan kenar/kenarları işaretleyelim.

☐ OB kenarı
☐ KÇ kenarı
☐ ŞK kenarı

Şekle ait olmayan kenar/kenarları işaretleyelim.

☐ ÜR kenarı
☐ OĞ kenarı
☐ ÜÜ kenarı

Şekle ait olmayan kenar/kenarları işaretleyelim.

☐ ĞE kenarı
☐ ÜK kenarı
☐ KE kenarı

SORU: Aşağıdaki şekillerde verilen kenarlardan şekle ait olmayanı bulunuz.

Şekle ait olmayan kenar/kenarları işaretleyelim.

- ☐ LN kenarı
- ☐ KR kenarı
- ☐ YL kenarı

Şekle ait olmayan kenar/kenarları işaretleyelim.

- ☐ SÇ kenarı
- ☐ AÇ kenarı
- ☐ BÇ kenarı

Şekle ait olmayan kenar/kenarları işaretleyelim.

- ☐ ÜV kenarı
- ☐ ZY kenarı
- ☐ ZG kenarı

Şekle ait olmayan kenar/kenarları işaretleyelim.

- ☐ FO kenarı
- ☐ MO kenarı
- ☐ HO kenarı

Şekle ait olmayan kenar/kenarları işaretleyelim.

- ☐ PF kenarı
- ☐ FI kenarı
- ☐ DJ kenarı

Şekle ait olmayan kenar/kenarları işaretleyelim.

- ☐ DO kenarı
- ☐ OJ kenarı
- ☐ JU kenarı

Şekle ait olmayan kenar/kenarları işaretleyelim.

- ☐ VÖ kenarı
- ☐ VJ kenarı
- ☐ ÖR kenarı

Şekle ait olmayan kenar/kenarları işaretleyelim.

- ☐ JP kenarı
- ☐ DK kenarı
- ☐ DF kenarı

Şekle ait olmayan kenar/kenarları işaretleyelim.

- ☐ ÖT kenarı
- ☐ NÖ kenarı
- ☐ ÖM kenarı

Şekle ait olmayan kenar/kenarları işaretleyelim.

- ☐ İÖ kenarı
- ☐ ŞF kenarı
- ☐ VF kenarı

Şekle ait olmayan kenar/kenarları işaretleyelim.

- ☐ ÖV kenarı
- ☐ ÖK kenarı
- ☐ KV kenarı

Şekle ait olmayan kenar/kenarları işaretleyelim.

- ☐ MA kenarı
- ☐ AO kenarı
- ☐ UO kenarı

SORU: Aşağıdaki şekillerde verilen kenarlardan şekle ait olmayanı bulunuz.

Şekle ait olmayan kenar/kenarları işaretleyelim.

- ☐ EY kenarı
- ☐ ŞÖ kenarı
- ☐ ŞÇ kenarı

Şekle ait olmayan kenar/kenarları işaretleyelim.

- ☐ FC kenarı
- ☐ SC kenarı
- ☐ YK kenarı

Şekle ait olmayan kenar/kenarları işaretleyelim.

- ☐ GF kenarı
- ☐ HD kenarı
- ☐ UD kenarı

Şekle ait olmayan kenar/kenarları işaretleyelim.

- ☐ LY kenarı
- ☐ YĞ kenarı
- ☐ ÇU kenarı

Şekle ait olmayan kenar/kenarları işaretleyelim.

- ☐ ŞÖ kenarı
- ☐ ŞY kenarı
- ☐ YU kenarı

Şekle ait olmayan kenar/kenarları işaretleyelim.

- ☐ GP kenarı
- ☐ UÖ kenarı
- ☐ UH kenarı

Şekle ait olmayan kenar/kenarları işaretleyelim.

- ☐ CB kenarı
- ☐ CP kenarı
- ☐ FP kenarı

Şekle ait olmayan kenar/kenarları işaretleyelim.

- ☐ ÇV kenarı
- ☐ NÖ kenarı
- ☐ İÖ kenarı

Şekle ait olmayan kenar/kenarları işaretleyelim.

- ☐ LA kenarı
- ☐ KL kenarı
- ☐ DZ kenarı

Şekle ait olmayan kenar/kenarları işaretleyelim.

- ☐ RÖ kenarı
- ☐ ÖF kenarı
- ☐ BÜ kenarı

Şekle ait olmayan kenar/kenarları işaretleyelim.

- ☐ IV kenarı
- ☐ EO kenarı
- ☐ KV kenarı

Şekle ait olmayan kenar/kenarları işaretleyelim.

- ☐ PG kenarı
- ☐ AI kenarı
- ☐ PA kenarı

SORU: Aşağıdaki şekillerde verilen kenarlardan şekle ait olmayanı bulunuz.

Şekle ait olmayan kenar/kenarları işaretleyelim.

☐ FŞ kenarı
☐ KR kenarı
☐ KB kenarı

Şekle ait olmayan kenar/kenarları işaretleyelim.

☐ FH kenarı
☐ FÖ kenarı
☐ MÇ kenarı

Şekle ait olmayan kenar/kenarları işaretleyelim.

☐ TK kenarı
☐ KÜ kenarı
☐ OM kenarı

Şekle ait olmayan kenar/kenarları işaretleyelim.

☐ OÇ kenarı
☐ BA kenarı
☐ OB kenarı

Şekle ait olmayan kenar/kenarları işaretleyelim.

☐ VĞ kenarı
☐ ZĞ kenarı
☐ UR kenarı

Şekle ait olmayan kenar/kenarları işaretleyelim.

☐ DJ kenarı
☐ JŞ kenarı
☐ HŞ kenarı

Şekle ait olmayan kenar/kenarları işaretleyelim.

☐ KP kenarı
☐ SI kenarı
☐ DI kenarı

Şekle ait olmayan kenar/kenarları işaretleyelim.

☐ NL kenarı
☐ YR kenarı
☐ LÖ kenarı

Şekle ait olmayan kenar/kenarları işaretleyelim.

☐ PD kenarı
☐ PM kenarı
☐ TD kenarı

Şekle ait olmayan kenar/kenarları işaretleyelim.

☐ VĞ kenarı
☐ UÇ kenarı
☐ KU kenarı

Şekle ait olmayan kenar/kenarları işaretleyelim.

☐ ÜK kenarı
☐ GA kenarı
☐ VG kenarı

Şekle ait olmayan kenar/kenarları işaretleyelim.

☐ JA kenarı
☐ SY kenarı
☐ PT kenarı

SORU: Aşağıdaki şekillerde verilen kenarlardan şekle ait olmayanı bulunuz.

Şekle ait olmayan kenar/kenarları işaretleyelim.

☐ ÜB kenarı
☐ VB kenarı
☐ İN kenarı

Şekle ait olmayan kenar/kenarları işaretleyelim.

☐ ÖR kenarı
☐ ĞÇ kenarı
☐ Zİ kenarı

Şekle ait olmayan kenar/kenarları işaretleyelim.

☐ ÖZ kenarı
☐ ÖJ kenarı
☐ OH kenarı

Şekle ait olmayan kenar/kenarları işaretleyelim.

☐ ĞS kenarı
☐ İĞ kenarı
☐ IC kenarı

Şekle ait olmayan kenar/kenarları işaretleyelim.

☐ JF kenarı
☐ GÜ kenarı
☐ AJ kenarı

Şekle ait olmayan kenar/kenarları işaretleyelim.

☐ İS kenarı
☐ Tİ kenarı
☐ Mİ kenarı

Şekle ait olmayan kenar/kenarları işaretleyelim.

☐ PL kenarı
☐ DÖ kenarı
☐ MĞ kenarı

Şekle ait olmayan kenar/kenarları işaretleyelim.

☐ ĞÜ kenarı
☐ EO kenarı
☐ ĞT kenarı

Şekle ait olmayan kenar/kenarları işaretleyelim.

☐ FP kenarı
☐ DS kenarı
☐ TP kenarı

Şekle ait olmayan kenar/kenarları işaretleyelim.

☐ NT kenarı
☐ IV kenarı
☐ NS kenarı

Şekle ait olmayan kenar/kenarları işaretleyelim.

☐ Şİ kenarı
☐ LO kenarı
☐ LI kenarı

Şekle ait olmayan kenar/kenarları işaretleyelim.

☐ GF kenarı
☐ ÇÜ kenarı
☐ ÜG kenarı

SORU: Aşağıdaki şekillerde verilen kenarlardan şekle ait olmayanı bulunuz.

Şekle ait olmayan kenar/kenarları işaretleyelim.

☐ ŞM kenarı

☐ EM kenarı

☐ ÜŞ kenarı

Şekle ait olmayan kenar/kenarları işaretleyelim.

☐ JB kenarı

☐ JD kenarı

☐ BI kenarı

Şekle ait olmayan kenar/kenarları işaretleyelim.

☐ ÇK kenarı

☐ MÇ kenarı

☐ MP kenarı

Şekle ait olmayan kenar/kenarları işaretleyelim.

☐ YK kenarı

☐ KD kenarı

☐ KĞ kenarı

Şekle ait olmayan kenar/kenarları işaretleyelim.

☐ ÖN kenarı

☐ NA kenarı

☐ AY kenarı

Şekle ait olmayan kenar/kenarları işaretleyelim.

☐ İJ kenarı

☐ Üİ kenarı

☐ İB kenarı

Şekle ait olmayan kenar/kenarları işaretleyelim.

☐ BD kenarı

☐ RB kenarı

☐ BK kenarı

Şekle ait olmayan kenar/kenarları işaretleyelim.

☐ ŞP kenarı

☐ ŞM kenarı

☐ NŞ kenarı

Şekle ait olmayan kenar/kenarları işaretleyelim.

☐ MY kenarı

☐ MÜ kenarı

☐ ÜK kenarı

Şekle ait olmayan kenar/kenarları işaretleyelim.

☐ UT kenarı

☐ UÜ kenarı

☐ ÜV kenarı

Şekle ait olmayan kenar/kenarları işaretleyelim.

☐ ÜP kenarı

☐ ŞÜ kenarı

☐ YŞ kenarı

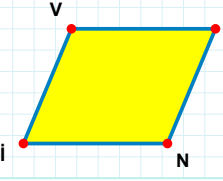
Şekle ait olmayan kenar/kenarları işaretleyelim.

☐ BN kenarı

☐ DB kenarı

☐ NE kenarı

SORU: Aşağıdaki şekillerde verilen kenarlardan şekle ait olmayanı bulunuz.

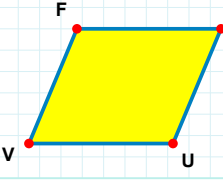


Şekle ait olmayan kenar/kenarları işaretleyelim.

☐ VN kenarı

☐ SN kenarı

☐ SI kenarı

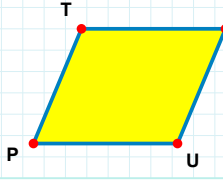


Şekle ait olmayan kenar/kenarları işaretleyelim.

☐ FU kenarı

☐ VF kenarı

☐ TV kenarı

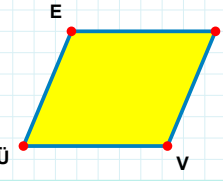


Şekle ait olmayan kenar/kenarları işaretleyelim.

☐ JP kenarı

☐ TU kenarı

☐ JU kenarı

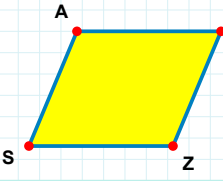


Şekle ait olmayan kenar/kenarları işaretleyelim.

☐ HÜ kenarı

☐ EV kenarı

☐ VÜ kenarı

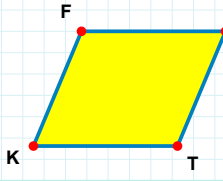


Şekle ait olmayan kenar/kenarları işaretleyelim.

☐ AZ kenarı

☐ SA kenarı

☐ YS kenarı

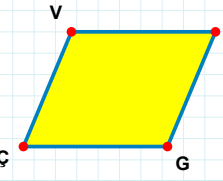


Şekle ait olmayan kenar/kenarları işaretleyelim.

☐ FT kenarı

☐ SK kenarı

☐ ST kenarı

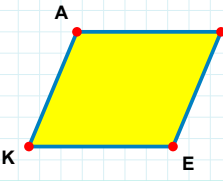


Şekle ait olmayan kenar/kenarları işaretleyelim.

☐ VG kenarı

☐ VL kenarı

☐ ÇV kenarı

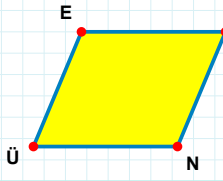


Şekle ait olmayan kenar/kenarları işaretleyelim.

☐ KA kenarı

☐ AE kenarı

☐ AH kenarı

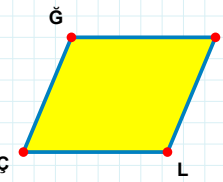


Şekle ait olmayan kenar/kenarları işaretleyelim.

☐ EN kenarı

☐ MÜ kenarı

☐ MN kenarı

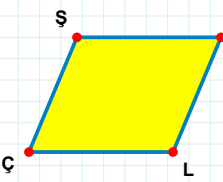


Şekle ait olmayan kenar/kenarları işaretleyelim.

☐ UÇ kenarı

☐ ĞL kenarı

☐ ÇĞ kenarı

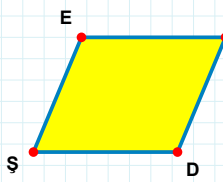


Şekle ait olmayan kenar/kenarları işaretleyelim.

☐ LÇ kenarı

☐ AÇ kenarı

☐ ŞL kenarı



Şekle ait olmayan kenar/kenarları işaretleyelim.

☐ DŞ kenarı

☐ EÖ kenarı

☐ ED kenarı

SORU: Aşağıdaki şekillerde verilen kenarlardan şekle ait olmayanı bulunuz.

Şekle ait olmayan kenar/kenarları işaretleyelim.

- ☐ GI kenarı
- ☐ GC kenarı
- ☐ IB kenarı

Şekle ait olmayan kenar/kenarları işaretleyelim.

- ☐ FO kenarı
- ☐ FP kenarı
- ☐ NF kenarı

Şekle ait olmayan kenar/kenarları işaretleyelim.

- ☐ DS kenarı
- ☐ FD kenarı
- ☐ FV kenarı

Şekle ait olmayan kenar/kenarları işaretleyelim.

- ☐ ÜF kenarı
- ☐ NI kenarı
- ☐ ÜN kenarı

Şekle ait olmayan kenar/kenarları işaretleyelim.

- ☐ BI kenarı
- ☐ BN kenarı
- ☐ NH kenarı

Şekle ait olmayan kenar/kenarları işaretleyelim.

- ☐ VZ kenarı
- ☐ HV kenarı
- ☐ HI kenarı

Şekle ait olmayan kenar/kenarları işaretleyelim.

- ☐ LN kenarı
- ☐ ÖN kenarı
- ☐ NO kenarı

Şekle ait olmayan kenar/kenarları işaretleyelim.

- ☐ ED kenarı
- ☐ SE kenarı
- ☐ DB kenarı

Şekle ait olmayan kenar/kenarları işaretleyelim.

- ☐ EF kenarı
- ☐ FI kenarı
- ☐ ID kenarı

Şekle ait olmayan kenar/kenarları işaretleyelim.

- ☐ LU kenarı
- ☐ UH kenarı
- ☐ HP kenarı

Şekle ait olmayan kenar/kenarları işaretleyelim.

- ☐ EC kenarı
- ☐ RV kenarı
- ☐ VC kenarı

Şekle ait olmayan kenar/kenarları işaretleyelim.

- ☐ VF kenarı
- ☐ YA kenarı
- ☐ VY kenarı

SORU: Aşağıdaki şekillerde verilen kenarlardan şekle ait olmayanı bulunuz.

Şekle ait olmayan kenar/kenarları işaretleyelim.

- ☐ AG kenarı
- ☐ ÜG kenarı
- ☐ ÜP kenarı

Şekle ait olmayan kenar/kenarları işaretleyelim.

- ☐ LI kenarı
- ☐ LÜ kenarı
- ☐ RÜ kenarı

Şekle ait olmayan kenar/kenarları işaretleyelim.

- ☐ TS kenarı
- ☐ SI kenarı
- ☐ İB kenarı

Şekle ait olmayan kenar/kenarları işaretleyelim.

- ☐ GZ kenarı
- ☐ NB kenarı
- ☐ BZ kenarı

Şekle ait olmayan kenar/kenarları işaretleyelim.

- ☐ SN kenarı
- ☐ NO kenarı
- ☐ PO kenarı

Şekle ait olmayan kenar/kenarları işaretleyelim.

- ☐ ÜC kenarı
- ☐ CP kenarı
- ☐ YP kenarı

Şekle ait olmayan kenar/kenarları işaretleyelim.

- ☐ ZA kenarı
- ☐ ZP kenarı
- ☐ AL kenarı

Şekle ait olmayan kenar/kenarları işaretleyelim.

- ☐ EI kenarı
- ☐ EJ kenarı
- ☐ İC kenarı

Şekle ait olmayan kenar/kenarları işaretleyelim.

- ☐ FS kenarı
- ☐ AS kenarı
- ☐ FI kenarı

Şekle ait olmayan kenar/kenarları işaretleyelim.

- ☐ JV kenarı
- ☐ JE kenarı
- ☐ ZJ kenarı

Şekle ait olmayan kenar/kenarları işaretleyelim.

- ☐ OŞ kenarı
- ☐ GŞ kenarı
- ☐ HO kenarı

Şekle ait olmayan kenar/kenarları işaretleyelim.

- ☐ MO kenarı
- ☐ DM kenarı
- ☐ ÖD kenarı

SORU: Aşağıdaki şekillerde verilen kenarlardan şekle ait olmayanı bulunuz.

Şekle ait olmayan kenar/kenarları işaretleyelim.

☐ IL kenarı
☐ ZK kenarı
☐ LZ kenarı

Şekle ait olmayan kenar/kenarları işaretleyelim.

☐ ÜJ kenarı
☐ Jİ kenarı
☐ Fİ kenarı

Şekle ait olmayan kenar/kenarları işaretleyelim.

☐ GL kenarı
☐ EG kenarı
☐ CL kenarı

Şekle ait olmayan kenar/kenarları işaretleyelim.

☐ BV kenarı
☐ VA kenarı
☐ AZ kenarı

Şekle ait olmayan kenar/kenarları işaretleyelim.

☐ LC kenarı
☐ DO kenarı
☐ LD kenarı

Şekle ait olmayan kenar/kenarları işaretleyelim.

☐ ŞT kenarı
☐ ŞJ kenarı
☐ AJ kenarı

Şekle ait olmayan kenar/kenarları işaretleyelim.

☐ BK kenarı
☐ İF kenarı
☐ FB kenarı

Şekle ait olmayan kenar/kenarları işaretleyelim.

☐ EZ kenarı
☐ ZÖ kenarı
☐ ÖG kenarı

Şekle ait olmayan kenar/kenarları işaretleyelim.

☐ UŞ kenarı
☐ ML kenarı
☐ UL kenarı

Şekle ait olmayan kenar/kenarları işaretleyelim.

☐ DN kenarı
☐ DP kenarı
☐ PF kenarı

Şekle ait olmayan kenar/kenarları işaretleyelim.

☐ AÜ kenarı
☐ HÜ kenarı
☐ HA kenarı

Şekle ait olmayan kenar/kenarları işaretleyelim.

☐ FK kenarı
☐ FO kenarı
☐ KG kenarı

SORU: Aşağıdaki şekillerde verilen kenarlardan şekle ait olmayanı bulunuz.

Şekle ait olmayan kenar/kenarları işaretleyelim.

☐ MU kenarı
☐ RM kenarı
☐ JR kenarı

Şekle ait olmayan kenar/kenarları işaretleyelim.

☐ ÜH kenarı
☐ DJ kenarı
☐ JÜ kenarı

Şekle ait olmayan kenar/kenarları işaretleyelim.

☐ ÇY kenarı
☐ YÖ kenarı
☐ YV kenarı

Şekle ait olmayan kenar/kenarları işaretleyelim.

☐ ÖI kenarı
☐ RÖ kenarı
☐ GI kenarı

Şekle ait olmayan kenar/kenarları işaretleyelim.

☐ SK kenarı
☐ TÖ kenarı
☐ KÖ kenarı

Şekle ait olmayan kenar/kenarları işaretleyelim.

☐ FÖ kenarı
☐ DA kenarı
☐ AF kenarı

Şekle ait olmayan kenar/kenarları işaretleyelim.

☐ PR kenarı
☐ RG kenarı
☐ JP kenarı

Şekle ait olmayan kenar/kenarları işaretleyelim.

☐ JZ kenarı
☐ OZ kenarı
☐ JO kenarı

Şekle ait olmayan kenar/kenarları işaretleyelim.

☐ LS kenarı
☐ PK kenarı
☐ SK kenarı

Şekle ait olmayan kenar/kenarları işaretleyelim.

☐ ĞJ kenarı
☐ SJ kenarı
☐ SV kenarı

Şekle ait olmayan kenar/kenarları işaretleyelim.

☐ ŞY kenarı
☐ JC kenarı
☐ CŞ kenarı

Şekle ait olmayan kenar/kenarları işaretleyelim.

☐ ZE kenarı
☐ EĞ kenarı
☐ EI kenarı

SORU: Aşağıdaki şekillerde verilen kenarlardan şekle ait olmayanı bulunuz.

Şekle ait olmayan kenar/kenarları işaretleyelim.

☐ LF kenarı

☐ DF kenarı

☐ İL kenarı

Şekle ait olmayan kenar/kenarları işaretleyelim.

☐ KN kenarı

☐ KÇ kenarı

☐ BÇ kenarı

Şekle ait olmayan kenar/kenarları işaretleyelim.

☐ GA kenarı

☐ AD kenarı

☐ DG kenarı

Şekle ait olmayan kenar/kenarları işaretleyelim.

☐ CK kenarı

☐ ŞK kenarı

☐ RC kenarı

Şekle ait olmayan kenar/kenarları işaretleyelim.

☐ GĞ kenarı

☐ GM kenarı

☐ ĞJ kenarı

Şekle ait olmayan kenar/kenarları işaretleyelim.

☐ FA kenarı

☐ FV kenarı

☐ VS kenarı

Şekle ait olmayan kenar/kenarları işaretleyelim.

☐ JZ kenarı

☐ JP kenarı

☐ ZF kenarı

Şekle ait olmayan kenar/kenarları işaretleyelim.

☐ NU kenarı

☐ LJ kenarı

☐ NJ kenarı

Şekle ait olmayan kenar/kenarları işaretleyelim.

☐ YV kenarı

☐ ZJ kenarı

☐ JV kenarı

Şekle ait olmayan kenar/kenarları işaretleyelim.

☐ İZ kenarı

☐ FZ kenarı

☐ İÖ kenarı

Şekle ait olmayan kenar/kenarları işaretleyelim.

☐ DR kenarı

☐ RL kenarı

☐ LH kenarı

Şekle ait olmayan kenar/kenarları işaretleyelim.

☐ YA kenarı

☐ OA kenarı

☐ İY kenarı

SORU: Aşağıdaki şekillerde verilen kenarlardan şekle ait olmayanı bulunuz.

Şekle ait olmayan kenar/kenarları işaretleyelim.

☐ CO kenarı
☐ CK kenarı
☐ KO kenarı

Şekle ait olmayan kenar/kenarları işaretleyelim.

☐ GL kenarı
☐ PA kenarı
☐ PG kenarı

Şekle ait olmayan kenar/kenarları işaretleyelim.

☐ YK kenarı
☐ SY kenarı
☐ VK kenarı

Şekle ait olmayan kenar/kenarları işaretleyelim.

☐ GÇ kenarı
☐ JÇ kenarı
☐ JE kenarı

Şekle ait olmayan kenar/kenarları işaretleyelim.

☐ İD kenarı
☐ DÜ kenarı
☐ İS kenarı

Şekle ait olmayan kenar/kenarları işaretleyelim.

☐ İV kenarı
☐ İL kenarı
☐ TL kenarı

Şekle ait olmayan kenar/kenarları işaretleyelim.

☐ ZR kenarı
☐ JÖ kenarı
☐ JR kenarı

Şekle ait olmayan kenar/kenarları işaretleyelim.

☐ BN kenarı
☐ ÜN kenarı
☐ ĞÜ kenarı

Şekle ait olmayan kenar/kenarları işaretleyelim.

☐ İJ kenarı
☐ JK kenarı
☐ BJ kenarı

Şekle ait olmayan kenar/kenarları işaretleyelim.

☐ ÇR kenarı
☐ ĞÇ kenarı
☐ GR kenarı

Şekle ait olmayan kenar/kenarları işaretleyelim.

☐ Fİ kenarı
☐ İJ kenarı
☐ FJ kenarı

Şekle ait olmayan kenar/kenarları işaretleyelim.

☐ SR kenarı
☐ VS kenarı
☐ RV kenarı

SÜREÇ ODAKLI DEĞERLENDİRME ÖLÇEĞİ			
Geliştirilmeli (0-100)	İyi (101-172)	Çok İyi (173-244)	Mükemmel (245-288)
<input type="checkbox"/>	<input type="checkbox"/>	<input type="checkbox"/>	<input type="checkbox"/>

Hazırlayan:

Bu bölüme sınıfınızın ilgili kazanıma yönelik genel durumuna ilişkin gözlem ve izlenimlerinizi, öğrencilerinizin bu kazanımla ilgili öğrenme eksikliklerini ve bu eksikliklerin giderilmesi amacıyla yaptığınız/yapmayı planladığınız faaliyetleri not edebilirsiniz.

No	Adı - Soyadı	Toplam Puan	Değerlendirme
1			
2			
3			
4			
5			
6			
7			
8			
9			
10			
11			
12			
13			
14			
15			
16			
17			
18			
19			
20			
21			
22			
23			
24			
25			
26			
27			
28			
29			
30			
31			
32			
33			
34			
35			

Hazırlayan: