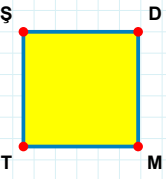
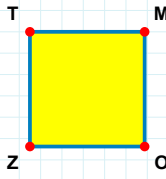


SORU: Aşağıdaki şekillerde verilen kenarlardan şekle ait olmayanı bulunuz.



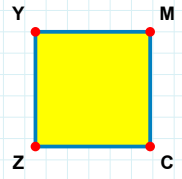
Şekle ait olmayan kenar/kenarları işaretleyelim.

- ☐ TŞ kenarı
☐ ŞD kenarı
☐ DT kenarı



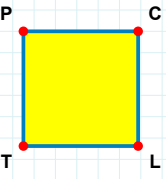
Şekle ait olmayan kenar/kenarları işaretleyelim.

- ☐ MZ kenarı
☐ OZ kenarı
☐ TM kenarı



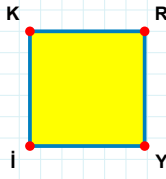
Şekle ait olmayan kenar/kenarları işaretleyelim.

- ☐ ZY kenarı
☐ MC kenarı
☐ YC kenarı



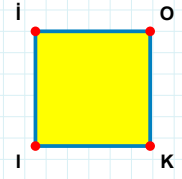
Şekle ait olmayan kenar/kenarları işaretleyelim.

- ☐ PL kenarı
☐ PC kenarı
☐ CT kenarı



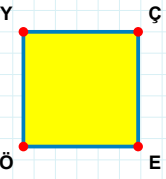
Şekle ait olmayan kenar/kenarları işaretleyelim.

- ☐ İK kenarı
☐ RI kenarı
☐ KY kenarı



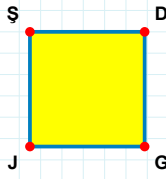
Şekle ait olmayan kenar/kenarları işaretleyelim.

- ☐ OI kenarı
☐ İI kenarı
☐ OK kenarı



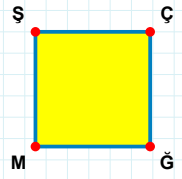
Şekle ait olmayan kenar/kenarları işaretleyelim.

- ☐ YE kenarı
☐ ÇE kenarı
☐ ÇÖ kenarı



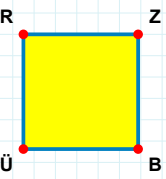
Şekle ait olmayan kenar/kenarları işaretleyelim.

- ☐ GJ kenarı
☐ DJ kenarı
☐ ŞG kenarı



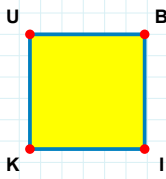
Şekle ait olmayan kenar/kenarları işaretleyelim.

- ☐ ÇM kenarı
☐ ÇĞ kenarı
☐ ŞĞ kenarı



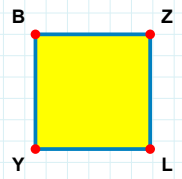
Şekle ait olmayan kenar/kenarları işaretleyelim.

- ☐ BÜ kenarı
☐ RZ kenarı
☐ ZÜ kenarı



Şekle ait olmayan kenar/kenarları işaretleyelim.

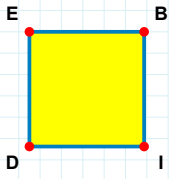
- ☐ BK kenarı
☐ UB kenarı
☐ İK kenarı



Şekle ait olmayan kenar/kenarları işaretleyelim.

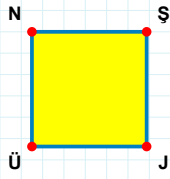
- ☐ YB kenarı
☐ BL kenarı
☐ ZY kenarı

SORU: Aşağıdaki şekillerde verilen kenarlardan şekle ait olmayanı bulunuz.



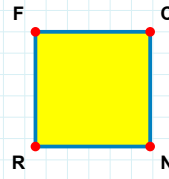
Şekle ait olmayan kenar/kenarları işaretleyelim.

- ☐ ID kenarı
☐ BD kenarı
☐ EI kenarı



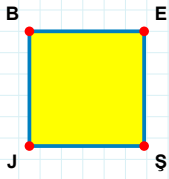
Şekle ait olmayan kenar/kenarları işaretleyelim.

- ☐ ŞJ kenarı
☐ NJ kenarı
☐ JÜ kenarı



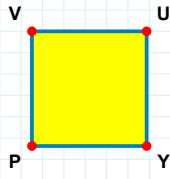
Şekle ait olmayan kenar/kenarları işaretleyelim.

- ☐ CN kenarı
☐ CR kenarı
☐ RF kenarı



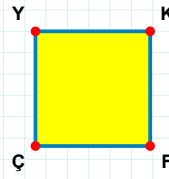
Şekle ait olmayan kenar/kenarları işaretleyelim.

- ☐ BE kenarı
☐ JB kenarı
☐ BŞ kenarı



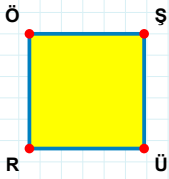
Şekle ait olmayan kenar/kenarları işaretleyelim.

- ☐ VY kenarı
☐ UP kenarı
☐ UY kenarı



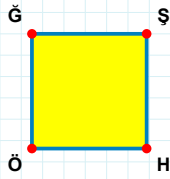
Şekle ait olmayan kenar/kenarları işaretleyelim.

- ☐ YF kenarı
☐ YK kenarı
☐ KF kenarı



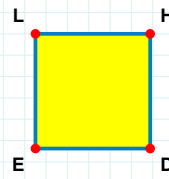
Şekle ait olmayan kenar/kenarları işaretleyelim.

- ☐ ÖÜ kenarı
☐ RÖ kenarı
☐ ŞR kenarı



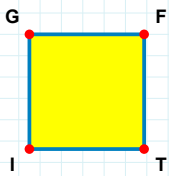
Şekle ait olmayan kenar/kenarları işaretleyelim.

- ☐ ŞH kenarı
☐ ŞÖ kenarı
☐ ĞH kenarı



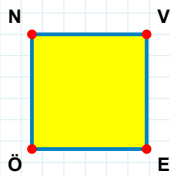
Şekle ait olmayan kenar/kenarları işaretleyelim.

- ☐ HE kenarı
☐ HD kenarı
☐ LD kenarı



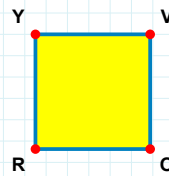
Şekle ait olmayan kenar/kenarları işaretleyelim.

- ☐ FT kenarı
☐ FI kenarı
☐ GT kenarı



Şekle ait olmayan kenar/kenarları işaretleyelim.

- ☐ EÖ kenarı
☐ VÖ kenarı
☐ NE kenarı



Şekle ait olmayan kenar/kenarları işaretleyelim.

- ☐ OR kenarı
☐ RY kenarı
☐ VR kenarı

SORU: Aşağıdaki şekillerde verilen kenarlardan şekle ait olmayanı bulunuz.




Şekle ait olmayan kenar/kenarları işaretleyelim.

- ☐ MC kenarı
☐ ÜM kenarı
☐ ÇÜ kenarı




Şekle ait olmayan kenar/kenarları işaretleyelim.

- ☐ VÇ kenarı
☐ ÇB kenarı
☐ VI kenarı




Şekle ait olmayan kenar/kenarları işaretleyelim.

- ☐ UP kenarı
☐ UY kenarı
☐ IY kenarı




Şekle ait olmayan kenar/kenarları işaretleyelim.

- ☐ ĞG kenarı
☐ JĞ kenarı
☐ JS kenarı




Şekle ait olmayan kenar/kenarları işaretleyelim.

- ☐ BE kenarı
☐ ŞN kenarı
☐ ŞB kenarı




Şekle ait olmayan kenar/kenarları işaretleyelim.

- ☐ ÇN kenarı
☐ SL kenarı
☐ SN kenarı




Şekle ait olmayan kenar/kenarları işaretleyelim.

- ☐ OŞ kenarı
☐ ÖF kenarı
☐ ŞF kenarı




Şekle ait olmayan kenar/kenarları işaretleyelim.

- ☐ ZJ kenarı
☐ MO kenarı
☐ ZM kenarı



Şekle ait olmayan kenar/kenarları işaretleyelim.

- ☐ LY kenarı
☐ HL kenarı
☐ RY kenarı




Şekle ait olmayan kenar/kenarları işaretleyelim.

- ☐ GB kenarı
☐ BC kenarı
☐ CK kenarı



Şekle ait olmayan kenar/kenarları işaretleyelim.


- ☐ ÇJ kenarı
☐ ÜJ kenarı
☐ ÜI kenarı



Şekle ait olmayan kenar/kenarları işaretleyelim.

- ☐ PV kenarı
☐ CP kenarı
☐ ŞC kenarı

SORU: Aşağıdaki şekillerde verilen kenarlardan şekle ait olmayanı bulunuz.




Şekle ait olmayan kenar/kenarları işaretleyelim.

- ☐ SN kenarı
☐ FS kenarı
☐ NY kenarı




Şekle ait olmayan kenar/kenarları işaretleyelim.

- ☐ MŞ kenarı
☐ MN kenarı
☐ FŞ kenarı




Şekle ait olmayan kenar/kenarları işaretleyelim.

- ☐ ÜF kenarı
☐ LF kenarı
☐ FU kenarı




Şekle ait olmayan kenar/kenarları işaretleyelim.

- ☐ UV kenarı
☐ UŞ kenarı
☐ MŞ kenarı



Şekle ait olmayan kenar/kenarları işaretleyelim.

- ☐ ÖĞ kenarı
☐ ÖU kenarı
☐ ĞF kenarı



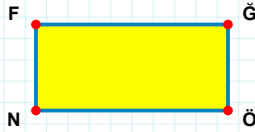
Şekle ait olmayan kenar/kenarları işaretleyelim.

- ☐ DS kenarı
☐ DB kenarı
☐ BY kenarı



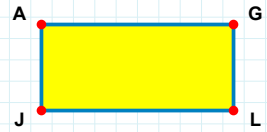
Şekle ait olmayan kenar/kenarları işaretleyelim.

- ☐ TF kenarı
☐ ST kenarı
☐ SP kenarı




Şekle ait olmayan kenar/kenarları işaretleyelim.

- ☐ FÖ kenarı
☐ ĞN kenarı
☐ ĞÖ kenarı




Şekle ait olmayan kenar/kenarları işaretleyelim.

- ☐ AL kenarı
☐ GL kenarı
☐ GJ kenarı




Şekle ait olmayan kenar/kenarları işaretleyelim.

- ☐ IE kenarı
☐ ZE kenarı
☐ ZG kenarı



Şekle ait olmayan kenar/kenarları işaretleyelim.

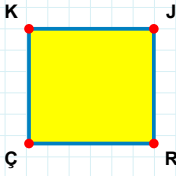
- ☐ MR kenarı
☐ RP kenarı
☐ SM kenarı



Şekle ait olmayan kenar/kenarları işaretleyelim.

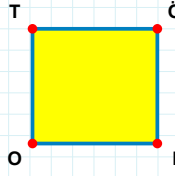
- ☐ LD kenarı
☐ İF kenarı
☐ İD kenarı

SORU: Aşağıdaki şekillerde verilen kenarlardan şekle ait olmayanı bulunuz.



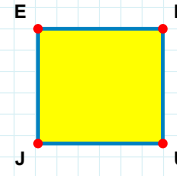
Şekle ait olmayan kenar/kenarları işaretleyelim.

- ☐ RÇ kenarı
☐ JÇ kenarı
☐ KR kenarı



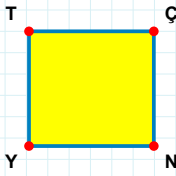
Şekle ait olmayan kenar/kenarları işaretleyelim.

- ☐ TI kenarı
☐ OT kenarı
☐ ÖI kenarı



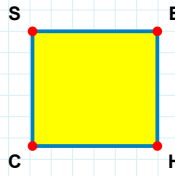
Şekle ait olmayan kenar/kenarları işaretleyelim.

- ☐ RU kenarı
☐ RJ kenarı
☐ JE kenarı



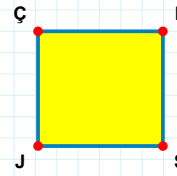
Şekle ait olmayan kenar/kenarları işaretleyelim.

- ☐ ÇY kenarı
☐ TN kenarı
☐ TÇ kenarı



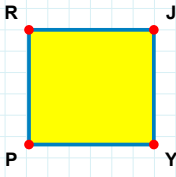
Şekle ait olmayan kenar/kenarları işaretleyelim.

- ☐ SH kenarı
☐ EH kenarı
☐ EC kenarı



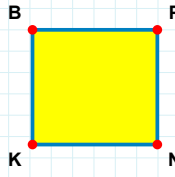
Şekle ait olmayan kenar/kenarları işaretleyelim.

- ☐ JÇ kenarı
☐ ŞJ kenarı
☐ ÇŞ kenarı



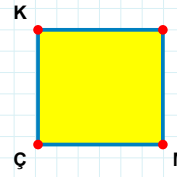
Şekle ait olmayan kenar/kenarları işaretleyelim.

- ☐ YP kenarı
☐ JP kenarı
☐ RY kenarı



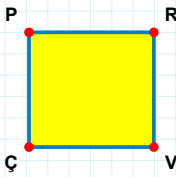
Şekle ait olmayan kenar/kenarları işaretleyelim.

- ☐ NK kenarı
☐ KB kenarı
☐ PK kenarı



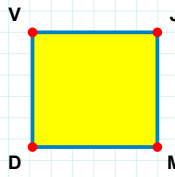
Şekle ait olmayan kenar/kenarları işaretleyelim.

- ☐ KM kenarı
☐ ÇK kenarı
☐ İÇ kenarı



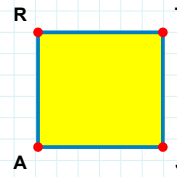
Şekle ait olmayan kenar/kenarları işaretleyelim.

- ☐ PR kenarı
☐ RÇ kenarı
☐ ÇP kenarı



Şekle ait olmayan kenar/kenarları işaretleyelim.

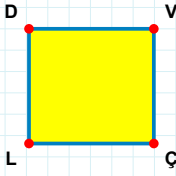
- ☐ VJ kenarı
☐ VM kenarı
☐ JD kenarı



Şekle ait olmayan kenar/kenarları işaretleyelim.

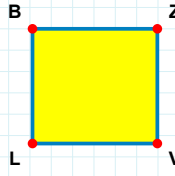
- ☐ TA kenarı
☐ RT kenarı
☐ JA kenarı

SORU: Aşağıdaki şekillerde verilen kenarlardan şekle ait olmayanı bulunuz.



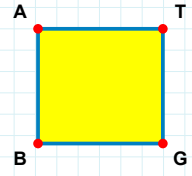
Şekle ait olmayan kenar/kenarları işaretleyelim.

- ☐ DV kenarı
☐ DÇ kenarı
☐ ÇL kenarı



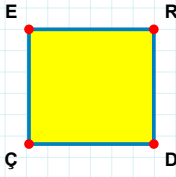
Şekle ait olmayan kenar/kenarları işaretleyelim.

- ☐ BV kenarı
☐ ZL kenarı
☐ LB kenarı



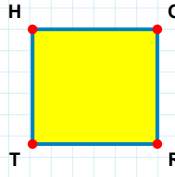
Şekle ait olmayan kenar/kenarları işaretleyelim.

- ☐ TB kenarı
☐ GB kenarı
☐ BA kenarı



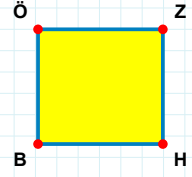
Şekle ait olmayan kenar/kenarları işaretleyelim.

- ☐ DÇ kenarı
☐ ER kenarı
☐ RÇ kenarı



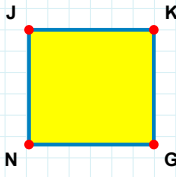
Şekle ait olmayan kenar/kenarları işaretleyelim.

- ☐ RT kenarı
☐ HR kenarı
☐ OR kenarı



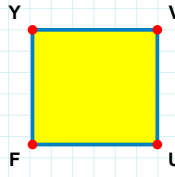
Şekle ait olmayan kenar/kenarları işaretleyelim.

- ☐ ZB kenarı
☐ ZH kenarı
☐ BÖ kenarı



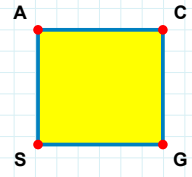
Şekle ait olmayan kenar/kenarları işaretleyelim.

- ☐ JK kenarı
☐ KN kenarı
☐ GN kenarı



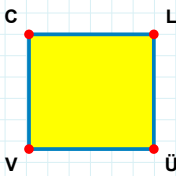
Şekle ait olmayan kenar/kenarları işaretleyelim.

- ☐ VU kenarı
☐ VF kenarı
☐ YU kenarı



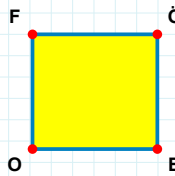
Şekle ait olmayan kenar/kenarları işaretleyelim.

- ☐ CG kenarı
☐ AG kenarı
☐ SA kenarı



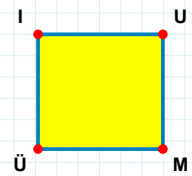
Şekle ait olmayan kenar/kenarları işaretleyelim.

- ☐ LÜ kenarı
☐ VC kenarı
☐ LV kenarı



Şekle ait olmayan kenar/kenarları işaretleyelim.

- ☐ ÖB kenarı
☐ FB kenarı
☐ ÖO kenarı



Şekle ait olmayan kenar/kenarları işaretleyelim.

- ☐ IM kenarı
☐ ÜI kenarı
☐ UÜ kenarı

SORU: Aşağıdaki şekillerde verilen kenarlardan şekle ait olmayanı bulunuz.

Şekle ait olmayan kenar/kenarları işaretleyelim.

☐ İE kenarı
☐ EB kenarı
☐ BŞ kenarı

Şekle ait olmayan kenar/kenarları işaretleyelim.

☐ ÇH kenarı
☐ LT kenarı
☐ TH kenarı

Şekle ait olmayan kenar/kenarları işaretleyelim.

☐ NI kenarı
☐ NA kenarı
☐ ŞN kenarı

Şekle ait olmayan kenar/kenarları işaretleyelim.

☐ RG kenarı
☐ ZG kenarı
☐ Mİ kenarı

Şekle ait olmayan kenar/kenarları işaretleyelim.

☐ TE kenarı
☐ İE kenarı
☐ TR kenarı

Şekle ait olmayan kenar/kenarları işaretleyelim.

☐ HA kenarı
☐ SE kenarı
☐ ST kenarı

Şekle ait olmayan kenar/kenarları işaretleyelim.

☐ ŞH kenarı
☐ ŞK kenarı
☐ NŞ kenarı

Şekle ait olmayan kenar/kenarları işaretleyelim.

☐ ŞA kenarı
☐ AV kenarı
☐ ŞS kenarı

Şekle ait olmayan kenar/kenarları işaretleyelim.

☐ TC kenarı
☐ Rİ kenarı
☐ RT kenarı

Şekle ait olmayan kenar/kenarları işaretleyelim.

☐ KH kenarı
☐ HN kenarı
☐ HT kenarı

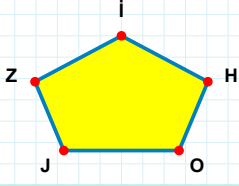
Şekle ait olmayan kenar/kenarları işaretleyelim.

☐ UZ kenarı
☐ ZY kenarı
☐ HY kenarı

Şekle ait olmayan kenar/kenarları işaretleyelim.

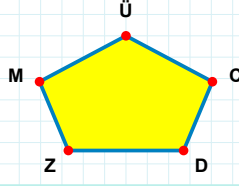
☐ MR kenarı
☐ YK kenarı
☐ RK kenarı

SORU: Aşağıdaki şekillerde verilen kenarlardan şekle ait olmayanı bulunuz.



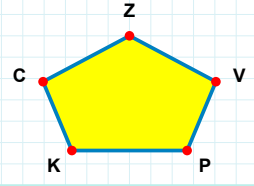
Şekle ait olmayan kenar/kenarları işaretleyelim.

- ☐ HI kenarı
☐ OH kenarı
☐ JH kenarı



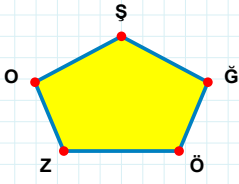
Şekle ait olmayan kenar/kenarları işaretleyelim.

- ☐ ÜM kenarı
☐ MD kenarı
☐ ÜZ kenarı



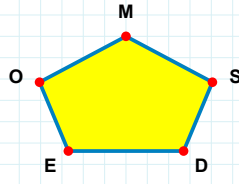
Şekle ait olmayan kenar/kenarları işaretleyelim.

- ☐ CP kenarı
☐ PV kenarı
☐ ZP kenarı



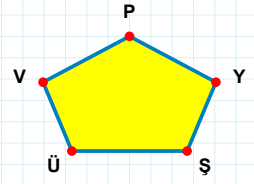
Şekle ait olmayan kenar/kenarları işaretleyelim.

- ☐ OĞ kenarı
☐ ĞŞ kenarı
☐ ŞZ kenarı



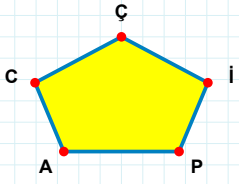
Şekle ait olmayan kenar/kenarları işaretleyelim.

- ☐ ES kenarı
☐ OS kenarı
☐ SM kenarı



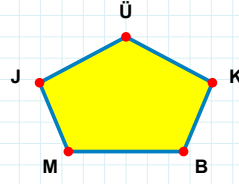
Şekle ait olmayan kenar/kenarları işaretleyelim.

- ☐ YP kenarı
☐ PŞ kenarı
☐ ÜY kenarı



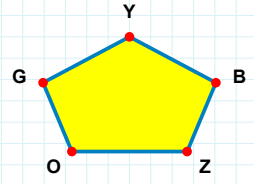
Şekle ait olmayan kenar/kenarları işaretleyelim.

- ☐ PI kenarı
☐ ÇP kenarı
☐ AI kenarı



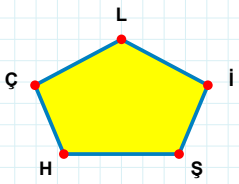
Şekle ait olmayan kenar/kenarları işaretleyelim.

- ☐ ÜB kenarı
☐ ÜM kenarı
☐ MK kenarı



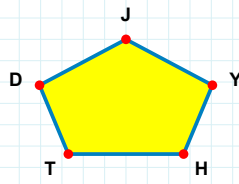
Şekle ait olmayan kenar/kenarları işaretleyelim.

- ☐ GB kenarı
☐ YG kenarı
☐ YZ kenarı



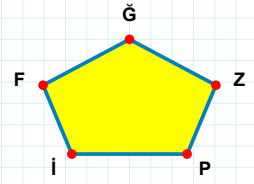
Şekle ait olmayan kenar/kenarları işaretleyelim.

- ☐ LŞ kenarı
☐ HI kenarı
☐ Şİ kenarı



Şekle ait olmayan kenar/kenarları işaretleyelim.

- ☐ DH kenarı
☐ JH kenarı
☐ HY kenarı



Şekle ait olmayan kenar/kenarları işaretleyelim.

- ☐ Ğİ kenarı
☐ PZ kenarı
☐ FZ kenarı

SORU: Aşağıdaki şekillerde verilen kenarlardan şekle ait olmayanı bulunuz.

Şekle ait olmayan kenar/kenarları işaretleyelim.

☐ IK kenarı

☐ AK kenarı

☐ VI kenarı

Şekle ait olmayan kenar/kenarları işaretleyelim.

☐ OA kenarı

☐ İA kenarı

☐ BO kenarı

Şekle ait olmayan kenar/kenarları işaretleyelim.

☐ UK kenarı

☐ KĞ kenarı

☐ GU kenarı

Şekle ait olmayan kenar/kenarları işaretleyelim.

☐ KC kenarı

☐ YP kenarı

☐ ŞK kenarı

Şekle ait olmayan kenar/kenarları işaretleyelim.

☐ ŞB kenarı

☐ LŞ kenarı

☐ MB kenarı

Şekle ait olmayan kenar/kenarları işaretleyelim.

☐ ÇY kenarı

☐ ÇM kenarı

☐ MP kenarı

Şekle ait olmayan kenar/kenarları işaretleyelim.

☐ NM kenarı

☐ NŞ kenarı

☐ ÜN kenarı

Şekle ait olmayan kenar/kenarları işaretleyelim.

☐ DA kenarı

☐ AY kenarı

☐ AP kenarı

Şekle ait olmayan kenar/kenarları işaretleyelim.

☐ ZF kenarı

☐ DG kenarı

☐ ZG kenarı

Şekle ait olmayan kenar/kenarları işaretleyelim.

☐ MÖ kenarı

☐ LF kenarı

☐ ŞF kenarı

Şekle ait olmayan kenar/kenarları işaretleyelim.

☐ CŞ kenarı

☐ DV kenarı

☐ Şİ kenarı

Şekle ait olmayan kenar/kenarları işaretleyelim.

☐ İÇ kenarı

☐ TH kenarı

☐ Hİ kenarı

SORU: Aşağıdaki şekillerde verilen kenarlardan şekle ait olmayanı bulunuz.

Şekle ait olmayan kenar/kenarları işaretleyelim.

☐ FO kenarı

☐ ŞZ kenarı

☐ ŞF kenarı

Şekle ait olmayan kenar/kenarları işaretleyelim.

☐ DB kenarı

☐ DÖ kenarı

☐ BL kenarı

Şekle ait olmayan kenar/kenarları işaretleyelim.

☐ ÇŞ kenarı

☐ IY kenarı

☐ ŞI kenarı

Şekle ait olmayan kenar/kenarları işaretleyelim.

☐ RG kenarı

☐ LG kenarı

☐ ÖL kenarı

Şekle ait olmayan kenar/kenarları işaretleyelim.

☐ ĞÜ kenarı

☐ ÇÜ kenarı

☐ YÇ kenarı

Şekle ait olmayan kenar/kenarları işaretleyelim.

☐ PJ kenarı

☐ ÖL kenarı

☐ TL kenarı

Şekle ait olmayan kenar/kenarları işaretleyelim.

☐ ID kenarı

☐ ÇI kenarı

☐ DT kenarı

Şekle ait olmayan kenar/kenarları işaretleyelim.

☐ ÜD kenarı

☐ DH kenarı

☐ VÜ kenarı

Şekle ait olmayan kenar/kenarları işaretleyelim.

☐ FÇ kenarı

☐ HO kenarı

☐ ÇT kenarı

Şekle ait olmayan kenar/kenarları işaretleyelim.

☐ ÖÜ kenarı

☐ OÖ kenarı

☐ VÜ kenarı

Şekle ait olmayan kenar/kenarları işaretleyelim.

☐ ÇE kenarı

☐ Oİ kenarı

☐ EO kenarı

Şekle ait olmayan kenar/kenarları işaretleyelim.

☐ İB kenarı

☐ ÜF kenarı

☐ FB kenarı

SORU: Aşağıdaki şekillerde verilen kenarlardan şekle ait olmayanı bulunuz.

Şekle ait olmayan kenar/kenarları işaretleyelim.

☐ JÜ kenarı

☐ VS kenarı

☐ GJ kenarı

Şekle ait olmayan kenar/kenarları işaretleyelim.

☐ ZJ kenarı

☐ ZY kenarı

☐ IY kenarı

Şekle ait olmayan kenar/kenarları işaretleyelim.

☐ ÖP kenarı

☐ ÜÖ kenarı

☐ CÖ kenarı

Şekle ait olmayan kenar/kenarları işaretleyelim.

☐ BA kenarı

☐ BF kenarı

☐ YB kenarı

Şekle ait olmayan kenar/kenarları işaretleyelim.

☐ FÖ kenarı

☐ VÖ kenarı

☐ EI kenarı

Şekle ait olmayan kenar/kenarları işaretleyelim.

☐ IF kenarı

☐ BI kenarı

☐ BT kenarı

Şekle ait olmayan kenar/kenarları işaretleyelim.

☐ KÇ kenarı

☐ BT kenarı

☐ TM kenarı

Şekle ait olmayan kenar/kenarları işaretleyelim.

☐ ĞV kenarı

☐ CV kenarı

☐ Üİ kenarı

Şekle ait olmayan kenar/kenarları işaretleyelim.

☐ ÇS kenarı

☐ SM kenarı

☐ ÇL kenarı

Şekle ait olmayan kenar/kenarları işaretleyelim.

☐ RG kenarı

☐ GJ kenarı

☐ GY kenarı

Şekle ait olmayan kenar/kenarları işaretleyelim.

☐ MK kenarı

☐ MB kenarı

☐ BK kenarı

Şekle ait olmayan kenar/kenarları işaretleyelim.

☐ OF kenarı

☐ ÇO kenarı

☐ ÇS kenarı

SORU: Aşağıdaki şekillerde verilen kenarlardan şekle ait olmayanı bulunuz.

Şekle ait olmayan kenar/kenarları işaretleyelim.

☐ CE kenarı
☐ EU kenarı
☐ GU kenarı

Şekle ait olmayan kenar/kenarları işaretleyelim.

☐ HG kenarı
☐ RP kenarı
☐ HR kenarı

Şekle ait olmayan kenar/kenarları işaretleyelim.

☐ YN kenarı
☐ DN kenarı
☐ OY kenarı

Şekle ait olmayan kenar/kenarları işaretleyelim.

☐ HS kenarı
☐ BO kenarı
☐ OS kenarı

Şekle ait olmayan kenar/kenarları işaretleyelim.

☐ PU kenarı
☐ MP kenarı
☐ MB kenarı

Şekle ait olmayan kenar/kenarları işaretleyelim.

☐ TI kenarı
☐ İU kenarı
☐ TH kenarı

Şekle ait olmayan kenar/kenarları işaretleyelim.

☐ CP kenarı
☐ İP kenarı
☐ ÖÇ kenarı

Şekle ait olmayan kenar/kenarları işaretleyelim.

☐ FC kenarı
☐ FI kenarı
☐ BC kenarı

Şekle ait olmayan kenar/kenarları işaretleyelim.

☐ UM kenarı
☐ ZR kenarı
☐ ZU kenarı

Şekle ait olmayan kenar/kenarları işaretleyelim.

☐ PÖ kenarı
☐ Öİ kenarı
☐ RÖ kenarı

Şekle ait olmayan kenar/kenarları işaretleyelim.

☐ ŞH kenarı
☐ TH kenarı
☐ İT kenarı

Şekle ait olmayan kenar/kenarları işaretleyelim.

☐ KŞ kenarı
☐ ÜO kenarı
☐ GO kenarı

SORU: Aşağıdaki şekillerde verilen kenarlardan şekle ait olmayanı bulunuz.

Şekle ait olmayan kenar/kenarları işaretleyelim.

☐ YR kenarı

☐ ŞU kenarı

☐ TN kenarı

Şekle ait olmayan kenar/kenarları işaretleyelim.

☐ YL kenarı

☐ LP kenarı

☐ IP kenarı

Şekle ait olmayan kenar/kenarları işaretleyelim.

☐ ÖÜ kenarı

☐ ĞR kenarı

☐ ÜS kenarı

Şekle ait olmayan kenar/kenarları işaretleyelim.

☐ AT kenarı

☐ UF kenarı

☐ ĞT kenarı

Şekle ait olmayan kenar/kenarları işaretleyelim.

☐ YE kenarı

☐ VY kenarı

☐ PV kenarı

Şekle ait olmayan kenar/kenarları işaretleyelim.

☐ UT kenarı

☐ UB kenarı

☐ UZ kenarı

Şekle ait olmayan kenar/kenarları işaretleyelim.

☐ YE kenarı

☐ EŞ kenarı

☐ ÜE kenarı

Şekle ait olmayan kenar/kenarları işaretleyelim.

☐ GĞ kenarı

☐ LM kenarı

☐ ÖH kenarı

Şekle ait olmayan kenar/kenarları işaretleyelim.

☐ CÖ kenarı

☐ ÖÇ kenarı

☐ Cİ kenarı

Şekle ait olmayan kenar/kenarları işaretleyelim.

☐ RI kenarı

☐ İD kenarı

☐ OD kenarı

Şekle ait olmayan kenar/kenarları işaretleyelim.

☐ FB kenarı

☐ YM kenarı

☐ SM kenarı

Şekle ait olmayan kenar/kenarları işaretleyelim.

☐ RL kenarı

☐ JÜ kenarı

☐ ÜU kenarı

SORU: Aşağıdaki şekillerde verilen kenarlardan şekle ait olmayanı bulunuz.

Şekle ait olmayan kenar/kenarları işaretleyelim.

☐ Fİ kenarı

☐ JĞ kenarı

☐ ĞE kenarı

Şekle ait olmayan kenar/kenarları işaretleyelim.

☐ FH kenarı

☐ ŞF kenarı

☐ RM kenarı

Şekle ait olmayan kenar/kenarları işaretleyelim.

☐ FÖ kenarı

☐ ĞZ kenarı

☐ İĞ kenarı

Şekle ait olmayan kenar/kenarları işaretleyelim.

☐ CI kenarı

☐ AC kenarı

☐ ÇC kenarı

Şekle ait olmayan kenar/kenarları işaretleyelim.

☐ CM kenarı

☐ ME kenarı

☐ CJ kenarı

Şekle ait olmayan kenar/kenarları işaretleyelim.

☐ JY kenarı

☐ JE kenarı

☐ ŞJ kenarı

Şekle ait olmayan kenar/kenarları işaretleyelim.

☐ ZF kenarı

☐ VĞ kenarı

☐ RZ kenarı

Şekle ait olmayan kenar/kenarları işaretleyelim.

☐ PH kenarı

☐ HA kenarı

☐ AM kenarı

Şekle ait olmayan kenar/kenarları işaretleyelim.

☐ BÇ kenarı

☐ UY kenarı

☐ BU kenarı

Şekle ait olmayan kenar/kenarları işaretleyelim.

☐ YJ kenarı

☐ TY kenarı

☐ LT kenarı

Şekle ait olmayan kenar/kenarları işaretleyelim.

☐ LA kenarı

☐ NA kenarı

☐ NŞ kenarı

Şekle ait olmayan kenar/kenarları işaretleyelim.

☐ KV kenarı

☐ AC kenarı

☐ GA kenarı

SORU: Aşağıdaki şekillerde verilen kenarlardan şekle ait olmayanı bulunuz.

Şekle ait olmayan kenar/kenarları işaretleyelim.

☐ PD kenarı

☐ JA kenarı

☐ JŞ kenarı

Şekle ait olmayan kenar/kenarları işaretleyelim.

☐ ÜÖ kenarı

☐ FÖ kenarı

☐ UH kenarı

Şekle ait olmayan kenar/kenarları işaretleyelim.

☐ OK kenarı

☐ TE kenarı

☐ KÜ kenarı

Şekle ait olmayan kenar/kenarları işaretleyelim.

☐ HŞ kenarı

☐ OŞ kenarı

☐ DÖ kenarı

Şekle ait olmayan kenar/kenarları işaretleyelim.

☐ TU kenarı

☐ RU kenarı

☐ ĞR kenarı

Şekle ait olmayan kenar/kenarları işaretleyelim.

☐ Yİ kenarı

☐ PŞ kenarı

☐ İŞ kenarı

Şekle ait olmayan kenar/kenarları işaretleyelim.

☐ UF kenarı

☐ UL kenarı

☐ LY kenarı

Şekle ait olmayan kenar/kenarları işaretleyelim.

☐ JK kenarı

☐ MV kenarı

☐ KÇ kenarı

Şekle ait olmayan kenar/kenarları işaretleyelim.

☐ ÜU kenarı

☐ HS kenarı

☐ ÇS kenarı

Şekle ait olmayan kenar/kenarları işaretleyelim.

☐ RL kenarı

☐ İB kenarı

☐ ÇY kenarı

Şekle ait olmayan kenar/kenarları işaretleyelim.

☐ Vİ kenarı

☐ İÜ kenarı

☐ İG kenarı

Şekle ait olmayan kenar/kenarları işaretleyelim.

☐ AC kenarı

☐ CZ kenarı

☐ ÇZ kenarı

SORU: Aşağıdaki şekillerde verilen kenarlardan şekle ait olmayanı bulunuz.

Şekle ait olmayan kenar/kenarları işaretleyelim.

☐ RL kenarı

☐ TÇ kenarı

☐ ÇĞ kenarı

Şekle ait olmayan kenar/kenarları işaretleyelim.

☐ KE kenarı

☐ KJ kenarı

☐ ĞŞ kenarı

Şekle ait olmayan kenar/kenarları işaretleyelim.

☐ CL kenarı

☐ YP kenarı

☐ OF kenarı

Şekle ait olmayan kenar/kenarları işaretleyelim.

☐ GA kenarı

☐ KI kenarı

☐ GK kenarı

Şekle ait olmayan kenar/kenarları işaretleyelim.

☐ EI kenarı

☐ TO kenarı

☐ TN kenarı

Şekle ait olmayan kenar/kenarları işaretleyelim.

☐ AP kenarı

☐ AE kenarı

☐ HA kenarı

Şekle ait olmayan kenar/kenarları işaretleyelim.

☐ LC kenarı

☐ CT kenarı

☐ TN kenarı

Şekle ait olmayan kenar/kenarları işaretleyelim.

☐ ZJ kenarı

☐ CR kenarı

☐ ZE kenarı

Şekle ait olmayan kenar/kenarları işaretleyelim.

☐ ÇÖ kenarı

☐ ÖT kenarı

☐ ZE kenarı

Şekle ait olmayan kenar/kenarları işaretleyelim.

☐ EU kenarı

☐ OJ kenarı

☐ DŞ kenarı

Şekle ait olmayan kenar/kenarları işaretleyelim.

☐ LÇ kenarı

☐ JU kenarı

☐ VÇ kenarı

Şekle ait olmayan kenar/kenarları işaretleyelim.

☐ YN kenarı

☐ LT kenarı

☐ BT kenarı

SORU: Aşağıdaki şekillerde verilen kenarlardan şekle ait olmayanı bulunuz.

Şekle ait olmayan kenar/kenarları işaretleyelim.

☐ UO kenarı
☐ VU kenarı
☐ GU kenarı

Şekle ait olmayan kenar/kenarları işaretleyelim.

☐ ÜK kenarı
☐ YJ kenarı
☐ KY kenarı

Şekle ait olmayan kenar/kenarları işaretleyelim.

☐ ŞÜ kenarı
☐ GU kenarı
☐ GÜ kenarı

Şekle ait olmayan kenar/kenarları işaretleyelim.

☐ ÇC kenarı
☐ ÇH kenarı
☐ HJ kenarı

Şekle ait olmayan kenar/kenarları işaretleyelim.

☐ ÜT kenarı
☐ Üİ kenarı
☐ Tİ kenarı

Şekle ait olmayan kenar/kenarları işaretleyelim.

☐ PÖ kenarı
☐ PH kenarı
☐ ĞÖ kenarı

Şekle ait olmayan kenar/kenarları işaretleyelim.

☐ JB kenarı
☐ KB kenarı
☐ KJ kenarı

Şekle ait olmayan kenar/kenarları işaretleyelim.

☐ NÜ kenarı
☐ OF kenarı
☐ OÜ kenarı

Şekle ait olmayan kenar/kenarları işaretleyelim.

☐ KA kenarı
☐ AO kenarı
☐ ZO kenarı

Şekle ait olmayan kenar/kenarları işaretleyelim.

☐ Eİ kenarı
☐ CF kenarı
☐ EF kenarı

Şekle ait olmayan kenar/kenarları işaretleyelim.

☐ EN kenarı
☐ RN kenarı
☐ RM kenarı

Şekle ait olmayan kenar/kenarları işaretleyelim.

☐ CL kenarı
☐ CS kenarı
☐ LĞ kenarı

SORU: Aşağıdaki şekillerde verilen kenarlardan şekle ait olmayanı bulunuz.

Şekle ait olmayan kenar/kenarları işaretleyelim.

☐ İĞ kenarı

☐ ĞT kenarı

☐ Tİ kenarı

Şekle ait olmayan kenar/kenarları işaretleyelim.

☐ TŞ kenarı

☐ ET kenarı

☐ TU kenarı

Şekle ait olmayan kenar/kenarları işaretleyelim.

☐ ÖG kenarı

☐ GE kenarı

☐ UG kenarı

Şekle ait olmayan kenar/kenarları işaretleyelim.

☐ ÖB kenarı

☐ DJ kenarı

☐ BD kenarı

Şekle ait olmayan kenar/kenarları işaretleyelim.

☐ ŞC kenarı

☐ ÜC kenarı

☐ SŞ kenarı

Şekle ait olmayan kenar/kenarları işaretleyelim.

☐ MH kenarı

☐ RH kenarı

☐ RM kenarı

Şekle ait olmayan kenar/kenarları işaretleyelim.

☐ JT kenarı

☐ PĞ kenarı

☐ PJ kenarı

Şekle ait olmayan kenar/kenarları işaretleyelim.

☐ İM kenarı

☐ CM kenarı

☐ İA kenarı

Şekle ait olmayan kenar/kenarları işaretleyelim.

☐ HK kenarı

☐ İK kenarı

☐ İH kenarı

Şekle ait olmayan kenar/kenarları işaretleyelim.

☐ JC kenarı

☐ YE kenarı

☐ YJ kenarı

Şekle ait olmayan kenar/kenarları işaretleyelim.

☐ LC kenarı

☐ GL kenarı

☐ YC kenarı

Şekle ait olmayan kenar/kenarları işaretleyelim.

☐ PY kenarı

☐ HÖ kenarı

☐ PÖ kenarı

SORU: Aşağıdaki şekillerde verilen kenarlardan şekle ait olmayanı bulunuz.

Şekle ait olmayan kenar/kenarları işaretleyelim.

- ☐ UB kenarı
- ☐ Zİ kenarı
- ☐ UZ kenarı

Şekle ait olmayan kenar/kenarları işaretleyelim.

- ☐ GL kenarı
- ☐ Zİ kenarı
- ☐ IL kenarı

Şekle ait olmayan kenar/kenarları işaretleyelim.

- ☐ JÇ kenarı
- ☐ AJ kenarı
- ☐ ÇC kenarı

Şekle ait olmayan kenar/kenarları işaretleyelim.

- ☐ PL kenarı
- ☐ LF kenarı
- ☐ PF kenarı

Şekle ait olmayan kenar/kenarları işaretleyelim.

- ☐ İT kenarı
- ☐ IP kenarı
- ☐ İI kenarı

Şekle ait olmayan kenar/kenarları işaretleyelim.

- ☐ ÖG kenarı
- ☐ GG kenarı
- ☐ MÖ kenarı

Şekle ait olmayan kenar/kenarları işaretleyelim.

- ☐ SK kenarı
- ☐ KA kenarı
- ☐ ÜS kenarı

Şekle ait olmayan kenar/kenarları işaretleyelim.

- ☐ İB kenarı
- ☐ NY kenarı
- ☐ Nİ kenarı

Şekle ait olmayan kenar/kenarları işaretleyelim.

- ☐ JB kenarı
- ☐ OG kenarı
- ☐ BO kenarı

Şekle ait olmayan kenar/kenarları işaretleyelim.

- ☐ ÇA kenarı
- ☐ RÇ kenarı
- ☐ RA kenarı

Şekle ait olmayan kenar/kenarları işaretleyelim.

- ☐ KZ kenarı
- ☐ MK kenarı
- ☐ ÜZ kenarı

Şekle ait olmayan kenar/kenarları işaretleyelim.

- ☐ RM kenarı
- ☐ MĞ kenarı
- ☐ GR kenarı

SORU: Aşağıdaki şekillerde verilen kenarlardan şekle ait olmayanı bulunuz.

Şekle ait olmayan kenar/kenarları işaretleyelim.

- ☐ SA kenarı
- ☐ AE kenarı
- ☐ ÜS kenarı

Şekle ait olmayan kenar/kenarları işaretleyelim.

- ☐ UE kenarı
- ☐ UG kenarı
- ☐ TG kenarı

Şekle ait olmayan kenar/kenarları işaretleyelim.

- ☐ ÖŞ kenarı
- ☐ VÖ kenarı
- ☐ Şİ kenarı

Şekle ait olmayan kenar/kenarları işaretleyelim.

- ☐ BK kenarı
- ☐ MC kenarı
- ☐ MB kenarı

Şekle ait olmayan kenar/kenarları işaretleyelim.

- ☐ FT kenarı
- ☐ TZ kenarı
- ☐ ZF kenarı

Şekle ait olmayan kenar/kenarları işaretleyelim.

- ☐ EN kenarı
- ☐ EH kenarı
- ☐ NF kenarı

Şekle ait olmayan kenar/kenarları işaretleyelim.

- ☐ TL kenarı
- ☐ ŞL kenarı
- ☐ İT kenarı

Şekle ait olmayan kenar/kenarları işaretleyelim.

- ☐ HŞ kenarı
- ☐ AŞ kenarı
- ☐ İH kenarı

Şekle ait olmayan kenar/kenarları işaretleyelim.

- ☐ FC kenarı
- ☐ EF kenarı
- ☐ EU kenarı

Şekle ait olmayan kenar/kenarları işaretleyelim.

- ☐ NB kenarı
- ☐ NF kenarı
- ☐ FD kenarı

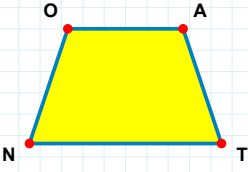
Şekle ait olmayan kenar/kenarları işaretleyelim.

- ☐ VT kenarı
- ☐ JZ kenarı
- ☐ VJ kenarı

Şekle ait olmayan kenar/kenarları işaretleyelim.

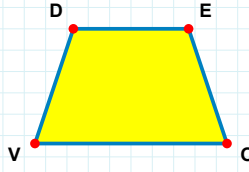
- ☐ DZ kenarı
- ☐ ÇD kenarı
- ☐ ZA kenarı

SORU: Aşağıdaki şekillerde verilen kenarlardan şekle ait olmayanı bulunuz.



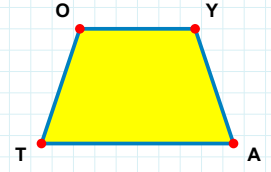
Şekle ait olmayan kenar/kenarları işaretleyelim.

- ☐ OT kenarı
☐ AN kenarı
☐ NO kenarı



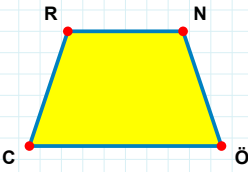
Şekle ait olmayan kenar/kenarları işaretleyelim.

- ☐ DO kenarı
☐ EV kenarı
☐ OV kenarı



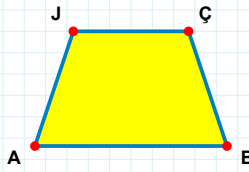
Şekle ait olmayan kenar/kenarları işaretleyelim.

- ☐ OA kenarı
☐ YT kenarı
☐ YA kenarı



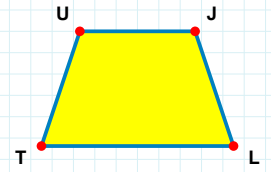
Şekle ait olmayan kenar/kenarları işaretleyelim.

- ☐ CR kenarı
☐ NC kenarı
☐ NÖ kenarı



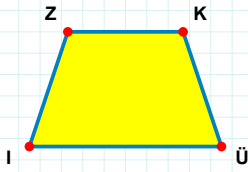
Şekle ait olmayan kenar/kenarları işaretleyelim.

- ☐ ÇA kenarı
☐ JB kenarı
☐ ÇB kenarı



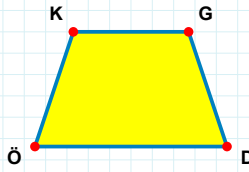
Şekle ait olmayan kenar/kenarları işaretleyelim.

- ☐ UL kenarı
☐ UJ kenarı
☐ TU kenarı



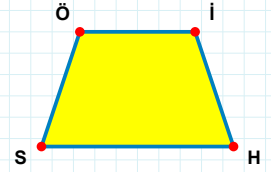
Şekle ait olmayan kenar/kenarları işaretleyelim.

- ☐ KÜ kenarı
☐ Üİ kenarı
☐ ZÜ kenarı



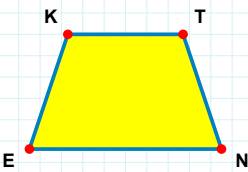
Şekle ait olmayan kenar/kenarları işaretleyelim.

- ☐ KG kenarı
☐ GÖ kenarı
☐ KD kenarı



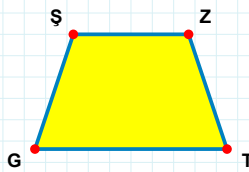
Şekle ait olmayan kenar/kenarları işaretleyelim.

- ☐ İS kenarı
☐ ÖH kenarı
☐ HS kenarı



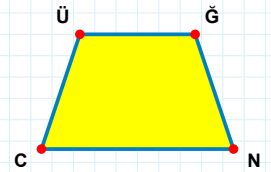
Şekle ait olmayan kenar/kenarları işaretleyelim.

- ☐ KT kenarı
☐ TE kenarı
☐ KN kenarı



Şekle ait olmayan kenar/kenarları işaretleyelim.

- ☐ ŞZ kenarı
☐ ZG kenarı
☐ ŞT kenarı



Şekle ait olmayan kenar/kenarları işaretleyelim.

- ☐ ÜĞ kenarı
☐ ÜN kenarı
☐ CÜ kenarı

SORU: Aşağıdaki şekillerde verilen kenarlardan şekle ait olmayanı bulunuz.

Şekle ait olmayan kenar/kenarları işaretleyelim.

☐ RD kenarı

☐ VD kenarı

☐ Di kenarı

Şekle ait olmayan kenar/kenarları işaretleyelim.

☐ PU kenarı

☐ OV kenarı

☐ PV kenarı

Şekle ait olmayan kenar/kenarları işaretleyelim.

☐ BG kenarı

☐ IO kenarı

☐ IG kenarı

Şekle ait olmayan kenar/kenarları işaretleyelim.

☐ ÖK kenarı

☐ PS kenarı

☐ PK kenarı

Şekle ait olmayan kenar/kenarları işaretleyelim.

☐ ÇE kenarı

☐ EH kenarı

☐ DÇ kenarı

Şekle ait olmayan kenar/kenarları işaretleyelim.

☐ İH kenarı

☐ HE kenarı

☐ HI kenarı

Şekle ait olmayan kenar/kenarları işaretleyelim.

☐ RV kenarı

☐ OV kenarı

☐ IO kenarı

Şekle ait olmayan kenar/kenarları işaretleyelim.

☐ LR kenarı

☐ YR kenarı

☐ RĞ kenarı

Şekle ait olmayan kenar/kenarları işaretleyelim.

☐ ÜM kenarı

☐ EÜ kenarı

☐ HE kenarı

Şekle ait olmayan kenar/kenarları işaretleyelim.

☐ İP kenarı

☐ Vi kenarı

☐ VT kenarı

Şekle ait olmayan kenar/kenarları işaretleyelim.

☐ ÇM kenarı

☐ JU kenarı

☐ ÇU kenarı

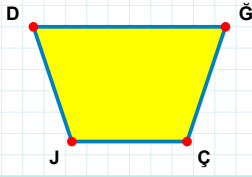
Şekle ait olmayan kenar/kenarları işaretleyelim.

☐ CY kenarı

☐ DY kenarı

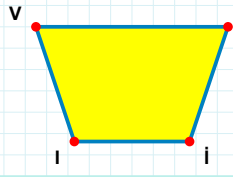
☐ CD kenarı

SORU: Aşağıdaki şekillerde verilen kenarlardan şekle ait olmayanı bulunuz.



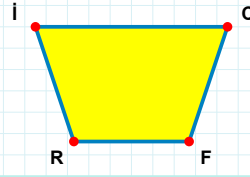
Şekle ait olmayan kenar/kenarları işaretleyelim.

- ☐ ÇJ kenarı
☐ DÇ kenarı
☐ JD kenarı



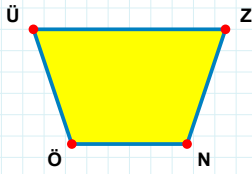
Şekle ait olmayan kenar/kenarları işaretleyelim.

- ☐ İI kenarı
☐ VI kenarı
☐ CI kenarı



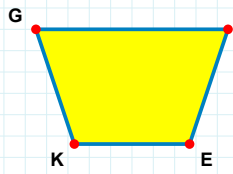
Şekle ait olmayan kenar/kenarları işaretleyelim.

- ☐ İC kenarı
☐ CR kenarı
☐ CF kenarı



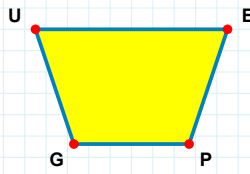
Şekle ait olmayan kenar/kenarları işaretleyelim.

- ☐ ÜN kenarı
☐ NÖ kenarı
☐ ZÖ kenarı



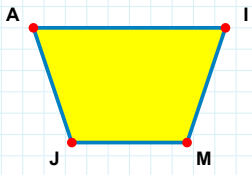
Şekle ait olmayan kenar/kenarları işaretleyelim.

- ☐ EK kenarı
☐ KG kenarı
☐ SK kenarı



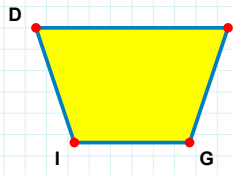
Şekle ait olmayan kenar/kenarları işaretleyelim.

- ☐ UP kenarı
☐ PG kenarı
☐ EG kenarı



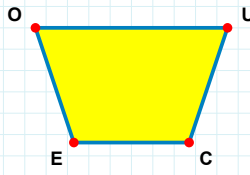
Şekle ait olmayan kenar/kenarları işaretleyelim.

- ☐ AI kenarı
☐ IJ kenarı
☐ AM kenarı



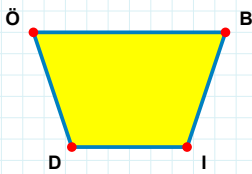
Şekle ait olmayan kenar/kenarları işaretleyelim.

- ☐ DB kenarı
☐ BI kenarı
☐ DG kenarı



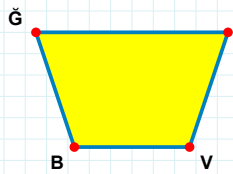
Şekle ait olmayan kenar/kenarları işaretleyelim.

- ☐ UE kenarı
☐ UC kenarı
☐ EO kenarı



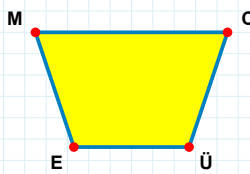
Şekle ait olmayan kenar/kenarları işaretleyelim.

- ☐ ÖB kenarı
☐ BD kenarı
☐ ÖI kenarı



Şekle ait olmayan kenar/kenarları işaretleyelim.

- ☐ GZ kenarı
☐ GV kenarı
☐ BĞ kenarı



Şekle ait olmayan kenar/kenarları işaretleyelim.

- ☐ MÜ kenarı
☐ CE kenarı
☐ EM kenarı

SORU: Aşağıdaki şekillerde verilen kenarlardan şekle ait olmayanı bulunuz.

Şekle ait olmayan kenar/kenarları işaretleyelim.

☐ TA kenarı
☐ AP kenarı
☐ TP kenarı

Şekle ait olmayan kenar/kenarları işaretleyelim.

☐ BM kenarı
☐ BÇ kenarı
☐ MÇ kenarı

Şekle ait olmayan kenar/kenarları işaretleyelim.

☐ SA kenarı
☐ SP kenarı
☐ PŞ kenarı

Şekle ait olmayan kenar/kenarları işaretleyelim.

☐ ÖV kenarı
☐ KA kenarı
☐ ÖA kenarı

Şekle ait olmayan kenar/kenarları işaretleyelim.

☐ ZD kenarı
☐ LZ kenarı
☐ DL kenarı

Şekle ait olmayan kenar/kenarları işaretleyelim.

☐ OJ kenarı
☐ ÇO kenarı
☐ JÇ kenarı

Şekle ait olmayan kenar/kenarları işaretleyelim.

☐ Zİ kenarı
☐ İV kenarı
☐ VZ kenarı

Şekle ait olmayan kenar/kenarları işaretleyelim.

☐ Cİ kenarı
☐ İS kenarı
☐ İG kenarı

Şekle ait olmayan kenar/kenarları işaretleyelim.

☐ Hİ kenarı
☐ Yİ kenarı
☐ İÜ kenarı

Şekle ait olmayan kenar/kenarları işaretleyelim.

☐ AÇ kenarı
☐ ZA kenarı
☐ ÇZ kenarı

Şekle ait olmayan kenar/kenarları işaretleyelim.

☐ RA kenarı
☐ VR kenarı
☐ SV kenarı

Şekle ait olmayan kenar/kenarları işaretleyelim.

☐ MG kenarı
☐ MĞ kenarı
☐ ĞH kenarı

SÜREÇ ODAKLI DEĞERLENDİRME ÖLÇEĞİ			
Geliştirilmeli (0-100)	İyi (101-172)	Çok İyi (173-244)	Mükemmel (245-288)
<input type="checkbox"/>	<input type="checkbox"/>	<input type="checkbox"/>	<input type="checkbox"/>

Hazırlayan:

Bu bölüme sınıfınızın ilgili kazanıma yönelik genel durumuna ilişkin gözlem ve izlenimlerinizi, öğrencilerinizin bu kazanımla ilgili öğrenme eksikliklerini ve bu eksikliklerin giderilmesi amacıyla yaptığınız/yapmayı planladığınız faaliyetleri not edebilirsiniz.

No	Adı - Soyadı	Toplam Puan	Değerlendirme
1			
2			
3			
4			
5			
6			
7			
8			
9			
10			
11			
12			
13			
14			
15			
16			
17			
18			
19			
20			
21			
22			
23			
24			
25			
26			
27			
28			
29			
30			
31			
32			
33			
34			
35			

Hazırlayan: