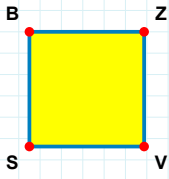
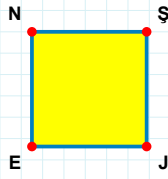


SORU: Aşağıdaki şekillerde verilen kenarlardan şekle ait olmayanı bulunuz.



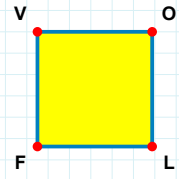
Şekle ait olmayan kenar/kenarları işaretleyelim.

- ☐ ZS kenarı
☐ ZV kenarı
☐ VS kenarı



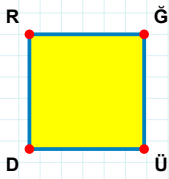
Şekle ait olmayan kenar/kenarları işaretleyelim.

- ☐ ŞE kenarı
☐ EN kenarı
☐ NJ kenarı



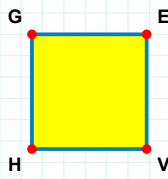
Şekle ait olmayan kenar/kenarları işaretleyelim.

- ☐ LF kenarı
☐ VL kenarı
☐ OF kenarı



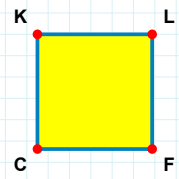
Şekle ait olmayan kenar/kenarları işaretleyelim.

- ☐ RĞ kenarı
☐ ĞD kenarı
☐ ĞÜ kenarı



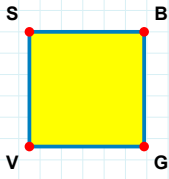
Şekle ait olmayan kenar/kenarları işaretleyelim.

- ☐ GV kenarı
☐ EH kenarı
☐ VH kenarı



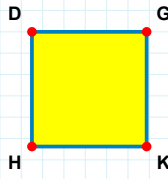
Şekle ait olmayan kenar/kenarları işaretleyelim.

- ☐ KL kenarı
☐ KF kenarı
☐ LC kenarı



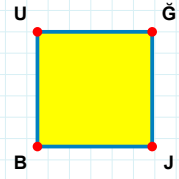
Şekle ait olmayan kenar/kenarları işaretleyelim.

- ☐ BG kenarı
☐ SG kenarı
☐ GV kenarı



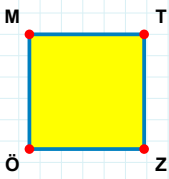
Şekle ait olmayan kenar/kenarları işaretleyelim.

- ☐ DK kenarı
☐ KH kenarı
☐ GH kenarı



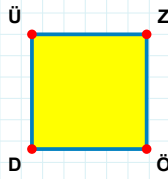
Şekle ait olmayan kenar/kenarları işaretleyelim.

- ☐ UJ kenarı
☐ JB kenarı
☐ ĞB kenarı



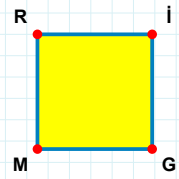
Şekle ait olmayan kenar/kenarları işaretleyelim.

- ☐ MT kenarı
☐ MZ kenarı
☐ TZ kenarı



Şekle ait olmayan kenar/kenarları işaretleyelim.

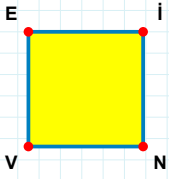
- ☐ ÖD kenarı
☐ ÜÖ kenarı
☐ ZD kenarı



Şekle ait olmayan kenar/kenarları işaretleyelim.

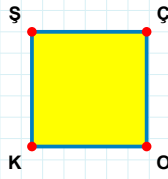
- ☐ İM kenarı
☐ RG kenarı
☐ Rİ kenarı

SORU: Aşağıdaki şekillerde verilen kenarlardan şekle ait olmayanı bulunuz.



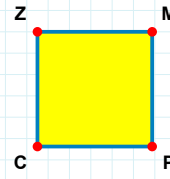
Şekle ait olmayan kenar/kenarları işaretleyelim.

- ☐ İV kenarı
☐ VE kenarı
☐ EN kenarı



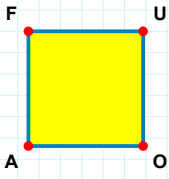
Şekle ait olmayan kenar/kenarları işaretleyelim.

- ☐ ŞO kenarı
☐ ÇK kenarı
☐ ÇO kenarı



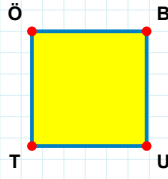
Şekle ait olmayan kenar/kenarları işaretleyelim.

- ☐ ZP kenarı
☐ MP kenarı
☐ ZM kenarı



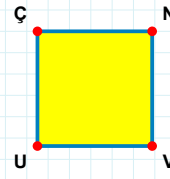
Şekle ait olmayan kenar/kenarları işaretleyelim.

- ☐ UO kenarı
☐ FU kenarı
☐ FO kenarı



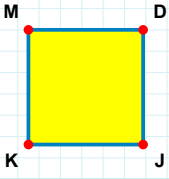
Şekle ait olmayan kenar/kenarları işaretleyelim.

- ☐ ÖU kenarı
☐ ÖB kenarı
☐ UT kenarı



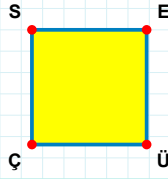
Şekle ait olmayan kenar/kenarları işaretleyelim.

- ☐ NU kenarı
☐ ÇV kenarı
☐ UÇ kenarı



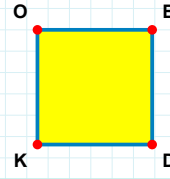
Şekle ait olmayan kenar/kenarları işaretleyelim.

- ☐ KM kenarı
☐ DK kenarı
☐ MJ kenarı



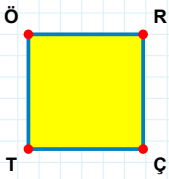
Şekle ait olmayan kenar/kenarları işaretleyelim.

- ☐ ÜÇ kenarı
☐ SÜ kenarı
☐ EÇ kenarı



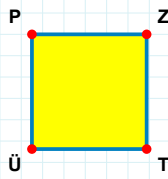
Şekle ait olmayan kenar/kenarları işaretleyelim.

- ☐ KO kenarı
☐ DK kenarı
☐ BK kenarı



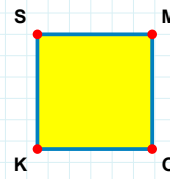
Şekle ait olmayan kenar/kenarları işaretleyelim.

- ☐ ÖR kenarı
☐ TÖ kenarı
☐ ÖÇ kenarı



Şekle ait olmayan kenar/kenarları işaretleyelim.

- ☐ ZÜ kenarı
☐ ZT kenarı
☐ ÜP kenarı



Şekle ait olmayan kenar/kenarları işaretleyelim.

- ☐ SO kenarı
☐ OK kenarı
☐ MK kenarı

SORU: Aşağıdaki şekillerde verilen kenarlardan şekle ait olmayanı bulunuz.



Şekle ait olmayan kenar/kenarları işaretleyelim.

- ☐ Öİ kenarı
☐ CP kenarı
☐ ÖP kenarı




Şekle ait olmayan kenar/kenarları işaretleyelim.

- ☐ ZA kenarı
☐ AC kenarı
☐ ZB kenarı




Şekle ait olmayan kenar/kenarları işaretleyelim.

- ☐ CT kenarı
☐ RC kenarı
☐ DC kenarı




Şekle ait olmayan kenar/kenarları işaretleyelim.

- ☐ GC kenarı
☐ CM kenarı
☐ MO kenarı




Şekle ait olmayan kenar/kenarları işaretleyelim.

- ☐ JA kenarı
☐ NJ kenarı
☐ AN kenarı



Şekle ait olmayan kenar/kenarları işaretleyelim.

- ☐ JC kenarı
☐ ZP kenarı
☐ CP kenarı




Şekle ait olmayan kenar/kenarları işaretleyelim.

- ☐ UF kenarı
☐ FG kenarı
☐ GU kenarı




Şekle ait olmayan kenar/kenarları işaretleyelim.

- ☐ ÜH kenarı
☐ UH kenarı
☐ UO kenarı




Şekle ait olmayan kenar/kenarları işaretleyelim.

- ☐ TS kenarı
☐ ŞA kenarı
☐ SA kenarı




Şekle ait olmayan kenar/kenarları işaretleyelim.

- ☐ HE kenarı
☐ KÇ kenarı
☐ ÇH kenarı



Şekle ait olmayan kenar/kenarları işaretleyelim.

- ☐ UN kenarı
☐ NĞ kenarı
☐ ĞA kenarı



Şekle ait olmayan kenar/kenarları işaretleyelim.

- ☐ ZP kenarı
☐ OP kenarı
☐ PT kenarı

SORU: Aşağıdaki şekillerde verilen kenarlardan şekle ait olmayanı bulunuz.




Şekle ait olmayan kenar/kenarları işaretleyelim.

- ☐ LD kenarı
☐ CÇ kenarı
☐ CD kenarı




Şekle ait olmayan kenar/kenarları işaretleyelim.

- ☐ NO kenarı
☐ RN kenarı
☐ RÇ kenarı




Şekle ait olmayan kenar/kenarları işaretleyelim.

- ☐ CN kenarı
☐ CM kenarı
☐ GM kenarı




Şekle ait olmayan kenar/kenarları işaretleyelim.

- ☐ ÜR kenarı
☐ RE kenarı
☐ ZE kenarı




Şekle ait olmayan kenar/kenarları işaretleyelim.

- ☐ MŞ kenarı
☐ ŞV kenarı
☐ VM kenarı




Şekle ait olmayan kenar/kenarları işaretleyelim.

- ☐ CJ kenarı
☐ YC kenarı
☐ YH kenarı




Şekle ait olmayan kenar/kenarları işaretleyelim.

- ☐ FC kenarı
☐ HR kenarı
☐ HF kenarı




Şekle ait olmayan kenar/kenarları işaretleyelim.

- ☐ Pİ kenarı
☐ PE kenarı
☐ OE kenarı




Şekle ait olmayan kenar/kenarları işaretleyelim.

- ☐ ZL kenarı
☐ JL kenarı
☐ OJ kenarı




Şekle ait olmayan kenar/kenarları işaretleyelim.

- ☐ EÖ kenarı
☐ DE kenarı
☐ ÖO kenarı



Şekle ait olmayan kenar/kenarları işaretleyelim.

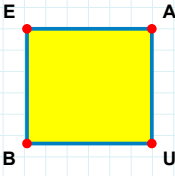
- ☐ Bİ kenarı
☐ İA kenarı
☐ Öİ kenarı



Şekle ait olmayan kenar/kenarları işaretleyelim.

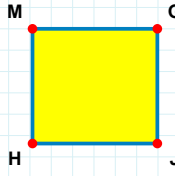
- ☐ AT kenarı
☐ NT kenarı
☐ PN kenarı

SORU: Aşağıdaki şekillerde verilen kenarlardan şekle ait olmayanı bulunuz.



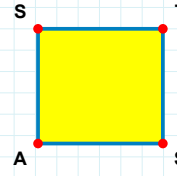
Şekle ait olmayan kenar/kenarları işaretleyelim.

- ☐ AU kenarı
☐ AB kenarı
☐ EU kenarı



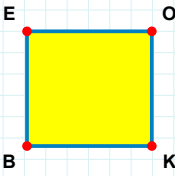
Şekle ait olmayan kenar/kenarları işaretleyelim.

- ☐ MJ kenarı
☐ GJ kenarı
☐ GH kenarı



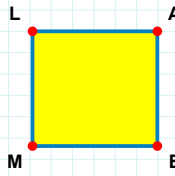
Şekle ait olmayan kenar/kenarları işaretleyelim.

- ☐ TA kenarı
☐ SŞ kenarı
☐ TŞ kenarı



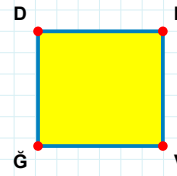
Şekle ait olmayan kenar/kenarları işaretleyelim.

- ☐ OB kenarı
☐ KB kenarı
☐ EK kenarı



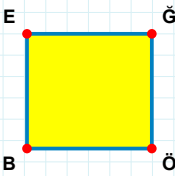
Şekle ait olmayan kenar/kenarları işaretleyelim.

- ☐ LE kenarı
☐ EM kenarı
☐ AM kenarı



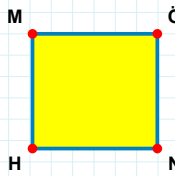
Şekle ait olmayan kenar/kenarları işaretleyelim.

- ☐ DV kenarı
☐ NĞ kenarı
☐ DN kenarı



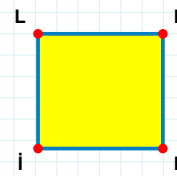
Şekle ait olmayan kenar/kenarları işaretleyelim.

- ☐ ÖB kenarı
☐ ĞB kenarı
☐ EÖ kenarı



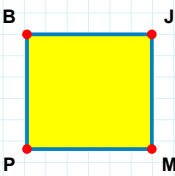
Şekle ait olmayan kenar/kenarları işaretleyelim.

- ☐ ÖH kenarı
☐ HM kenarı
☐ MN kenarı



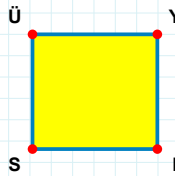
Şekle ait olmayan kenar/kenarları işaretleyelim.

- ☐ LN kenarı
☐ NI kenarı
☐ HI kenarı



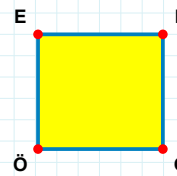
Şekle ait olmayan kenar/kenarları işaretleyelim.

- ☐ MP kenarı
☐ BM kenarı
☐ JP kenarı



Şekle ait olmayan kenar/kenarları işaretleyelim.

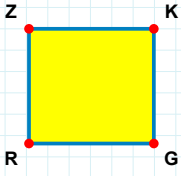
- ☐ YS kenarı
☐ İS kenarı
☐ Üİ kenarı



Şekle ait olmayan kenar/kenarları işaretleyelim.

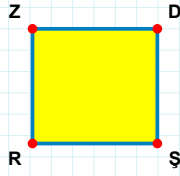
- ☐ EÇ kenarı
☐ ÖE kenarı
☐ EF kenarı

SORU: Aşağıdaki şekillerde verilen kenarlardan şekle ait olmayanı bulunuz.



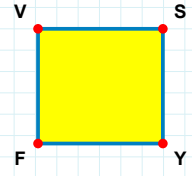
Şekle ait olmayan kenar/kenarları işaretleyelim.

- ☐ ZG kenarı
☐ RZ kenarı
☐ KR kenarı



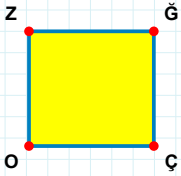
Şekle ait olmayan kenar/kenarları işaretleyelim.

- ☐ ZŞ kenarı
☐ RZ kenarı
☐ DR kenarı



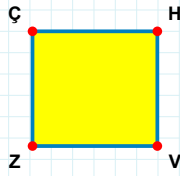
Şekle ait olmayan kenar/kenarları işaretleyelim.

- ☐ SF kenarı
☐ VY kenarı
☐ FV kenarı



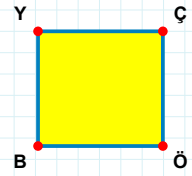
Şekle ait olmayan kenar/kenarları işaretleyelim.

- ☐ ZÇ kenarı
☐ ZĞ kenarı
☐ OZ kenarı



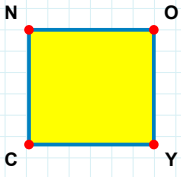
Şekle ait olmayan kenar/kenarları işaretleyelim.

- ☐ ÇV kenarı
☐ HZ kenarı
☐ HV kenarı



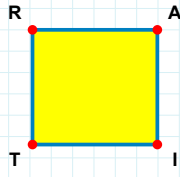
Şekle ait olmayan kenar/kenarları işaretleyelim.

- ☐ YÖ kenarı
☐ BY kenarı
☐ YÇ kenarı



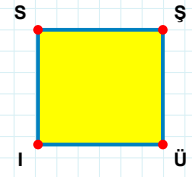
Şekle ait olmayan kenar/kenarları işaretleyelim.

- ☐ NO kenarı
☐ NY kenarı
☐ OC kenarı



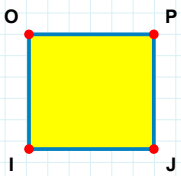
Şekle ait olmayan kenar/kenarları işaretleyelim.

- ☐ RA kenarı
☐ AT kenarı
☐ TR kenarı



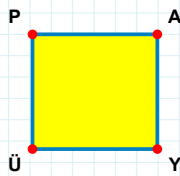
Şekle ait olmayan kenar/kenarları işaretleyelim.

- ☐ SÜ kenarı
☐ ŞÜ kenarı
☐ ÜI kenarı



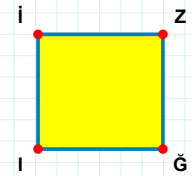
Şekle ait olmayan kenar/kenarları işaretleyelim.

- ☐ OJ kenarı
☐ OP kenarı
☐ IO kenarı



Şekle ait olmayan kenar/kenarları işaretleyelim.

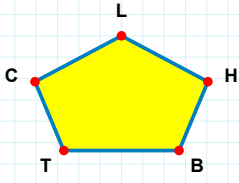
- ☐ PY kenarı
☐ ÜP kenarı
☐ PA kenarı



Şekle ait olmayan kenar/kenarları işaretleyelim.

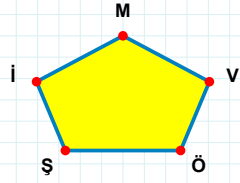
- ☐ Zİ kenarı
☐ İĞ kenarı
☐ ZĞ kenarı

SORU: Aşağıdaki şekillerde verilen kenarlardan şekle ait olmayanı bulunuz.



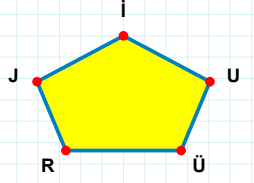
Şekle ait olmayan kenar/kenarları işaretleyelim.

- ☐ LT kenarı
☐ HL kenarı
☐ LB kenarı



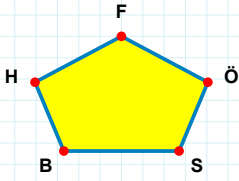
Şekle ait olmayan kenar/kenarları işaretleyelim.

- ☐ ÖV kenarı
☐ ŞÖ kenarı
☐ MŞ kenarı



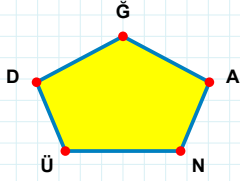
Şekle ait olmayan kenar/kenarları işaretleyelim.

- ☐ İJ kenarı
☐ JU kenarı
☐ İÜ kenarı



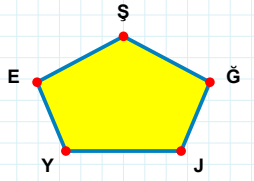
Şekle ait olmayan kenar/kenarları işaretleyelim.

- ☐ ÖF kenarı
☐ FS kenarı
☐ HB kenarı



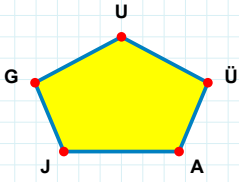
Şekle ait olmayan kenar/kenarları işaretleyelim.

- ☐ ĞÜ kenarı
☐ NA kenarı
☐ AĞ kenarı



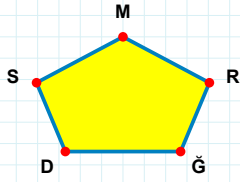
Şekle ait olmayan kenar/kenarları işaretleyelim.

- ☐ ŞY kenarı
☐ ŞJ kenarı
☐ EĞ kenarı



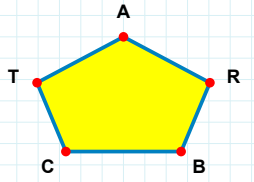
Şekle ait olmayan kenar/kenarları işaretleyelim.

- ☐ AÜ kenarı
☐ GÜ kenarı
☐ UJ kenarı



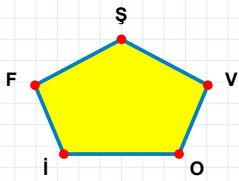
Şekle ait olmayan kenar/kenarları işaretleyelim.

- ☐ MS kenarı
☐ RM kenarı
☐ DR kenarı



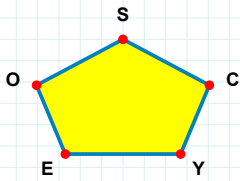
Şekle ait olmayan kenar/kenarları işaretleyelim.

- ☐ TB kenarı
☐ BR kenarı
☐ CR kenarı



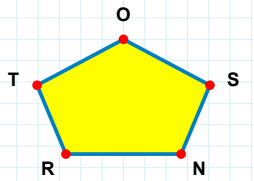
Şekle ait olmayan kenar/kenarları işaretleyelim.

- ☐ ŞO kenarı
☐ VŞ kenarı
☐ ŞF kenarı



Şekle ait olmayan kenar/kenarları işaretleyelim.

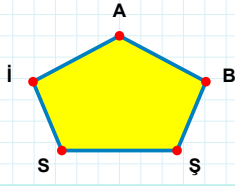
- ☐ SY kenarı
☐ OC kenarı
☐ OY kenarı



Şekle ait olmayan kenar/kenarları işaretleyelim.

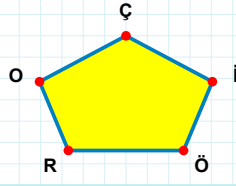
- ☐ TN kenarı
☐ TS kenarı
☐ NS kenarı

SORU: Aşağıdaki şekillerde verilen kenarlardan şekle ait olmayanı bulunuz.



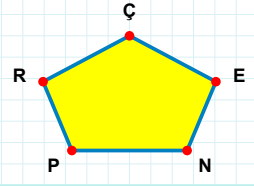
Şekle ait olmayan kenar/kenarları işaretleyelim.

- ☐ AI kenarı
☐ İŞ kenarı
☐ SŞ kenarı



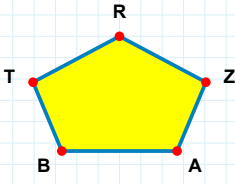
Şekle ait olmayan kenar/kenarları işaretleyelim.

- ☐ RÖ kenarı
☐ RI kenarı
☐ ÇÖ kenarı



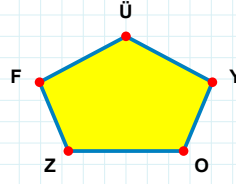
Şekle ait olmayan kenar/kenarları işaretleyelim.

- ☐ RN kenarı
☐ ÇP kenarı
☐ ÇN kenarı



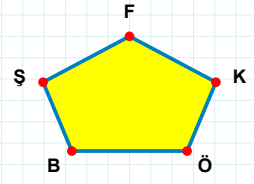
Şekle ait olmayan kenar/kenarları işaretleyelim.

- ☐ RA kenarı
☐ TA kenarı
☐ RT kenarı



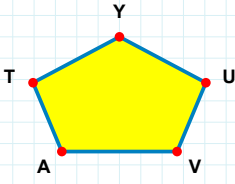
Şekle ait olmayan kenar/kenarları işaretleyelim.

- ☐ ZY kenarı
☐ OY kenarı
☐ ÜÖ kenarı



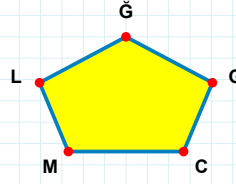
Şekle ait olmayan kenar/kenarları işaretleyelim.

- ☐ FB kenarı
☐ ŞK kenarı
☐ BK kenarı



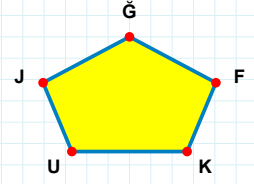
Şekle ait olmayan kenar/kenarları işaretleyelim.

- ☐ UY kenarı
☐ AU kenarı
☐ AV kenarı



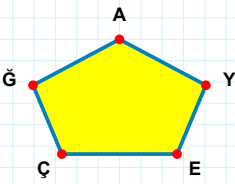
Şekle ait olmayan kenar/kenarları işaretleyelim.

- ☐ ĞC kenarı
☐ MC kenarı
☐ GĞ kenarı



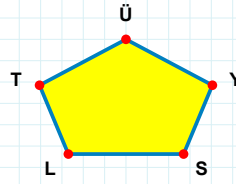
Şekle ait olmayan kenar/kenarları işaretleyelim.

- ☐ ĞK kenarı
☐ FĞ kenarı
☐ UF kenarı



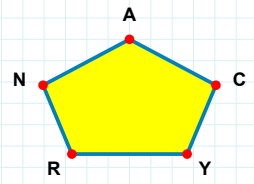
Şekle ait olmayan kenar/kenarları işaretleyelim.

- ☐ EY kenarı
☐ ĞE kenarı
☐ AE kenarı



Şekle ait olmayan kenar/kenarları işaretleyelim.

- ☐ ÜS kenarı
☐ LY kenarı
☐ SY kenarı



Şekle ait olmayan kenar/kenarları işaretleyelim.

- ☐ NC kenarı
☐ CA kenarı
☐ AN kenarı

SORU: Aşağıdaki şekillerde verilen kenarlardan şekle ait olmayanı bulunuz.

Şekle ait olmayan kenar/kenarları işaretleyelim.

- ☐ IŞ kenarı
- ☐ ZK kenarı
- ☐ KI kenarı

Şekle ait olmayan kenar/kenarları işaretleyelim.

- ☐ GÖ kenarı
- ☐ ÇG kenarı
- ☐ GF kenarı

Şekle ait olmayan kenar/kenarları işaretleyelim.

- ☐ CA kenarı
- ☐ YC kenarı
- ☐ ÖA kenarı

Şekle ait olmayan kenar/kenarları işaretleyelim.

- ☐ LY kenarı
- ☐ KT kenarı
- ☐ YT kenarı

Şekle ait olmayan kenar/kenarları işaretleyelim.

- ☐ DK kenarı
- ☐ IP kenarı
- ☐ SP kenarı

Şekle ait olmayan kenar/kenarları işaretleyelim.

- ☐ TŞ kenarı
- ☐ HT kenarı
- ☐ ŞH kenarı

Şekle ait olmayan kenar/kenarları işaretleyelim.

- ☐ ĞS kenarı
- ☐ ÖN kenarı
- ☐ ÖE kenarı

Şekle ait olmayan kenar/kenarları işaretleyelim.

- ☐ MR kenarı
- ☐ ÖS kenarı
- ☐ MS kenarı

Şekle ait olmayan kenar/kenarları işaretleyelim.

- ☐ VC kenarı
- ☐ ÜI kenarı
- ☐ IV kenarı

Şekle ait olmayan kenar/kenarları işaretleyelim.

- ☐ ÖA kenarı
- ☐ OŞ kenarı
- ☐ ON kenarı

Şekle ait olmayan kenar/kenarları işaretleyelim.

- ☐ OŞ kenarı
- ☐ ÇA kenarı
- ☐ OÇ kenarı

Şekle ait olmayan kenar/kenarları işaretleyelim.

- ☐ Şİ kenarı
- ☐ AĞ kenarı
- ☐ PA kenarı

SORU: Aşağıdaki şekillerde verilen kenarlardan şekle ait olmayanı bulunuz.

Şekle ait olmayan kenar/kenarları işaretleyelim.

☐ ÖS kenarı
☐ ÖT kenarı
☐ ST kenarı

Şekle ait olmayan kenar/kenarları işaretleyelim.

☐ PM kenarı
☐ MA kenarı
☐ PA kenarı

Şekle ait olmayan kenar/kenarları işaretleyelim.

☐ ÖĞ kenarı
☐ YĞ kenarı
☐ TC kenarı

Şekle ait olmayan kenar/kenarları işaretleyelim.

☐ AÜ kenarı
☐ MA kenarı
☐ AŞ kenarı

Şekle ait olmayan kenar/kenarları işaretleyelim.

☐ ÖM kenarı
☐ MJ kenarı
☐ ÖJ kenarı

Şekle ait olmayan kenar/kenarları işaretleyelim.

☐ ŞR kenarı
☐ RU kenarı
☐ UE kenarı

Şekle ait olmayan kenar/kenarları işaretleyelim.

☐ HS kenarı
☐ ÇK kenarı
☐ ZK kenarı

Şekle ait olmayan kenar/kenarları işaretleyelim.

☐ OL kenarı
☐ KÇ kenarı
☐ LC kenarı

Şekle ait olmayan kenar/kenarları işaretleyelim.

☐ NR kenarı
☐ NY kenarı
☐ ŞR kenarı

Şekle ait olmayan kenar/kenarları işaretleyelim.

☐ NP kenarı
☐ ĞG kenarı
☐ CĞ kenarı

Şekle ait olmayan kenar/kenarları işaretleyelim.

☐ JM kenarı
☐ MF kenarı
☐ ÖM kenarı

Şekle ait olmayan kenar/kenarları işaretleyelim.

☐ UF kenarı
☐ ÖH kenarı
☐ FV kenarı

SORU: Aşağıdaki şekillerde verilen kenarlardan şekle ait olmayanı bulunuz.

Şekle ait olmayan kenar/kenarları işaretleyelim.

☐ OK kenarı
☐ OI kenarı
☐ IE kenarı

Şekle ait olmayan kenar/kenarları işaretleyelim.

☐ FĞ kenarı
☐ ĞE kenarı
☐ FJ kenarı

Şekle ait olmayan kenar/kenarları işaretleyelim.

☐ TU kenarı
☐ LT kenarı
☐ SA kenarı

Şekle ait olmayan kenar/kenarları işaretleyelim.

☐ BT kenarı
☐ FA kenarı
☐ VF kenarı

Şekle ait olmayan kenar/kenarları işaretleyelim.

☐ YE kenarı
☐ DE kenarı
☐ YT kenarı

Şekle ait olmayan kenar/kenarları işaretleyelim.

☐ PH kenarı
☐ HÜ kenarı
☐ PÜ kenarı

Şekle ait olmayan kenar/kenarları işaretleyelim.

☐ YT kenarı
☐ AG kenarı
☐ GY kenarı

Şekle ait olmayan kenar/kenarları işaretleyelim.

☐ İZ kenarı
☐ UZ kenarı
☐ ÜZ kenarı

Şekle ait olmayan kenar/kenarları işaretleyelim.

☐ ÖH kenarı
☐ GS kenarı
☐ ÖG kenarı

Şekle ait olmayan kenar/kenarları işaretleyelim.

☐ KS kenarı
☐ ĞS kenarı
☐ ĞK kenarı

Şekle ait olmayan kenar/kenarları işaretleyelim.

☐ BP kenarı
☐ BG kenarı
☐ BC kenarı

Şekle ait olmayan kenar/kenarları işaretleyelim.

☐ ŞO kenarı
☐ ÖA kenarı
☐ ÖG kenarı

SORU: Aşağıdaki şekillerde verilen kenarlardan şekle ait olmayanı bulunuz.

Şekle ait olmayan kenar/kenarları işaretleyelim.

☐ RP kenarı

☐ EY kenarı

☐ CR kenarı

Şekle ait olmayan kenar/kenarları işaretleyelim.

☐ EN kenarı

☐ YG kenarı

☐ EO kenarı

Şekle ait olmayan kenar/kenarları işaretleyelim.

☐ JR kenarı

☐ GR kenarı

☐ RN kenarı

Şekle ait olmayan kenar/kenarları işaretleyelim.

☐ UR kenarı

☐ FR kenarı

☐ LU kenarı

Şekle ait olmayan kenar/kenarları işaretleyelim.

☐ KL kenarı

☐ KE kenarı

☐ LC kenarı

Şekle ait olmayan kenar/kenarları işaretleyelim.

☐ ZB kenarı

☐ VB kenarı

☐ MV kenarı

Şekle ait olmayan kenar/kenarları işaretleyelim.

☐ OA kenarı

☐ SS kenarı

☐ AZ kenarı

Şekle ait olmayan kenar/kenarları işaretleyelim.

☐ ÖÇ kenarı

☐ FÖ kenarı

☐ ŞÇ kenarı

Şekle ait olmayan kenar/kenarları işaretleyelim.

☐ FL kenarı

☐ ÖK kenarı

☐ KL kenarı

Şekle ait olmayan kenar/kenarları işaretleyelim.

☐ OU kenarı

☐ ÜÇ kenarı

☐ İU kenarı

Şekle ait olmayan kenar/kenarları işaretleyelim.

☐ Tİ kenarı

☐ İS kenarı

☐ İİ kenarı

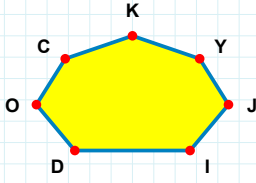
Şekle ait olmayan kenar/kenarları işaretleyelim.

☐ OK kenarı

☐ KY kenarı

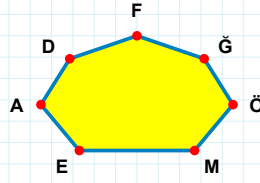
☐ HY kenarı

SORU: Aşağıdaki şekillerde verilen kenarlardan şekle ait olmayanı bulunuz.



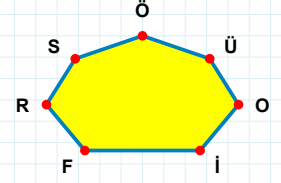
Şekle ait olmayan kenar/kenarları işaretleyelim.

- ☐ CD kenarı
☐ KJ kenarı
☐ OD kenarı



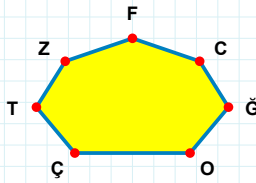
Şekle ait olmayan kenar/kenarları işaretleyelim.

- ☐ EM kenarı
☐ DE kenarı
☐ DA kenarı



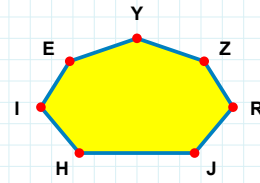
Şekle ait olmayan kenar/kenarları işaretleyelim.

- ☐ SR kenarı
☐ FI kenarı
☐ FÜ kenarı



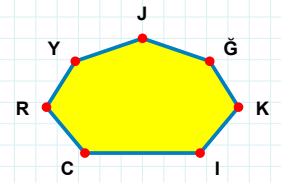
Şekle ait olmayan kenar/kenarları işaretleyelim.

- ☐ ZG kenarı
☐ FÇ kenarı
☐ FZ kenarı



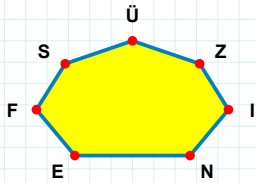
Şekle ait olmayan kenar/kenarları işaretleyelim.

- ☐ JZ kenarı
☐ IH kenarı
☐ HR kenarı



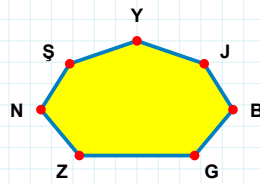
Şekle ait olmayan kenar/kenarları işaretleyelim.

- ☐ YC kenarı
☐ İG kenarı
☐ Yİ kenarı



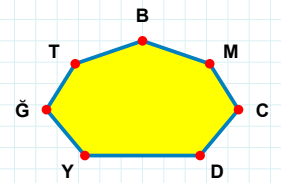
Şekle ait olmayan kenar/kenarları işaretleyelim.

- ☐ ZÜ kenarı
☐ SF kenarı
☐ EI kenarı



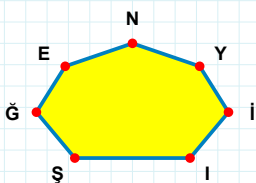
Şekle ait olmayan kenar/kenarları işaretleyelim.

- ☐ NJ kenarı
☐ NZ kenarı
☐ ZJ kenarı



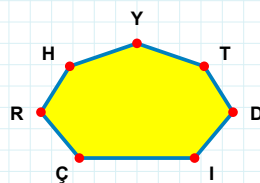
Şekle ait olmayan kenar/kenarları işaretleyelim.

- ☐ BY kenarı
☐ BD kenarı
☐ YD kenarı



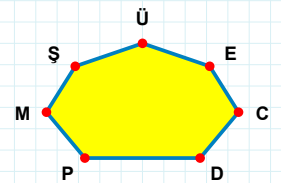
Şekle ait olmayan kenar/kenarları işaretleyelim.

- ☐ İY kenarı
☐ Gİ kenarı
☐ NE kenarı



Şekle ait olmayan kenar/kenarları işaretleyelim.

- ☐ HI kenarı
☐ ÇD kenarı
☐ IT kenarı



Şekle ait olmayan kenar/kenarları işaretleyelim.

- ☐ PC kenarı
☐ ÜP kenarı
☐ MP kenarı

SORU: Aşağıdaki şekillerde verilen kenarlardan şekle ait olmayanı bulunuz.

Şekle ait olmayan kenar/kenarları işaretleyelim.

- ☐ İB kenarı
- ☐ ŞB kenarı
- ☐ DN kenarı

Şekle ait olmayan kenar/kenarları işaretleyelim.

- ☐ AN kenarı
- ☐ UI kenarı
- ☐ ÖO kenarı

Şekle ait olmayan kenar/kenarları işaretleyelim.

- ☐ ÇP kenarı
- ☐ YÇ kenarı
- ☐ LÇ kenarı

Şekle ait olmayan kenar/kenarları işaretleyelim.

- ☐ OD kenarı
- ☐ ÜM kenarı
- ☐ DI kenarı

Şekle ait olmayan kenar/kenarları işaretleyelim.

- ☐ İH kenarı
- ☐ İP kenarı
- ☐ ŞP kenarı

Şekle ait olmayan kenar/kenarları işaretleyelim.

- ☐ KP kenarı
- ☐ DJ kenarı
- ☐ DO kenarı

Şekle ait olmayan kenar/kenarları işaretleyelim.

- ☐ JĞ kenarı
- ☐ MĞ kenarı
- ☐ ÖL kenarı

Şekle ait olmayan kenar/kenarları işaretleyelim.

- ☐ AÇ kenarı
- ☐ DT kenarı
- ☐ DA kenarı

Şekle ait olmayan kenar/kenarları işaretleyelim.

- ☐ ÜT kenarı
- ☐ DE kenarı
- ☐ MÜ kenarı

Şekle ait olmayan kenar/kenarları işaretleyelim.

- ☐ ŞR kenarı
- ☐ RK kenarı
- ☐ KÖ kenarı

Şekle ait olmayan kenar/kenarları işaretleyelim.

- ☐ TJ kenarı
- ☐ İT kenarı
- ☐ SI kenarı

Şekle ait olmayan kenar/kenarları işaretleyelim.

- ☐ PÇ kenarı
- ☐ OU kenarı
- ☐ İÇ kenarı

SORU: Aşağıdaki şekillerde verilen kenarlardan şekle ait olmayanı bulunuz.

Şekle ait olmayan kenar/kenarları işaretleyelim.

☐ TL kenarı

☐ TF kenarı

☐ FB kenarı

Şekle ait olmayan kenar/kenarları işaretleyelim.

☐ HB kenarı

☐ GK kenarı

☐ TZ kenarı

Şekle ait olmayan kenar/kenarları işaretleyelim.

☐ ÇŞ kenarı

☐ ÖE kenarı

☐ ŞE kenarı

Şekle ait olmayan kenar/kenarları işaretleyelim.

☐ ŞĞ kenarı

☐ AĞ kenarı

☐ Çİ kenarı

Şekle ait olmayan kenar/kenarları işaretleyelim.

☐ MZ kenarı

☐ EP kenarı

☐ PŞ kenarı

Şekle ait olmayan kenar/kenarları işaretleyelim.

☐ HK kenarı

☐ AK kenarı

☐ ÜÖ kenarı

Şekle ait olmayan kenar/kenarları işaretleyelim.

☐ ÇC kenarı

☐ CI kenarı

☐ RM kenarı

Şekle ait olmayan kenar/kenarları işaretleyelim.

☐ HK kenarı

☐ MD kenarı

☐ ĞE kenarı

Şekle ait olmayan kenar/kenarları işaretleyelim.

☐ GR kenarı

☐ LR kenarı

☐ LS kenarı

Şekle ait olmayan kenar/kenarları işaretleyelim.

☐ JZ kenarı

☐ ÇZ kenarı

☐ PR kenarı

Şekle ait olmayan kenar/kenarları işaretleyelim.

☐ PE kenarı

☐ EŞ kenarı

☐ CG kenarı

Şekle ait olmayan kenar/kenarları işaretleyelim.

☐ UĞ kenarı

☐ ĞN kenarı

☐ DU kenarı

SORU: Aşağıdaki şekillerde verilen kenarlardan şekle ait olmayanı bulunuz.

Şekle ait olmayan kenar/kenarları işaretleyelim.

☐ HB kenarı
☐ KJ kenarı
☐ HY kenarı

Şekle ait olmayan kenar/kenarları işaretleyelim.

☐ MĞ kenarı
☐ IĞ kenarı
☐ KĞ kenarı

Şekle ait olmayan kenar/kenarları işaretleyelim.

☐ ŞT kenarı
☐ LŞ kenarı
☐ TN kenarı

Şekle ait olmayan kenar/kenarları işaretleyelim.

☐ DV kenarı
☐ DI kenarı
☐ MD kenarı

Şekle ait olmayan kenar/kenarları işaretleyelim.

☐ ŞH kenarı
☐ UĞ kenarı
☐ ŞU kenarı

Şekle ait olmayan kenar/kenarları işaretleyelim.

☐ TO kenarı
☐ TÖ kenarı
☐ CD kenarı

Şekle ait olmayan kenar/kenarları işaretleyelim.

☐ RY kenarı
☐ RN kenarı
☐ EÇ kenarı

Şekle ait olmayan kenar/kenarları işaretleyelim.

☐ UÖ kenarı
☐ DV kenarı
☐ FG kenarı

Şekle ait olmayan kenar/kenarları işaretleyelim.

☐ BS kenarı
☐ DS kenarı
☐ OH kenarı

Şekle ait olmayan kenar/kenarları işaretleyelim.

☐ TS kenarı
☐ ĞI kenarı
☐ ET kenarı

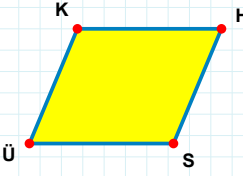
Şekle ait olmayan kenar/kenarları işaretleyelim.

☐ ÜV kenarı
☐ CE kenarı
☐ CV kenarı

Şekle ait olmayan kenar/kenarları işaretleyelim.

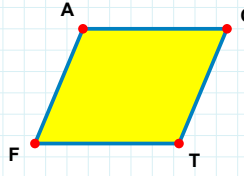
☐ CJ kenarı
☐ TC kenarı
☐ ĞÜ kenarı

SORU: Aşağıdaki şekillerde verilen kenarlardan şekle ait olmayanı bulunuz.



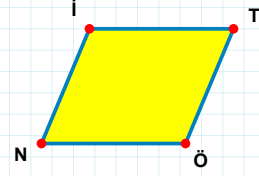
Şekle ait olmayan kenar/kenarları işaretleyelim.

- ☐ HÜ kenarı
☐ KH kenarı
☐ KS kenarı



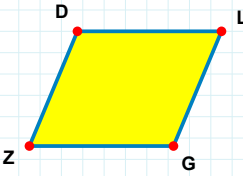
Şekle ait olmayan kenar/kenarları işaretleyelim.

- ☐ OT kenarı
☐ AT kenarı
☐ OF kenarı



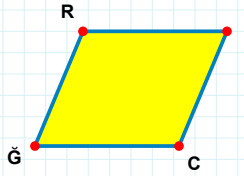
Şekle ait olmayan kenar/kenarları işaretleyelim.

- ☐ İÖ kenarı
☐ NI kenarı
☐ TN kenarı



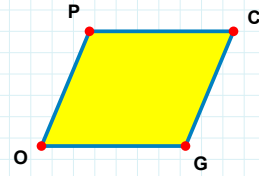
Şekle ait olmayan kenar/kenarları işaretleyelim.

- ☐ DG kenarı
☐ ZD kenarı
☐ LZ kenarı



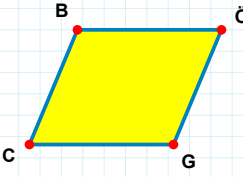
Şekle ait olmayan kenar/kenarları işaretleyelim.

- ☐ RC kenarı
☐ İC kenarı
☐ RI kenarı



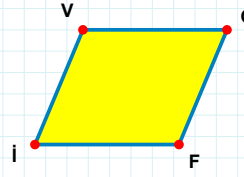
Şekle ait olmayan kenar/kenarları işaretleyelim.

- ☐ PC kenarı
☐ CO kenarı
☐ GO kenarı



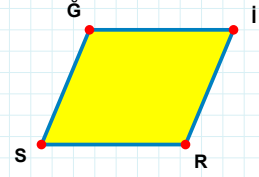
Şekle ait olmayan kenar/kenarları işaretleyelim.

- ☐ BG kenarı
☐ ÖC kenarı
☐ CB kenarı



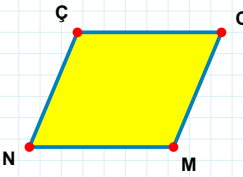
Şekle ait olmayan kenar/kenarları işaretleyelim.

- ☐ FI kenarı
☐ VF kenarı
☐ GI kenarı



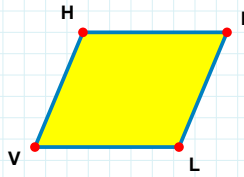
Şekle ait olmayan kenar/kenarları işaretleyelim.

- ☐ ĞR kenarı
☐ İS kenarı
☐ İR kenarı



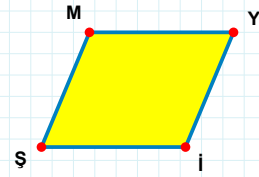
Şekle ait olmayan kenar/kenarları işaretleyelim.

- ☐ ÇM kenarı
☐ ÇÇ kenarı
☐ CN kenarı



Şekle ait olmayan kenar/kenarları işaretleyelim.

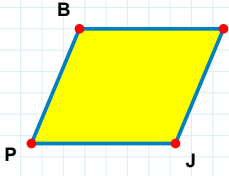
- ☐ HL kenarı
☐ KL kenarı
☐ VH kenarı



Şekle ait olmayan kenar/kenarları işaretleyelim.

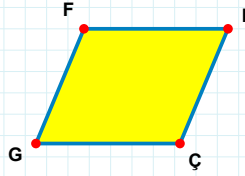
- ☐ YŞ kenarı
☐ Mİ kenarı
☐ ŞM kenarı

SORU: Aşağıdaki şekillerde verilen kenarlardan şekle ait olmayanı bulunuz.



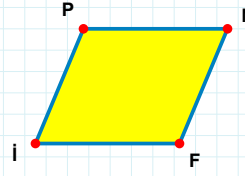
Şekle ait olmayan kenar/kenarları işaretleyelim.

- ☐ BJ kenarı
☐ BE kenarı
☐ EP kenarı



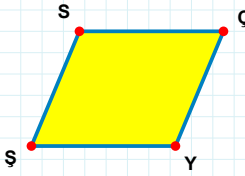
Şekle ait olmayan kenar/kenarları işaretleyelim.

- ☐ DÇ kenarı
☐ FÇ kenarı
☐ DG kenarı



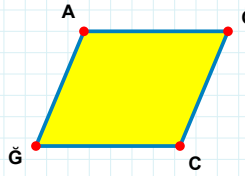
Şekle ait olmayan kenar/kenarları işaretleyelim.

- ☐ FI kenarı
☐ PN kenarı
☐ NI kenarı



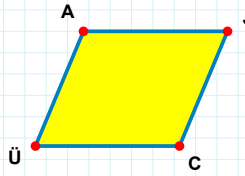
Şekle ait olmayan kenar/kenarları işaretleyelim.

- ☐ ÇŞ kenarı
☐ SY kenarı
☐ ÇY kenarı



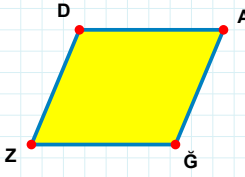
Şekle ait olmayan kenar/kenarları işaretleyelim.

- ☐ CĞ kenarı
☐ AÖ kenarı
☐ AC kenarı



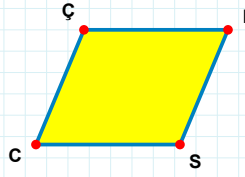
Şekle ait olmayan kenar/kenarları işaretleyelim.

- ☐ AC kenarı
☐ JÜ kenarı
☐ CÜ kenarı



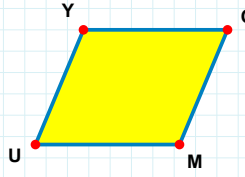
Şekle ait olmayan kenar/kenarları işaretleyelim.

- ☐ AZ kenarı
☐ ĞZ kenarı
☐ DĞ kenarı



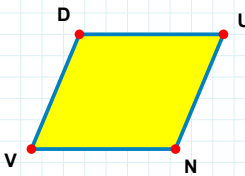
Şekle ait olmayan kenar/kenarları işaretleyelim.

- ☐ ÇS kenarı
☐ FS kenarı
☐ FC kenarı



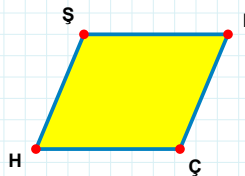
Şekle ait olmayan kenar/kenarları işaretleyelim.

- ☐ YM kenarı
☐ YO kenarı
☐ MU kenarı



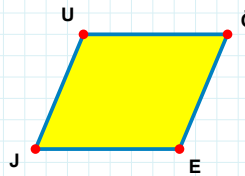
Şekle ait olmayan kenar/kenarları işaretleyelim.

- ☐ UV kenarı
☐ NV kenarı
☐ DN kenarı



Şekle ait olmayan kenar/kenarları işaretleyelim.

- ☐ LH kenarı
☐ HŞ kenarı
☐ ÇH kenarı



Şekle ait olmayan kenar/kenarları işaretleyelim.

- ☐ ÖJ kenarı
☐ UE kenarı
☐ JU kenarı

SORU: Aşağıdaki şekillerde verilen kenarlardan şekle ait olmayanı bulunuz.

Şekle ait olmayan kenar/kenarları işaretleyelim.

☐ JT kenarı
☐ TM kenarı
☐ MJ kenarı

Şekle ait olmayan kenar/kenarları işaretleyelim.

☐ VU kenarı
☐ MP kenarı
☐ VP kenarı

Şekle ait olmayan kenar/kenarları işaretleyelim.

☐ PA kenarı
☐ İP kenarı
☐ AI kenarı

Şekle ait olmayan kenar/kenarları işaretleyelim.

☐ RE kenarı
☐ EJ kenarı
☐ JR kenarı

Şekle ait olmayan kenar/kenarları işaretleyelim.

☐ CÇ kenarı
☐ İÇ kenarı
☐ JI kenarı

Şekle ait olmayan kenar/kenarları işaretleyelim.

☐ GB kenarı
☐ GT kenarı
☐ TB kenarı

Şekle ait olmayan kenar/kenarları işaretleyelim.

☐ UY kenarı
☐ ÖY kenarı
☐ TÖ kenarı

Şekle ait olmayan kenar/kenarları işaretleyelim.

☐ ÖH kenarı
☐ HÜ kenarı
☐ ÜV kenarı

Şekle ait olmayan kenar/kenarları işaretleyelim.

☐ LS kenarı
☐ ĞÖ kenarı
☐ ĞL kenarı

Şekle ait olmayan kenar/kenarları işaretleyelim.

☐ VÜ kenarı
☐ Üİ kenarı
☐ Ğİ kenarı

Şekle ait olmayan kenar/kenarları işaretleyelim.

☐ SV kenarı
☐ AÇ kenarı
☐ ÇV kenarı

Şekle ait olmayan kenar/kenarları işaretleyelim.

☐ ZB kenarı
☐ ŞC kenarı
☐ ZŞ kenarı

SORU: Aşağıdaki şekillerde verilen kenarlardan şekle ait olmayanı bulunuz.

Şekle ait olmayan kenar/kenarları işaretleyelim.

- ☐ LS kenarı
- ☐ ÇÜ kenarı
- ☐ SÇ kenarı

Şekle ait olmayan kenar/kenarları işaretleyelim.

- ☐ MS kenarı
- ☐ SE kenarı
- ☐ ET kenarı

Şekle ait olmayan kenar/kenarları işaretleyelim.

- ☐ EG kenarı
- ☐ KŞ kenarı
- ☐ ŞE kenarı

Şekle ait olmayan kenar/kenarları işaretleyelim.

- ☐ ŞJ kenarı
- ☐ ZJ kenarı
- ☐ PŞ kenarı

Şekle ait olmayan kenar/kenarları işaretleyelim.

- ☐ BK kenarı
- ☐ CB kenarı
- ☐ ŞC kenarı

Şekle ait olmayan kenar/kenarları işaretleyelim.

- ☐ JF kenarı
- ☐ JZ kenarı
- ☐ ĞZ kenarı

Şekle ait olmayan kenar/kenarları işaretleyelim.

- ☐ ÜU kenarı
- ☐ UC kenarı
- ☐ ÜÇ kenarı

Şekle ait olmayan kenar/kenarları işaretleyelim.

- ☐ KS kenarı
- ☐ YP kenarı
- ☐ KP kenarı

Şekle ait olmayan kenar/kenarları işaretleyelim.

- ☐ AD kenarı
- ☐ AE kenarı
- ☐ DE kenarı

Şekle ait olmayan kenar/kenarları işaretleyelim.

- ☐ GT kenarı
- ☐ TĞ kenarı
- ☐ JĞ kenarı

Şekle ait olmayan kenar/kenarları işaretleyelim.

- ☐ PB kenarı
- ☐ BU kenarı
- ☐ BÖ kenarı

Şekle ait olmayan kenar/kenarları işaretleyelim.

- ☐ SC kenarı
- ☐ AC kenarı
- ☐ AS kenarı

SORU: Aşağıdaki şekillerde verilen kenarlardan şekle ait olmayanı bulunuz.

Şekle ait olmayan kenar/kenarları işaretleyelim.

☐ ZG kenarı

☐ GB kenarı

☐ Zİ kenarı

Şekle ait olmayan kenar/kenarları işaretleyelim.

☐ FP kenarı

☐ CÇ kenarı

☐ ÇF kenarı

Şekle ait olmayan kenar/kenarları işaretleyelim.

☐ ÜY kenarı

☐ ŞĞ kenarı

☐ ĞÜ kenarı

Şekle ait olmayan kenar/kenarları işaretleyelim.

☐ ŞP kenarı

☐ ŞE kenarı

☐ AP kenarı

Şekle ait olmayan kenar/kenarları işaretleyelim.

☐ YJ kenarı

☐ HJ kenarı

☐ YH kenarı

Şekle ait olmayan kenar/kenarları işaretleyelim.

☐ LA kenarı

☐ FI kenarı

☐ AI kenarı

Şekle ait olmayan kenar/kenarları işaretleyelim.

☐ LD kenarı

☐ DĞ kenarı

☐ ĞN kenarı

Şekle ait olmayan kenar/kenarları işaretleyelim.

☐ ŞY kenarı

☐ MY kenarı

☐ PM kenarı

Şekle ait olmayan kenar/kenarları işaretleyelim.

☐ ĞH kenarı

☐ HB kenarı

☐ ŞĞ kenarı

Şekle ait olmayan kenar/kenarları işaretleyelim.

☐ DE kenarı

☐ TD kenarı

☐ DL kenarı

Şekle ait olmayan kenar/kenarları işaretleyelim.

☐ NL kenarı

☐ NZ kenarı

☐ AN kenarı

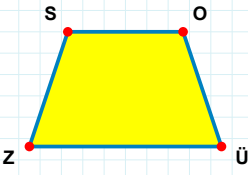
Şekle ait olmayan kenar/kenarları işaretleyelim.

☐ SE kenarı

☐ SN kenarı

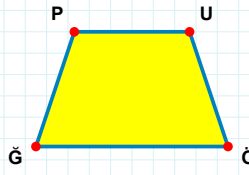
☐ EN kenarı

SORU: Aşağıdaki şekillerde verilen kenarlardan şekle ait olmayanı bulunuz.



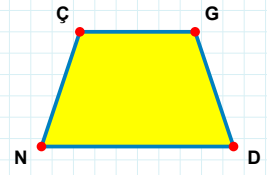
Şekle ait olmayan kenar/kenarları işaretleyelim.

- ☐ OZ kenarı
☐ ZS kenarı
☐ OÜ kenarı



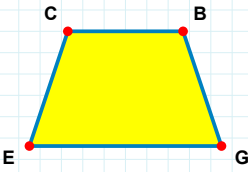
Şekle ait olmayan kenar/kenarları işaretleyelim.

- ☐ ÖĞ kenarı
☐ PÖ kenarı
☐ UÖ kenarı



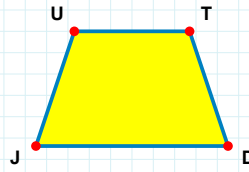
Şekle ait olmayan kenar/kenarları işaretleyelim.

- ☐ GN kenarı
☐ ÇD kenarı
☐ GD kenarı



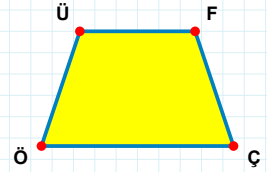
Şekle ait olmayan kenar/kenarları işaretleyelim.

- ☐ EC kenarı
☐ BE kenarı
☐ CG kenarı



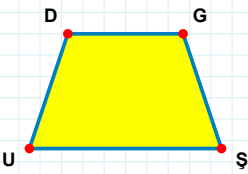
Şekle ait olmayan kenar/kenarları işaretleyelim.

- ☐ UD kenarı
☐ DJ kenarı
☐ UT kenarı



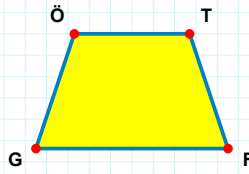
Şekle ait olmayan kenar/kenarları işaretleyelim.

- ☐ FÇ kenarı
☐ ÜÇ kenarı
☐ FÖ kenarı



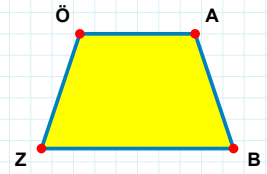
Şekle ait olmayan kenar/kenarları işaretleyelim.

- ☐ ŞU kenarı
☐ GU kenarı
☐ GŞ kenarı



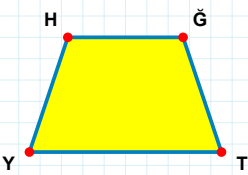
Şekle ait olmayan kenar/kenarları işaretleyelim.

- ☐ TF kenarı
☐ TG kenarı
☐ ÖF kenarı



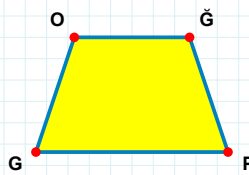
Şekle ait olmayan kenar/kenarları işaretleyelim.

- ☐ ÖB kenarı
☐ ÖA kenarı
☐ BZ kenarı



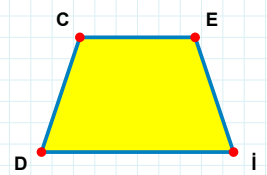
Şekle ait olmayan kenar/kenarları işaretleyelim.

- ☐ HT kenarı
☐ ĞY kenarı
☐ HĞ kenarı



Şekle ait olmayan kenar/kenarları işaretleyelim.

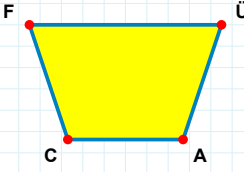
- ☐ ĞĞ kenarı
☐ GO kenarı
☐ OĞ kenarı



Şekle ait olmayan kenar/kenarları işaretleyelim.

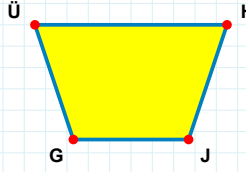
- ☐ İD kenarı
☐ ED kenarı
☐ CE kenarı

SORU: Aşağıdaki şekillerde verilen kenarlardan şekle ait olmayanı bulunuz.



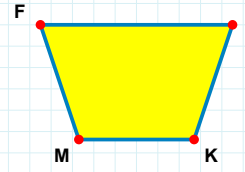
Şekle ait olmayan kenar/kenarları işaretleyelim.

- ☐ FA kenarı
☐ ÜA kenarı
☐ CF kenarı



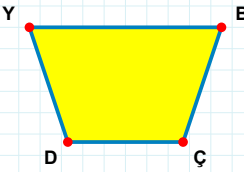
Şekle ait olmayan kenar/kenarları işaretleyelim.

- ☐ GÜ kenarı
☐ HJ kenarı
☐ HG kenarı



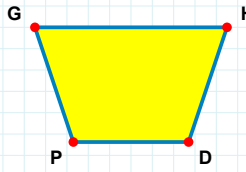
Şekle ait olmayan kenar/kenarları işaretleyelim.

- ☐ VM kenarı
☐ FV kenarı
☐ MF kenarı



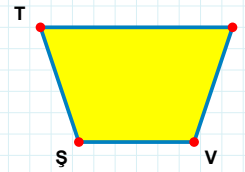
Şekle ait olmayan kenar/kenarları işaretleyelim.

- ☐ YÇ kenarı
☐ YB kenarı
☐ BÇ kenarı



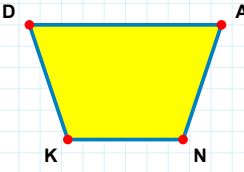
Şekle ait olmayan kenar/kenarları işaretleyelim.

- ☐ HD kenarı
☐ GD kenarı
☐ HP kenarı



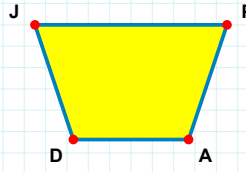
Şekle ait olmayan kenar/kenarları işaretleyelim.

- ☐ ÇV kenarı
☐ ÇŞ kenarı
☐ TV kenarı



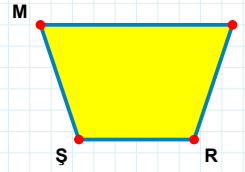
Şekle ait olmayan kenar/kenarları işaretleyelim.

- ☐ AN kenarı
☐ KD kenarı
☐ AK kenarı



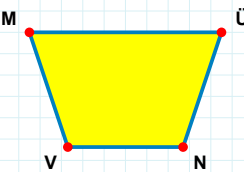
Şekle ait olmayan kenar/kenarları işaretleyelim.

- ☐ PA kenarı
☐ JA kenarı
☐ PD kenarı



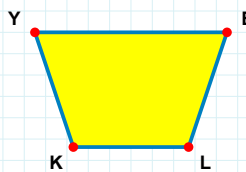
Şekle ait olmayan kenar/kenarları işaretleyelim.

- ☐ PŞ kenarı
☐ RŞ kenarı
☐ MR kenarı



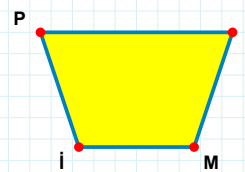
Şekle ait olmayan kenar/kenarları işaretleyelim.

- ☐ MÜ kenarı
☐ ÜV kenarı
☐ MN kenarı



Şekle ait olmayan kenar/kenarları işaretleyelim.

- ☐ YE kenarı
☐ YL kenarı
☐ LK kenarı



Şekle ait olmayan kenar/kenarları işaretleyelim.

- ☐ PM kenarı
☐ Jİ kenarı
☐ Mİ kenarı

SORU: Aşağıdaki şekillerde verilen kenarlardan şekle ait olmayanı bulunuz.

Şekle ait olmayan kenar/kenarları işaretleyelim.

☐ LÜ kenarı

☐ GL kenarı

☐ ÜÇ kenarı

Şekle ait olmayan kenar/kenarları işaretleyelim.

☐ ÇA kenarı

☐ AN kenarı

☐ NV kenarı

Şekle ait olmayan kenar/kenarları işaretleyelim.

☐ ÖU kenarı

☐ ÖV kenarı

☐ UÜ kenarı

Şekle ait olmayan kenar/kenarları işaretleyelim.

☐ VN kenarı

☐ DV kenarı

☐ VO kenarı

Şekle ait olmayan kenar/kenarları işaretleyelim.

☐ FH kenarı

☐ ÖF kenarı

☐ ŞH kenarı

Şekle ait olmayan kenar/kenarları işaretleyelim.

☐ ZO kenarı

☐ KZ kenarı

☐ İZ kenarı

Şekle ait olmayan kenar/kenarları işaretleyelim.

☐ SC kenarı

☐ ÖF kenarı

☐ SÖ kenarı

Şekle ait olmayan kenar/kenarları işaretleyelim.

☐ ĞD kenarı

☐ DP kenarı

☐ PĞ kenarı

Şekle ait olmayan kenar/kenarları işaretleyelim.

☐ ŞG kenarı

☐ DJ kenarı

☐ GD kenarı

Şekle ait olmayan kenar/kenarları işaretleyelim.

☐ YÖ kenarı

☐ YN kenarı

☐ LÖ kenarı

Şekle ait olmayan kenar/kenarları işaretleyelim.

☐ RÇ kenarı

☐ AR kenarı

☐ ÇA kenarı

Şekle ait olmayan kenar/kenarları işaretleyelim.

☐ ĞK kenarı

☐ JĞ kenarı

☐ KJ kenarı

SÜREÇ ODAKLI DEĞERLENDİRME ÖLÇEĞİ			
Geliştirilmeli (0-100)	İyi (101-172)	Çok İyi (173-244)	Mükemmel (245-288)
<input type="checkbox"/>	<input type="checkbox"/>	<input type="checkbox"/>	<input type="checkbox"/>

Hazırlayan:

Bu bölüme sınıfınızın ilgili kazanıma yönelik genel durumuna ilişkin gözlem ve izlenimlerinizi, öğrencilerinizin bu kazanımla ilgili öğrenme eksikliklerini ve bu eksikliklerin giderilmesi amacıyla yaptığınız/yapmayı planladığınız faaliyetleri not edebilirsiniz.

No	Adı - Soyadı	Toplam Puan	Değerlendirme
1			
2			
3			
4			
5			
6			
7			
8			
9			
10			
11			
12			
13			
14			
15			
16			
17			
18			
19			
20			
21			
22			
23			
24			
25			
26			
27			
28			
29			
30			
31			
32			
33			
34			
35			

Hazırlayan: