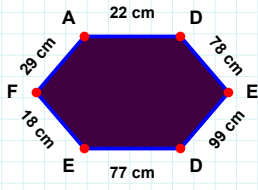
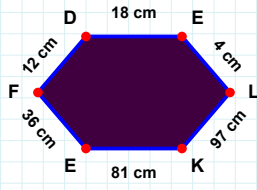


**SORU:** Aşağıdaki şekillerde istenen kenarın kaç birim veya santimetre olduğunu bulunuz.



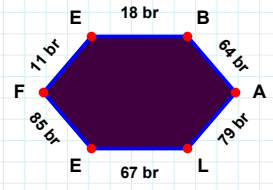
|FD| kaç cm'dir?

- ☐ 7 cm  
☐ 12 cm  
☐ 14 cm



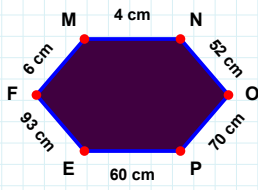
|FA| kaç cm'dir?

- ☐ 39 cm  
☐ 27 cm  
☐ 29 cm



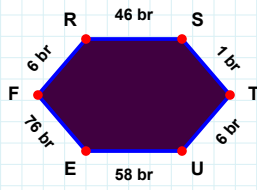
|LE| kaç br'dir?

- ☐ 66 br  
☐ 67 br  
☐ 57 br



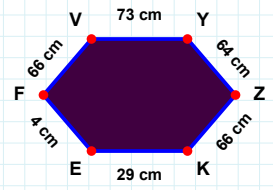
|TU| kaç br'dir?

- ☐ 3 br  
☐ 4 br  
☐ 6 br



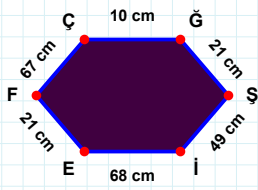
|YZ| kaç cm'dir?

- ☐ 64 cm  
☐ 69 cm  
☐ 67 cm



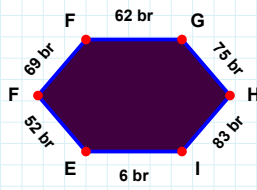
|MN| kaç cm'dir?

- ☐ 7 cm  
☐ 14 cm  
☐ 4 cm



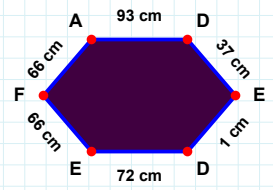
|IE| kaç cm'dir?

- ☐ 71 cm  
☐ 69 cm  
☐ 68 cm



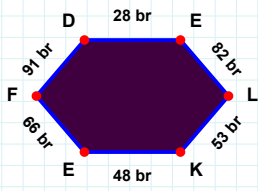
|DE| kaç cm'dir?

- ☐ 39 cm  
☐ 32 cm  
☐ 37 cm



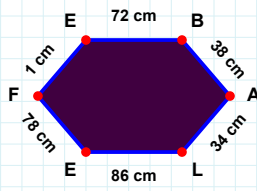
|FF| kaç br'dir?

- ☐ 70 br  
☐ 68 br  
☐ 69 br



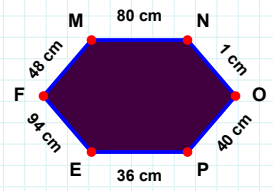
|EF| kaç br'dir?

- ☐ 68 br  
☐ 76 br  
☐ 66 br



|PE| kaç cm'dir?

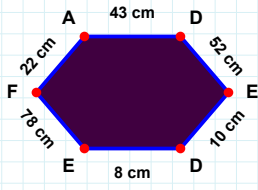
- ☐ 26 cm  
☐ 33 cm  
☐ 36 cm



|AL| kaç cm'dir?

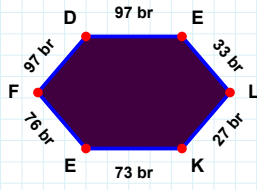
- ☐ 31 cm  
☐ 34 cm  
☐ 32 cm

**SORU:** Aşağıdaki şekillerde istenen kenarın kaç birim veya santimetre olduğunu bulunuz.



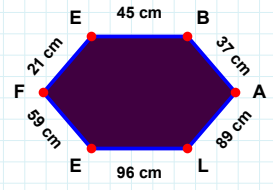
|FD| kaç brdir?

- ☐ 97 br  
☐ 99 br  
☐ 98 br



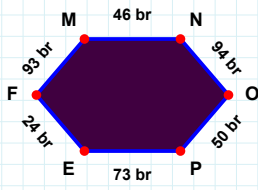
|AL| kaç cmdir?

- ☐ 86 cm  
☐ 89 cm  
☐ 94 cm



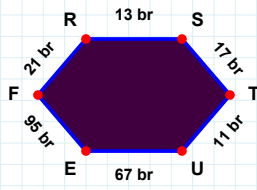
|DE| kaç cmdir?

- ☐ 42 cm  
☐ 57 cm  
☐ 52 cm



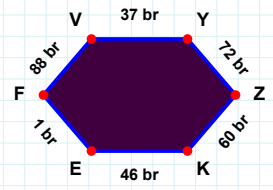
|NO| kaç brdir?

- ☐ 92 br  
☐ 94 br  
☐ 96 br



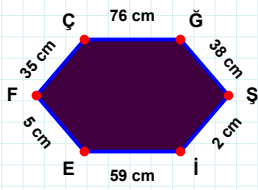
|ZK| kaç brdir?

- ☐ 60 br  
☐ 70 br  
☐ 50 br



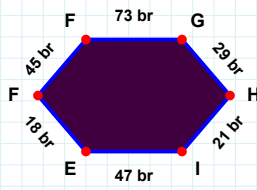
|UE| kaç brdir?

- ☐ 67 br  
☐ 57 br  
☐ 65 br



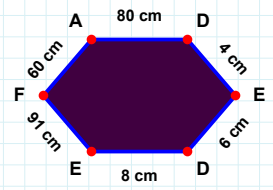
|HI| kaç brdir?

- ☐ 18 br  
☐ 19 br  
☐ 21 br



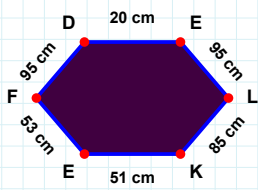
|IE| kaç cmdir?

- ☐ 59 cm  
☐ 57 cm  
☐ 58 cm



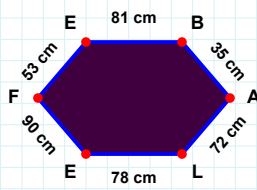
|EF| kaç cmdir?

- ☐ 96 cm  
☐ 91 cm  
☐ 90 cm



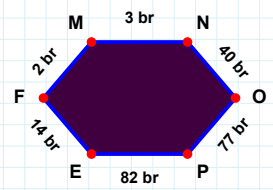
|LK| kaç cmdir?

- ☐ 88 cm  
☐ 85 cm  
☐ 87 cm



|EF| kaç brdir?

- ☐ 16 br  
☐ 12 br  
☐ 14 br



|BA| kaç cmdir?

- ☐ 35 cm  
☐ 25 cm  
☐ 33 cm

### SÜREÇ ODAKLI DEĞERLENDİRME ÖLÇEĞİ

Doğru Sayısı: ..... / 24

Öğretmen ilgili kutucuğu işaretler.

Geliştirilmeli (0-8)

İyi (9-14)

Çok İyi (15-20)

Mükemmel (21-24)

☐
☐
☐
☐

Hazırlayan: .....

Bu bölüme sınıfınızın ilgili kazanıma yönelik genel durumuna ilişkin gözlem ve izlenimlerinizi, öğrencilerinizin bu kazanımla ilgili öğrenme eksikliklerini ve bu eksikliklerin giderilmesi amacıyla yaptığınız/yapmayı planladığınız faaliyetleri not edebilirsiniz.

No	Adı - Soyadı	Toplam Puan	Değerlendirme
1			
2			
3			
4			
5			
6			
7			
8			
9			
10			
11			
12			
13			
14			
15			
16			
17			
18			
19			
20			
21			
22			
23			
24			
25			
26			
27			
28			
29			
30			
31			
32			
33			
34			
35			

Hazırlayan: .....