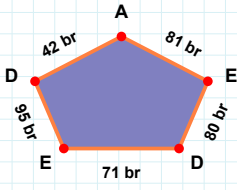
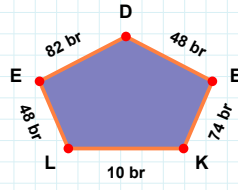


**SORU:** Aşağıdaki şekillerde istenen kenarın kaç birim veya santimetre olduğunu bulunuz.



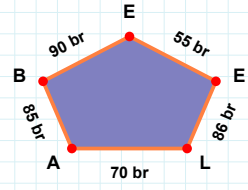
|DE| kaç brdir?

- ☐ 80 br  
☐ 82 br  
☐ 79 br



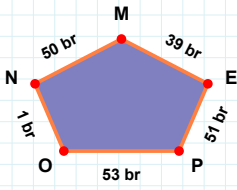
|DE| kaç brdir?

- ☐ 84 br  
☐ 82 br  
☐ 81 br



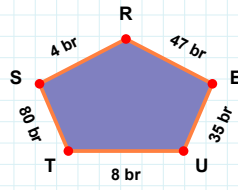
|AL| kaç brdir?

- ☐ 67 br  
☐ 73 br  
☐ 70 br



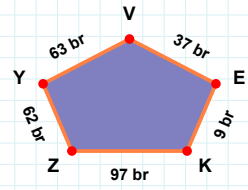
|KE| kaç brdir?

- ☐ 9 br  
☐ 12 br  
☐ 14 br



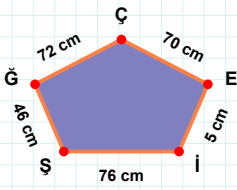
|MN| kaç brdir?

- ☐ 40 br  
☐ 50 br  
☐ 60 br



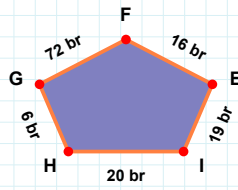
|ST| kaç brdir?

- ☐ 80 br  
☐ 90 br  
☐ 82 br



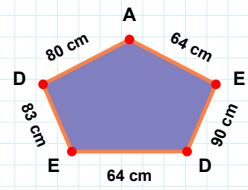
|EÇ| kaç cmdir?

- ☐ 68 cm  
☐ 70 cm  
☐ 69 cm



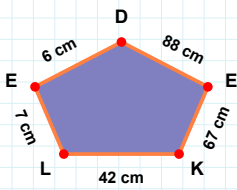
|ED| kaç cmdir?

- ☐ 62 cm  
☐ 64 cm  
☐ 66 cm



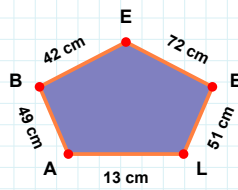
|HI| kaç brdir?

- ☐ 22 br  
☐ 17 br  
☐ 20 br



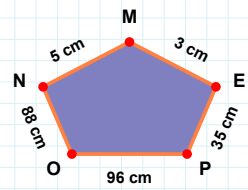
|OP| kaç cmdir?

- ☐ 96 cm  
☐ 99 cm  
☐ 93 cm



|EB| kaç cmdir?

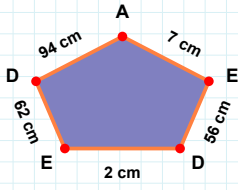
- ☐ 44 cm  
☐ 45 cm  
☐ 42 cm



|KE| kaç cmdir?

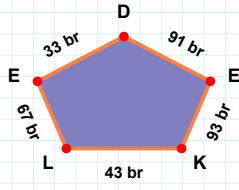
- ☐ 67 cm  
☐ 64 cm  
☐ 69 cm

**SORU:** Aşağıdaki şekillerde istenen kenarın kaç birim veya santimetre olduğunu bulunuz.



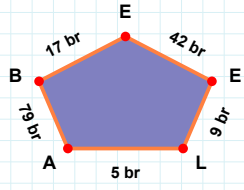
|LE| kaç brdir?

- ☐ 7 br  
☐ 8 br  
☐ 9 br



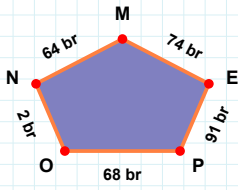
|DE| kaç cmdir?

- ☐ 52 cm  
☐ 67 cm  
☐ 62 cm



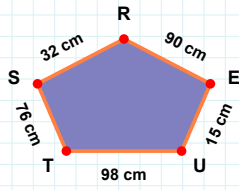
|LK| kaç brdir?

- ☐ 43 br  
☐ 53 br  
☐ 45 br



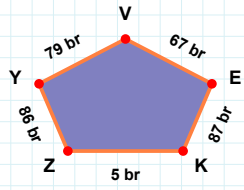
|MN| kaç brdir?

- ☐ 64 br  
☐ 61 br  
☐ 69 br



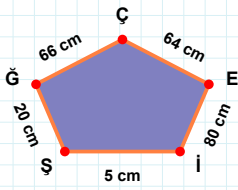
|ZK| kaç brdir?

- ☐ 7 br  
☐ 3 br  
☐ 5 br



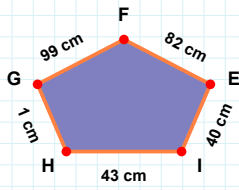
|UE| kaç cmdir?

- ☐ 14 cm  
☐ 15 cm  
☐ 17 cm



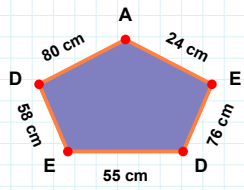
|Şİ| kaç cmdir?

- ☐ 5 cm  
☐ 7 cm  
☐ 2 cm



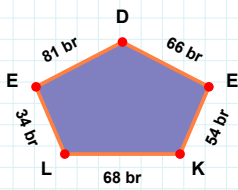
|EA| kaç cmdir?

- ☐ 22 cm  
☐ 26 cm  
☐ 24 cm



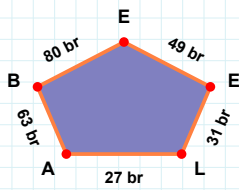
|IE| kaç cmdir?

- ☐ 43 cm  
☐ 40 cm  
☐ 39 cm



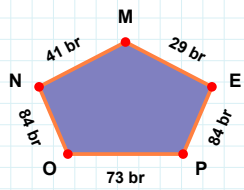
|EM| kaç brdir?

- ☐ 29 br  
☐ 34 br  
☐ 24 br



|LE| kaç brdir?

- ☐ 30 br  
☐ 31 br  
☐ 21 br



|DE| kaç brdir?

- ☐ 83 br  
☐ 81 br  
☐ 82 br

### SÜREÇ ODAKLI DEĞERLENDİRME ÖLÇEĞİ

Doğru Sayısı: ..... / 24

Öğretmen ilgili kutucuğu işaretler.

Geliştirilmeli (0-8)

İyi (9-14)

Çok İyi (15-20)

Mükemmel (21-24)

☐
☐
☐
☐

Hazırlayan: .....

Bu bölüme sınıfınızın ilgili kazanıma yönelik genel durumuna ilişkin gözlem ve izlenimlerinizi, öğrencilerinizin bu kazanımla ilgili öğrenme eksikliklerini ve bu eksikliklerin giderilmesi amacıyla yaptığınız/yapmayı planladığınız faaliyetleri not edebilirsiniz.

No	Adı - Soyadı	Toplam Puan	Değerlendirme
1			
2			
3			
4			
5			
6			
7			
8			
9			
10			
11			
12			
13			
14			
15			
16			
17			
18			
19			
20			
21			
22			
23			
24			
25			
26			
27			
28			
29			
30			
31			
32			
33			
34			
35			

Hazırlayan: .....