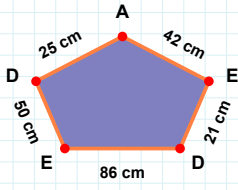
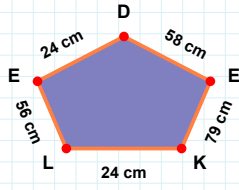


**SORU:** Aşağıdaki şekillerde istenen kenarın kaç birim veya santimetre olduğunu bulunuz.



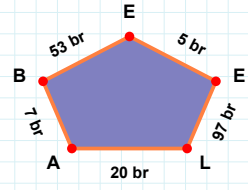
|KE| kaç cm'dir?

- ☐ 78 cm  
☐ 79 cm  
☐ 89 cm



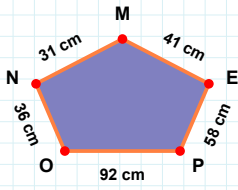
|EB| kaç br'dir?

- ☐ 43 br  
☐ 56 br  
☐ 53 br



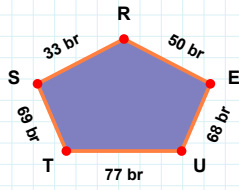
|AD| kaç cm'dir?

- ☐ 35 cm  
☐ 25 cm  
☐ 24 cm



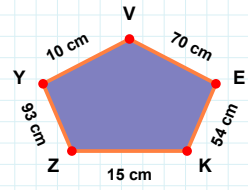
|OP| kaç cm'dir?

- ☐ 91 cm  
☐ 82 cm  
☐ 92 cm



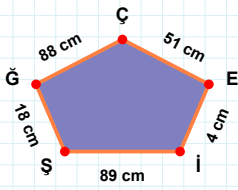
|TU| kaç br'dir?

- ☐ 78 br  
☐ 77 br  
☐ 80 br



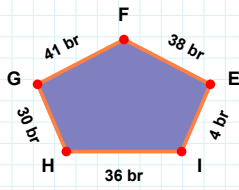
|EV| kaç cm'dir?

- ☐ 70 cm  
☐ 68 cm  
☐ 80 cm



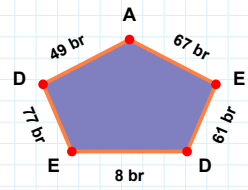
|Şİ| kaç cm'dir?

- ☐ 89 cm  
☐ 84 cm  
☐ 92 cm



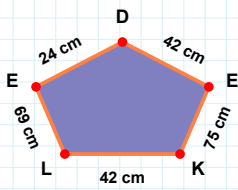
|HI| kaç br'dir?

- ☐ 36 br  
☐ 34 br  
☐ 35 br



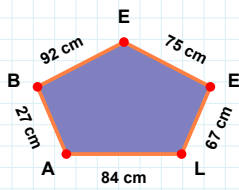
|DE| kaç br'dir?

- ☐ 74 br  
☐ 77 br  
☐ 87 br



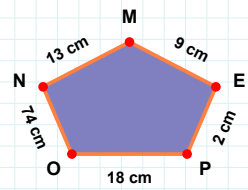
|PE| kaç cm'dir?

- ☐ 5 cm  
☐ 2 cm  
☐ 3 cm



|BA| kaç cm'dir?

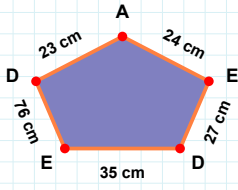
- ☐ 29 cm  
☐ 27 cm  
☐ 30 cm



|EL| kaç cm'dir?

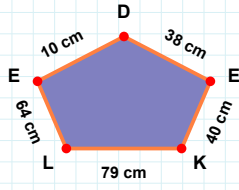
- ☐ 68 cm  
☐ 69 cm  
☐ 71 cm

**SORU:** Aşağıdaki şekillerde istenen kenarın kaç birim veya santimetre olduğunu bulunuz.



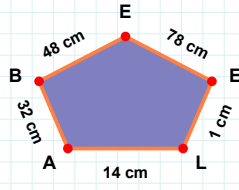
|AL| kaç cmdir?

- ☐ 13 cm  
☐ 24 cm  
☐ 14 cm



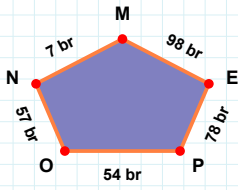
|ED| kaç cmdir?

- ☐ 32 cm  
☐ 35 cm  
☐ 37 cm



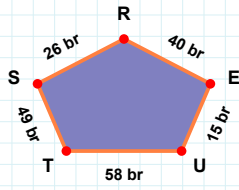
|DE| kaç cmdir?

- ☐ 13 cm  
☐ 9 cm  
☐ 10 cm



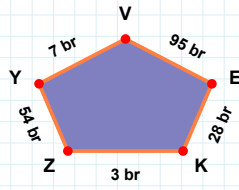
|KE| kaç brdir?

- ☐ 26 br  
☐ 28 br  
☐ 30 br



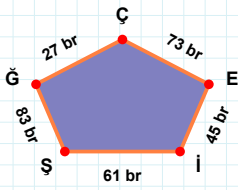
|OP| kaç brdir?

- ☐ 54 br  
☐ 51 br  
☐ 53 br



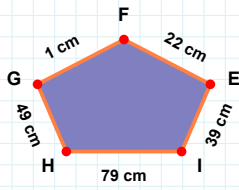
|UE| kaç brdir?

- ☐ 15 br  
☐ 17 br  
☐ 13 br



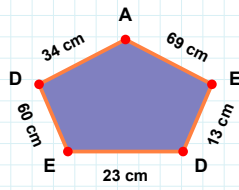
|EÇ| kaç brdir?

- ☐ 76 br  
☐ 68 br  
☐ 73 br



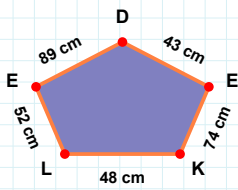
|EA| kaç cmdir?

- ☐ 79 cm  
☐ 69 cm  
☐ 68 cm



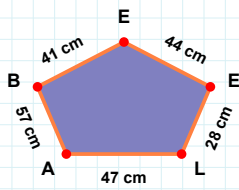
|GH| kaç cmdir?

- ☐ 44 cm  
☐ 49 cm  
☐ 51 cm



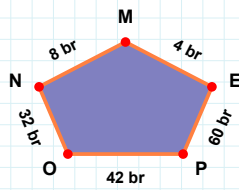
|PE| kaç brdir?

- ☐ 62 br  
☐ 60 br  
☐ 61 br



|LK| kaç cmdir?

- ☐ 53 cm  
☐ 48 cm  
☐ 51 cm



|AL| kaç cmdir?

- ☐ 42 cm  
☐ 47 cm  
☐ 52 cm

## SÜREÇ ODAKLI DEĞERLENDİRME ÖLÇEĞİ

Doğru Sayısı: ..... / 24

Öğretmen ilgili kutucuğu işaretler.

Geliştirilmeli (0-8)

İyi (9-14)

Çok İyi (15-20)

Mükemmel (21-24)

☐
☐
☐
☐

Hazırlayan: .....

Bu bölüme sınıfınızın ilgili kazanıma yönelik genel durumuna ilişkin gözlem ve izlenimlerinizi, öğrencilerinizin bu kazanımla ilgili öğrenme eksikliklerini ve bu eksikliklerin giderilmesi amacıyla yaptığınız/yapmayı planladığınız faaliyetleri not edebilirsiniz.

No	Adı - Soyadı	Toplam Puan	Değerlendirme
1			
2			
3			
4			
5			
6			
7			
8			
9			
10			
11			
12			
13			
14			
15			
16			
17			
18			
19			
20			
21			
22			
23			
24			
25			
26			
27			
28			
29			
30			
31			
32			
33			
34			
35			

Hazırlayan: .....