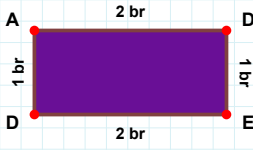


SORU: Aşağıdaki şekillerde istenen kenarın kaç birim veya santimetre olduğunu bulunuz.

|AD| kaç brdir?

- ☐ 2 br
☐ 7 br
☐ 4 br



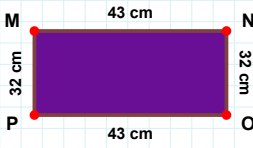
|KD| kaç brdir?

- ☐ 72 br
☐ 82 br
☐ 77 br



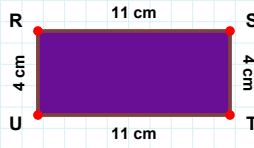
|LE| kaç brdir?

- ☐ 15 br
☐ 23 br
☐ 18 br



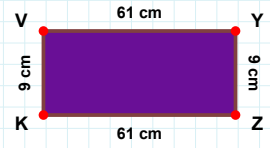
|TU| kaç cmdir?

- ☐ 1 cm
☐ 11 cm
☐ 13 cm



|KV| kaç cmdir?

- ☐ 9 cm
☐ 12 cm
☐ 4 cm



|PM| kaç cmdir?

- ☐ 32 cm
☐ 27 cm
☐ 34 cm



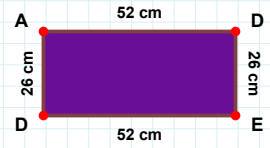
|ED| kaç cmdir?

- ☐ 51 cm
☐ 57 cm
☐ 52 cm



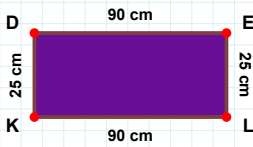
|FG| kaç brdir?

- ☐ 36 br
☐ 41 br
☐ 35 br



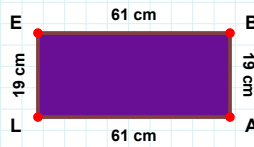
|Şİ| kaç brdir?

- ☐ 32 br
☐ 30 br
☐ 33 br



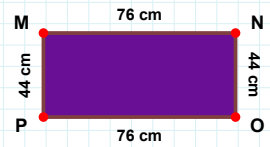
|PM| kaç cmdir?

- ☐ 39 cm
☐ 54 cm
☐ 44 cm



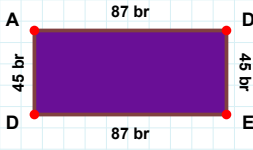
|EB| kaç cmdir?

- ☐ 62 cm
☐ 63 cm
☐ 61 cm



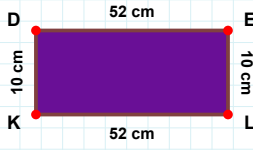
|KD| kaç cmdir?

- ☐ 27 cm
☐ 25 cm
☐ 20 cm

SORU: Aşağıdaki şekillerde istenen kenarın kaç birim veya santimetre olduğunu bulunuz.

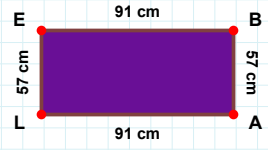
|DA| kaç brdir?

- ☐ 45 br
☐ 44 br
☐ 46 br



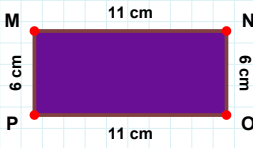
|EB| kaç cmdir?

- ☐ 93 cm
☐ 94 cm
☐ 91 cm



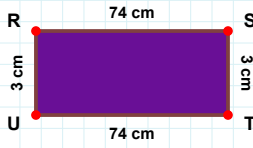
|LK| kaç cmdir?

- ☐ 51 cm
☐ 55 cm
☐ 52 cm



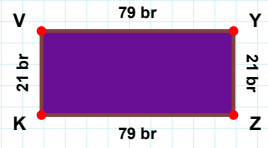
|UR| kaç cmdir?

- ☐ 2 cm
☐ 1 cm
☐ 3 cm



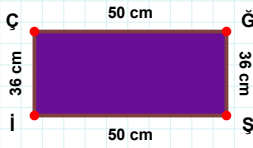
|VY| kaç brdir?

- ☐ 79 br
☐ 77 br
☐ 82 br



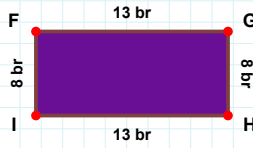
|NO| kaç cmdir?

- ☐ 3 cm
☐ 6 cm
☐ 4 cm



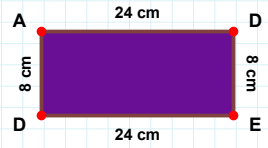
|İF| kaç brdir?

- ☐ 6 br
☐ 18 br
☐ 8 br



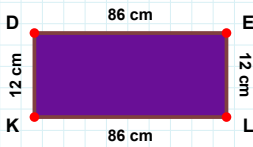
|ĞŞ| kaç cmdir?

- ☐ 36 cm
☐ 46 cm
☐ 34 cm



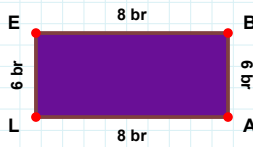
|DE| kaç cmdir?

- ☐ 5 cm
☐ 8 cm
☐ 13 cm



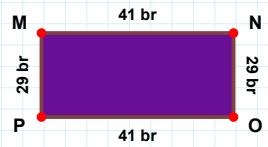
|PM| kaç brdir?

- ☐ 29 br
☐ 31 br
☐ 32 br



|KD| kaç cmdir?

- ☐ 14 cm
☐ 7 cm
☐ 12 cm



|LE| kaç brdir?

- ☐ 6 br
☐ 7 br
☐ 4 br

SÜREÇ ODAKLI DEĞERLENDİRME ÖLÇEĞİ

Doğru Sayısı: / 24

Öğretmen ilgili kutucuğu işaretler.

Geliştirilmeli (0-8)

İyi (9-14)

Çok İyi (15-20)

Mükemmel (21-24)

☐☐☐☐

Hazırlayan:

Bu bölüme sınıfınızın ilgili kazanıma yönelik genel durumuna ilişkin gözlem ve izlenimlerinizi, öğrencilerinizin bu kazanımla ilgili öğrenme eksikliklerini ve bu eksikliklerin giderilmesi amacıyla yaptığınız/yapmayı planladığınız faaliyetleri not edebilirsiniz.

No	Adı - Soyadı	Toplam Puan	Değerlendirme
1			
2			
3			
4			
5			
6			
7			
8			
9			
10			
11			
12			
13			
14			
15			
16			
17			
18			
19			
20			
21			
22			
23			
24			
25			
26			
27			
28			
29			
30			
31			
32			
33			
34			
35			

Hazırlayan: