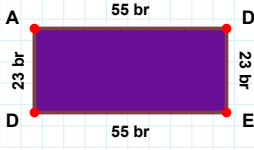
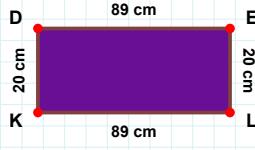


SORU: Aşağıdaki şekillerde istenen kenarın kaç birim veya santimetre olduğunu bulunuz.

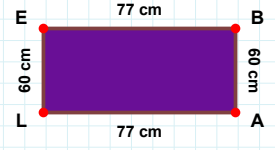
|LE| kaç cmdir?

- ☐ 60 cm
☐ 65 cm
☐ 63 cm



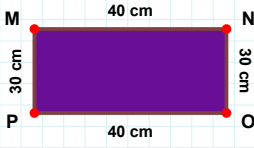
|DE| kaç cmdir?

- ☐ 91 cm
☐ 86 cm
☐ 89 cm



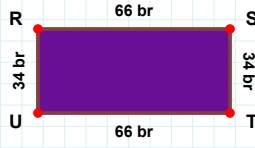
|DA| kaç brdir?

- ☐ 23 br
☐ 22 br
☐ 21 br



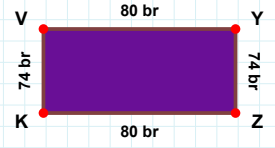
|OP| kaç cmdir?

- ☐ 40 cm
☐ 41 cm
☐ 37 cm



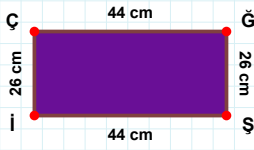
|TU| kaç brdir?

- ☐ 66 br
☐ 65 br
☐ 56 br



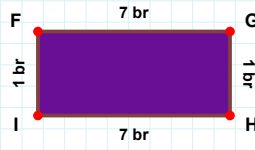
|YZ| kaç brdir?

- ☐ 74 br
☐ 77 br
☐ 64 br



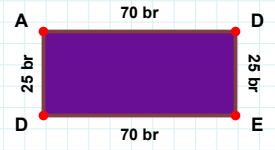
|Şİ| kaç cmdir?

- ☐ 44 cm
☐ 42 cm
☐ 46 cm



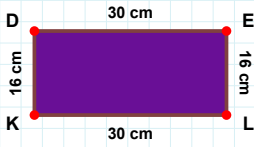
|İF| kaç brdir?

- ☐ 1 br
☐ 4 br
☐ 6 br



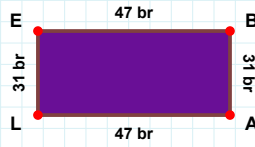
|DA| kaç brdir?

- ☐ 35 br
☐ 15 br
☐ 25 br



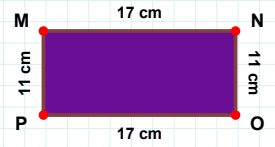
|PM| kaç cmdir?

- ☐ 8 cm
☐ 11 cm
☐ 14 cm



|DE| kaç cmdir?

- ☐ 27 cm
☐ 28 cm
☐ 30 cm



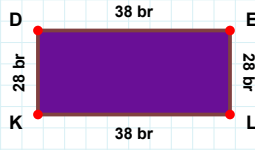
|LE| kaç brdir?

- ☐ 34 br
☐ 31 br
☐ 21 br

SORU: Aşağıdaki şekillerde istenen kenarın kaç birim veya santimetre olduğunu bulunuz.

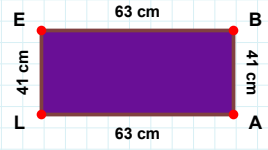
|AL| kaç cmdir?

- ☐ 63 cm
☐ 65 cm
☐ 62 cm



|LK| kaç brdir?

- ☐ 38 br
☐ 36 br
☐ 28 br



|DA| kaç brdir?

- ☐ 59 br
☐ 57 br
☐ 47 br



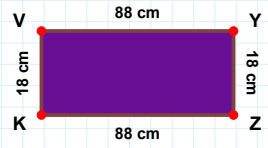
|NO| kaç brdir?

- ☐ 42 br
☐ 40 br
☐ 45 br



|ST| kaç brdir?

- ☐ 6 br
☐ 1 br
☐ 9 br



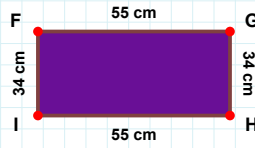
|KV| kaç cmdir?

- ☐ 16 cm
☐ 20 cm
☐ 18 cm



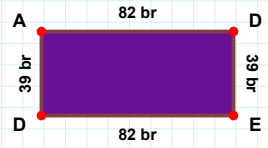
|İÇ| kaç brdir?

- ☐ 7 br
☐ 5 br
☐ 17 br



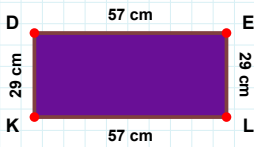
|ED| kaç brdir?

- ☐ 83 br
☐ 92 br
☐ 82 br



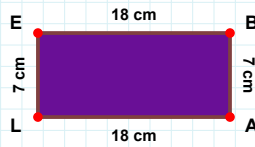
|GH| kaç cmdir?

- ☐ 34 cm
☐ 36 cm
☐ 32 cm



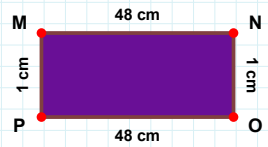
|KD| kaç cmdir?

- ☐ 19 cm
☐ 29 cm
☐ 39 cm



|AL| kaç cmdir?

- ☐ 13 cm
☐ 18 cm
☐ 23 cm



|MN| kaç cmdir?

- ☐ 48 cm
☐ 53 cm
☐ 47 cm

SÜREÇ ODAKLI DEĞERLENDİRME ÖLÇEĞİ

Doğru Sayısı: / 24

Öğretmen ilgili kutucuğu işaretler.

Geliştirilmeli (0-8)

İyi (9-14)

Çok İyi (15-20)

Mükemmel (21-24)

☐☐☐☐

Hazırlayan:

Bu bölüme sınıfınızın ilgili kazanıma yönelik genel durumuna ilişkin gözlem ve izlenimlerinizi, öğrencilerinizin bu kazanımla ilgili öğrenme eksikliklerini ve bu eksikliklerin giderilmesi amacıyla yaptığınız/yapmayı planladığınız faaliyetleri not edebilirsiniz.

No	Adı - Soyadı	Toplam Puan	Değerlendirme
1			
2			
3			
4			
5			
6			
7			
8			
9			
10			
11			
12			
13			
14			
15			
16			
17			
18			
19			
20			
21			
22			
23			
24			
25			
26			
27			
28			
29			
30			
31			
32			
33			
34			
35			

Hazırlayan: