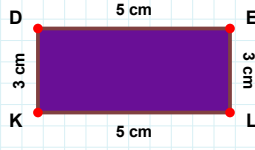


**SORU:** Aşağıdaki şekillerde istenen kenarın kaç birim veya santimetre olduğunu bulunuz.

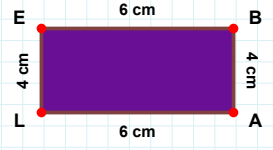
|EB| kaç cmdir?

- ☐ 11 cm  
☐ 6 cm  
☐ 7 cm



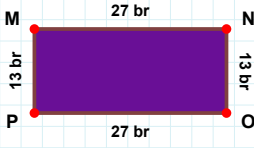
|LK| kaç cmdir?

- ☐ 6 cm  
☐ 15 cm  
☐ 5 cm



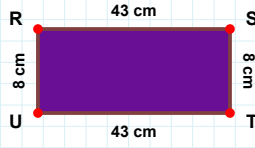
|AD| kaç brdir?

- ☐ 89 br  
☐ 90 br  
☐ 87 br



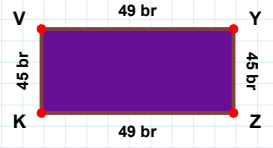
|ZK| kaç brdir?

- ☐ 54 br  
☐ 52 br  
☐ 49 br



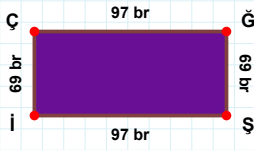
|RS| kaç cmdir?

- ☐ 46 cm  
☐ 43 cm  
☐ 40 cm



|PM| kaç brdir?

- ☐ 13 br  
☐ 12 br  
☐ 10 br



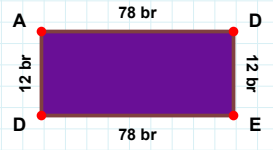
|İÇ| kaç brdir?

- ☐ 69 br  
☐ 68 br  
☐ 70 br



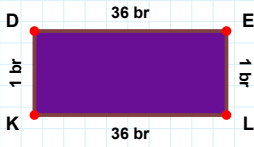
|DA| kaç brdir?

- ☐ 9 br  
☐ 17 br  
☐ 12 br



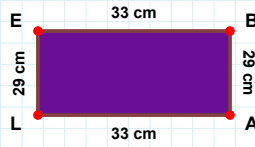
|FG| kaç brdir?

- ☐ 91 br  
☐ 92 br  
☐ 94 br



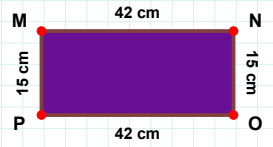
|PM| kaç cmdir?

- ☐ 16 cm  
☐ 15 cm  
☐ 13 cm



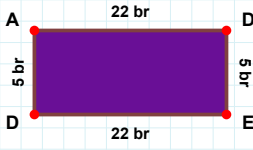
|BA| kaç cmdir?

- ☐ 19 cm  
☐ 29 cm  
☐ 26 cm



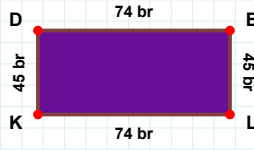
|KD| kaç brdir?

- ☐ 4 br  
☐ 1 br  
☐ 11 br

**SORU:** Aşağıdaki şekillerde istenen kenarın kaç birim veya santimetre olduğunu bulunuz.

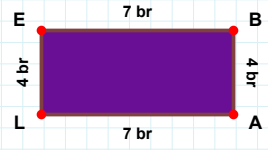
|BA| kaç brdir?

- ☐ 14 br  
☐ 1 br  
☐ 4 br



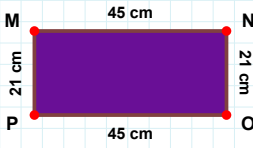
|AD| kaç brdir?

- ☐ 21 br  
☐ 27 br  
☐ 22 br



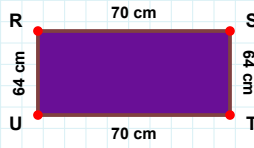
|EL| kaç brdir?

- ☐ 50 br  
☐ 46 br  
☐ 45 br



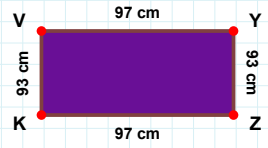
|MN| kaç cmdir?

- ☐ 45 cm  
☐ 43 cm  
☐ 46 cm



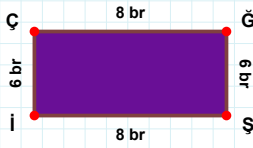
|UR| kaç cmdir?

- ☐ 59 cm  
☐ 54 cm  
☐ 64 cm



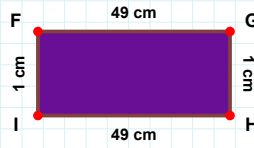
|VY| kaç cmdir?

- ☐ 97 cm  
☐ 98 cm  
☐ 95 cm



|HI| kaç cmdir?

- ☐ 44 cm  
☐ 50 cm  
☐ 49 cm



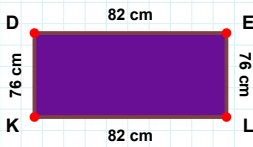
|Şİ| kaç brdir?

- ☐ 5 br  
☐ 8 br  
☐ 18 br



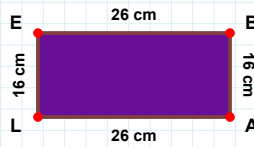
|ED| kaç brdir?

- ☐ 60 br  
☐ 55 br  
☐ 65 br



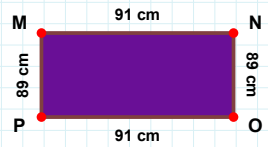
|MN| kaç cmdir?

- ☐ 96 cm  
☐ 91 cm  
☐ 81 cm



|LE| kaç cmdir?

- ☐ 16 cm  
☐ 11 cm  
☐ 14 cm



|KD| kaç cmdir?

- ☐ 76 cm  
☐ 71 cm  
☐ 81 cm

## SÜREÇ ODAKLI DEĞERLENDİRME ÖLÇEĞİ

Doğru Sayısı: ..... / 24

Öğretmen ilgili kutucuğu işaretler.

Geliştirilmeli (0-8)

İyi (9-14)

Çok İyi (15-20)

Mükemmel (21-24)

☐
☐
☐
☐

Hazırlayan: .....

Bu bölüme sınıfınızın ilgili kazanıma yönelik genel durumuna ilişkin gözlem ve izlenimlerinizi, öğrencilerinizin bu kazanımla ilgili öğrenme eksikliklerini ve bu eksikliklerin giderilmesi amacıyla yaptığınız/yapmayı planladığınız faaliyetleri not edebilirsiniz.

No	Adı - Soyadı	Toplam Puan	Değerlendirme
1			
2			
3			
4			
5			
6			
7			
8			
9			
10			
11			
12			
13			
14			
15			
16			
17			
18			
19			
20			
21			
22			
23			
24			
25			
26			
27			
28			
29			
30			
31			
32			
33			
34			
35			

Hazırlayan: .....