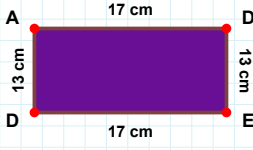


SORU: Aşağıdaki şekillerde istenen kenarın kaç birim veya santimetre olduğunu bulunuz.

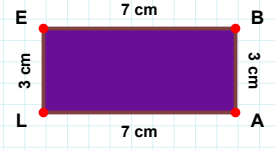
|KD| kaç brdir?

- ☐ 44 br
☐ 52 br
☐ 47 br



|LE| kaç cmdir?

- ☐ 6 cm
☐ 3 cm
☐ 4 cm



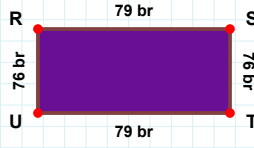
|ED| kaç cmdir?

- ☐ 17 cm
☐ 15 cm
☐ 7 cm



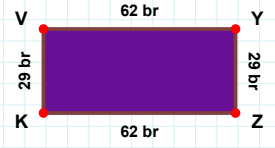
|MN| kaç brdir?

- ☐ 60 br
☐ 63 br
☐ 66 br



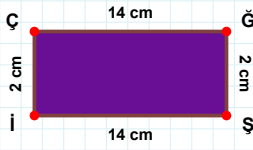
|TU| kaç brdir?

- ☐ 80 br
☐ 79 br
☐ 78 br



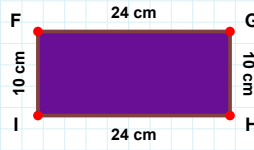
|KV| kaç brdir?

- ☐ 28 br
☐ 19 br
☐ 29 br



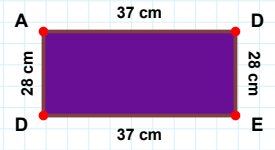
|DE| kaç cmdir?

- ☐ 28 cm
☐ 33 cm
☐ 38 cm



|ÇĞ| kaç cmdir?

- ☐ 19 cm
☐ 16 cm
☐ 14 cm



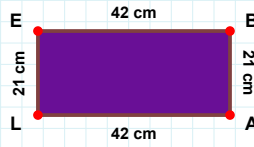
|GH| kaç cmdir?

- ☐ 9 cm
☐ 11 cm
☐ 10 cm



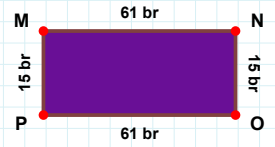
|LK| kaç brdir?

- ☐ 91 br
☐ 90 br
☐ 86 br



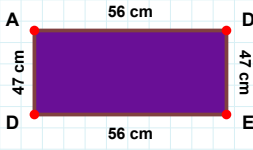
|BA| kaç cmdir?

- ☐ 24 cm
☐ 21 cm
☐ 18 cm



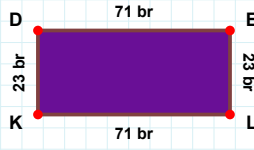
|MN| kaç brdir?

- ☐ 61 br
☐ 58 br
☐ 71 br

SORU: Aşağıdaki şekillerde istenen kenarın kaç birim veya santimetre olduğunu bulunuz.

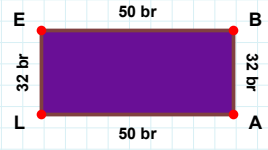
|BA| kaç brdir?

- ☐ 35 br
☐ 32 br
☐ 42 br



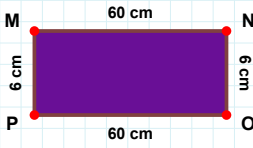
|KD| kaç brdir?

- ☐ 21 br
☐ 33 br
☐ 23 br



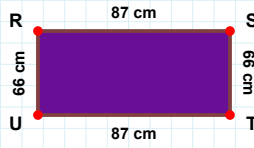
|DE| kaç cmdir?

- ☐ 57 cm
☐ 48 cm
☐ 47 cm



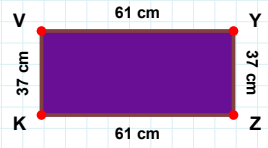
|TU| kaç cmdir?

- ☐ 97 cm
☐ 87 cm
☐ 88 cm



|MN| kaç cmdir?

- ☐ 58 cm
☐ 60 cm
☐ 59 cm



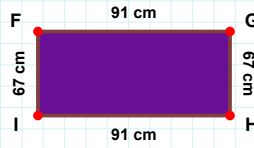
|KV| kaç cmdir?

- ☐ 32 cm
☐ 38 cm
☐ 37 cm



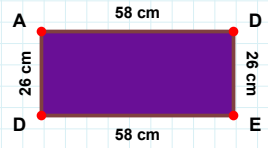
|AD| kaç cmdir?

- ☐ 68 cm
☐ 58 cm
☐ 48 cm



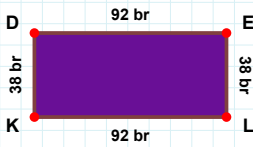
|İF| kaç cmdir?

- ☐ 77 cm
☐ 64 cm
☐ 67 cm



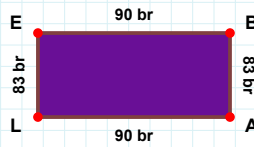
|İÇ| kaç brdir?

- ☐ 68 br
☐ 66 br
☐ 73 br



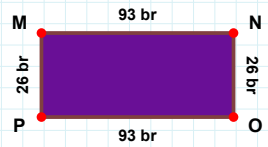
|MN| kaç brdir?

- ☐ 94 br
☐ 96 br
☐ 93 br



|DE| kaç brdir?

- ☐ 82 br
☐ 91 br
☐ 92 br



|BA| kaç brdir?

- ☐ 83 br
☐ 88 br
☐ 86 br

SÜREÇ ODAKLI DEĞERLENDİRME ÖLÇEĞİ

Doğru Sayısı: / 24

Öğretmen ilgili kutucuğu işaretler.

Geliştirilmeli (0-8)

İyi (9-14)

Çok İyi (15-20)

Mükemmel (21-24)

☐☐☐☐

Hazırlayan:

Bu bölüme sınıfınızın ilgili kazanıma yönelik genel durumuna ilişkin gözlem ve izlenimlerinizi, öğrencilerinizin bu kazanımla ilgili öğrenme eksikliklerini ve bu eksikliklerin giderilmesi amacıyla yaptığınız/yapmayı planladığınız faaliyetleri not edebilirsiniz.

No	Adı - Soyadı	Toplam Puan	Değerlendirme
1			
2			
3			
4			
5			
6			
7			
8			
9			
10			
11			
12			
13			
14			
15			
16			
17			
18			
19			
20			
21			
22			
23			
24			
25			
26			
27			
28			
29			
30			
31			
32			
33			
34			
35			

Hazırlayan: