


SORU: Aşağıdaki şekillerde verilen kenarlardan şekle ait olmayanı bulunuz.



Şekle ait olmayan kenar/kenarları işaretleyelim.

- ☐ GR kenarı
☐ CG kenarı
☐ ÖC kenarı



Şekle ait olmayan kenar/kenarları işaretleyelim.

- ☐ ÇR kenarı
☐ RB kenarı
☐ BJ kenarı




Şekle ait olmayan kenar/kenarları işaretleyelim.

- ☐ Şİ kenarı
☐ İB kenarı
☐ PI kenarı



Şekle ait olmayan kenar/kenarları işaretleyelim.

- ☐ DP kenarı
☐ PI kenarı
☐ DH kenarı



Şekle ait olmayan kenar/kenarları işaretleyelim.

- ☐ FI kenarı
☐ KE kenarı
☐ KI kenarı




Şekle ait olmayan kenar/kenarları işaretleyelim.

- ☐ OÖ kenarı
☐ KI kenarı
☐ KÖ kenarı




Şekle ait olmayan kenar/kenarları işaretleyelim.

- ☐ FA kenarı
☐ IF kenarı
☐ IO kenarı



Şekle ait olmayan kenar/kenarları işaretleyelim.

- ☐ UB kenarı
☐ JU kenarı
☐ YB kenarı




Şekle ait olmayan kenar/kenarları işaretleyelim.

- ☐ OÜ kenarı
☐ OA kenarı
☐ RA kenarı



Şekle ait olmayan kenar/kenarları işaretleyelim.

- ☐ HJ kenarı
☐ HE kenarı
☐ EÇ kenarı



Şekle ait olmayan kenar/kenarları işaretleyelim.

- ☐ İS kenarı
☐ ĞY kenarı
☐ SY kenarı



Şekle ait olmayan kenar/kenarları işaretleyelim.

- ☐ TF kenarı
☐ FH kenarı
☐ CF kenarı

SORU: Aşağıdaki şekillerde verilen kenarlardan şekle ait olmayanı bulunuz.

Şekle ait olmayan kenar/kenarları işaretleyelim.

☐ EK kenarı
☐ ÇK kenarı
☐ ÇÜ kenarı

Şekle ait olmayan kenar/kenarları işaretleyelim.

☐ İÇ kenarı
☐ Tİ kenarı
☐ TD kenarı

Şekle ait olmayan kenar/kenarları işaretleyelim.

☐ ĞŞ kenarı
☐ ÜE kenarı
☐ EŞ kenarı

Şekle ait olmayan kenar/kenarları işaretleyelim.

☐ ÇR kenarı
☐ UÇ kenarı
☐ UT kenarı

Şekle ait olmayan kenar/kenarları işaretleyelim.

☐ UN kenarı
☐ UM kenarı
☐ AN kenarı

Şekle ait olmayan kenar/kenarları işaretleyelim.

☐ Öİ kenarı
☐ ÖY kenarı
☐ Pİ kenarı

Şekle ait olmayan kenar/kenarları işaretleyelim.

☐ İC kenarı
☐ RC kenarı
☐ RB kenarı

Şekle ait olmayan kenar/kenarları işaretleyelim.

☐ KÜ kenarı
☐ LÜ kenarı
☐ GL kenarı

Şekle ait olmayan kenar/kenarları işaretleyelim.

☐ KZ kenarı
☐ ZF kenarı
☐ KF kenarı

Şekle ait olmayan kenar/kenarları işaretleyelim.

☐ İA kenarı
☐ Öİ kenarı
☐ ÖO kenarı

Şekle ait olmayan kenar/kenarları işaretleyelim.

☐ JT kenarı
☐ ÖT kenarı
☐ ÖJ kenarı

Şekle ait olmayan kenar/kenarları işaretleyelim.

☐ KÖ kenarı
☐ TK kenarı
☐ KJ kenarı

SÜREÇ ODAKLI DEĞERLENDİRME ÖLÇEĞİ

Doğru Sayısı: / 24

Öğretmen ilgili kutucuğu işaretler.

Geliştirilmeli (0-8)

İyi (9-14)

Çok İyi (15-20)

Mükemmel (21-24)

☐☐☐☐

Hazırlayan:

Bu bölüme sınıfınızın ilgili kazanıma yönelik genel durumuna ilişkin gözlem ve izlenimlerinizi, öğrencilerinizin bu kazanımla ilgili öğrenme eksikliklerini ve bu eksikliklerin giderilmesi amacıyla yaptığınız/yapmayı planladığınız faaliyetleri not edebilirsiniz.

No	Adı - Soyadı	Toplam Puan	Değerlendirme
1			
2			
3			
4			
5			
6			
7			
8			
9			
10			
11			
12			
13			
14			
15			
16			
17			
18			
19			
20			
21			
22			
23			
24			
25			
26			
27			
28			
29			
30			
31			
32			
33			
34			
35			

Hazırlayan: