


SORU: Aşağıdaki şekillerde verilen kenarlardan şekle ait olmayanı bulunuz.



Şekle ait olmayan kenar/kenarları işaretleyelim.

- ☐ ZĞ kenarı
☐ İĞ kenarı
☐ ÜZ kenarı



Şekle ait olmayan kenar/kenarları işaretleyelim.

- ☐ Öİ kenarı
☐ ŞA kenarı
☐ AÖ kenarı



Şekle ait olmayan kenar/kenarları işaretleyelim.

- ☐ FK kenarı
☐ PF kenarı
☐ KO kenarı



Şekle ait olmayan kenar/kenarları işaretleyelim.

- ☐ NL kenarı
☐ ŞĞ kenarı
☐ ŞL kenarı



Şekle ait olmayan kenar/kenarları işaretleyelim.

- ☐ TÖ kenarı
☐ ET kenarı
☐ EN kenarı




Şekle ait olmayan kenar/kenarları işaretleyelim.

- ☐ BJ kenarı
☐ ZB kenarı
☐ ZF kenarı



Şekle ait olmayan kenar/kenarları işaretleyelim.

- ☐ ÜF kenarı
☐ FB kenarı
☐ FE kenarı



Şekle ait olmayan kenar/kenarları işaretleyelim.

- ☐ ÜV kenarı
☐ ÜĞ kenarı
☐ ĞZ kenarı




Şekle ait olmayan kenar/kenarları işaretleyelim.

- ☐ HE kenarı
☐ BE kenarı
☐ MH kenarı



Şekle ait olmayan kenar/kenarları işaretleyelim.

- ☐ NÖ kenarı
☐ İN kenarı
☐ İÖ kenarı



Şekle ait olmayan kenar/kenarları işaretleyelim.

- ☐ ÖŞ kenarı
☐ RŞ kenarı
☐ ÖR kenarı



Şekle ait olmayan kenar/kenarları işaretleyelim.

- ☐ VU kenarı
☐ HY kenarı
☐ UH kenarı

SORU: Aşağıdaki şekillerde verilen kenarlardan şekle ait olmayanı bulunuz.

Şekle ait olmayan kenar/kenarları işaretleyelim.

- ☐ ÖK kenarı
☐ ÖR kenarı
☐ DR kenarı



Şekle ait olmayan kenar/kenarları işaretleyelim.

- ☐ KS kenarı
☐ ĞE kenarı
☐ ES kenarı



Şekle ait olmayan kenar/kenarları işaretleyelim.

- ☐ UF kenarı
☐ MF kenarı
☐ CM kenarı



Şekle ait olmayan kenar/kenarları işaretleyelim.

- ☐ NF kenarı
☐ HF kenarı
☐ PH kenarı



Şekle ait olmayan kenar/kenarları işaretleyelim.

- ☐ BE kenarı
☐ FR kenarı
☐ FE kenarı




Şekle ait olmayan kenar/kenarları işaretleyelim.

- ☐ ÜR kenarı
☐ RT kenarı
☐ RY kenarı



Şekle ait olmayan kenar/kenarları işaretleyelim.

- ☐ VS kenarı
☐ KS kenarı
☐ KM kenarı



Şekle ait olmayan kenar/kenarları işaretleyelim.

- ☐ BI kenarı
☐ AB kenarı
☐ NI kenarı



Şekle ait olmayan kenar/kenarları işaretleyelim.

- ☐ ZG kenarı
☐ GK kenarı
☐ BZ kenarı



Şekle ait olmayan kenar/kenarları işaretleyelim.

- ☐ TF kenarı
☐ TŞ kenarı
☐ ŞF kenarı



Şekle ait olmayan kenar/kenarları işaretleyelim.

- ☐ VŞ kenarı
☐ İŞ kenarı
☐ VH kenarı



Şekle ait olmayan kenar/kenarları işaretleyelim.

- ☐ İY kenarı
☐ İN kenarı
☐ CI kenarı

SÜREÇ ODAKLI DEĞERLENDİRME ÖLÇEĞİ

Doğru Sayısı: / 24

Öğretmen ilgili kutucuğu işaretler.

Geliştirilmeli (0-8)

İyi (9-14)

Çok İyi (15-20)

Mükemmel (21-24)



Hazırlayan:

Bu bölüme sınıfınızın ilgili kazanıma yönelik genel durumuna ilişkin gözlem ve izlenimlerinizi, öğrencilerinizin bu kazanımla ilgili öğrenme eksikliklerini ve bu eksikliklerin giderilmesi amacıyla yaptığınız/yapmayı planladığınız faaliyetleri not edebilirsiniz.

No	Adı - Soyadı	Toplam Puan	Değerlendirme
1			
2			
3			
4			
5			
6			
7			
8			
9			
10			
11			
12			
13			
14			
15			
16			
17			
18			
19			
20			
21			
22			
23			
24			
25			
26			
27			
28			
29			
30			
31			
32			
33			
34			
35			

Hazırlayan: