


SORU: Aşağıdaki şekillerde verilen kenarlardan şekle ait olmayanı bulunuz.



Şekle ait olmayan kenar/kenarları işaretleyelim.

- ☐ PG kenarı
☐ ÜU kenarı
☐ GÜ kenarı



Şekle ait olmayan kenar/kenarları işaretleyelim.

- ☐ DÜ kenarı
☐ FM kenarı
☐ ÜF kenarı



Şekle ait olmayan kenar/kenarları işaretleyelim.

- ☐ ÜB kenarı
☐ IN kenarı
☐ NÜ kenarı



Şekle ait olmayan kenar/kenarları işaretleyelim.

- ☐ DK kenarı
☐ HD kenarı
☐ RK kenarı



Şekle ait olmayan kenar/kenarları işaretleyelim.

- ☐ AF kenarı
☐ FU kenarı
☐ FI kenarı



Şekle ait olmayan kenar/kenarları işaretleyelim.

- ☐ ŞZ kenarı
☐ ĞV kenarı
☐ ĞZ kenarı



Şekle ait olmayan kenar/kenarları işaretleyelim.

- ☐ VC kenarı
☐ BV kenarı
☐ CB kenarı



Şekle ait olmayan kenar/kenarları işaretleyelim.

- ☐ TV kenarı
☐ AT kenarı
☐ OT kenarı



Şekle ait olmayan kenar/kenarları işaretleyelim.

- ☐ BS kenarı
☐ SŞ kenarı
☐ ŞM kenarı



Şekle ait olmayan kenar/kenarları işaretleyelim.

- ☐ LK kenarı
☐ JĞ kenarı
☐ LĞ kenarı



Şekle ait olmayan kenar/kenarları işaretleyelim.


- ☐ FG kenarı
☐ ÇG kenarı
☐ GH kenarı



Şekle ait olmayan kenar/kenarları işaretleyelim.


- ☐ Ğİ kenarı
☐ ĞÇ kenarı
☐ Çİ kenarı

SORU: Aşağıdaki şekillerde verilen kenarlardan şekle ait olmayanı bulunuz.




Şekle ait olmayan kenar/kenarları işaretleyelim.

☐ AJ kenarı
☐ AL kenarı
☐ JK kenarı




Şekle ait olmayan kenar/kenarları işaretleyelim.

☐ VI kenarı
☐ VB kenarı
☐ BE kenarı




Şekle ait olmayan kenar/kenarları işaretleyelim.

☐ ŞL kenarı
☐ LD kenarı
☐ HŞ kenarı




Şekle ait olmayan kenar/kenarları işaretleyelim.

☐ KL kenarı
☐ GÖ kenarı
☐ KÖ kenarı




Şekle ait olmayan kenar/kenarları işaretleyelim.

☐ EA kenarı
☐ EP kenarı
☐ ÇA kenarı




Şekle ait olmayan kenar/kenarları işaretleyelim.

☐ JH kenarı
☐ HU kenarı
☐ HT kenarı




Şekle ait olmayan kenar/kenarları işaretleyelim.

☐ YS kenarı
☐ İY kenarı
☐ SI kenarı




Şekle ait olmayan kenar/kenarları işaretleyelim.

☐ ST kenarı
☐ CI kenarı
☐ SI kenarı




Şekle ait olmayan kenar/kenarları işaretleyelim.

☐ MU kenarı
☐ LU kenarı
☐ MJ kenarı




Şekle ait olmayan kenar/kenarları işaretleyelim.

☐ NV kenarı
☐ DN kenarı
☐ JD kenarı



Şekle ait olmayan kenar/kenarları işaretleyelim.

☐ ÜH kenarı
☐ ÜÇ kenarı
☐ İÇ kenarı



Şekle ait olmayan kenar/kenarları işaretleyelim.

☐ KO kenarı
☐ ZK kenarı
☐ KE kenarı

SÜREÇ ODAKLI DEĞERLENDİRME ÖLÇEĞİ

Doğru Sayısı: / 24

Öğretmen ilgili kutucuğu işaretler.

Geliştirilmeli (0-8)	İyi (9-14)	Çok İyi (15-20)	Mükemmel (21-24)
<input type="checkbox"/>	<input type="checkbox"/>	<input type="checkbox"/>	<input type="checkbox"/>

Hazırlayan:

Bu bölüme sınıfınızın ilgili kazanıma yönelik genel durumuna ilişkin gözlem ve izlenimlerinizi, öğrencilerinizin bu kazanımla ilgili öğrenme eksikliklerini ve bu eksikliklerin giderilmesi amacıyla yaptığınız/yapmayı planladığınız faaliyetleri not edebilirsiniz.

No	Adı - Soyadı	Toplam Puan	Değerlendirme
1			
2			
3			
4			
5			
6			
7			
8			
9			
10			
11			
12			
13			
14			
15			
16			
17			
18			
19			
20			
21			
22			
23			
24			
25			
26			
27			
28			
29			
30			
31			
32			
33			
34			
35			

Hazırlayan: