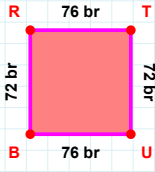
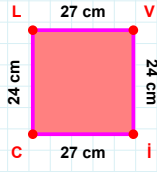


**SORU:** Aşağıdaki geometrik şekillerle ilgili soruları cevaplayınız.

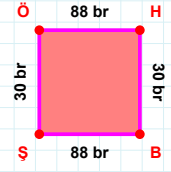
$$|UB| + |BR| = \dots$$

Cevap: ..... br



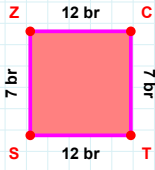
$$|VI| \text{ kaç cm'dir?}$$

- ☐ 23 cm  
☐ 24 cm  
☐ 25 cm



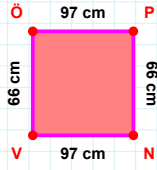
$$30 \text{ br hangi kenara aittir?}$$

- ☐ BÖ kenarı  
☐ BŞ kenarı  
☐ HB kenarı



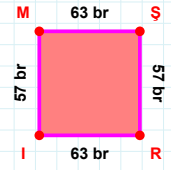
$$|TS| + |SZ| = \dots$$

Cevap: ..... br



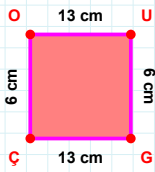
$$66 \text{ cm hangi kenara aittir?}$$

Kenar: .....



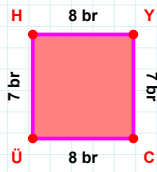
$$63 \text{ br hangi kenara aittir?}$$

Kenar: .....



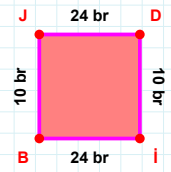
$$6 \text{ cm hangi kenara aittir?}$$

- ☐ GÇ kenarı  
☐ UÇ kenarı  
☐ OU kenarı



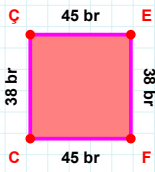
$$|HY| + |ÜH| = \dots$$

Cevap: ..... br



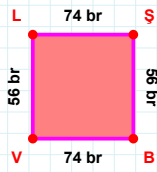
$$10 \text{ br hangi kenara aittir?}$$

Kenar: .....



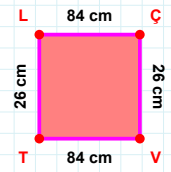
$$38 \text{ br hangi kenara aittir?}$$

Kenar: .....



$$|VL| + |ŞB| = \dots$$

Cevap: ..... br



$$26 \text{ cm hangi kenara aittir?}$$

- ☐ VT kenarı  
☐ TL kenarı  
☐ LV kenarı

SORU: Aşağıdaki geometrik şekillerle ilgili soruları cevaplayınız.

3 cm hangi kenara aittir?

Kenar: .....

10 cm hangi kenara aittir?

☐ VE kenarı  
☐ EŞ kenarı  
☐ ŞV kenarı

|MJ| kaç brdir?

☐ 53 br  
☐ 54 br  
☐ 55 br

38 cm hangi kenara aittir?

☐ LB kenarı  
☐ LJ kenarı  
☐ BK kenarı

|Yİ| + |VY| = ....

Cevap: ..... br

51 cm hangi kenara aittir?

☐ IT kenarı  
☐ CT kenarı  
☐ GI kenarı

10 cm hangi kenara aittir?

☐ UK kenarı  
☐ GU kenarı  
☐ ZU kenarı

3 cm hangi kenara aittir?

☐ AR kenarı  
☐ FA kenarı  
☐ RF kenarı

34 cm hangi kenara aittir?

☐ ÜK kenarı  
☐ Üİ kenarı  
☐ VÜ kenarı

48 cm hangi kenara aittir?

Kenar: .....

57 br hangi kenara aittir?

Kenar: .....

39 br hangi kenara aittir?

Kenar: .....

## SÜREÇ ODAKLI DEĞERLENDİRME ÖLÇEĞİ

Doğru Sayısı: ..... / 24

Öğretmen ilgili kutucuğu işaretler.

Geliştirilmeli (0-8)

İyi (9-14)

Çok İyi (15-20)

Mükemmel (21-24)

☐☐☐☐

Hazırlayan: .....

Bu bölüme sınıfınızın ilgili kazanıma yönelik genel durumuna ilişkin gözlem ve izlenimlerinizi, öğrencilerinizin bu kazanımla ilgili öğrenme eksikliklerini ve bu eksikliklerin giderilmesi amacıyla yaptığınız/yapmayı planladığınız faaliyetleri not edebilirsiniz.

No	Adı - Soyadı	Toplam Puan	Değerlendirme
1			
2			
3			
4			
5			
6			
7			
8			
9			
10			
11			
12			
13			
14			
15			
16			
17			
18			
19			
20			
21			
22			
23			
24			
25			
26			
27			
28			
29			
30			
31			
32			
33			
34			
35			

Hazırlayan: .....