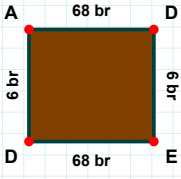
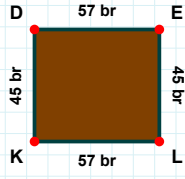


SORU: Aşağıdaki şekillerde istenen kenarın kaç birim veya santimetre olduğunu bulunuz.

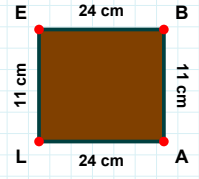
|DA| kaç brdir?

- ☐ 6 br
☐ 7 br
☐ 3 br



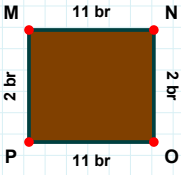
|LE| kaç cmdir?

- ☐ 12 cm
☐ 13 cm
☐ 11 cm



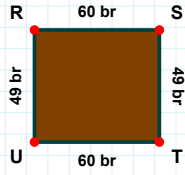
|DE| kaç brdir?

- ☐ 58 br
☐ 52 br
☐ 57 br



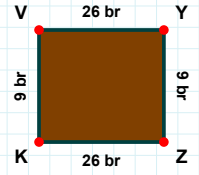
|MN| kaç brdir?

- ☐ 8 br
☐ 12 br
☐ 11 br



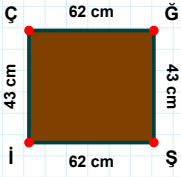
|YZ| kaç brdir?

- ☐ 9 br
☐ 7 br
☐ 4 br



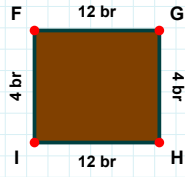
|ST| kaç brdir?

- ☐ 49 br
☐ 59 br
☐ 39 br



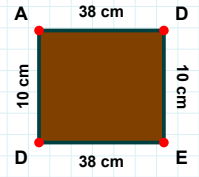
|GH| kaç brdir?

- ☐ 6 br
☐ 3 br
☐ 4 br



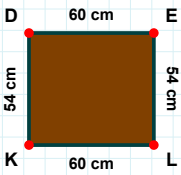
|İÇ| kaç cmdir?

- ☐ 46 cm
☐ 43 cm
☐ 44 cm



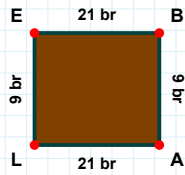
|DE| kaç cmdir?

- ☐ 8 cm
☐ 20 cm
☐ 10 cm



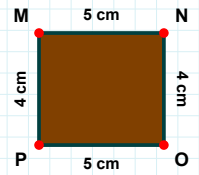
|DE| kaç cmdir?

- ☐ 60 cm
☐ 50 cm
☐ 70 cm



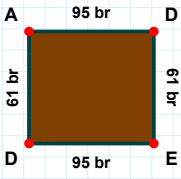
|PM| kaç cmdir?

- ☐ 1 cm
☐ 4 cm
☐ 6 cm



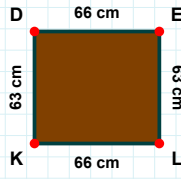
|LE| kaç brdir?

- ☐ 9 br
☐ 10 br
☐ 7 br

SORU: Aşağıdaki şekillerde istenen kenarın kaç birim veya santimetre olduğunu bulunuz.

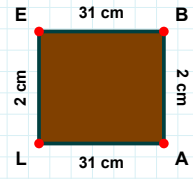
|LE| kaç cmdir?

- ☐ 1 cm
☐ 2 cm
☐ 3 cm



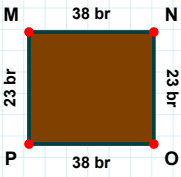
|DE| kaç brdir?

- ☐ 61 br
☐ 56 br
☐ 71 br



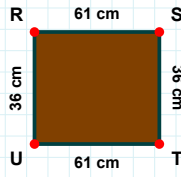
|KD| kaç cmdir?

- ☐ 65 cm
☐ 58 cm
☐ 63 cm



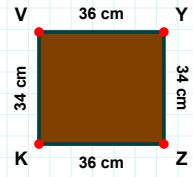
|OP| kaç brdir?

- ☐ 35 br
☐ 38 br
☐ 39 br



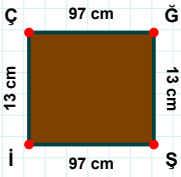
|TU| kaç cmdir?

- ☐ 51 cm
☐ 56 cm
☐ 61 cm



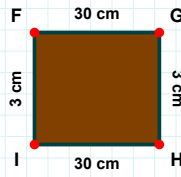
|YZ| kaç cmdir?

- ☐ 31 cm
☐ 33 cm
☐ 34 cm



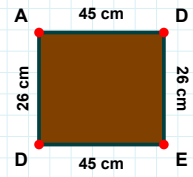
|Şİ| kaç cmdir?

- ☐ 97 cm
☐ 87 cm
☐ 96 cm



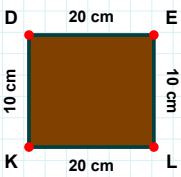
|GH| kaç cmdir?

- ☐ 2 cm
☐ 3 cm
☐ 5 cm



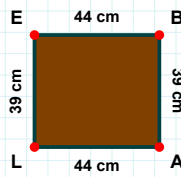
|DE| kaç cmdir?

- ☐ 23 cm
☐ 29 cm
☐ 26 cm



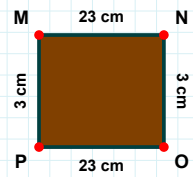
|NO| kaç cmdir?

- ☐ 8 cm
☐ 3 cm
☐ 5 cm



|AL| kaç cmdir?

- ☐ 44 cm
☐ 34 cm
☐ 42 cm



|EL| kaç cmdir?

- ☐ 10 cm
☐ 11 cm
☐ 8 cm

SÜREÇ ODAKLI DEĞERLENDİRME ÖLÇEĞİ

Doğru Sayısı: / 24

Öğretmen ilgili kutucuğu işaretler.

Geliştirilmeli (0-8)

İyi (9-14)

Çok İyi (15-20)

Mükemmel (21-24)

☐☐☐☐

Hazırlayan:

Bu bölüme sınıfınızın ilgili kazanıma yönelik genel durumuna ilişkin gözlem ve izlenimlerinizi, öğrencilerinizin bu kazanımla ilgili öğrenme eksikliklerini ve bu eksikliklerin giderilmesi amacıyla yaptığınız/yapmayı planladığınız faaliyetleri not edebilirsiniz.

No	Adı - Soyadı	Toplam Puan	Değerlendirme
1			
2			
3			
4			
5			
6			
7			
8			
9			
10			
11			
12			
13			
14			
15			
16			
17			
18			
19			
20			
21			
22			
23			
24			
25			
26			
27			
28			
29			
30			
31			
32			
33			
34			
35			

Hazırlayan: