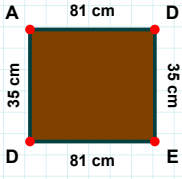
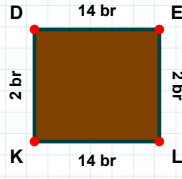


**SORU:** Aşağıdaki şekillerde istenen kenarın kaç birim veya santimetre olduğunu bulunuz.

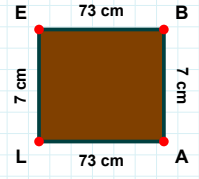
|BA| kaç cmdir?

- ☐ 7 cm  
☐ 2 cm  
☐ 9 cm



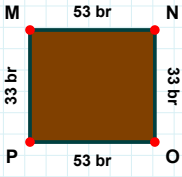
|DA| kaç cmdir?

- ☐ 38 cm  
☐ 36 cm  
☐ 35 cm



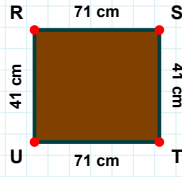
|DE| kaç brdir?

- ☐ 4 br  
☐ 12 br  
☐ 14 br



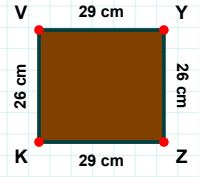
|OP| kaç brdir?

- ☐ 51 br  
☐ 53 br  
☐ 55 br



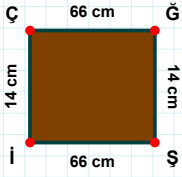
|VY| kaç cmdir?

- ☐ 29 cm  
☐ 32 cm  
☐ 19 cm



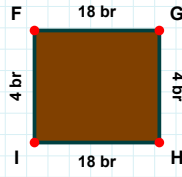
|TU| kaç cmdir?

- ☐ 72 cm  
☐ 71 cm  
☐ 74 cm



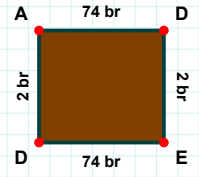
|FG| kaç brdir?

- ☐ 16 br  
☐ 18 br  
☐ 13 br



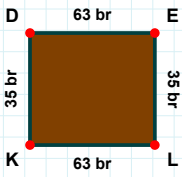
|AD| kaç brdir?

- ☐ 74 br  
☐ 64 br  
☐ 73 br



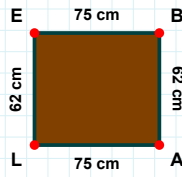
|İÇ| kaç cmdir?

- ☐ 16 cm  
☐ 13 cm  
☐ 14 cm



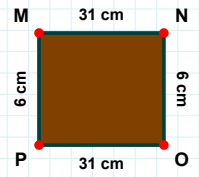
|PM| kaç cmdir?

- ☐ 7 cm  
☐ 6 cm  
☐ 9 cm



|DE| kaç brdir?

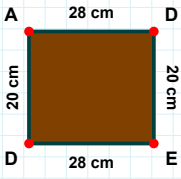
- ☐ 60 br  
☐ 63 br  
☐ 68 br



|EB| kaç cmdir?

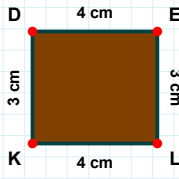
- ☐ 70 cm  
☐ 75 cm  
☐ 73 cm

**SORU:** Aşağıdaki şekillerde istenen kenarın kaç birim veya santimetre olduğunu bulunuz.



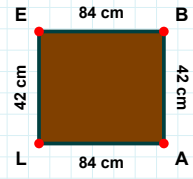
|EL| kaç cmdir?

- ☐ 2 cm  
☐ 3 cm  
☐ 4 cm



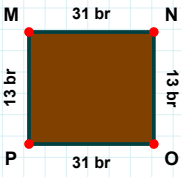
|AD| kaç cmdir?

- ☐ 28 cm  
☐ 23 cm  
☐ 29 cm



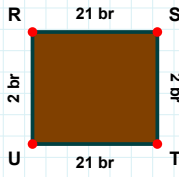
|BA| kaç cmdir?

- ☐ 42 cm  
☐ 40 cm  
☐ 47 cm



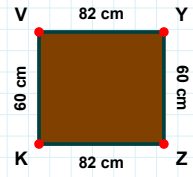
|UR| kaç brdir?

- ☐ 2 br  
☐ 12 br  
☐ 3 br



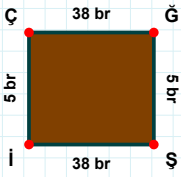
|NO| kaç brdir?

- ☐ 11 br  
☐ 13 br  
☐ 12 br



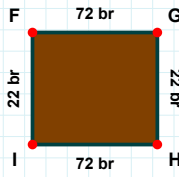
|ZK| kaç cmdir?

- ☐ 92 cm  
☐ 81 cm  
☐ 82 cm



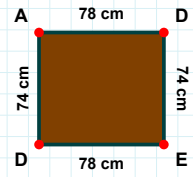
|DA| kaç cmdir?

- ☐ 64 cm  
☐ 74 cm  
☐ 71 cm



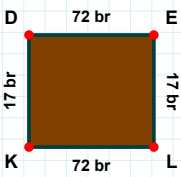
|ÇĞ| kaç brdir?

- ☐ 35 br  
☐ 38 br  
☐ 33 br



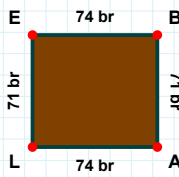
|HI| kaç brdir?

- ☐ 72 br  
☐ 74 br  
☐ 75 br



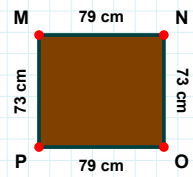
|KD| kaç brdir?

- ☐ 12 br  
☐ 17 br  
☐ 16 br



|MN| kaç cmdir?

- ☐ 81 cm  
☐ 79 cm  
☐ 82 cm



|LE| kaç brdir?

- ☐ 71 br  
☐ 68 br  
☐ 61 br

### SÜREÇ ODAKLI DEĞERLENDİRME ÖLÇEĞİ

Doğru Sayısı: ..... / 24

Öğretmen ilgili kutucuğu işaretler.

Geliştirilmeli (0-8)

İyi (9-14)

Çok İyi (15-20)

Mükemmel (21-24)

☐
☐
☐
☐

Hazırlayan: .....

Bu bölüme sınıfınızın ilgili kazanıma yönelik genel durumuna ilişkin gözlem ve izlenimlerinizi, öğrencilerinizin bu kazanımla ilgili öğrenme eksikliklerini ve bu eksikliklerin giderilmesi amacıyla yaptığınız/yapmayı planladığınız faaliyetleri not edebilirsiniz.

No	Adı - Soyadı	Toplam Puan	Değerlendirme
1			
2			
3			
4			
5			
6			
7			
8			
9			
10			
11			
12			
13			
14			
15			
16			
17			
18			
19			
20			
21			
22			
23			
24			
25			
26			
27			
28			
29			
30			
31			
32			
33			
34			
35			

Hazırlayan: .....