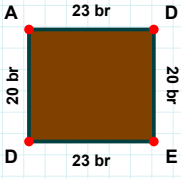
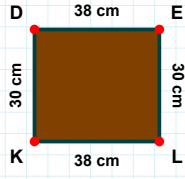


SORU: Aşağıdaki şekillerde istenen kenarın kaç birim veya santimetre olduğunu bulunuz.

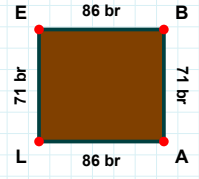
|DA| kaç brdir?

- ☐ 17 br
☐ 20 br
☐ 19 br



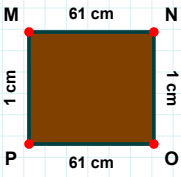
|EB| kaç brdir?

- ☐ 81 br
☐ 85 br
☐ 86 br



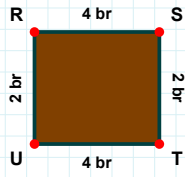
|KD| kaç cmdir?

- ☐ 30 cm
☐ 32 cm
☐ 20 cm



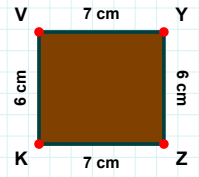
|KV| kaç cmdir?

- ☐ 6 cm
☐ 11 cm
☐ 4 cm



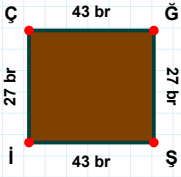
|NO| kaç cmdir?

- ☐ 1 cm
☐ 11 cm
☐ 2 cm



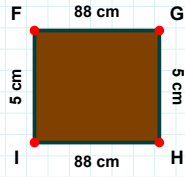
|TU| kaç brdir?

- ☐ 6 br
☐ 9 br
☐ 4 br



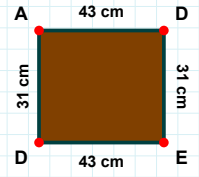
|ĞŞ| kaç brdir?

- ☐ 27 br
☐ 32 br
☐ 29 br



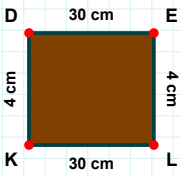
|İF| kaç cmdir?

- ☐ 4 cm
☐ 7 cm
☐ 5 cm



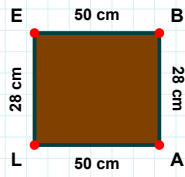
|ED| kaç cmdir?

- ☐ 44 cm
☐ 43 cm
☐ 38 cm



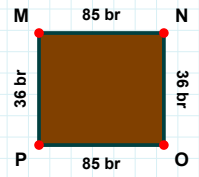
|LK| kaç cmdir?

- ☐ 30 cm
☐ 28 cm
☐ 20 cm



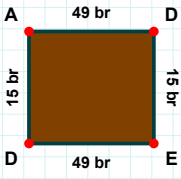
|OP| kaç brdir?

- ☐ 82 br
☐ 85 br
☐ 88 br



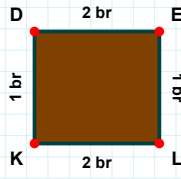
|EB| kaç cmdir?

- ☐ 45 cm
☐ 48 cm
☐ 50 cm

SORU: Aşağıdaki şekillerde istenen kenarın kaç birim veya santimetre olduğunu bulunuz.

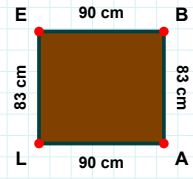
|LE| kaç cmdir?

- ☐ 83 cm
☐ 93 cm
☐ 81 cm



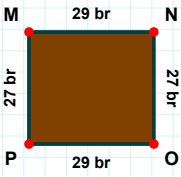
|LK| kaç brdir?

- ☐ 7 br
☐ 2 br
☐ 12 br



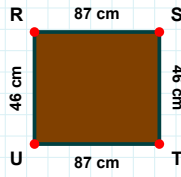
|AD| kaç brdir?

- ☐ 51 br
☐ 44 br
☐ 49 br



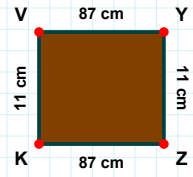
|ZK| kaç cmdir?

- ☐ 87 cm
☐ 84 cm
☐ 82 cm



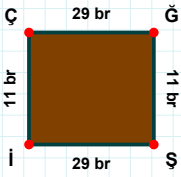
|ST| kaç cmdir?

- ☐ 45 cm
☐ 48 cm
☐ 46 cm



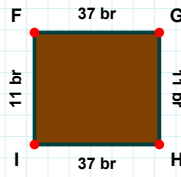
|OP| kaç brdir?

- ☐ 19 br
☐ 27 br
☐ 29 br



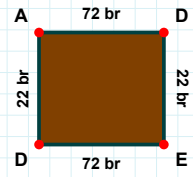
|GH| kaç brdir?

- ☐ 11 br
☐ 10 br
☐ 1 br



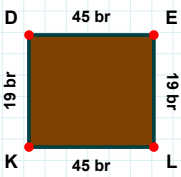
|Şİ| kaç brdir?

- ☐ 32 br
☐ 19 br
☐ 29 br



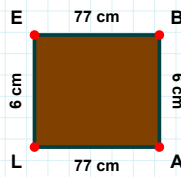
|DA| kaç brdir?

- ☐ 12 br
☐ 22 br
☐ 25 br



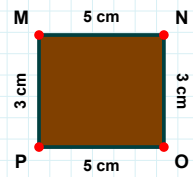
|KD| kaç brdir?

- ☐ 16 br
☐ 22 br
☐ 19 br



|LE| kaç cmdir?

- ☐ 5 cm
☐ 6 cm
☐ 1 cm



|OP| kaç cmdir?

- ☐ 8 cm
☐ 5 cm
☐ 10 cm

SÜREÇ ODAKLI DEĞERLENDİRME ÖLÇEĞİ

Doğru Sayısı: / 24

Öğretmen ilgili kutucuğu işaretler.

Geliştirilmeli (0-8)

İyi (9-14)

Çok İyi (15-20)

Mükemmel (21-24)

☐☐☐☐

Hazırlayan:

Bu bölüme sınıfınızın ilgili kazanıma yönelik genel durumuna ilişkin gözlem ve izlenimlerinizi, öğrencilerinizin bu kazanımla ilgili öğrenme eksikliklerini ve bu eksikliklerin giderilmesi amacıyla yaptığınız/yapmayı planladığınız faaliyetleri not edebilirsiniz.

No	Adı - Soyadı	Toplam Puan	Değerlendirme
1			
2			
3			
4			
5			
6			
7			
8			
9			
10			
11			
12			
13			
14			
15			
16			
17			
18			
19			
20			
21			
22			
23			
24			
25			
26			
27			
28			
29			
30			
31			
32			
33			
34			
35			

Hazırlayan: