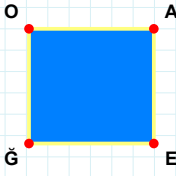
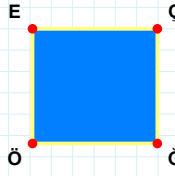


SORU: Aşağıdaki şekillerde verilen kenarlardan şekle ait olmayanı bulunuz.



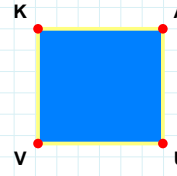
Şekle ait olmayan kenar/kenarları işaretleyelim.

- ☐ AĞ kenarı
☐ AE kenarı
☐ GO kenarı



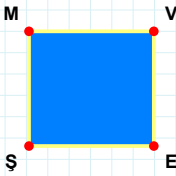
Şekle ait olmayan kenar/kenarları işaretleyelim.

- ☐ EĞ kenarı
☐ OE kenarı
☐ ÇÖ kenarı



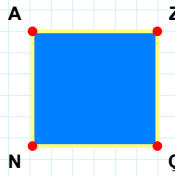
Şekle ait olmayan kenar/kenarları işaretleyelim.

- ☐ VK kenarı
☐ AV kenarı
☐ UV kenarı



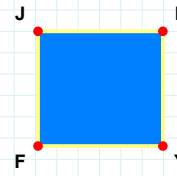
Şekle ait olmayan kenar/kenarları işaretleyelim.

- ☐ MV kenarı
☐ ŞM kenarı
☐ ME kenarı



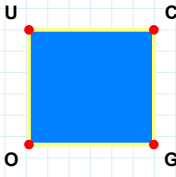
Şekle ait olmayan kenar/kenarları işaretleyelim.

- ☐ AÇ kenarı
☐ NA kenarı
☐ ZN kenarı



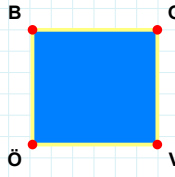
Şekle ait olmayan kenar/kenarları işaretleyelim.

- ☐ FJ kenarı
☐ LF kenarı
☐ JY kenarı



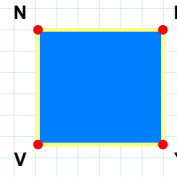
Şekle ait olmayan kenar/kenarları işaretleyelim.

- ☐ UC kenarı
☐ CO kenarı
☐ UG kenarı



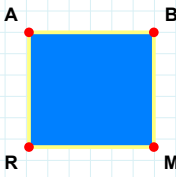
Şekle ait olmayan kenar/kenarları işaretleyelim.

- ☐ VÖ kenarı
☐ BV kenarı
☐ ÖB kenarı



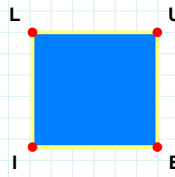
Şekle ait olmayan kenar/kenarları işaretleyelim.

- ☐ NH kenarı
☐ NY kenarı
☐ HV kenarı



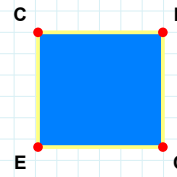
Şekle ait olmayan kenar/kenarları işaretleyelim.

- ☐ AB kenarı
☐ RA kenarı
☐ BR kenarı



Şekle ait olmayan kenar/kenarları işaretleyelim.

- ☐ UI kenarı
☐ EI kenarı
☐ IL kenarı



Şekle ait olmayan kenar/kenarları işaretleyelim.

- ☐ OE kenarı
☐ EC kenarı
☐ DE kenarı

SORU: Aşağıdaki şekillerde verilen kenarlardan şekle ait olmayanı bulunuz.

Şekle ait olmayan kenar/kenarları işaretleyelim.

☐ MZ kenarı

☐ PZ kenarı

☐ AP kenarı

Şekle ait olmayan kenar/kenarları işaretleyelim.

☐ PÜ kenarı

☐ ÜR kenarı

☐ Üİ kenarı

Şekle ait olmayan kenar/kenarları işaretleyelim.

☐ ZP kenarı

☐ ZU kenarı

☐ UH kenarı

Şekle ait olmayan kenar/kenarları işaretleyelim.

☐ VA kenarı

☐ VI kenarı

☐ DI kenarı

Şekle ait olmayan kenar/kenarları işaretleyelim.

☐ ĞY kenarı

☐ YA kenarı

☐ ĞÜ kenarı

Şekle ait olmayan kenar/kenarları işaretleyelim.

☐ RG kenarı

☐ PR kenarı

☐ PG kenarı

Şekle ait olmayan kenar/kenarları işaretleyelim.

☐ ÖA kenarı

☐ MÖ kenarı

☐ AM kenarı

Şekle ait olmayan kenar/kenarları işaretleyelim.

☐ İU kenarı

☐ UF kenarı

☐ FI kenarı

Şekle ait olmayan kenar/kenarları işaretleyelim.

☐ ŞP kenarı

☐ ÇŞ kenarı

☐ SÇ kenarı

Şekle ait olmayan kenar/kenarları işaretleyelim.

☐ ÇM kenarı

☐ GY kenarı

☐ YM kenarı

Şekle ait olmayan kenar/kenarları işaretleyelim.

☐ ĞR kenarı

☐ OĞ kenarı

☐ UR kenarı

Şekle ait olmayan kenar/kenarları işaretleyelim.

☐ PO kenarı

☐ PJ kenarı

☐ EO kenarı

SÜREÇ ODAKLI DEĞERLENDİRME ÖLÇEĞİ

Doğru Sayısı: / 24

Öğretmen ilgili kutucuğu işaretler.

Geliştirilmeli (0-8)

İyi (9-14)

Çok İyi (15-20)

Mükemmel (21-24)



Hazırlayan:

Bu bölüme sınıfınızın ilgili kazanıma yönelik genel durumuna ilişkin gözlem ve izlenimlerinizi, öğrencilerinizin bu kazanımla ilgili öğrenme eksikliklerini ve bu eksikliklerin giderilmesi amacıyla yaptığınız/yapmayı planladığınız faaliyetleri not edebilirsiniz.

No	Adı - Soyadı	Toplam Puan	Değerlendirme
1			
2			
3			
4			
5			
6			
7			
8			
9			
10			
11			
12			
13			
14			
15			
16			
17			
18			
19			
20			
21			
22			
23			
24			
25			
26			
27			
28			
29			
30			
31			
32			
33			
34			
35			

Hazırlayan: