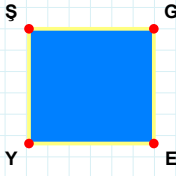
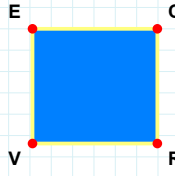


SORU: Aşağıdaki şekillerde verilen kenarlardan şekle ait olmayanı bulunuz.



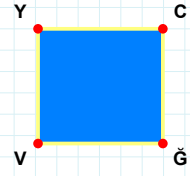
Şekle ait olmayan kenar/kenarları işaretleyelim.

- ☐ EY kenarı
☐ GY kenarı
☐ ŞE kenarı



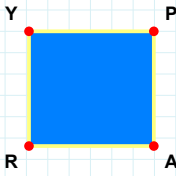
Şekle ait olmayan kenar/kenarları işaretleyelim.

- ☐ CR kenarı
☐ CV kenarı
☐ ER kenarı



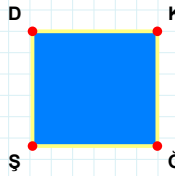
Şekle ait olmayan kenar/kenarları işaretleyelim.

- ☐ YĞ kenarı
☐ CĞ kenarı
☐ CV kenarı



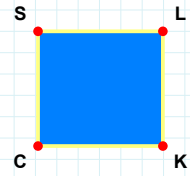
Şekle ait olmayan kenar/kenarları işaretleyelim.

- ☐ PR kenarı
☐ YP kenarı
☐ YA kenarı



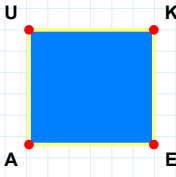
Şekle ait olmayan kenar/kenarları işaretleyelim.

- ☐ DK kenarı
☐ KŞ kenarı
☐ DĞ kenarı



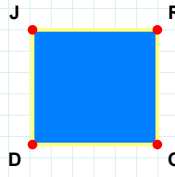
Şekle ait olmayan kenar/kenarları işaretleyelim.

- ☐ LC kenarı
☐ LK kenarı
☐ KC kenarı



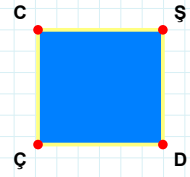
Şekle ait olmayan kenar/kenarları işaretleyelim.

- ☐ KA kenarı
☐ UE kenarı
☐ AU kenarı



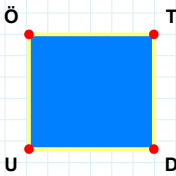
Şekle ait olmayan kenar/kenarları işaretleyelim.

- ☐ RD kenarı
☐ RO kenarı
☐ JO kenarı



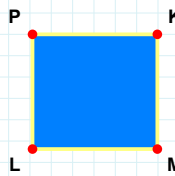
Şekle ait olmayan kenar/kenarları işaretleyelim.

- ☐ ŞÇ kenarı
☐ ÇC kenarı
☐ CD kenarı



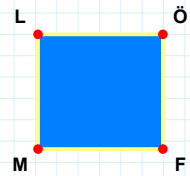
Şekle ait olmayan kenar/kenarları işaretleyelim.

- ☐ ÖD kenarı
☐ TU kenarı
☐ TD kenarı



Şekle ait olmayan kenar/kenarları işaretleyelim.

- ☐ PM kenarı
☐ LP kenarı
☐ KL kenarı



Şekle ait olmayan kenar/kenarları işaretleyelim.

- ☐ LÖ kenarı
☐ LF kenarı
☐ ML kenarı

SORU: Aşağıdaki şekillerde verilen kenarlardan şekle ait olmayanı bulunuz.

Şekle ait olmayan kenar/kenarları işaretleyelim.

☐ PU kenarı
☐ PR kenarı
☐ RŞ kenarı

Şekle ait olmayan kenar/kenarları işaretleyelim.

☐ GD kenarı
☐ DÇ kenarı
☐ DA kenarı

Şekle ait olmayan kenar/kenarları işaretleyelim.

☐ ZB kenarı
☐ DZ kenarı
☐ SB kenarı

Şekle ait olmayan kenar/kenarları işaretleyelim.

☐ ĞK kenarı
☐ KP kenarı
☐ Ği kenarı

Şekle ait olmayan kenar/kenarları işaretleyelim.

☐ ĞZ kenarı
☐ ZY kenarı
☐ İĞ kenarı

Şekle ait olmayan kenar/kenarları işaretleyelim.

☐ NE kenarı
☐ FE kenarı
☐ NŞ kenarı

Şekle ait olmayan kenar/kenarları işaretleyelim.

☐ ĞI kenarı
☐ RĞ kenarı
☐ OI kenarı

Şekle ait olmayan kenar/kenarları işaretleyelim.

☐ SY kenarı
☐ JÖ kenarı
☐ SJ kenarı

Şekle ait olmayan kenar/kenarları işaretleyelim.

☐ FZ kenarı
☐ FŞ kenarı
☐ ZK kenarı

Şekle ait olmayan kenar/kenarları işaretleyelim.

☐ DG kenarı
☐ DÜ kenarı
☐ ÜI kenarı

Şekle ait olmayan kenar/kenarları işaretleyelim.

☐ LZ kenarı
☐ HY kenarı
☐ ZY kenarı

Şekle ait olmayan kenar/kenarları işaretleyelim.

☐ JT kenarı
☐ JI kenarı
☐ TG kenarı

SÜREÇ ODAKLI DEĞERLENDİRME ÖLÇEĞİ

Doğru Sayısı: / 24

Öğretmen ilgili kutucuğu işaretler.

Geliştirilmeli (0-8)

İyi (9-14)

Çok İyi (15-20)

Mükemmel (21-24)

☐
☐
☐
☐

Hazırlayan:

Bu bölüme sınıfınızın ilgili kazanıma yönelik genel durumuna ilişkin gözlem ve izlenimlerinizi, öğrencilerinizin bu kazanımla ilgili öğrenme eksikliklerini ve bu eksikliklerin giderilmesi amacıyla yaptığınız/yapmayı planladığınız faaliyetleri not edebilirsiniz.

No	Adı - Soyadı	Toplam Puan	Değerlendirme
1			
2			
3			
4			
5			
6			
7			
8			
9			
10			
11			
12			
13			
14			
15			
16			
17			
18			
19			
20			
21			
22			
23			
24			
25			
26			
27			
28			
29			
30			
31			
32			
33			
34			
35			

Hazırlayan: