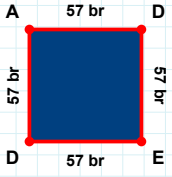
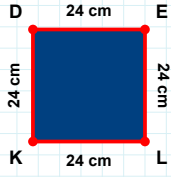


SORU: Aşağıdaki şekillerde istenen kenarın kaç birim veya santimetre olduğunu bulunuz.



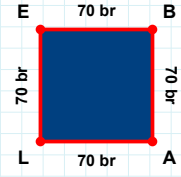
|DE| kaç cmdir?

- ☐ 23 cm  
☐ 24 cm  
☐ 29 cm



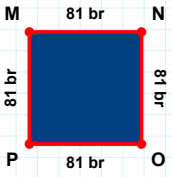
|AD| kaç brdir?

- ☐ 57 br  
☐ 58 br  
☐ 59 br



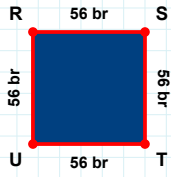
|BA| kaç brdir?

- ☐ 69 br  
☐ 70 br  
☐ 67 br



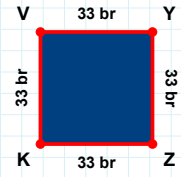
|NO| kaç brdir?

- ☐ 81 br  
☐ 80 br  
☐ 82 br



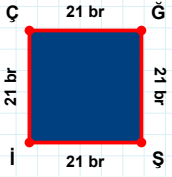
|VY| kaç brdir?

- ☐ 23 br  
☐ 33 br  
☐ 30 br



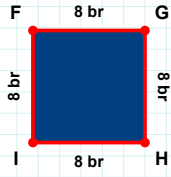
|TU| kaç brdir?

- ☐ 53 br  
☐ 56 br  
☐ 46 br



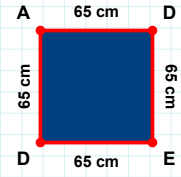
|DE| kaç cmdir?

- ☐ 75 cm  
☐ 65 cm  
☐ 70 cm



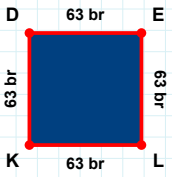
|İÇ| kaç brdir?

- ☐ 18 br  
☐ 21 br  
☐ 22 br



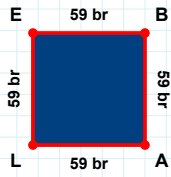
|İF| kaç brdir?

- ☐ 5 br  
☐ 8 br  
☐ 3 br



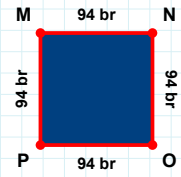
|EB| kaç brdir?

- ☐ 59 br  
☐ 62 br  
☐ 49 br



|MN| kaç brdir?

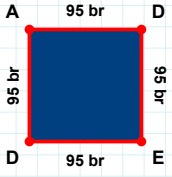
- ☐ 92 br  
☐ 94 br  
☐ 95 br



|DE| kaç brdir?

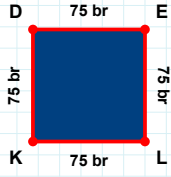
- ☐ 58 br  
☐ 64 br  
☐ 63 br

SORU: Aşağıdaki şekillerde istenen kenarın kaç birim veya santimetre olduğunu bulunuz.



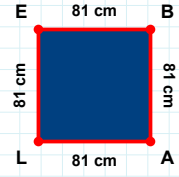
|LE| kaç cmdir?

- ☐ 82 cm  
☐ 84 cm  
☐ 81 cm



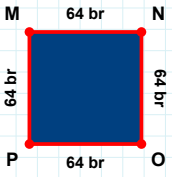
|KD| kaç brdir?

- ☐ 75 br  
☐ 70 br  
☐ 72 br



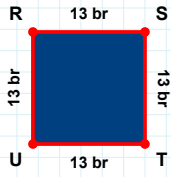
|ED| kaç brdir?

- ☐ 96 br  
☐ 97 br  
☐ 95 br



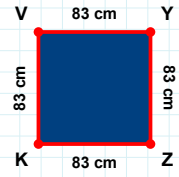
|ST| kaç brdir?

- ☐ 16 br  
☐ 15 br  
☐ 13 br



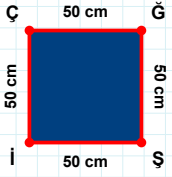
|NO| kaç brdir?

- ☐ 64 br  
☐ 62 br  
☐ 59 br



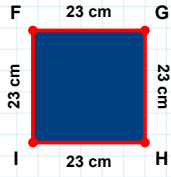
|VY| kaç cmdir?

- ☐ 85 cm  
☐ 88 cm  
☐ 83 cm



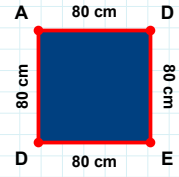
|AD| kaç cmdir?

- ☐ 90 cm  
☐ 80 cm  
☐ 83 cm



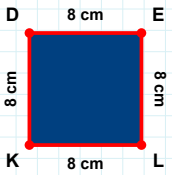
|İF| kaç cmdir?

- ☐ 23 cm  
☐ 22 cm  
☐ 13 cm



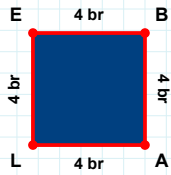
|ÇĞ| kaç cmdir?

- ☐ 51 cm  
☐ 50 cm  
☐ 52 cm



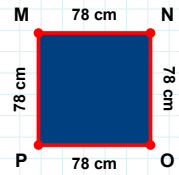
|DE| kaç cmdir?

- ☐ 13 cm  
☐ 8 cm  
☐ 18 cm



|BA| kaç brdir?

- ☐ 1 br  
☐ 4 br  
☐ 9 br



|MN| kaç cmdir?

- ☐ 80 cm  
☐ 79 cm  
☐ 78 cm

## SÜREÇ ODAKLI DEĞERLENDİRME ÖLÇEĞİ

Doğru Sayısı: ..... / 24

Öğretmen ilgili kutucuğu işaretler.

Geliştirilmeli (0-8)

İyi (9-14)

Çok İyi (15-20)

Mükemmel (21-24)



Hazırlayan: .....

Bu bölüme sınıfınızın ilgili kazanıma yönelik genel durumuna ilişkin gözlem ve izlenimlerinizi, öğrencilerinizin bu kazanımla ilgili öğrenme eksikliklerini ve bu eksikliklerin giderilmesi amacıyla yaptığınız/yapmayı planladığınız faaliyetleri not edebilirsiniz.

No	Adı - Soyadı	Toplam Puan	Değerlendirme
1			
2			
3			
4			
5			
6			
7			
8			
9			
10			
11			
12			
13			
14			
15			
16			
17			
18			
19			
20			
21			
22			
23			
24			
25			
26			
27			
28			
29			
30			
31			
32			
33			
34			
35			

Hazırlayan: .....