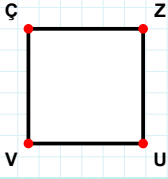
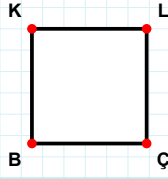


SORU: Aşağıdaki şekillerde verilen kenarlardan şekle ait olmayanı bulunuz.



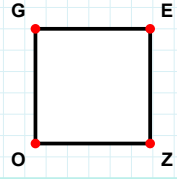
Şekle ait olmayan kenar/kenarları işaretleyelim.

- ☐ ZV kenarı
☐ UV kenarı
☐ ÇU kenarı



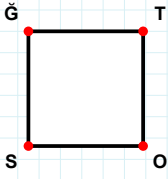
Şekle ait olmayan kenar/kenarları işaretleyelim.

- ☐ KÇ kenarı
☐ LB kenarı
☐ KL kenarı



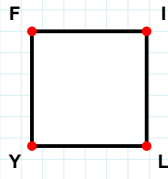
Şekle ait olmayan kenar/kenarları işaretleyelim.

- ☐ EO kenarı
☐ GZ kenarı
☐ ZO kenarı



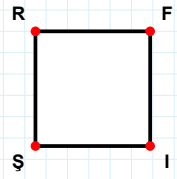
Şekle ait olmayan kenar/kenarları işaretleyelim.

- ☐ SĞ kenarı
☐ TS kenarı
☐ ĞO kenarı



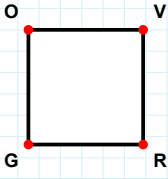
Şekle ait olmayan kenar/kenarları işaretleyelim.

- ☐ FI kenarı
☐ IY kenarı
☐ YF kenarı



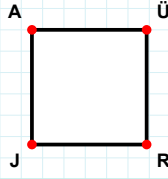
Şekle ait olmayan kenar/kenarları işaretleyelim.

- ☐ RF kenarı
☐ FŞ kenarı
☐ RI kenarı



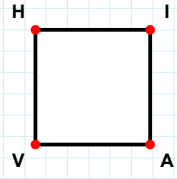
Şekle ait olmayan kenar/kenarları işaretleyelim.

- ☐ OR kenarı
☐ VG kenarı
☐ OV kenarı



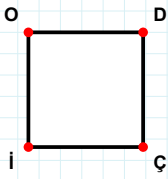
Şekle ait olmayan kenar/kenarları işaretleyelim.

- ☐ AR kenarı
☐ ÜJ kenarı
☐ AÜ kenarı



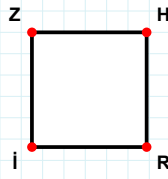
Şekle ait olmayan kenar/kenarları işaretleyelim.

- ☐ HI kenarı
☐ HA kenarı
☐ IV kenarı



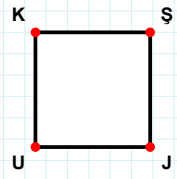
Şekle ait olmayan kenar/kenarları işaretleyelim.

- ☐ DÇ kenarı
☐ OÇ kenarı
☐ İO kenarı



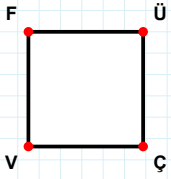
Şekle ait olmayan kenar/kenarları işaretleyelim.

- ☐ HI kenarı
☐ İZ kenarı
☐ RI kenarı



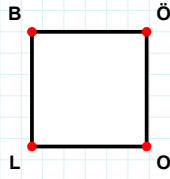
Şekle ait olmayan kenar/kenarları işaretleyelim.

- ☐ ŞJ kenarı
☐ KJ kenarı
☐ ŞU kenarı

SORU: Aşağıdaki şekillerde verilen kenarlardan şekle ait olmayanı bulunuz.

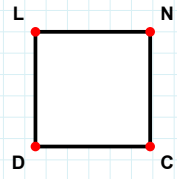
Şekle ait olmayan kenar/kenarları işaretleyelim.

- ☐ FÇ kenarı
☐ ÜÇ kenarı
☐ ÜV kenarı



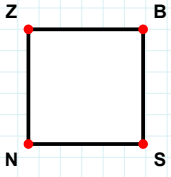
Şekle ait olmayan kenar/kenarları işaretleyelim.

- ☐ ÖO kenarı
☐ OL kenarı
☐ BO kenarı



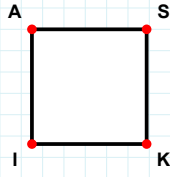
Şekle ait olmayan kenar/kenarları işaretleyelim.

- ☐ CD kenarı
☐ ND kenarı
☐ DL kenarı



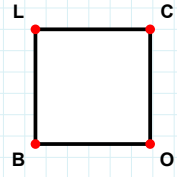
Şekle ait olmayan kenar/kenarları işaretleyelim.

- ☐ ZB kenarı
☐ BS kenarı
☐ ZS kenarı



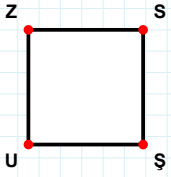
Şekle ait olmayan kenar/kenarları işaretleyelim.

- ☐ SI kenarı
☐ AK kenarı
☐ KI kenarı



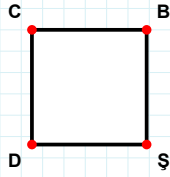
Şekle ait olmayan kenar/kenarları işaretleyelim.

- ☐ CO kenarı
☐ OB kenarı
☐ CB kenarı



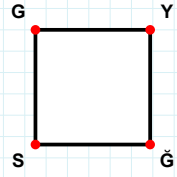
Şekle ait olmayan kenar/kenarları işaretleyelim.

- ☐ SU kenarı
☐ ZŞ kenarı
☐ SŞ kenarı



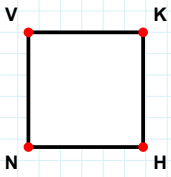
Şekle ait olmayan kenar/kenarları işaretleyelim.

- ☐ CB kenarı
☐ DC kenarı
☐ CŞ kenarı



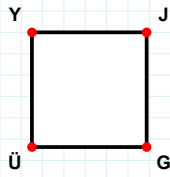
Şekle ait olmayan kenar/kenarları işaretleyelim.

- ☐ YS kenarı
☐ GĞ kenarı
☐ YĞ kenarı



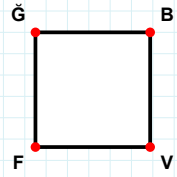
Şekle ait olmayan kenar/kenarları işaretleyelim.

- ☐ VH kenarı
☐ VK kenarı
☐ NV kenarı



Şekle ait olmayan kenar/kenarları işaretleyelim.

- ☐ ÜY kenarı
☐ JÜ kenarı
☐ YJ kenarı



Şekle ait olmayan kenar/kenarları işaretleyelim.

- ☐ BF kenarı
☐ ĞV kenarı
☐ VF kenarı

SÜREÇ ODAKLI DEĞERLENDİRME ÖLÇEĞİ

Doğru Sayısı: / 24

Öğretmen ilgili kutucuğu işaretler.

Geliştirilmeli (0-8)

İyi (9-14)

Çok İyi (15-20)

Mükemmel (21-24)

☐
☐
☐
☐

Hazırlayan:

Bu bölüme sınıfınızın ilgili kazanıma yönelik genel durumuna ilişkin gözlem ve izlenimlerinizi, öğrencilerinizin bu kazanımla ilgili öğrenme eksikliklerini ve bu eksikliklerin giderilmesi amacıyla yaptığınız/yapmayı planladığınız faaliyetleri not edebilirsiniz.

No	Adı - Soyadı	Toplam Puan	Değerlendirme
1			
2			
3			
4			
5			
6			
7			
8			
9			
10			
11			
12			
13			
14			
15			
16			
17			
18			
19			
20			
21			
22			
23			
24			
25			
26			
27			
28			
29			
30			
31			
32			
33			
34			
35			

Hazırlayan: