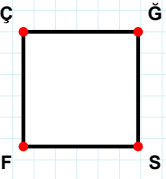
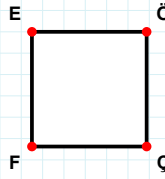


SORU: Aşağıdaki şekillerde verilen kenarlardan şekle ait olmayanı bulunuz.



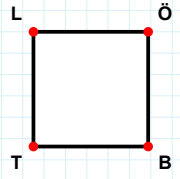
Şekle ait olmayan kenar/kenarları işaretleyelim.

- ☐ ĞF kenarı
☐ ÇĞ kenarı
☐ ÇS kenarı



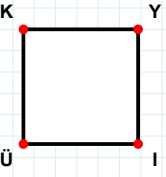
Şekle ait olmayan kenar/kenarları işaretleyelim.

- ☐ ÖÇ kenarı
☐ ÖF kenarı
☐ EÇ kenarı



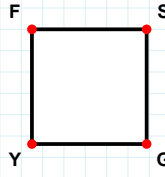
Şekle ait olmayan kenar/kenarları işaretleyelim.

- ☐ BT kenarı
☐ ÖT kenarı
☐ TL kenarı



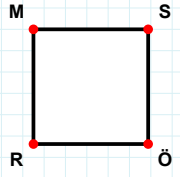
Şekle ait olmayan kenar/kenarları işaretleyelim.

- ☐ KY kenarı
☐ KI kenarı
☐ ÜK kenarı



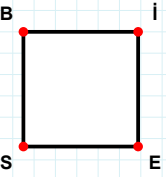
Şekle ait olmayan kenar/kenarları işaretleyelim.

- ☐ FG kenarı
☐ SY kenarı
☐ FS kenarı



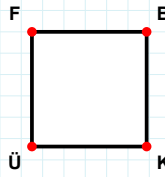
Şekle ait olmayan kenar/kenarları işaretleyelim.

- ☐ MS kenarı
☐ SÖ kenarı
☐ MÖ kenarı



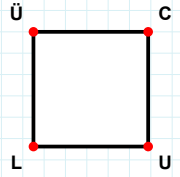
Şekle ait olmayan kenar/kenarları işaretleyelim.

- ☐ SB kenarı
☐ Bİ kenarı
☐ BE kenarı



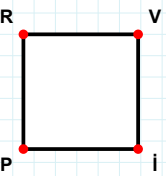
Şekle ait olmayan kenar/kenarları işaretleyelim.

- ☐ BÜ kenarı
☐ BK kenarı
☐ ÜF kenarı



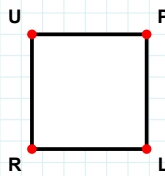
Şekle ait olmayan kenar/kenarları işaretleyelim.

- ☐ CL kenarı
☐ ÜU kenarı
☐ LÜ kenarı



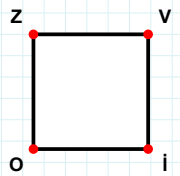
Şekle ait olmayan kenar/kenarları işaretleyelim.

- ☐ İP kenarı
☐ VP kenarı
☐ RV kenarı



Şekle ait olmayan kenar/kenarları işaretleyelim.

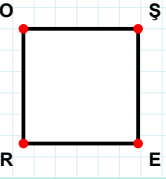
- ☐ LR kenarı
☐ PR kenarı
☐ UL kenarı



Şekle ait olmayan kenar/kenarları işaretleyelim.

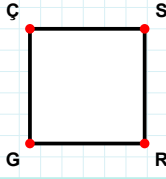
- ☐ VO kenarı
☐ Zİ kenarı
☐ OZ kenarı

SORU: Aşağıdaki şekillerde verilen kenarlardan şekle ait olmayanı bulunuz.



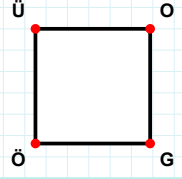
Şekle ait olmayan kenar/kenarları işaretleyelim.

- ☐ ŞR kenarı
☐ OE kenarı
☐ RO kenarı



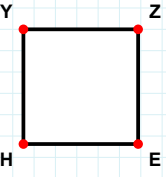
Şekle ait olmayan kenar/kenarları işaretleyelim.

- ☐ SG kenarı
☐ ÇR kenarı
☐ ÇS kenarı



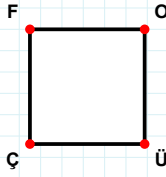
Şekle ait olmayan kenar/kenarları işaretleyelim.

- ☐ OÖ kenarı
☐ ÜG kenarı
☐ GÖ kenarı



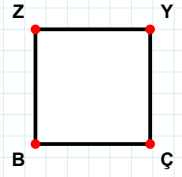
Şekle ait olmayan kenar/kenarları işaretleyelim.

- ☐ ZH kenarı
☐ YE kenarı
☐ EH kenarı



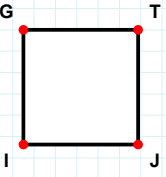
Şekle ait olmayan kenar/kenarları işaretleyelim.

- ☐ ÜÇ kenarı
☐ OÇ kenarı
☐ FÜ kenarı



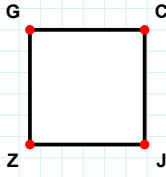
Şekle ait olmayan kenar/kenarları işaretleyelim.

- ☐ YB kenarı
☐ ÇB kenarı
☐ BZ kenarı



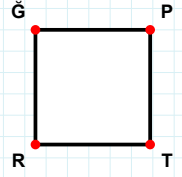
Şekle ait olmayan kenar/kenarları işaretleyelim.

- ☐ IG kenarı
☐ GJ kenarı
☐ TI kenarı



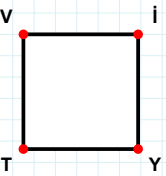
Şekle ait olmayan kenar/kenarları işaretleyelim.

- ☐ CZ kenarı
☐ GJ kenarı
☐ ZG kenarı



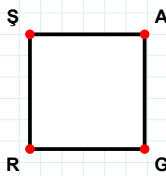
Şekle ait olmayan kenar/kenarları işaretleyelim.

- ☐ ĞT kenarı
☐ ĞP kenarı
☐ PR kenarı



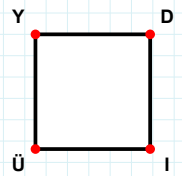
Şekle ait olmayan kenar/kenarları işaretleyelim.

- ☐ Vİ kenarı
☐ İT kenarı
☐ YT kenarı



Şekle ait olmayan kenar/kenarları işaretleyelim.

- ☐ ŞA kenarı
☐ GR kenarı
☐ AR kenarı



Şekle ait olmayan kenar/kenarları işaretleyelim.

- ☐ İÜ kenarı
☐ YD kenarı
☐ DÜ kenarı

SÜREÇ ODAKLI DEĞERLENDİRME ÖLÇEĞİ

Doğru Sayısı: / 24

Öğretmen ilgili kutucuğu işaretler.

Geliştirilmeli (0-8)

İyi (9-14)

Çok İyi (15-20)

Mükemmel (21-24)

☐
☐
☐
☐

Hazırlayan:

Bu bölüme sınıfınızın ilgili kazanıma yönelik genel durumuna ilişkin gözlem ve izlenimlerinizi, öğrencilerinizin bu kazanımla ilgili öğrenme eksikliklerini ve bu eksikliklerin giderilmesi amacıyla yaptığınız/yapmayı planladığınız faaliyetleri not edebilirsiniz.

No	Adı - Soyadı	Toplam Puan	Değerlendirme
1			
2			
3			
4			
5			
6			
7			
8			
9			
10			
11			
12			
13			
14			
15			
16			
17			
18			
19			
20			
21			
22			
23			
24			
25			
26			
27			
28			
29			
30			
31			
32			
33			
34			
35			

Hazırlayan: