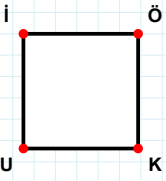
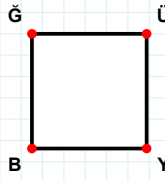


SORU: Aşağıdaki şekillerde verilen kenarlardan şekle ait olmayanı bulunuz.



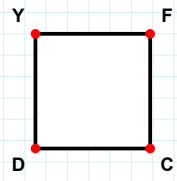
Şekle ait olmayan kenar/kenarları işaretleyelim.

- ☐ ÖK kenarı
☐ ÖU kenarı
☐ İK kenarı



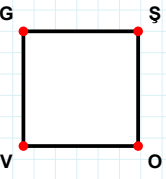
Şekle ait olmayan kenar/kenarları işaretleyelim.

- ☐ YB kenarı
☐ BĞ kenarı
☐ ĞY kenarı



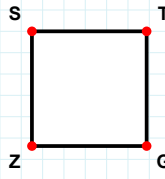
Şekle ait olmayan kenar/kenarları işaretleyelim.

- ☐ DY kenarı
☐ CD kenarı
☐ YC kenarı



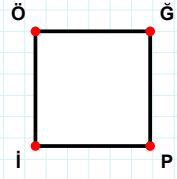
Şekle ait olmayan kenar/kenarları işaretleyelim.

- ☐ GŞ kenarı
☐ GO kenarı
☐ VG kenarı



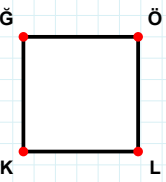
Şekle ait olmayan kenar/kenarları işaretleyelim.

- ☐ TZ kenarı
☐ SG kenarı
☐ ZS kenarı



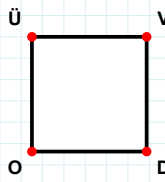
Şekle ait olmayan kenar/kenarları işaretleyelim.

- ☐ Ğİ kenarı
☐ Pİ kenarı
☐ İÖ kenarı



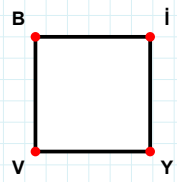
Şekle ait olmayan kenar/kenarları işaretleyelim.

- ☐ ÖK kenarı
☐ KĞ kenarı
☐ ÖL kenarı



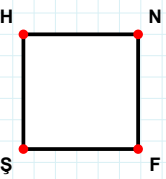
Şekle ait olmayan kenar/kenarları işaretleyelim.

- ☐ ÜD kenarı
☐ ÜV kenarı
☐ VD kenarı



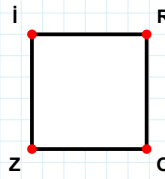
Şekle ait olmayan kenar/kenarları işaretleyelim.

- ☐ İV kenarı
☐ Bİ kenarı
☐ BY kenarı



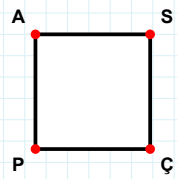
Şekle ait olmayan kenar/kenarları işaretleyelim.

- ☐ FŞ kenarı
☐ HF kenarı
☐ NŞ kenarı



Şekle ait olmayan kenar/kenarları işaretleyelim.

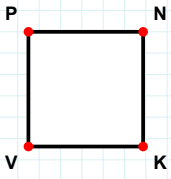
- ☐ RZ kenarı
☐ İO kenarı
☐ Zİ kenarı



Şekle ait olmayan kenar/kenarları işaretleyelim.

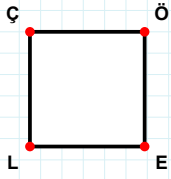
- ☐ SP kenarı
☐ AÇ kenarı
☐ ÇP kenarı

SORU: Aşağıdaki şekillerde verilen kenarlardan şekle ait olmayanı bulunuz.



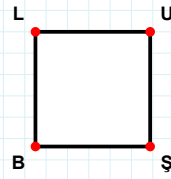
Şekle ait olmayan kenar/kenarları işaretleyelim.

- ☐ PK kenarı
☐ NV kenarı
☐ NK kenarı



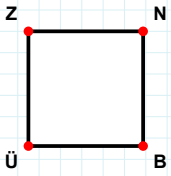
Şekle ait olmayan kenar/kenarları işaretleyelim.

- ☐ ÇE kenarı
☐ ÖL kenarı
☐ EL kenarı



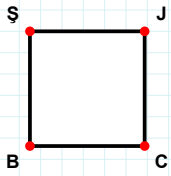
Şekle ait olmayan kenar/kenarları işaretleyelim.

- ☐ LŞ kenarı
☐ LU kenarı
☐ UB kenarı



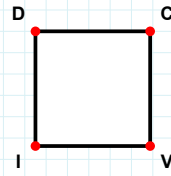
Şekle ait olmayan kenar/kenarları işaretleyelim.

- ☐ ÜZ kenarı
☐ NÜ kenarı
☐ NB kenarı



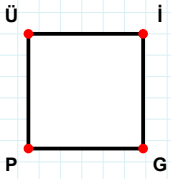
Şekle ait olmayan kenar/kenarları işaretleyelim.

- ☐ JC kenarı
☐ JB kenarı
☐ ŞC kenarı



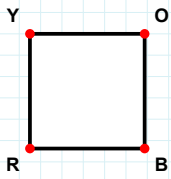
Şekle ait olmayan kenar/kenarları işaretleyelim.

- ☐ ID kenarı
☐ CI kenarı
☐ DV kenarı



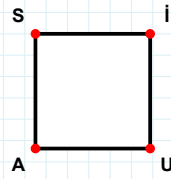
Şekle ait olmayan kenar/kenarları işaretleyelim.

- ☐ ÜG kenarı
☐ İG kenarı
☐ İP kenarı



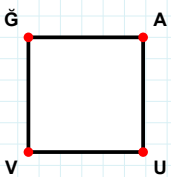
Şekle ait olmayan kenar/kenarları işaretleyelim.

- ☐ OB kenarı
☐ YB kenarı
☐ BR kenarı



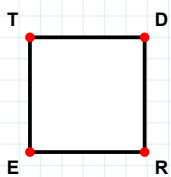
Şekle ait olmayan kenar/kenarları işaretleyelim.

- ☐ AS kenarı
☐ UA kenarı
☐ SU kenarı



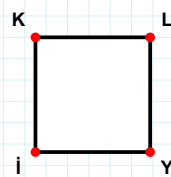
Şekle ait olmayan kenar/kenarları işaretleyelim.

- ☐ ĞU kenarı
☐ ĞA kenarı
☐ AV kenarı



Şekle ait olmayan kenar/kenarları işaretleyelim.

- ☐ TD kenarı
☐ TR kenarı
☐ DR kenarı



Şekle ait olmayan kenar/kenarları işaretleyelim.

- ☐ LI kenarı
☐ KY kenarı
☐ LY kenarı

SÜREÇ ODAKLI DEĞERLENDİRME ÖLÇEĞİ

Doğru Sayısı: / 24

Öğretmen ilgili kutucuğu işaretler.

Geliştirilmeli (0-8)

İyi (9-14)

Çok İyi (15-20)

Mükemmel (21-24)

☐
☐
☐
☐

Hazırlayan:

Bu bölüme sınıfınızın ilgili kazanıma yönelik genel durumuna ilişkin gözlem ve izlenimlerinizi, öğrencilerinizin bu kazanımla ilgili öğrenme eksikliklerini ve bu eksikliklerin giderilmesi amacıyla yaptığınız/yapmayı planladığınız faaliyetleri not edebilirsiniz.

No	Adı - Soyadı	Toplam Puan	Değerlendirme
1			
2			
3			
4			
5			
6			
7			
8			
9			
10			
11			
12			
13			
14			
15			
16			
17			
18			
19			
20			
21			
22			
23			
24			
25			
26			
27			
28			
29			
30			
31			
32			
33			
34			
35			

Hazırlayan: