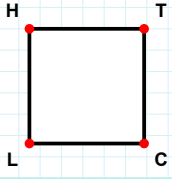
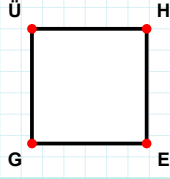


**SORU:** Aşağıdaki şekillerde verilen kenarlardan şekle ait olmayanı bulunuz.



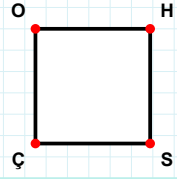
Şekle ait olmayan kenar/kenarları işaretleyelim.

- ☐ TL kenarı  
☐ HC kenarı  
☐ LH kenarı



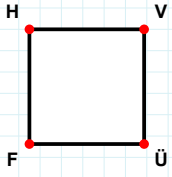
Şekle ait olmayan kenar/kenarları işaretleyelim.

- ☐ ÜH kenarı  
☐ HG kenarı  
☐ ÜE kenarı



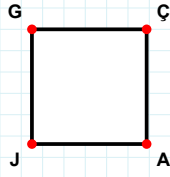
Şekle ait olmayan kenar/kenarları işaretleyelim.

- ☐ HÇ kenarı  
☐ ÇO kenarı  
☐ OS kenarı



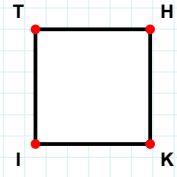
Şekle ait olmayan kenar/kenarları işaretleyelim.

- ☐ VÜ kenarı  
☐ VF kenarı  
☐ HÜ kenarı



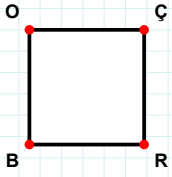
Şekle ait olmayan kenar/kenarları işaretleyelim.

- ☐ ÇJ kenarı  
☐ GÇ kenarı  
☐ GA kenarı



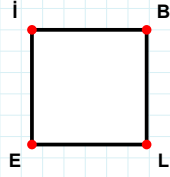
Şekle ait olmayan kenar/kenarları işaretleyelim.

- ☐ TH kenarı  
☐ TK kenarı  
☐ HK kenarı



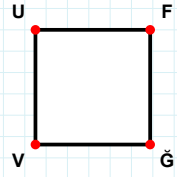
Şekle ait olmayan kenar/kenarları işaretleyelim.

- ☐ BO kenarı  
☐ ÇB kenarı  
☐ OR kenarı



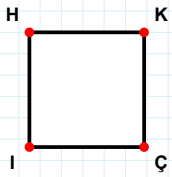
Şekle ait olmayan kenar/kenarları işaretleyelim.

- ☐ BL kenarı  
☐ BE kenarı  
☐ El kenarı



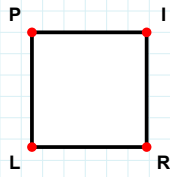
Şekle ait olmayan kenar/kenarları işaretleyelim.

- ☐ FV kenarı  
☐ UF kenarı  
☐ UĞ kenarı



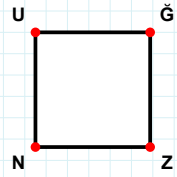
Şekle ait olmayan kenar/kenarları işaretleyelim.

- ☐ ÇI kenarı  
☐ KI kenarı  
☐ HÇ kenarı



Şekle ait olmayan kenar/kenarları işaretleyelim.

- ☐ PR kenarı  
☐ LP kenarı  
☐ PI kenarı



Şekle ait olmayan kenar/kenarları işaretleyelim.

- ☐ UZ kenarı  
☐ ĞN kenarı  
☐ ĞZ kenarı

**SORU:** Aşağıdaki şekillerde verilen kenarlardan şekle ait olmayanı bulunuz.

Şekle ait olmayan kenar/kenarları işaretleyelim.

☐ MS kenarı

☐ SV kenarı

☐ MC kenarı

Şekle ait olmayan kenar/kenarları işaretleyelim.

☐ ĞR kenarı

☐ MÜ kenarı

☐ ÜĞ kenarı

Şekle ait olmayan kenar/kenarları işaretleyelim.

☐ İB kenarı

☐ Mİ kenarı

☐ ZB kenarı

Şekle ait olmayan kenar/kenarları işaretleyelim.

☐ VU kenarı

☐ UA kenarı

☐ VA kenarı

Şekle ait olmayan kenar/kenarları işaretleyelim.

☐ TŞ kenarı

☐ ŞH kenarı

☐ KH kenarı

Şekle ait olmayan kenar/kenarları işaretleyelim.

☐ BD kenarı

☐ LD kenarı

☐ LB kenarı

Şekle ait olmayan kenar/kenarları işaretleyelim.

☐ FS kenarı

☐ RF kenarı

☐ SR kenarı

Şekle ait olmayan kenar/kenarları işaretleyelim.

☐ MÇ kenarı

☐ ÜR kenarı

☐ ÜM kenarı

Şekle ait olmayan kenar/kenarları işaretleyelim.

☐ Vİ kenarı

☐ PV kenarı

☐ İP kenarı

Şekle ait olmayan kenar/kenarları işaretleyelim.

☐ HA kenarı

☐ ÜH kenarı

☐ KA kenarı

Şekle ait olmayan kenar/kenarları işaretleyelim.

☐ ÜZ kenarı

☐ ÜK kenarı

☐ ZF kenarı

Şekle ait olmayan kenar/kenarları işaretleyelim.

☐ SC kenarı

☐ İC kenarı

☐ Sİ kenarı

## SÜREÇ ODAKLI DEĞERLENDİRME ÖLÇEĞİ

Doğru Sayısı: ..... / 24

Öğretmen ilgili kutucuğu işaretler.

Geliştirilmeli (0-8)

İyi (9-14)

Çok İyi (15-20)

Mükemmel (21-24)

☐
☐
☐
☐

Hazırlayan: .....

Bu bölüme sınıfınızın ilgili kazanıma yönelik genel durumuna ilişkin gözlem ve izlenimlerinizi, öğrencilerinizin bu kazanımla ilgili öğrenme eksikliklerini ve bu eksikliklerin giderilmesi amacıyla yaptığınız/yapmayı planladığınız faaliyetleri not edebilirsiniz.

No	Adı - Soyadı	Toplam Puan	Değerlendirme
1			
2			
3			
4			
5			
6			
7			
8			
9			
10			
11			
12			
13			
14			
15			
16			
17			
18			
19			
20			
21			
22			
23			
24			
25			
26			
27			
28			
29			
30			
31			
32			
33			
34			
35			

Hazırlayan: ..... ..