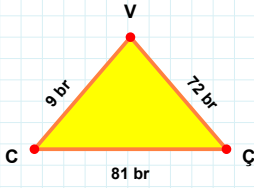
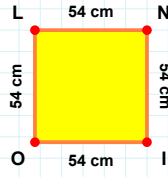


**SORU: Aşağıdaki şekilleri inceleyiniz. Verilen kenar bilgisinin hangi şekle ait olduğunu işaretleyiniz.**



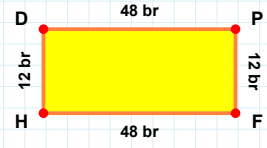
**[LN] kenarı hangi şeklin kenarıdır?**

- ☐ Üçgen  
☐ Kare  
☐ Dikdörtgen



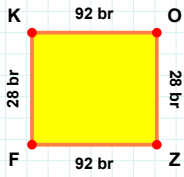
**[DP] kenarı hangi şeklin kenarıdır?**

- ☐ Dikdörtgen  
☐ Kare  
☐ Üçgen



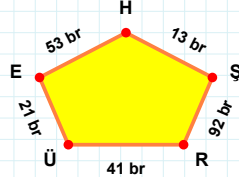
**[ÇV] kenarı hangi şeklin kenarıdır?**

- ☐ Kare  
☐ Dikdörtgen  
☐ Üçgen



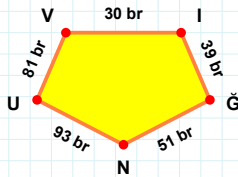
**53 br hangi şeklin kenarıdır?**

- ☐ Beşgen  
☐ Dikey Dikdörtgen  
☐ Ters Beşgen



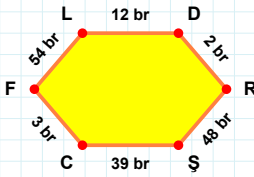
**[NU] kenarı hangi şeklin kenarıdır?**

- ☐ Beşgen  
☐ Ters Beşgen  
☐ Dikey Dikdörtgen



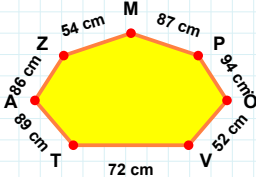
**[FK] kenarı hangi şeklin kenarıdır?**

- ☐ Dikey Dikdörtgen  
☐ Beşgen  
☐ Ters Beşgen



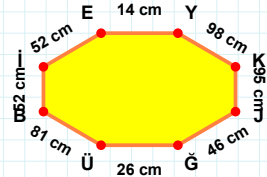
**[EY] kenarı hangi şeklin kenarıdır?**

- ☐ Altıgen  
☐ Sekizgen  
☐ Yediggen



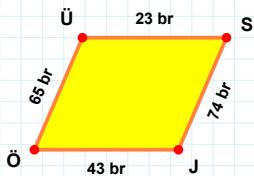
**[DR] kenarı hangi şeklin kenarıdır?**

- ☐ Yediggen  
☐ Altıgen  
☐ Sekizgen



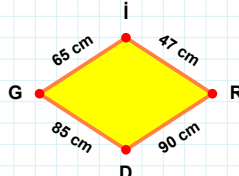
**94 cm hangi şeklin kenarıdır?**

- ☐ Sekizgen  
☐ Yediggen  
☐ Altıgen



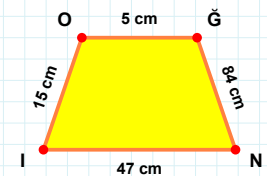
**65 cm hangi şeklin kenarıdır?**

- ☐ Yamuk  
☐ Eşkenar Dörtgen  
☐ Paralelkenar



**[OĞ] kenarı hangi şeklin kenarıdır?**

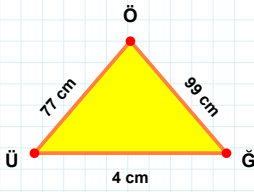
- ☐ Eşkenar Dörtgen  
☐ Yamuk  
☐ Paralelkenar



**[ÜS] kenarı hangi şeklin kenarıdır?**

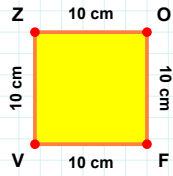
- ☐ Eşkenar Dörtgen  
☐ Paralelkenar  
☐ Yamuk

**SORU:** Aşağıdaki şekilleri inceleyiniz. Verilen kenar bilgisinin hangi şekle ait olduğunu işaretleyiniz.



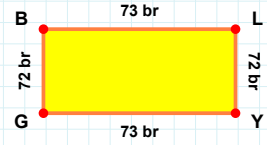
**[ZO] kenarı hangi şeklin kenarıdır?**

- ☐ Dikdörtgen  
☐ Üçgen  
☐ Kare



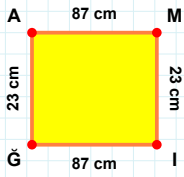
**[BL] kenarı hangi şeklin kenarıdır?**

- ☐ Dikdörtgen  
☐ Kare  
☐ Üçgen



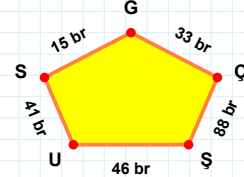
**[ÖÜ] kenarı hangi şeklin kenarıdır?**

- ☐ Kare  
☐ Üçgen  
☐ Dikdörtgen



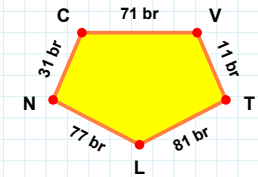
**15 br hangi şeklin kenarıdır?**

- ☐ Beşgen  
☐ Dikey Dikdörtgen  
☐ Ters Beşgen



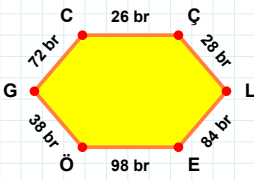
**[LN] kenarı hangi şeklin kenarıdır?**

- ☐ Beşgen  
☐ Ters Beşgen  
☐ Dikey Dikdörtgen



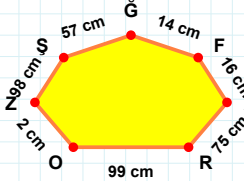
**[MI] kenarı hangi şeklin kenarıdır?**

- ☐ Beşgen  
☐ Ters Beşgen  
☐ Dikey Dikdörtgen



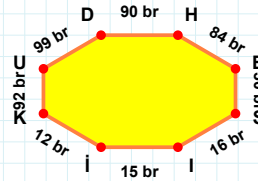
**57 cm hangi şeklin kenarıdır?**

- ☐ Sekizgen  
☐ Altıgen  
☐ Yedigen



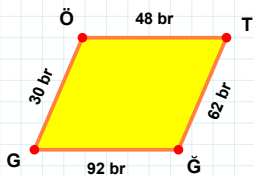
**[SI] kenarı hangi şeklin kenarıdır?**

- ☐ Altıgen  
☐ Sekizgen  
☐ Yedigen



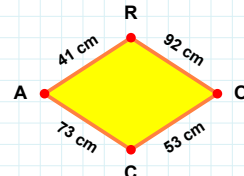
**[ÇL] kenarı hangi şeklin kenarıdır?**

- ☐ Sekizgen  
☐ Altıgen  
☐ Yedigen



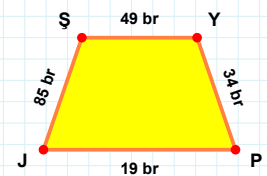
**[ŞY] kenarı hangi şeklin kenarıdır?**

- ☐ Eşkenar Dörtgen  
☐ Paralelkenar  
☐ Yamuk



**[ÖT] kenarı hangi şeklin kenarıdır?**

- ☐ Eşkenar Dörtgen  
☐ Yamuk  
☐ Paralelkenar



**92 cm hangi şeklin kenarıdır?**

- ☐ Yamuk  
☐ Paralelkenar  
☐ Eşkenar Dörtgen

### SÜREÇ ODAKLI DEĞERLENDİRME ÖLÇEĞİ

Doğru Sayısı: ..... / 24

Öğretmen ilgili kutucuğu işaretler.

Geliştirilmeli (0-8)

İyi (9-14)

Çok İyi (15-20)

Mükemmel (21-24)

☐
☐
☐
☐

Hazırlayan: .....

Bu bölüme sınıfınızın ilgili kazanıma yönelik genel durumuna ilişkin gözlem ve izlenimlerinizi, öğrencilerinizin bu kazanımla ilgili öğrenme eksikliklerini ve bu eksikliklerin giderilmesi amacıyla yaptığınız/yapmayı planladığınız faaliyetleri not edebilirsiniz.

No	Adı - Soyadı	Toplam Puan	Değerlendirme
1			
2			
3			
4			
5			
6			
7			
8			
9			
10			
11			
12			
13			
14			
15			
16			
17			
18			
19			
20			
21			
22			
23			
24			
25			
26			
27			
28			
29			
30			
31			
32			
33			
34			
35			

Hazırlayan: ..... ..