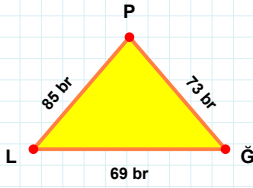
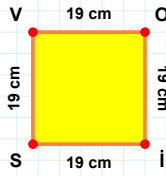


**SORU:** Aşağıdaki şekilleri inceleyiniz. Verilen kenar bilgisinin hangi şekle ait olduğunu işaretleyiniz.



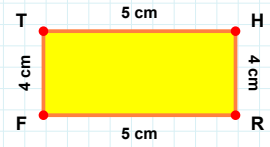
**[PL] kenarı hangi şeklin kenarıdır?**

- ☐ Dikdörtgen  
☐ Üçgen  
☐ Kare



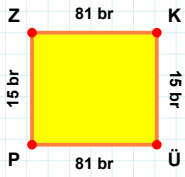
**[PL] kenarı hangi şeklin kenarıdır?**

- ☐ Kare  
☐ Dikdörtgen  
☐ Üçgen



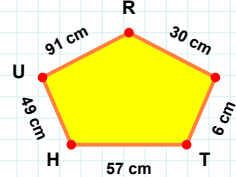
**[OL] kenarı hangi şeklin kenarıdır?**

- ☐ Üçgen  
☐ Kare  
☐ Dikdörtgen



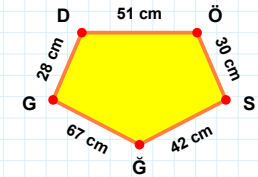
**57 cm hangi şeklin kenarıdır?**

- ☐ Ters Beşgen  
☐ Beşgen  
☐ Dikey Dikdörtgen



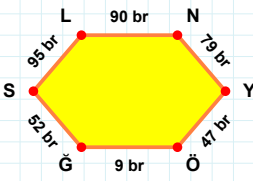
**[GG] kenarı hangi şeklin kenarıdır?**

- ☐ Ters Beşgen  
☐ Beşgen  
☐ Dikey Dikdörtgen



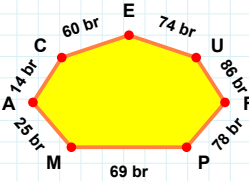
**[ÜP] kenarı hangi şeklin kenarıdır?**

- ☐ Ters Beşgen  
☐ Dikey Dikdörtgen  
☐ Beşgen



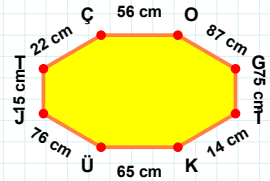
**[ÜJ] kenarı hangi şeklin kenarıdır?**

- ☐ Yedigen  
☐ Sekizgen  
☐ Altıgen



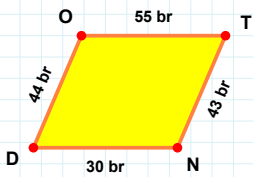
**[LN] kenarı hangi şeklin kenarıdır?**

- ☐ Sekizgen  
☐ Yedigen  
☐ Altıgen



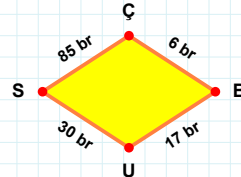
**69 br hangi şeklin kenarıdır?**

- ☐ Altıgen  
☐ Sekizgen  
☐ Yedigen



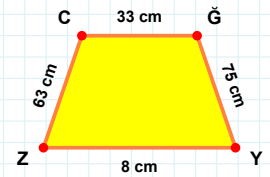
**[ZC] kenarı hangi şeklin kenarıdır?**

- ☐ Paralelkenar  
☐ Yamuk  
☐ Eşkenar Dörtgen



**[ND] kenarı hangi şeklin kenarıdır?**

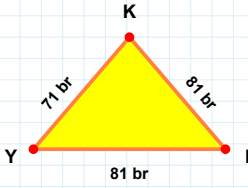
- ☐ Paralelkenar  
☐ Eşkenar Dörtgen  
☐ Yamuk



**17 br hangi şeklin kenarıdır?**

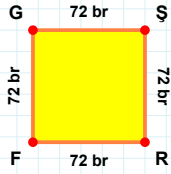
- ☐ Eşkenar Dörtgen  
☐ Paralelkenar  
☐ Yamuk

**SORU:** Aşağıdaki şekilleri inceleyiniz. Verilen kenar bilgisinin hangi şekle ait olduğunu işaretleyiniz.



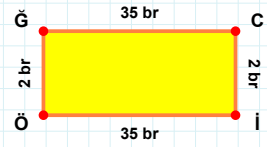
**|IÖ| kenarı hangi şeklin kenarıdır?**

- ☐ Üçgen  
☐ Dikdörtgen  
☐ Kare



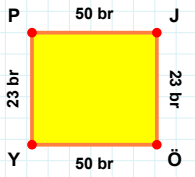
**|KY| kenarı hangi şeklin kenarıdır?**

- ☐ Kare  
☐ Üçgen  
☐ Dikdörtgen



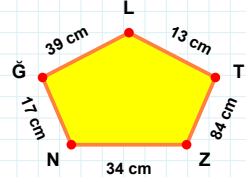
**|FG| kenarı hangi şeklin kenarıdır?**

- ☐ Dikdörtgen  
☐ Kare  
☐ Üçgen



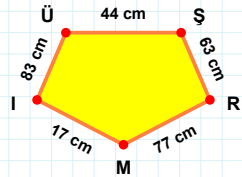
**|IÜ| kenarı hangi şeklin kenarıdır?**

- ☐ Dikey Dikdörtgen  
☐ Ters Beşgen  
☐ Beşgen



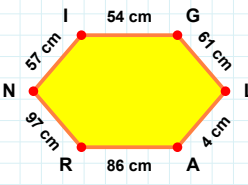
**|JÖ| kenarı hangi şeklin kenarıdır?**

- ☐ Dikey Dikdörtgen  
☐ Ters Beşgen  
☐ Beşgen



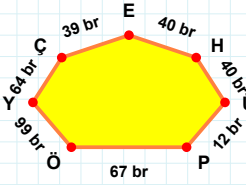
**34 cm hangi şeklin kenarıdır?**

- ☐ Beşgen  
☐ Ters Beşgen  
☐ Dikey Dikdörtgen



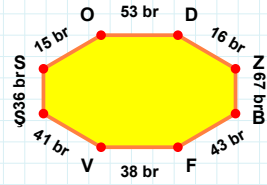
**64 br hangi şeklin kenarıdır?**

- ☐ Sekizgen  
☐ Yedigen  
☐ Altigen



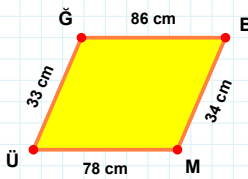
**|ŞS| kenarı hangi şeklin kenarıdır?**

- ☐ Sekizgen  
☐ Yedigen  
☐ Altigen



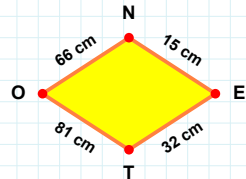
**|IG| kenarı hangi şeklin kenarıdır?**

- ☐ Yedigen  
☐ Altigen  
☐ Sekizgen



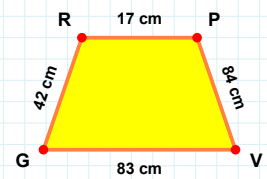
**32 cm hangi şeklin kenarıdır?**

- ☐ Yamuk  
☐ Eşkenar Dörtgen  
☐ Paralelkenar



**|PV| kenarı hangi şeklin kenarıdır?**

- ☐ Eşkenar Dörtgen  
☐ Paralelkenar  
☐ Yamuk



**|BM| kenarı hangi şeklin kenarıdır?**

- ☐ Yamuk  
☐ Eşkenar Dörtgen  
☐ Paralelkenar

### SÜREÇ ODAKLI DEĞERLENDİRME ÖLÇEĞİ

Doğru Sayısı: ..... / 24

Öğretmen ilgili kutucuğu işaretler.

Geliştirilmeli (0-8)

İyi (9-14)

Çok İyi (15-20)

Mükemmel (21-24)

☐
☐
☐
☐

Hazırlayan: .....

Bu bölüme sınıfınızın ilgili kazanıma yönelik genel durumuna ilişkin gözlem ve izlenimlerinizi, öğrencilerinizin bu kazanımla ilgili öğrenme eksikliklerini ve bu eksikliklerin giderilmesi amacıyla yaptığınız/yapmayı planladığınız faaliyetleri not edebilirsiniz.

No	Adı - Soyadı	Toplam Puan	Değerlendirme
1			
2			
3			
4			
5			
6			
7			
8			
9			
10			
11			
12			
13			
14			
15			
16			
17			
18			
19			
20			
21			
22			
23			
24			
25			
26			
27			
28			
29			
30			
31			
32			
33			
34			
35			

Hazırlayan: ..... ..