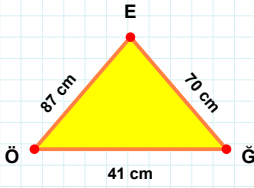
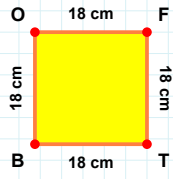


**SORU:** Aşağıdaki şekilleri inceleyiniz. Verilen kenar bilgisinin hangi şekle ait olduğunu işaretleyiniz.



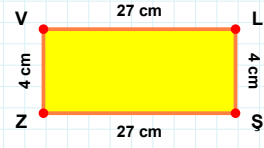
[SZ] kenarı hangi şeklin kenarıdır?

- ☐ Dikdörtgen  
☐ Üçgen  
☐ Kare



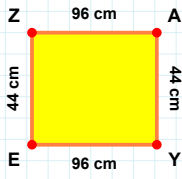
[GE] kenarı hangi şeklin kenarıdır?

- ☐ Dikdörtgen  
☐ Kare  
☐ Üçgen



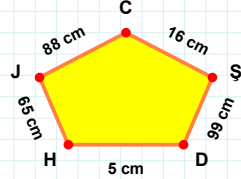
[FT] kenarı hangi şeklin kenarıdır?

- ☐ Dikdörtgen  
☐ Kare  
☐ Üçgen



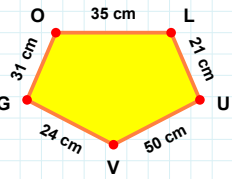
[GO] kenarı hangi şeklin kenarıdır?

- ☐ Dikey Dikdörtgen  
☐ Beşgen  
☐ Ters Beşgen



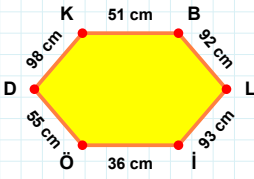
[ZA] kenarı hangi şeklin kenarıdır?

- ☐ Dikey Dikdörtgen  
☐ Beşgen  
☐ Ters Beşgen



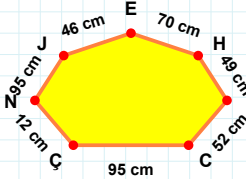
88 cm hangi şeklin kenarıdır?

- ☐ Ters Beşgen  
☐ Beşgen  
☐ Dikey Dikdörtgen



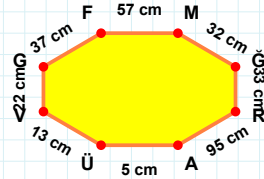
70 cm hangi şeklin kenarıdır?

- ☐ Sekizgen  
☐ Altıgen  
☐ Yedigen



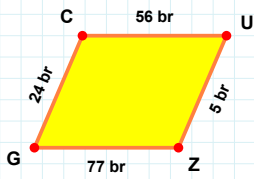
[RA] kenarı hangi şeklin kenarıdır?

- ☐ Yedigen  
☐ Altıgen  
☐ Sekizgen



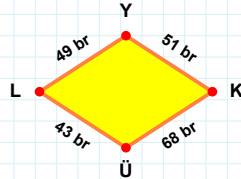
[Lİ] kenarı hangi şeklin kenarıdır?

- ☐ Sekizgen  
☐ Yedigen  
☐ Altıgen



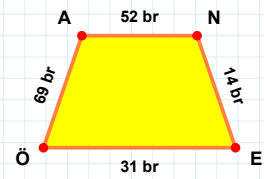
[AN] kenarı hangi şeklin kenarıdır?

- ☐ Paralelkenar  
☐ Eşkenar Dörtgen  
☐ Yamuk



[GC] kenarı hangi şeklin kenarıdır?

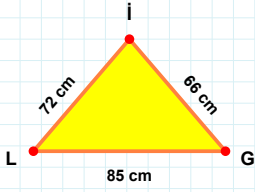
- ☐ Paralelkenar  
☐ Eşkenar Dörtgen  
☐ Yamuk



49 br hangi şeklin kenarıdır?

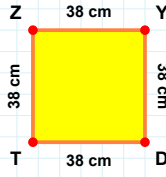
- ☐ Paralelkenar  
☐ Eşkenar Dörtgen  
☐ Yamuk

**SORU:** Aşağıdaki şekilleri inceleyiniz. Verilen kenar bilgisinin hangi şekle ait olduğunu işaretleyiniz.



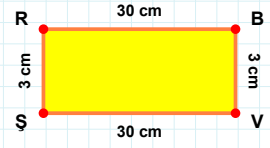
[RB] kenarı hangi şeklin kenarıdır?

- ☐ Kare  
☐ Üçgen  
☐ Dikdörtgen



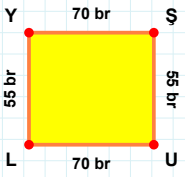
[LG] kenarı hangi şeklin kenarıdır?

- ☐ Dikdörtgen  
☐ Üçgen  
☐ Kare



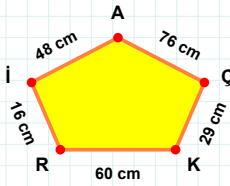
[YD] kenarı hangi şeklin kenarıdır?

- ☐ Kare  
☐ Dikdörtgen  
☐ Üçgen



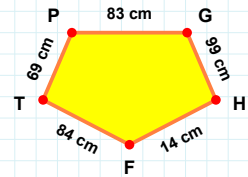
[PG] kenarı hangi şeklin kenarıdır?

- ☐ Dikey Dikdörtgen  
☐ Beşgen  
☐ Ters Beşgen



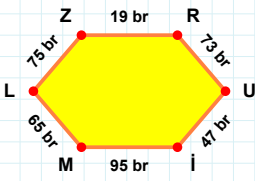
[LY] kenarı hangi şeklin kenarıdır?

- ☐ Beşgen  
☐ Ters Beşgen  
☐ Dikey Dikdörtgen



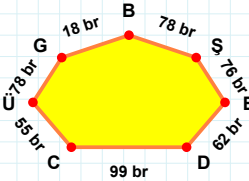
16 cm hangi şeklin kenarıdır?

- ☐ Ters Beşgen  
☐ Beşgen  
☐ Dikey Dikdörtgen



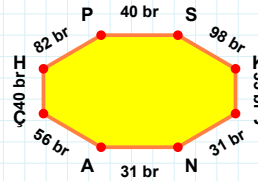
76 br hangi şeklin kenarıdır?

- ☐ Yedigen  
☐ Sekizgen  
☐ Altıgen



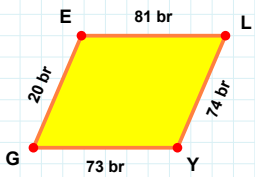
[HP] kenarı hangi şeklin kenarıdır?

- ☐ Altıgen  
☐ Yedigen  
☐ Sekizgen



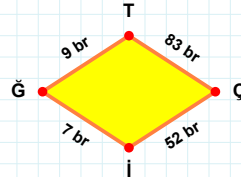
[ZR] kenarı hangi şeklin kenarıdır?

- ☐ Yedigen  
☐ Sekizgen  
☐ Altıgen



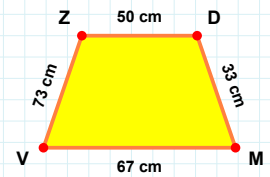
[VZ] kenarı hangi şeklin kenarıdır?

- ☐ Eşkenar Dörtgen  
☐ Paralelkenar  
☐ Yamuk



[GE] kenarı hangi şeklin kenarıdır?

- ☐ Paralelkenar  
☐ Eşkenar Dörtgen  
☐ Yamuk



83 br hangi şeklin kenarıdır?

- ☐ Yamuk  
☐ Paralelkenar  
☐ Eşkenar Dörtgen

### SÜREÇ ODAKLI DEĞERLENDİRME ÖLÇEĞİ

Doğru Sayısı: ..... / 24

Öğretmen ilgili kutucuğu işaretler.

Geliştirilmeli (0-8)

İyi (9-14)

Çok İyi (15-20)

Mükemmel (21-24)

☐
☐
☐
☐

Hazırlayan: .....

Bu bölüme sınıfınızın ilgili kazanıma yönelik genel durumuna ilişkin gözlem ve izlenimlerinizi, öğrencilerinizin bu kazanımla ilgili öğrenme eksikliklerini ve bu eksikliklerin giderilmesi amacıyla yaptığınız/yapmayı planladığınız faaliyetleri not edebilirsiniz.

No	Adı - Soyadı	Toplam Puan	Değerlendirme
1			
2			
3			
4			
5			
6			
7			
8			
9			
10			
11			
12			
13			
14			
15			
16			
17			
18			
19			
20			
21			
22			
23			
24			
25			
26			
27			
28			
29			
30			
31			
32			
33			
34			
35			

Hazırlayan: ..... ..