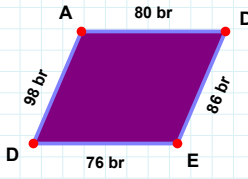
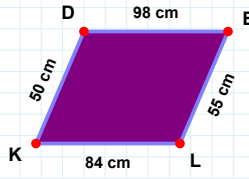


SORU: Aşağıdaki şekillerde istenen kenarın kaç birim veya santimetre olduğunu bulunuz.

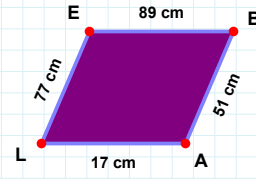
|AD| kaç brdir?

- ☐ 70 br
☐ 80 br
☐ 79 br



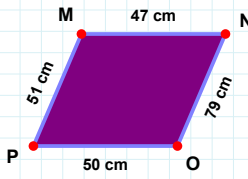
|LK| kaç cmdir?

- ☐ 94 cm
☐ 84 cm
☐ 87 cm



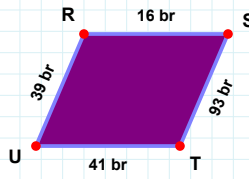
|EB| kaç cmdir?

- ☐ 79 cm
☐ 86 cm
☐ 89 cm



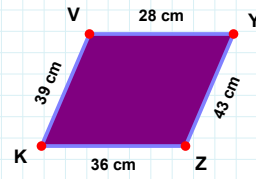
|MN| kaç cmdir?

- ☐ 46 cm
☐ 37 cm
☐ 47 cm



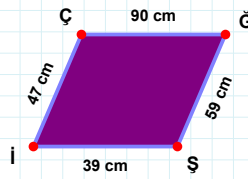
|ST| kaç brdir?

- ☐ 83 br
☐ 93 br
☐ 88 br



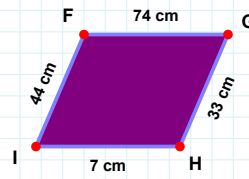
|ZK| kaç cmdir?

- ☐ 36 cm
☐ 37 cm
☐ 34 cm



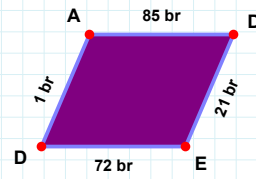
|Şİ| kaç cmdir?

- ☐ 49 cm
☐ 39 cm
☐ 38 cm



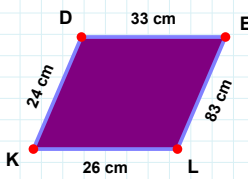
|DE| kaç brdir?

- ☐ 21 br
☐ 11 br
☐ 16 br



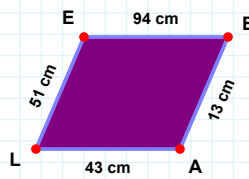
|HI| kaç cmdir?

- ☐ 17 cm
☐ 7 cm
☐ 6 cm



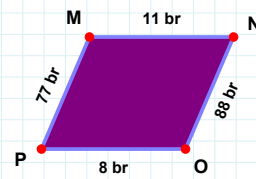
|PM| kaç brdir?

- ☐ 82 br
☐ 67 br
☐ 77 br



|DE| kaç cmdir?

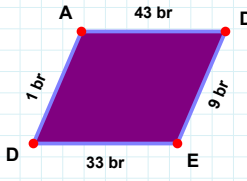
- ☐ 35 cm
☐ 33 cm
☐ 34 cm



|EB| kaç cmdir?

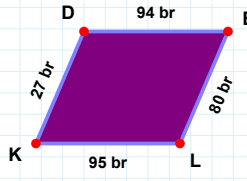
- ☐ 94 cm
☐ 97 cm
☐ 92 cm

SORU: Aşağıdaki şekillerde istenen kenarın kaç birim veya santimetre olduğunu bulunuz.



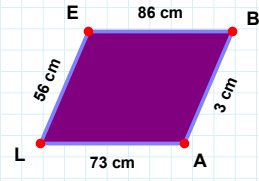
|KD| kaç brdir?

- ☐ 29 br
☐ 27 br
☐ 17 br



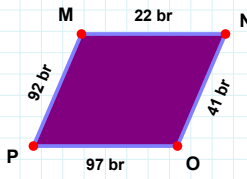
|LE| kaç cmdir?

- ☐ 61 cm
☐ 56 cm
☐ 57 cm



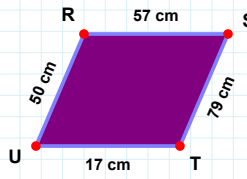
|DE| kaç brdir?

- ☐ 7 br
☐ 11 br
☐ 9 br



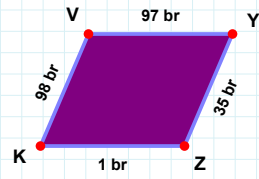
|UR| kaç cmdir?

- ☐ 51 cm
☐ 50 cm
☐ 52 cm



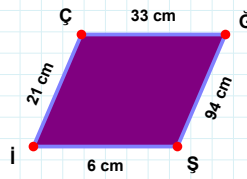
|PM| kaç brdir?

- ☐ 92 br
☐ 94 br
☐ 87 br



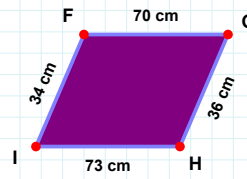
|KV| kaç brdir?

- ☐ 97 br
☐ 95 br
☐ 98 br



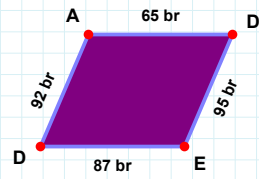
|DA| kaç brdir?

- ☐ 92 br
☐ 95 br
☐ 91 br



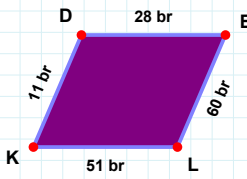
|FG| kaç cmdir?

- ☐ 70 cm
☐ 80 cm
☐ 69 cm



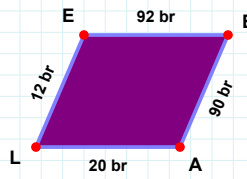
|ÇĞ| kaç cmdir?

- ☐ 32 cm
☐ 33 cm
☐ 23 cm



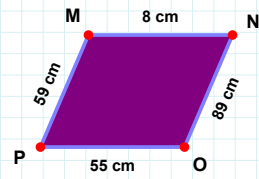
|LE| kaç brdir?

- ☐ 12 br
☐ 7 br
☐ 22 br



|KD| kaç brdir?

- ☐ 8 br
☐ 11 br
☐ 13 br



|MN| kaç cmdir?

- ☐ 5 cm
☐ 9 cm
☐ 8 cm

SÜREÇ ODAKLI DEĞERLENDİRME ÖLÇEĞİ

Doğru Sayısı: / 24

Öğretmen ilgili kutucuğu işaretler.

Geliştirilmeli (0-8)

İyi (9-14)

Çok İyi (15-20)

Mükemmel (21-24)

☐
☐
☐
☐

Hazırlayan:

Bu bölüme sınıfınızın ilgili kazanıma yönelik genel durumuna ilişkin gözlem ve izlenimlerinizi, öğrencilerinizin bu kazanımla ilgili öğrenme eksikliklerini ve bu eksikliklerin giderilmesi amacıyla yaptığınız/yapmayı planladığınız faaliyetleri not edebilirsiniz.

No	Adı - Soyadı	Toplam Puan	Değerlendirme
1			
2			
3			
4			
5			
6			
7			
8			
9			
10			
11			
12			
13			
14			
15			
16			
17			
18			
19			
20			
21			
22			
23			
24			
25			
26			
27			
28			
29			
30			
31			
32			
33			
34			
35			

Hazırlayan: