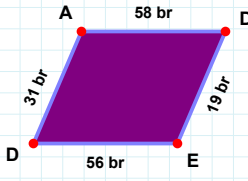
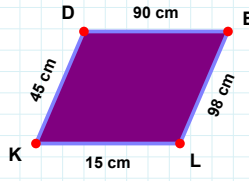


SORU: Aşağıdaki şekillerde istenen kenarın kaç birim veya santimetre olduğunu bulunuz.

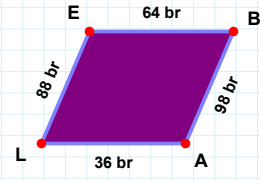
|DA| kaç brdir?

- ☐ 31 br
☐ 29 br
☐ 33 br



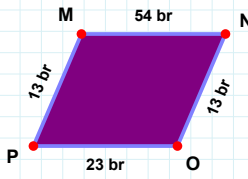
|EL| kaç cmdir?

- ☐ 95 cm
☐ 98 cm
☐ 96 cm



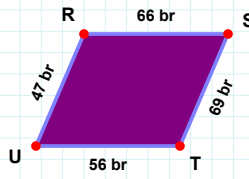
|BA| kaç brdir?

- ☐ 96 br
☐ 97 br
☐ 98 br



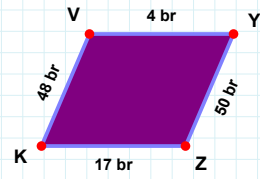
|YZ| kaç brdir?

- ☐ 49 br
☐ 50 br
☐ 48 br



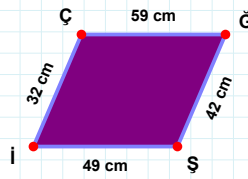
|TU| kaç brdir?

- ☐ 61 br
☐ 56 br
☐ 46 br



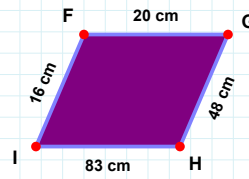
|MN| kaç brdir?

- ☐ 57 br
☐ 52 br
☐ 54 br



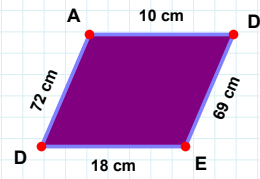
|GH| kaç cmdir?

- ☐ 49 cm
☐ 58 cm
☐ 48 cm



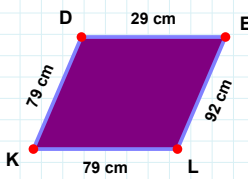
|ED| kaç cmdir?

- ☐ 8 cm
☐ 21 cm
☐ 18 cm



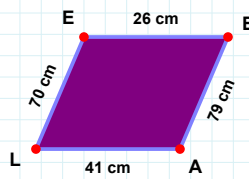
|ÇĞ| kaç cmdir?

- ☐ 59 cm
☐ 54 cm
☐ 49 cm



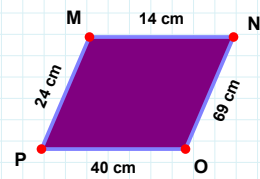
|LE| kaç cmdir?

- ☐ 70 cm
☐ 80 cm
☐ 60 cm



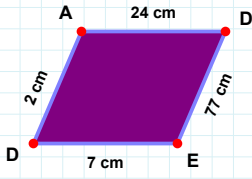
|LK| kaç cmdir?

- ☐ 82 cm
☐ 79 cm
☐ 84 cm



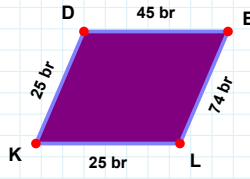
|MN| kaç cmdir?

- ☐ 14 cm
☐ 9 cm
☐ 11 cm

SORU: Aşağıdaki şekillerde istenen kenarın kaç birim veya santimetre olduğunu bulunuz.

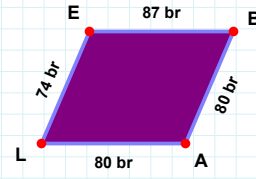
|ED| kaç cmdir?

- ☐ 17 cm
☐ 8 cm
☐ 7 cm



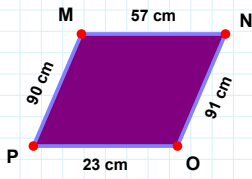
|BA| kaç brdir?

- ☐ 83 br
☐ 80 br
☐ 79 br



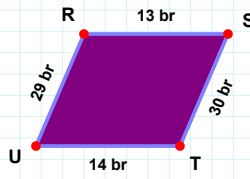
|EL| kaç brdir?

- ☐ 74 br
☐ 73 br
☐ 71 br



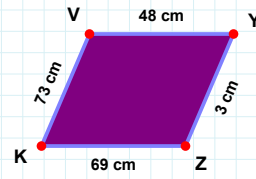
|PM| kaç cmdir?

- ☐ 80 cm
☐ 90 cm
☐ 91 cm



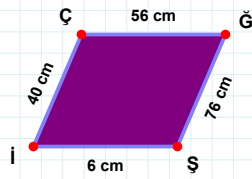
|VY| kaç cmdir?

- ☐ 48 cm
☐ 49 cm
☐ 51 cm



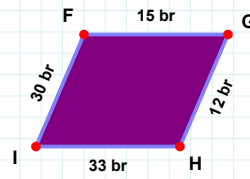
|RS| kaç brdir?

- ☐ 13 br
☐ 8 br
☐ 3 br



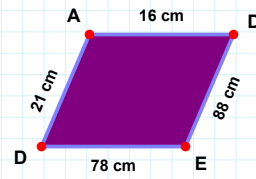
|FG| kaç brdir?

- ☐ 15 br
☐ 10 br
☐ 17 br



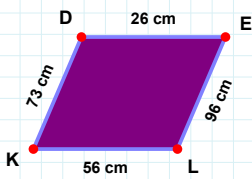
|İÇ| kaç cmdir?

- ☐ 40 cm
☐ 43 cm
☐ 45 cm



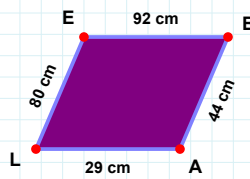
|DA| kaç cmdir?

- ☐ 26 cm
☐ 31 cm
☐ 21 cm



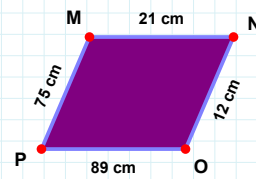
|BA| kaç cmdir?

- ☐ 39 cm
☐ 44 cm
☐ 41 cm



|NO| kaç cmdir?

- ☐ 7 cm
☐ 17 cm
☐ 12 cm



|EL| kaç cmdir?

- ☐ 93 cm
☐ 96 cm
☐ 94 cm

SÜREÇ ODAKLI DEĞERLENDİRME ÖLÇEĞİ

Doğru Sayısı: / 24

Öğretmen ilgili kutucuğu işaretler.

Geliştirilmeli (0-8)

İyi (9-14)

Çok İyi (15-20)

Mükemmel (21-24)

☐
☐
☐
☐

Hazırlayan:

Bu bölüme sınıfınızın ilgili kazanıma yönelik genel durumuna ilişkin gözlem ve izlenimlerinizi, öğrencilerinizin bu kazanımla ilgili öğrenme eksikliklerini ve bu eksikliklerin giderilmesi amacıyla yaptığınız/yapmayı planladığınız faaliyetleri not edebilirsiniz.

No	Adı - Soyadı	Toplam Puan	Değerlendirme
1			
2			
3			
4			
5			
6			
7			
8			
9			
10			
11			
12			
13			
14			
15			
16			
17			
18			
19			
20			
21			
22			
23			
24			
25			
26			
27			
28			
29			
30			
31			
32			
33			
34			
35			

Hazırlayan: