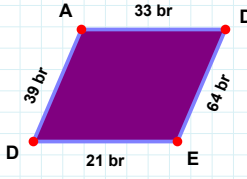
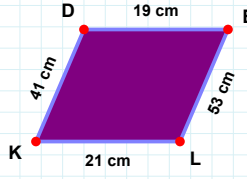


SORU: Aşağıdaki şekillerde istenen kenarın kaç birim veya santimetre olduğunu bulunuz.

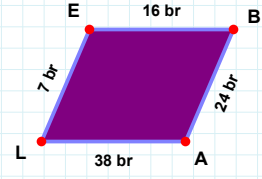
|DE| kaç cmdir?

- ☐ 19 cm
☐ 9 cm
☐ 29 cm



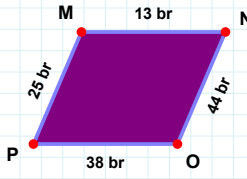
|ED| kaç brdir?

- ☐ 23 br
☐ 21 br
☐ 31 br



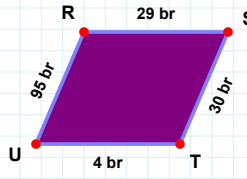
|BA| kaç brdir?

- ☐ 22 br
☐ 24 br
☐ 27 br



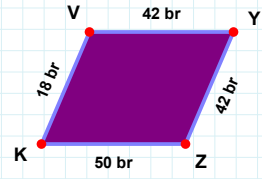
|NO| kaç brdir?

- ☐ 44 br
☐ 42 br
☐ 46 br



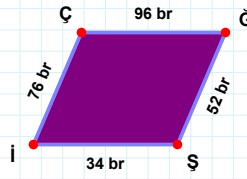
|YZ| kaç brdir?

- ☐ 52 br
☐ 47 br
☐ 42 br



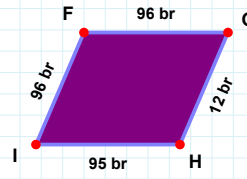
|RS| kaç brdir?

- ☐ 19 br
☐ 29 br
☐ 28 br



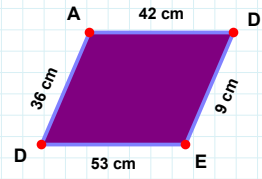
|DE| kaç cmdir?

- ☐ 4 cm
☐ 9 cm
☐ 8 cm



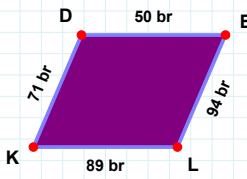
|İF| kaç brdir?

- ☐ 96 br
☐ 98 br
☐ 94 br



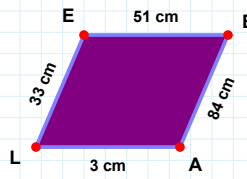
|Şİ| kaç brdir?

- ☐ 31 br
☐ 34 br
☐ 35 br



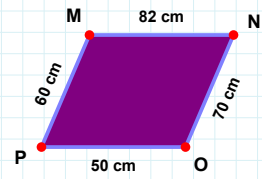
|KD| kaç brdir?

- ☐ 81 br
☐ 71 br
☐ 76 br



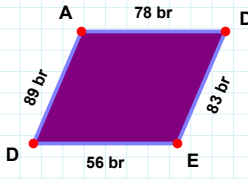
|EB| kaç cmdir?

- ☐ 54 cm
☐ 50 cm
☐ 51 cm



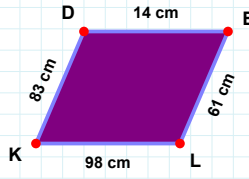
|PM| kaç cmdir?

- ☐ 60 cm
☐ 70 cm
☐ 65 cm

SORU: Aşağıdaki şekillerde istenen kenarın kaç birim veya santimetre olduğunu bulunuz.

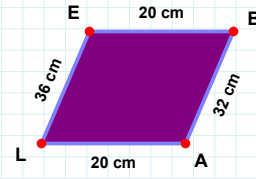
|LK| kaç cmdir?

- ☐ 98 cm
☐ 93 cm
☐ 88 cm



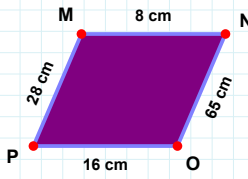
|AL| kaç cmdir?

- ☐ 15 cm
☐ 20 cm
☐ 30 cm



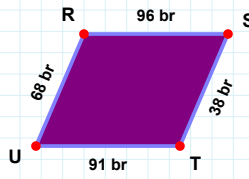
|ED| kaç brdir?

- ☐ 53 br
☐ 56 br
☐ 66 br



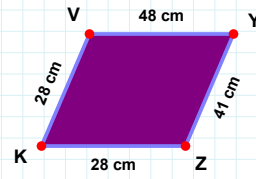
|ST| kaç brdir?

- ☐ 35 br
☐ 37 br
☐ 38 br



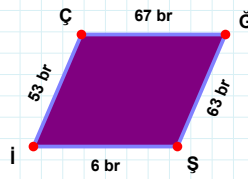
|VY| kaç cmdir?

- ☐ 53 cm
☐ 48 cm
☐ 49 cm



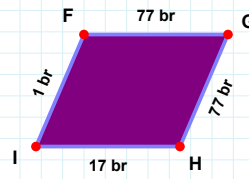
|NO| kaç cmdir?

- ☐ 65 cm
☐ 70 cm
☐ 75 cm



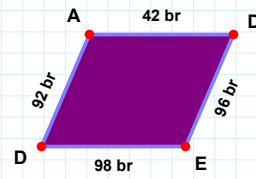
|FG| kaç brdir?

- ☐ 76 br
☐ 75 br
☐ 77 br



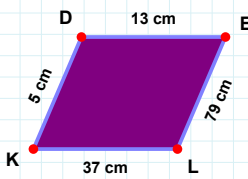
|DE| kaç brdir?

- ☐ 96 br
☐ 93 br
☐ 91 br



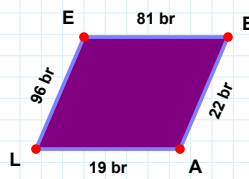
|İÇ| kaç brdir?

- ☐ 56 br
☐ 50 br
☐ 53 br



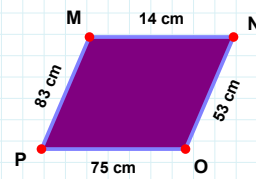
|MN| kaç cmdir?

- ☐ 19 cm
☐ 17 cm
☐ 14 cm



|LK| kaç cmdir?

- ☐ 37 cm
☐ 36 cm
☐ 34 cm



|EB| kaç brdir?

- ☐ 86 br
☐ 76 br
☐ 81 br

SÜREÇ ODAKLI DEĞERLENDİRME ÖLÇEĞİ

Doğru Sayısı: / 24

Öğretmen ilgili kutucuğu işaretler.

Geliştirilmeli (0-8)

İyi (9-14)

Çok İyi (15-20)

Mükemmel (21-24)

☐
☐
☐
☐

Hazırlayan:

Bu bölüme sınıfınızın ilgili kazanıma yönelik genel durumuna ilişkin gözlem ve izlenimlerinizi, öğrencilerinizin bu kazanımla ilgili öğrenme eksikliklerini ve bu eksikliklerin giderilmesi amacıyla yaptığınız/yapmayı planladığınız faaliyetleri not edebilirsiniz.

No	Adı - Soyadı	Toplam Puan	Değerlendirme
1			
2			
3			
4			
5			
6			
7			
8			
9			
10			
11			
12			
13			
14			
15			
16			
17			
18			
19			
20			
21			
22			
23			
24			
25			
26			
27			
28			
29			
30			
31			
32			
33			
34			
35			

Hazırlayan: