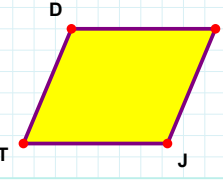


**SORU:** Aşağıdaki şekillerde verilen kenarlardan şekle ait olmayanı bulunuz.

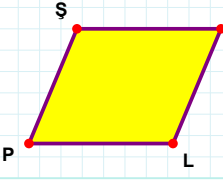


Şekle ait olmayan kenar/kenarları işaretleyelim.

☐ JT kenarı

☐ ÇJ kenarı

☐ ÇT kenarı

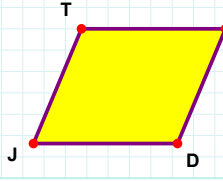


Şekle ait olmayan kenar/kenarları işaretleyelim.

☐ ŞY kenarı

☐ YP kenarı

☐ ŞL kenarı

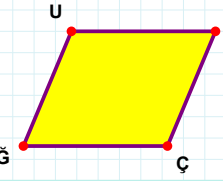


Şekle ait olmayan kenar/kenarları işaretleyelim.

☐ TŞ kenarı

☐ JT kenarı

☐ TD kenarı

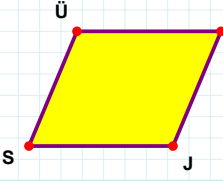


Şekle ait olmayan kenar/kenarları işaretleyelim.

☐ UÇ kenarı

☐ ZÇ kenarı

☐ ZÇ kenarı

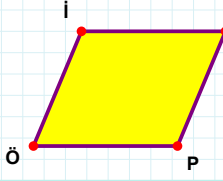


Şekle ait olmayan kenar/kenarları işaretleyelim.

☐ KJ kenarı

☐ KS kenarı

☐ ÜJ kenarı

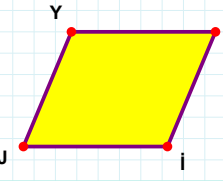


Şekle ait olmayan kenar/kenarları işaretleyelim.

☐ Öİ kenarı

☐ İP kenarı

☐ TÖ kenarı

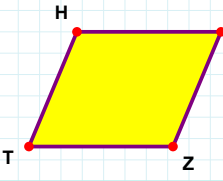


Şekle ait olmayan kenar/kenarları işaretleyelim.

☐ Yİ kenarı

☐ ĞJ kenarı

☐ İJ kenarı

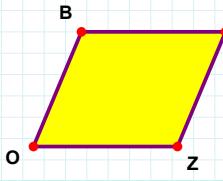


Şekle ait olmayan kenar/kenarları işaretleyelim.

☐ HZ kenarı

☐ ZT kenarı

☐ LT kenarı

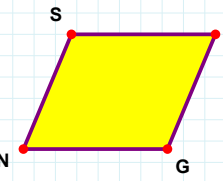


Şekle ait olmayan kenar/kenarları işaretleyelim.

☐ NO kenarı

☐ ZO kenarı

☐ NZ kenarı

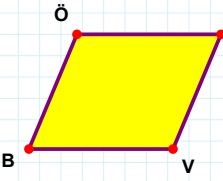


Şekle ait olmayan kenar/kenarları işaretleyelim.

☐ SG kenarı

☐ BN kenarı

☐ BG kenarı

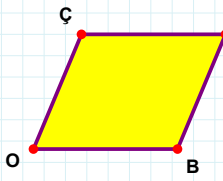


Şekle ait olmayan kenar/kenarları işaretleyelim.

☐ VB kenarı

☐ EV kenarı

☐ EB kenarı



Şekle ait olmayan kenar/kenarları işaretleyelim.

☐ BO kenarı

☐ ÇB kenarı

☐ LO kenarı

**SORU:** Aşağıdaki şekillerde verilen kenarlardan şekle ait olmayanı bulunuz.

Şekle ait olmayan kenar/kenarları işaretleyelim.

☐ IC kenarı  
☐ ÜE kenarı  
☐ IÜ kenarı

Şekle ait olmayan kenar/kenarları işaretleyelim.

☐ MD kenarı  
☐ UD kenarı  
☐ DN kenarı

Şekle ait olmayan kenar/kenarları işaretleyelim.

☐ Öİ kenarı  
☐ OÖ kenarı  
☐ IO kenarı

Şekle ait olmayan kenar/kenarları işaretleyelim.

☐ ÖO kenarı  
☐ YÖ kenarı  
☐ ÜO kenarı

Şekle ait olmayan kenar/kenarları işaretleyelim.

☐ ŞF kenarı  
☐ RF kenarı  
☐ ŞT kenarı

Şekle ait olmayan kenar/kenarları işaretleyelim.

☐ İY kenarı  
☐ İD kenarı  
☐ DI kenarı

Şekle ait olmayan kenar/kenarları işaretleyelim.

☐ KC kenarı  
☐ CÖ kenarı  
☐ ĞC kenarı

Şekle ait olmayan kenar/kenarları işaretleyelim.

☐ FÜ kenarı  
☐ ÇS kenarı  
☐ SF kenarı

Şekle ait olmayan kenar/kenarları işaretleyelim.

☐ VD kenarı  
☐ NI kenarı  
☐ DN kenarı

Şekle ait olmayan kenar/kenarları işaretleyelim.

☐ VŞ kenarı  
☐ ŞD kenarı  
☐ Vİ kenarı

Şekle ait olmayan kenar/kenarları işaretleyelim.

☐ İH kenarı  
☐ HF kenarı  
☐ JF kenarı

Şekle ait olmayan kenar/kenarları işaretleyelim.

☐ FI kenarı  
☐ IB kenarı  
☐ BÇ kenarı

## SÜREÇ ODAKLI DEĞERLENDİRME ÖLÇEĞİ

Doğru Sayısı: ..... / 24

Öğretmen ilgili kutucuğu işaretler.

Geliştirilmeli (0-8)

İyi (9-14)

Çok İyi (15-20)

Mükemmel (21-24)

☐
☐
☐
☐

Hazırlayan: .....

Bu bölüme sınıfınızın ilgili kazanıma yönelik genel durumuna ilişkin gözlem ve izlenimlerinizi, öğrencilerinizin bu kazanımla ilgili öğrenme eksikliklerini ve bu eksikliklerin giderilmesi amacıyla yaptığınız/yapmayı planladığınız faaliyetleri not edebilirsiniz.

No	Adı - Soyadı	Toplam Puan	Değerlendirme
1			
2			
3			
4			
5			
6			
7			
8			
9			
10			
11			
12			
13			
14			
15			
16			
17			
18			
19			
20			
21			
22			
23			
24			
25			
26			
27			
28			
29			
30			
31			
32			
33			
34			
35			

Hazırlayan: .....