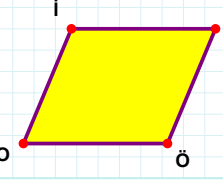
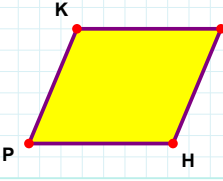


SORU: Aşağıdaki şekillerde verilen kenarlardan şekle ait olmayanı bulunuz.



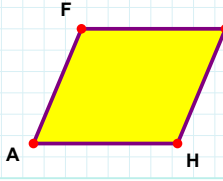
Şekle ait olmayan kenar/kenarları işaretleyelim.

☐ ÖO kenarı
☐ ZÖ kenarı
☐ ZO kenarı



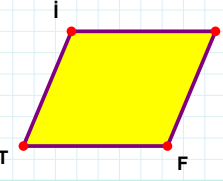
Şekle ait olmayan kenar/kenarları işaretleyelim.

☐ KÜ kenarı
☐ ÜH kenarı
☐ ÜP kenarı



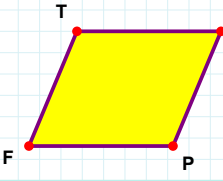
Şekle ait olmayan kenar/kenarları işaretleyelim.

☐ FH kenarı
☐ JA kenarı
☐ JH kenarı



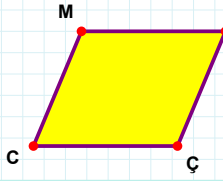
Şekle ait olmayan kenar/kenarları işaretleyelim.

☐ FT kenarı
☐ İF kenarı
☐ JT kenarı



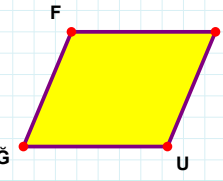
Şekle ait olmayan kenar/kenarları işaretleyelim.

☐ FT kenarı
☐ DF kenarı
☐ PF kenarı



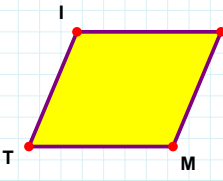
Şekle ait olmayan kenar/kenarları işaretleyelim.

☐ MÇ kenarı
☐ BC kenarı
☐ MB kenarı



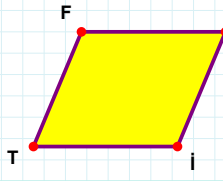
Şekle ait olmayan kenar/kenarları işaretleyelim.

☐ FU kenarı
☐ ÜĞ kenarı
☐ ÜU kenarı



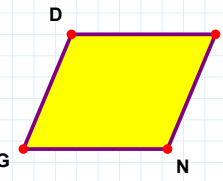
Şekle ait olmayan kenar/kenarları işaretleyelim.

☐ CT kenarı
☐ İM kenarı
☐ CM kenarı



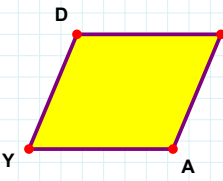
Şekle ait olmayan kenar/kenarları işaretleyelim.

☐ UT kenarı
☐ İT kenarı
☐ FI kenarı



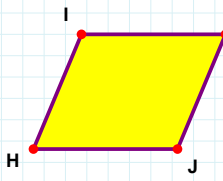
Şekle ait olmayan kenar/kenarları işaretleyelim.

☐ OG kenarı
☐ NG kenarı
☐ DN kenarı



Şekle ait olmayan kenar/kenarları işaretleyelim.

☐ DA kenarı
☐ DF kenarı
☐ FY kenarı



Şekle ait olmayan kenar/kenarları işaretleyelim.

☐ AJ kenarı
☐ IJ kenarı
☐ AH kenarı

SORU: Aşağıdaki şekillerde verilen kenarlardan şekle ait olmayanı bulunuz.

Şekle ait olmayan kenar/kenarları işaretleyelim.

☐ BŞ kenarı
☐ RB kenarı
☐ RS kenarı

Şekle ait olmayan kenar/kenarları işaretleyelim.

☐ LN kenarı
☐ NF kenarı
☐ FL kenarı

Şekle ait olmayan kenar/kenarları işaretleyelim.

☐ FV kenarı
☐ FK kenarı
☐ KT kenarı

Şekle ait olmayan kenar/kenarları işaretleyelim.

☐ ÇG kenarı
☐ YZ kenarı
☐ ÇY kenarı

Şekle ait olmayan kenar/kenarları işaretleyelim.

☐ KY kenarı
☐ LK kenarı
☐ EK kenarı

Şekle ait olmayan kenar/kenarları işaretleyelim.

☐ PF kenarı
☐ LP kenarı
☐ MP kenarı

Şekle ait olmayan kenar/kenarları işaretleyelim.

☐ AJ kenarı
☐ JT kenarı
☐ AT kenarı

Şekle ait olmayan kenar/kenarları işaretleyelim.

☐ UL kenarı
☐ LI kenarı
☐ ÖU kenarı

Şekle ait olmayan kenar/kenarları işaretleyelim.

☐ MH kenarı
☐ Üİ kenarı
☐ ÜH kenarı

Şekle ait olmayan kenar/kenarları işaretleyelim.

☐ VZ kenarı
☐ VÇ kenarı
☐ ZH kenarı

Şekle ait olmayan kenar/kenarları işaretleyelim.

☐ NE kenarı
☐ ZN kenarı
☐ EZ kenarı

Şekle ait olmayan kenar/kenarları işaretleyelim.

☐ RŞ kenarı
☐ ÇR kenarı
☐ ÇŞ kenarı

SÜREÇ ODAKLI DEĞERLENDİRME ÖLÇEĞİ

Doğru Sayısı: / 24

Öğretmen ilgili kutucuğu işaretler.

Geliştirilmeli (0-8)

İyi (9-14)

Çok İyi (15-20)

Mükemmel (21-24)

☐
☐
☐
☐

Hazırlayan:

Bu bölüme sınıfınızın ilgili kazanıma yönelik genel durumuna ilişkin gözlem ve izlenimlerinizi, öğrencilerinizin bu kazanımla ilgili öğrenme eksikliklerini ve bu eksikliklerin giderilmesi amacıyla yaptığınız/yapmayı planladığınız faaliyetleri not edebilirsiniz.

No	Adı - Soyadı	Toplam Puan	Değerlendirme
1			
2			
3			
4			
5			
6			
7			
8			
9			
10			
11			
12			
13			
14			
15			
16			
17			
18			
19			
20			
21			
22			
23			
24			
25			
26			
27			
28			
29			
30			
31			
32			
33			
34			
35			

Hazırlayan: