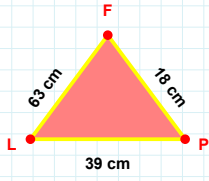
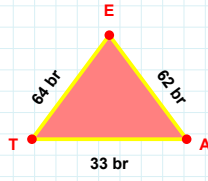


**SORU:** Aşağıdaki geometrik şekillerle ilgili soruları cevaplayınız.

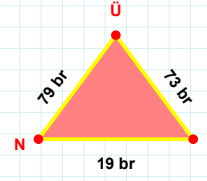
18 cm hangi kenara aittir?

- ☐ XY kenarı  
☐ LP kenarı  
☐ PF kenarı



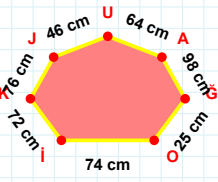
62 br hangi kenara aittir?

- ☐ ET kenarı  
☐ XY kenarı  
☐ TA kenarı

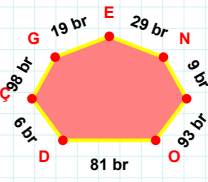


73 br hangi kenara aittir?

- ☐ LÜ kenarı  
☐ NL kenarı  
☐ XY kenarı

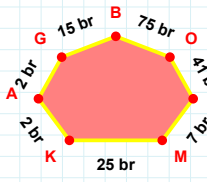
 $|JO| + |JK| = \dots$ 

Cevap: ..... cm



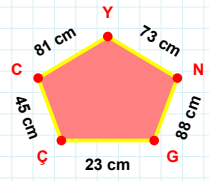
ÇD kenarı hangi şeklin kenarıdır?

- ☐ Üçgen  
☐ Kare  
☐ Dikdörtgen

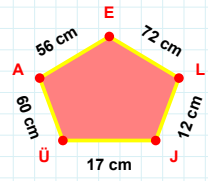


AK kenarı hangi şeklin kenarıdır?

- ☐ Üçgen  
☐ Kare  
☐ Dikdörtgen

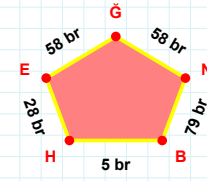
 $|NY| + |ÇG| = \dots$ 

Cevap: ..... cm



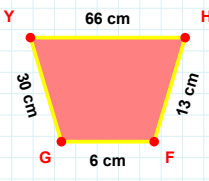
JL kenarı hangi şeklin kenarıdır?

- ☐ Üçgen  
☐ Kare  
☐ Dikdörtgen



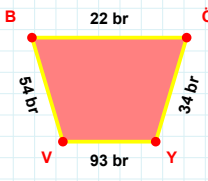
5 br hangi kenara aittir?

Kenar: .....

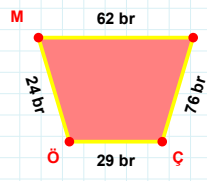


30 cm hangi kenara aittir?

- ☐ YF kenarı  
☐ HF kenarı  
☐ FG kenarı

 $|YV| + |VB| = \dots$ 

Cevap: ..... br

 $|MY|$  kaç brdir?

- ☐ 61 br  
☐ 62 br  
☐ 63 br

**SORU:** Aşağıdaki geometrik şekillerle ilgili soruları cevaplayınız.

14 cm hangi kenara aittir?

☐ UŞ kenarı  
☐ HD kenarı  
☐ DŞ kenarı

24 cm hangi kenara aittir?

☐ ŞV kenarı  
☐ UŞ kenarı  
☐ NV kenarı

AF kenarı hangi şeklin kenarıdır?

☐ Üçgen  
☐ Kare  
☐ Dikdörtgen

YJ kenarı hangi şeklin kenarıdır?

☐ Üçgen  
☐ Kare  
☐ Dikdörtgen

RU kenarı hangi şeklin kenarıdır?

☐ Üçgen  
☐ Kare  
☐ Dikdörtgen

|ŞN| kaç cm'dir?

☐ 20 cm  
☐ 21 cm  
☐ 22 cm

|AÖ| + |ÖJ| = ....  
Cevap: ..... br

6 br hangi kenara aittir?

☐ ÜK kenarı  
☐ JD kenarı  
☐ KC kenarı

48 br hangi kenara aittir?  
Kenar: .....

74 cm hangi kenara aittir?  
Kenar: .....

|GC| + |MG| = ....  
Cevap: ..... cm

49 br hangi kenara aittir?  
Kenar: .....

| SÜREÇ ODAKLI DEĞERLENDİRME ÖLÇEĞİ |                          |                                     |                          |
|-----------------------------------|--------------------------|-------------------------------------|--------------------------|
| Doğru Sayısı: ..... / 24          |                          | Öğretmen ilgili kutucuğu işaretler. |                          |
| Geliştirilmeli (0-8)              | İyi (9-14)               | Çok İyi (15-20)                     | Mükemmel (21-24)         |
| <input type="checkbox"/>          | <input type="checkbox"/> | <input type="checkbox"/>            | <input type="checkbox"/> |

Hazırlayan: .....

**Bu bölüme sınıfınızın ilgili kazanıma yönelik genel durumuna ilişkin gözlem ve izlenimlerinizi, öğrencilerinizin bu kazanımla ilgili öğrenme eksikliklerini ve bu eksikliklerin giderilmesi amacıyla yaptığınız/yapmayı planladığınız faaliyetleri not edebilirsiniz.**

| No | Adı - Soyadı | Toplam Puan | Değerlendirme |
|----|--------------|-------------|---------------|
| 1  |              |             |               |
| 2  |              |             |               |
| 3  |              |             |               |
| 4  |              |             |               |
| 5  |              |             |               |
| 6  |              |             |               |
| 7  |              |             |               |
| 8  |              |             |               |
| 9  |              |             |               |
| 10 |              |             |               |
| 11 |              |             |               |
| 12 |              |             |               |
| 13 |              |             |               |
| 14 |              |             |               |
| 15 |              |             |               |
| 16 |              |             |               |
| 17 |              |             |               |
| 18 |              |             |               |
| 19 |              |             |               |
| 20 |              |             |               |
| 21 |              |             |               |
| 22 |              |             |               |
| 23 |              |             |               |
| 24 |              |             |               |
| 25 |              |             |               |
| 26 |              |             |               |
| 27 |              |             |               |
| 28 |              |             |               |
| 29 |              |             |               |
| 30 |              |             |               |
| 31 |              |             |               |
| 32 |              |             |               |
| 33 |              |             |               |
| 34 |              |             |               |
| 35 |              |             |               |

**Hazırlayan:** ..... ..