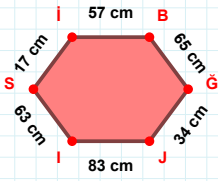
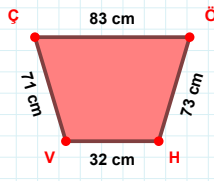


SORU: Aşağıdaki geometrik şekillerle ilgili soruları cevaplayınız.



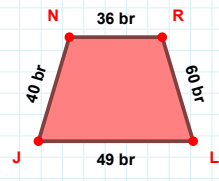
BĞ kenarı hangi şeklin kenarıdır?

- ☐ Üçgen
☐ Kare
☐ Dikdörtgen

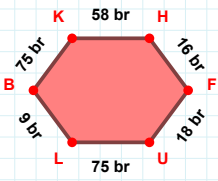


ÖH kenarı hangi şeklin kenarıdır?

- ☐ Üçgen
☐ Kare
☐ Dikdörtgen

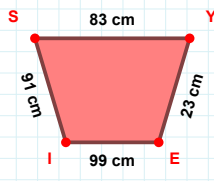
 $|JN| + |NR| = \dots$

Cevap: br



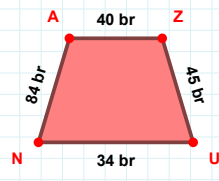
75 br hangi kenara aittir?

- ☐ KH kenarı
☐ FU kenarı
☐ BU kenarı



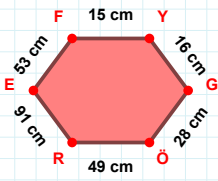
91 cm hangi kenara aittir?

- ☐ IY kenarı
☐ SY kenarı
☐ YE kenarı



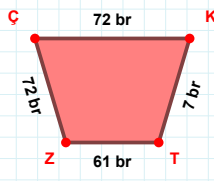
34 br hangi kenara aittir?

Kenar:



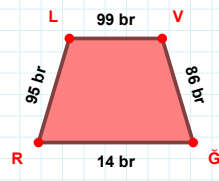
16 cm hangi kenara aittir?

Kenar:

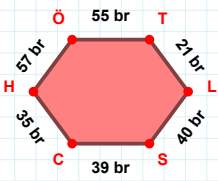


72 br hangi kenara aittir?

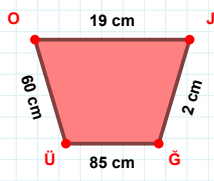
- ☐ TZ kenarı
☐ ZK kenarı
☐ ZÇ kenarı

 $|VĞ| + |ĞR| = \dots$

Cevap: br

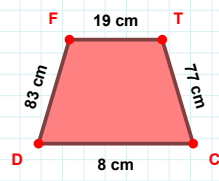
 $|TL| + |LS| = \dots$

Cevap: br



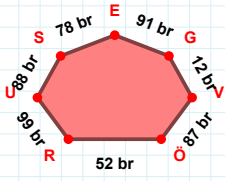
19 cm hangi kenara aittir?

Kenar:

 $|FT|$ kaç cm'dir?

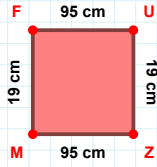
- ☐ 18 cm
☐ 19 cm
☐ 20 cm

SORU: Aşağıdaki geometrik şekillerle ilgili soruları cevaplayınız.



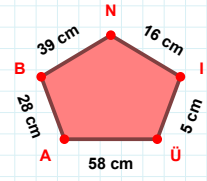
91 br hangi kenara aittir?

- ☐ ÖV kenarı
☐ VU kenarı
☐ RÖ kenarı



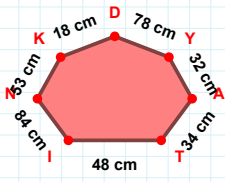
|FU| kaç cm'dir?

- ☐ 94 cm
☐ 95 cm
☐ 96 cm



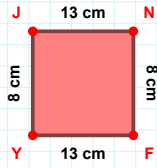
|NI| + |AÜ| =

Cevap: cm



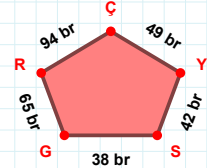
|NI| kaç cm'dir?

- ☐ 83 cm
☐ 84 cm
☐ 85 cm



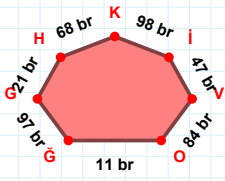
NF kenarı hangi şeklin kenarıdır?

- ☐ Üçgen
☐ Kare
☐ Dikdörtgen



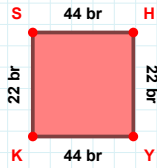
YÇ kenarı hangi şeklin kenarıdır?

- ☐ Üçgen
☐ Kare
☐ Dikdörtgen



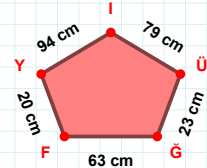
98 br hangi kenara aittir?

Kenar:



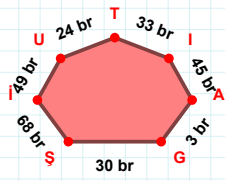
22 br hangi kenara aittir?

- ☐ SH kenarı
☐ HY kenarı
☐ SY kenarı



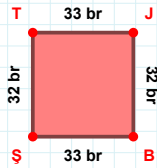
94 cm hangi kenara aittir?

Kenar:



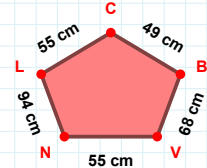
33 br hangi kenara aittir?

- ☐ ŞT kenarı
☐ GA kenarı
☐ İŞ kenarı



33 br hangi kenara aittir?

Kenar:



68 cm hangi kenara aittir?

Kenar:

SÜREÇ ODAKLI DEĞERLENDİRME ÖLÇEĞİ

Doğru Sayısı: / 24

Öğretmen ilgili kutucuğu işaretler.

Geliştirilmeli (0-8)

İyi (9-14)

Çok İyi (15-20)

Mükemmel (21-24)

☐
☐
☐
☐

Hazırlayan:

Bu bölüme sınıfınızın ilgili kazanıma yönelik genel durumuna ilişkin gözlem ve izlenimlerinizi, öğrencilerinizin bu kazanımla ilgili öğrenme eksikliklerini ve bu eksikliklerin giderilmesi amacıyla yaptığınız/yapmayı planladığınız faaliyetleri not edebilirsiniz.

No	Adı - Soyadı	Toplam Puan	Değerlendirme
1			
2			
3			
4			
5			
6			
7			
8			
9			
10			
11			
12			
13			
14			
15			
16			
17			
18			
19			
20			
21			
22			
23			
24			
25			
26			
27			
28			
29			
30			
31			
32			
33			
34			
35			

Hazırlayan: