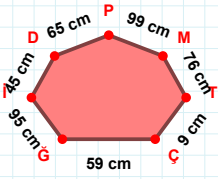
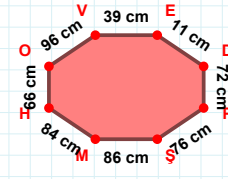


SORU: Aşağıdaki geometrik şekillerle ilgili soruları cevaplayınız.



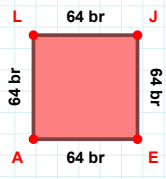
|D| kaç cm'dir?

- ☐ 44 cm  
☐ 45 cm  
☐ 46 cm



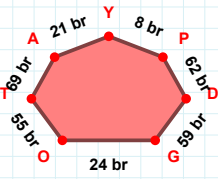
ŞM kenarı hangi şeklin kenarıdır?

- ☐ Üçgen  
☐ Kare  
☐ Dikdörtgen



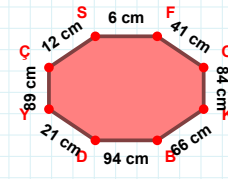
64 br hangi kenara aittir?

Kenar: .....



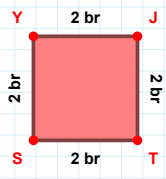
8 br hangi kenara aittir?

- ☐ DP kenarı  
☐ TP kenarı  
☐ AT kenarı



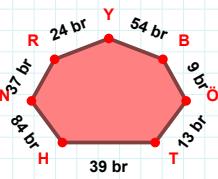
|ÇS| + |OK| = ....

Cevap: ..... cm



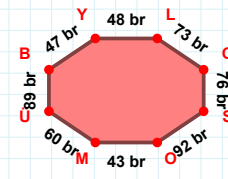
2 br hangi kenara aittir?

- ☐ YT kenarı  
☐ YJ kenarı  
☐ SY kenarı



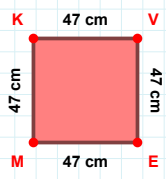
54 br hangi kenara aittir?

Kenar: .....



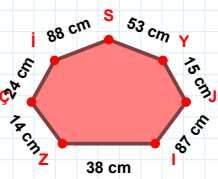
47 br hangi kenara aittir?

- ☐ SO kenarı  
☐ LC kenarı  
☐ CM kenarı



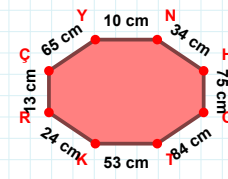
MK kenarı hangi şeklin kenarıdır?

- ☐ Üçgen  
☐ Kare  
☐ Dikdörtgen



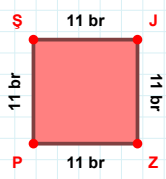
53 cm hangi kenara aittir?

- ☐ ZI kenarı  
☐ ÇZ kenarı  
☐ SI kenarı



65 cm hangi kenara aittir?

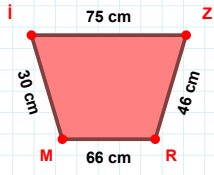
- ☐ NH kenarı  
☐ ÇY kenarı  
☐ RT kenarı



PŞ kenarı hangi şeklin kenarıdır?

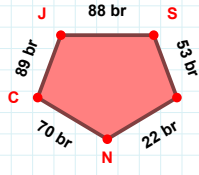
- ☐ Üçgen  
☐ Kare  
☐ Dikdörtgen

SORU: Aşağıdaki geometrik şekillerle ilgili soruları cevaplayınız.



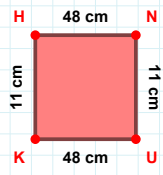
|ZR| kaç cm'dir?

- ☐ 45 cm  
☐ 46 cm  
☐ 47 cm



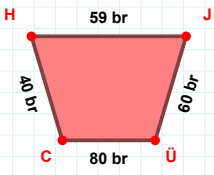
|NC| kaç br'dir?

- ☐ 69 br  
☐ 70 br  
☐ 71 br



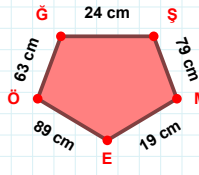
11 cm hangi kenara aittir?

- ☐ UH kenarı  
☐ HN kenarı  
☐ UK kenarı



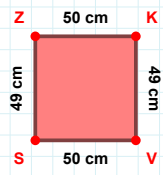
|CH| + |ÜC| = ....

Cevap: ..... br



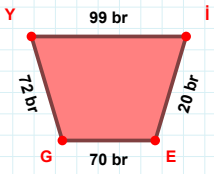
|EÖ| kaç cm'dir?

- ☐ 88 cm  
☐ 89 cm  
☐ 90 cm



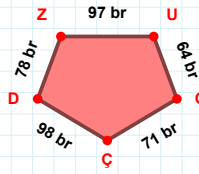
|VS| kaç cm'dir?

- ☐ 49 cm  
☐ 50 cm  
☐ 51 cm



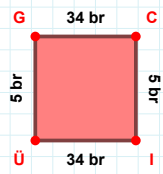
|Yİ| + |GY| = ....

Cevap: ..... br



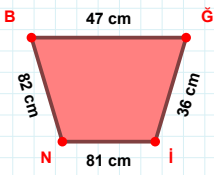
71 br hangi kenara aittir?

Kenar: .....



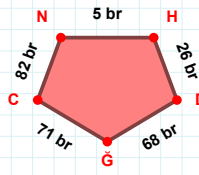
5 br hangi kenara aittir?

Kenar: .....



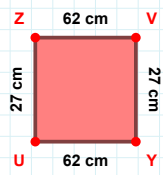
82 cm hangi kenara aittir?

Kenar: .....



|CN| + |DĞ| = ....

Cevap: ..... br



|UZ| + |ZV| = ....

Cevap: ..... cm

## SÜREÇ ODAKLI DEĞERLENDİRME ÖLÇEĞİ

Doğru Sayısı: ..... / 24

Öğretmen ilgili kutucuğu işaretler.

Geliştirilmeli (0-8)

İyi (9-14)

Çok İyi (15-20)

Mükemmel (21-24)

☐
☐
☐
☐

Hazırlayan: .....

Bu bölüme sınıfınızın ilgili kazanıma yönelik genel durumuna ilişkin gözlem ve izlenimlerinizi, öğrencilerinizin bu kazanımla ilgili öğrenme eksikliklerini ve bu eksikliklerin giderilmesi amacıyla yaptığınız/yapmayı planladığınız faaliyetleri not edebilirsiniz.

No	Adı - Soyadı	Toplam Puan	Değerlendirme
1			
2			
3			
4			
5			
6			
7			
8			
9			
10			
11			
12			
13			
14			
15			
16			
17			
18			
19			
20			
21			
22			
23			
24			
25			
26			
27			
28			
29			
30			
31			
32			
33			
34			
35			

Hazırlayan: .....