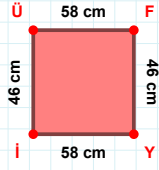
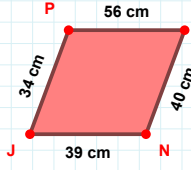


SORU: Aşağıdaki geometrik şekillerle ilgili soruları cevaplayınız.



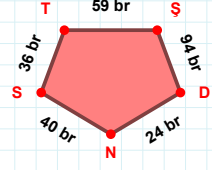
İÜ kenarı hangi şeklin kenarıdır?

- ☐ Üçgen
☐ Kare
☐ Dikdörtgen



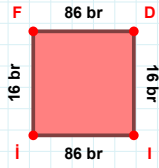
|NJ| kaç cm'dir?

- ☐ 38 cm
☐ 39 cm
☐ 40 cm



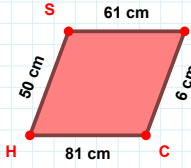
40 br hangi kenara aittir?

Kenar:



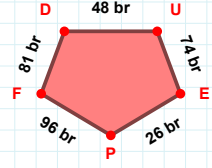
FD kenarı hangi şeklin kenarıdır?

- ☐ Üçgen
☐ Kare
☐ Dikdörtgen



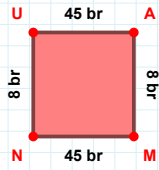
|SB| + |HS| =

Cevap: cm



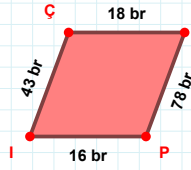
26 br hangi kenara aittir?

Kenar:



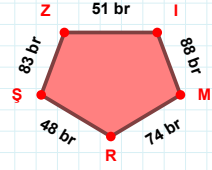
|MN| kaç br'dir?

- ☐ 44 br
☐ 45 br
☐ 46 br



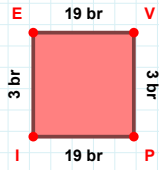
43 br hangi kenara aittir?

- ☐ MP kenarı
☐ İM kenarı
☐ ÇM kenarı



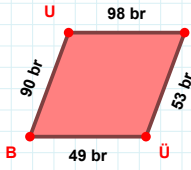
83 br hangi kenara aittir?

- ☐ MR kenarı
☐ RŞ kenarı
☐ ZR kenarı



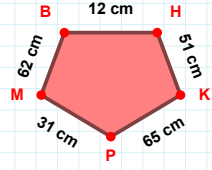
VP kenarı hangi şeklin kenarıdır?

- ☐ Üçgen
☐ Kare
☐ Dikdörtgen



BU kenarı hangi şeklin kenarıdır?

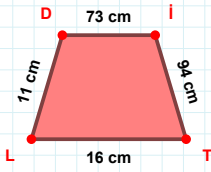
- ☐ Üçgen
☐ Kare
☐ Dikdörtgen



62 cm hangi kenara aittir?

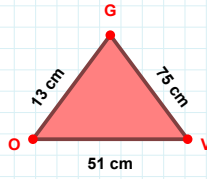
Kenar:

SORU: Aşağıdaki geometrik şekillerle ilgili soruları cevaplayınız.



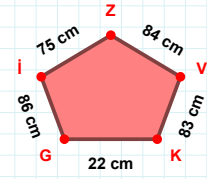
$|DI| + |TL| = \dots$

Cevap: cm



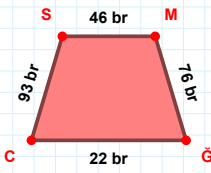
$|GO|$ kaç cm'dir?

- ☐ 12 cm
☐ 13 cm
☐ 14 cm



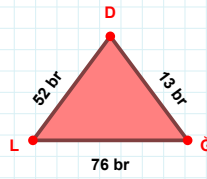
84 cm hangi kenara aittir?

- ☐ VZ kenarı
☐ İG kenarı
☐ KZ kenarı



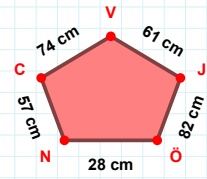
$|MG| + |GC| = \dots$

Cevap: br



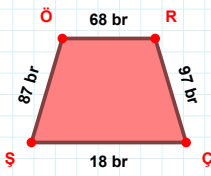
$|LG|$ kaç br'dir?

- ☐ 75 br
☐ 76 br
☐ 77 br



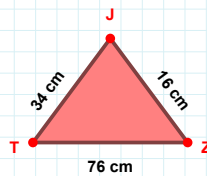
61 cm hangi kenara aittir?

- ☐ CÖ kenarı
☐ NÖ kenarı
☐ CN kenarı



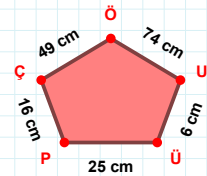
97 br hangi kenara aittir?

Kenar:



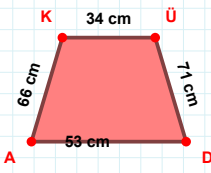
$|JT|$ kaç cm'dir?

- ☐ 33 cm
☐ 34 cm
☐ 35 cm



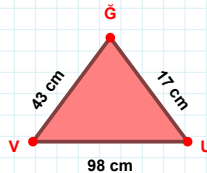
74 cm hangi kenara aittir?

- ☐ UÖ kenarı
☐ ÜÇ kenarı
☐ PÖ kenarı



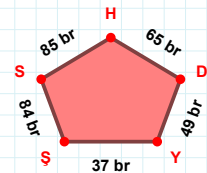
$|DA|$ kaç cm'dir?

- ☐ 52 cm
☐ 53 cm
☐ 54 cm



17 cm hangi kenara aittir?

- ☐ UĞ kenarı
☐ GV kenarı
☐ XY kenarı



$|SY| + |SS| = \dots$

Cevap: br

SÜREÇ ODAKLI DEĞERLENDİRME ÖLÇEĞİ

Doğru Sayısı: / 24

Öğretmen ilgili kutucuğu işaretler.

Geliştirilmeli (0-8)

İyi (9-14)

Çok İyi (15-20)

Mükemmel (21-24)

☐
☐
☐
☐

Hazırlayan:

Bu bölüme sınıfınızın ilgili kazanıma yönelik genel durumuna ilişkin gözlem ve izlenimlerinizi, öğrencilerinizin bu kazanımla ilgili öğrenme eksikliklerini ve bu eksikliklerin giderilmesi amacıyla yaptığınız/yapmayı planladığınız faaliyetleri not edebilirsiniz.

No	Adı - Soyadı	Toplam Puan	Değerlendirme
1			
2			
3			
4			
5			
6			
7			
8			
9			
10			
11			
12			
13			
14			
15			
16			
17			
18			
19			
20			
21			
22			
23			
24			
25			
26			
27			
28			
29			
30			
31			
32			
33			
34			
35			

Hazırlayan: