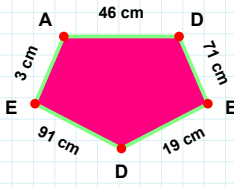
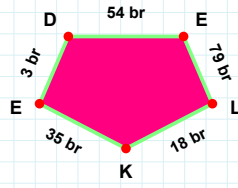


**SORU:** Aşağıdaki şekillerde istenen kenarın kaç birim veya santimetre olduğunu bulunuz.



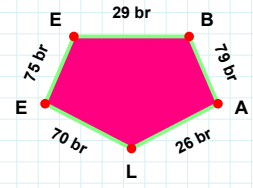
|AL| kaç brdir?

- ☐ 26 br  
☐ 28 br  
☐ 21 br



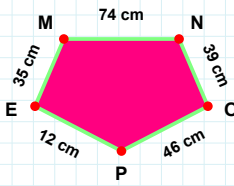
|DE| kaç cmdir?

- ☐ 86 cm  
☐ 88 cm  
☐ 91 cm



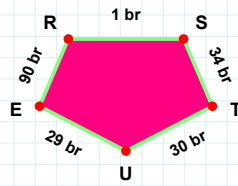
|LK| kaç brdir?

- ☐ 19 br  
☐ 18 br  
☐ 16 br



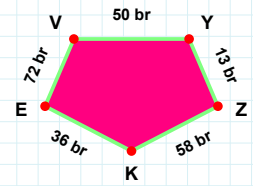
|TU| kaç brdir?

- ☐ 32 br  
☐ 30 br  
☐ 25 br



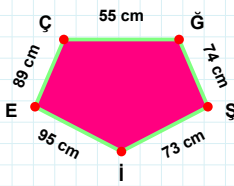
|MN| kaç cmdir?

- ☐ 72 cm  
☐ 74 cm  
☐ 71 cm



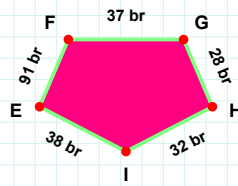
|EV| kaç brdir?

- ☐ 73 br  
☐ 72 br  
☐ 70 br



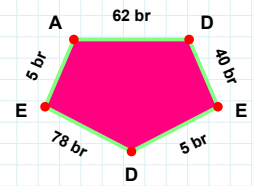
|EF| kaç brdir?

- ☐ 94 br  
☐ 96 br  
☐ 91 br



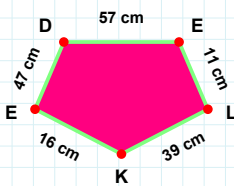
|ÇĞ| kaç cmdir?

- ☐ 56 cm  
☐ 55 cm  
☐ 50 cm



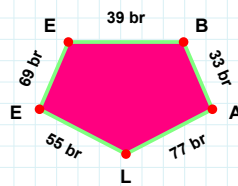
|AD| kaç brdir?

- ☐ 72 br  
☐ 62 br  
☐ 52 br



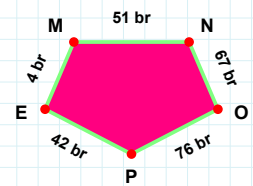
|PE| kaç brdir?

- ☐ 42 br  
☐ 52 br  
☐ 43 br



|EB| kaç brdir?

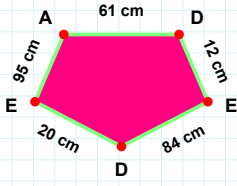
- ☐ 34 br  
☐ 29 br  
☐ 39 br



|DE| kaç cmdir?

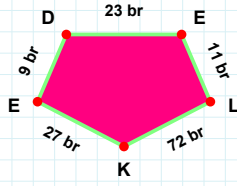
- ☐ 67 cm  
☐ 57 cm  
☐ 62 cm

**SORU:** Aşağıdaki şekillerde istenen kenarın kaç birim veya santimetre olduğunu bulunuz.



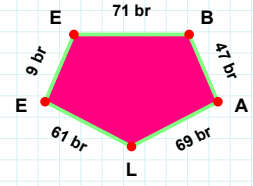
|EA| kaç cm'dir?

- ☐ 95 cm  
☐ 85 cm  
☐ 93 cm



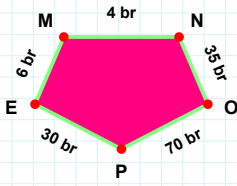
|BA| kaç br'dir?

- ☐ 42 br  
☐ 47 br  
☐ 52 br



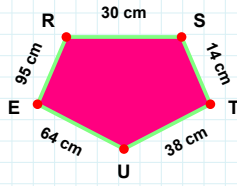
|EL| kaç br'dir?

- ☐ 13 br  
☐ 11 br  
☐ 21 br



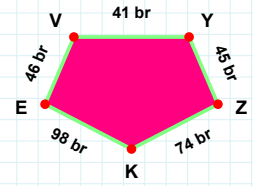
|EM| kaç br'dir?

- ☐ 7 br  
☐ 6 br  
☐ 4 br



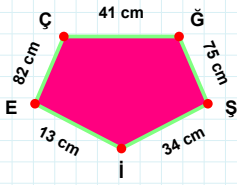
|RS| kaç cm'dir?

- ☐ 30 cm  
☐ 33 cm  
☐ 40 cm



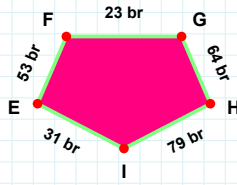
|KE| kaç br'dir?

- ☐ 88 br  
☐ 95 br  
☐ 98 br



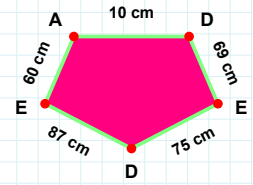
|Şİ| kaç cm'dir?

- ☐ 34 cm  
☐ 44 cm  
☐ 36 cm



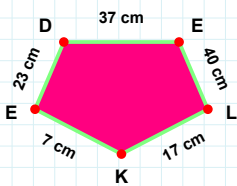
|ED| kaç cm'dir?

- ☐ 77 cm  
☐ 75 cm  
☐ 80 cm



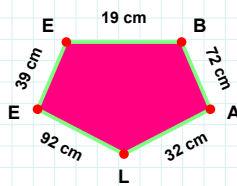
|EF| kaç br'dir?

- ☐ 53 br  
☐ 43 br  
☐ 56 br



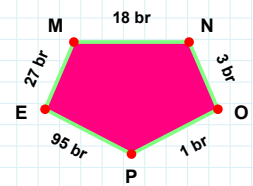
|KE| kaç cm'dir?

- ☐ 7 cm  
☐ 8 cm  
☐ 17 cm



|BA| kaç cm'dir?

- ☐ 72 cm  
☐ 75 cm  
☐ 77 cm



|EM| kaç br'dir?

- ☐ 30 br  
☐ 25 br  
☐ 27 br

SÜREÇ ODAKLI DEĞERLENDİRME ÖLÇEĞİ

Doğru Sayısı: ..... / 24

Öğretmen ilgili kutucuğu işaretler.

Geliştirilmeli (0-8)

İyi (9-14)

Çok İyi (15-20)

Mükemmel (21-24)

☐☐☐☐

Hazırlayan: .....

**Bu bölüme sınıfınızın ilgili kazanıma yönelik genel durumuna ilişkin gözlem ve izlenimlerinizi, öğrencilerinizin bu kazanımla ilgili öğrenme eksikliklerini ve bu eksikliklerin giderilmesi amacıyla yaptığınız/yapmayı planladığınız faaliyetleri not edebilirsiniz.**

No	Adı - Soyadı	Toplam Puan	Değerlendirme
1			
2			
3			
4			
5			
6			
7			
8			
9			
10			
11			
12			
13			
14			
15			
16			
17			
18			
19			
20			
21			
22			
23			
24			
25			
26			
27			
28			
29			
30			
31			
32			
33			
34			
35			

Hazırlayan: .....