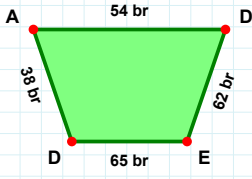
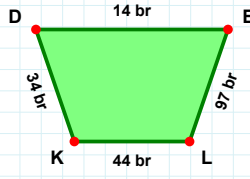


SORU: Aşağıdaki şekillerde istenen kenarın kaç birim veya santimetre olduğunu bulunuz.



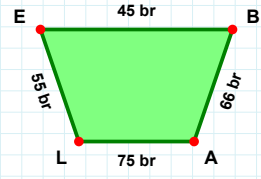
|EL| kaç brdir?

- ☐ 95 br
☐ 96 br
☐ 97 br



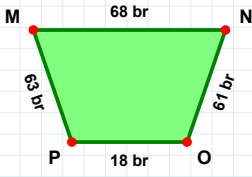
|AD| kaç brdir?

- ☐ 54 br
☐ 55 br
☐ 59 br



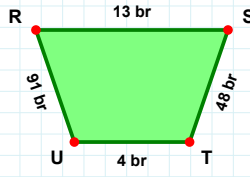
|EB| kaç brdir?

- ☐ 47 br
☐ 45 br
☐ 48 br



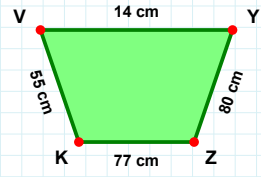
|RS| kaç brdir?

- ☐ 10 br
☐ 13 br
☐ 3 br



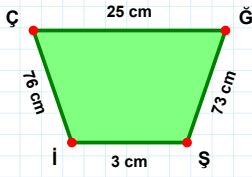
|KV| kaç cmdir?

- ☐ 52 cm
☐ 55 cm
☐ 50 cm



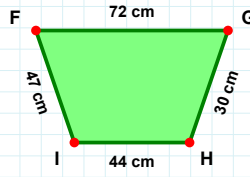
|OP| kaç brdir?

- ☐ 18 br
☐ 17 br
☐ 15 br



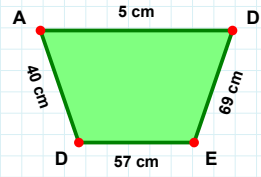
|DE| kaç cmdir?

- ☐ 67 cm
☐ 69 cm
☐ 70 cm



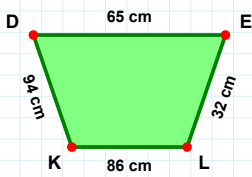
|ĞŞ| kaç cmdir?

- ☐ 73 cm
☐ 74 cm
☐ 72 cm



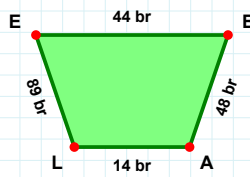
|GH| kaç cmdir?

- ☐ 35 cm
☐ 30 cm
☐ 27 cm



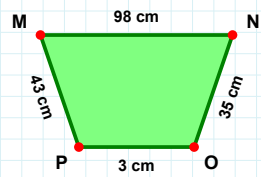
|LK| kaç cmdir?

- ☐ 88 cm
☐ 86 cm
☐ 85 cm



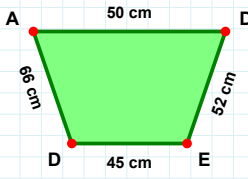
|LE| kaç brdir?

- ☐ 89 br
☐ 94 br
☐ 91 br



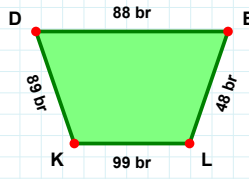
|PM| kaç cmdir?

- ☐ 41 cm
☐ 43 cm
☐ 40 cm

SORU: Aşağıdaki şekillerde istenen kenarın kaç birim veya santimetre olduğunu bulunuz.

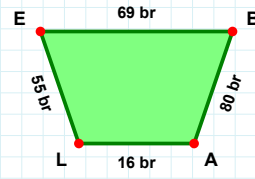
|KD| kaç brdir?

- ☐ 87 br
☐ 89 br
☐ 90 br



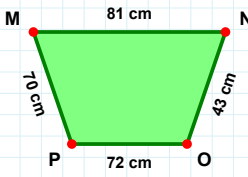
|EB| kaç brdir?

- ☐ 68 br
☐ 72 br
☐ 69 br



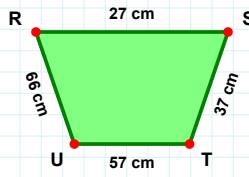
|DA| kaç cmdir?

- ☐ 63 cm
☐ 61 cm
☐ 66 cm



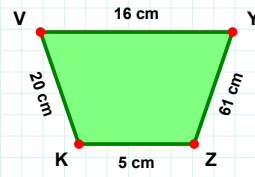
|YZ| kaç cmdir?

- ☐ 63 cm
☐ 61 cm
☐ 60 cm



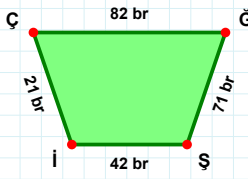
|TU| kaç cmdir?

- ☐ 57 cm
☐ 52 cm
☐ 58 cm



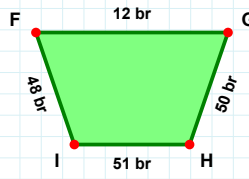
|MN| kaç cmdir?

- ☐ 86 cm
☐ 81 cm
☐ 91 cm



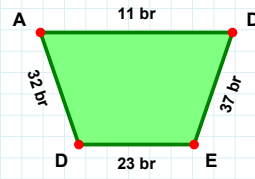
|AD| kaç brdir?

- ☐ 11 br
☐ 14 br
☐ 9 br



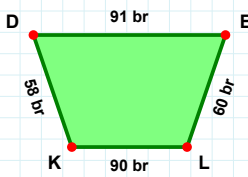
|HI| kaç brdir?

- ☐ 56 br
☐ 54 br
☐ 51 br



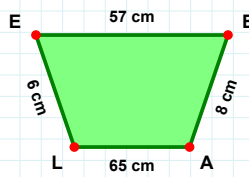
|IC| kaç brdir?

- ☐ 20 br
☐ 21 br
☐ 23 br



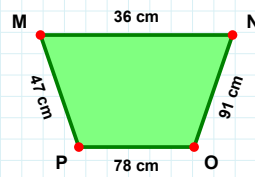
|OP| kaç cmdir?

- ☐ 78 cm
☐ 75 cm
☐ 73 cm



|BA| kaç cmdir?

- ☐ 8 cm
☐ 18 cm
☐ 9 cm



|LK| kaç brdir?

- ☐ 90 br
☐ 92 br
☐ 87 br

SÜREÇ ODAKLI DEĞERLENDİRME ÖLÇEĞİ

Doğru Sayısı: / 24

Öğretmen ilgili kutucuğu işaretler.

Geliştirilmeli (0-8)

İyi (9-14)

Çok İyi (15-20)

Mükemmel (21-24)

☐☐☐☐

Hazırlayan:

Bu bölüme sınıfınızın ilgili kazanıma yönelik genel durumuna ilişkin gözlem ve izlenimlerinizi, öğrencilerinizin bu kazanımla ilgili öğrenme eksikliklerini ve bu eksikliklerin giderilmesi amacıyla yaptığınız/yapmayı planladığınız faaliyetleri not edebilirsiniz.

No	Adı - Soyadı	Toplam Puan	Değerlendirme
1			
2			
3			
4			
5			
6			
7			
8			
9			
10			
11			
12			
13			
14			
15			
16			
17			
18			
19			
20			
21			
22			
23			
24			
25			
26			
27			
28			
29			
30			
31			
32			
33			
34			
35			

Hazırlayan: