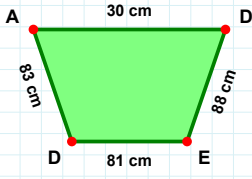
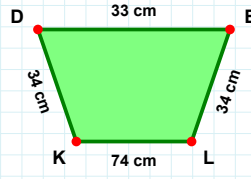


**SORU:** Aşağıdaki şekillerde istenen kenarın kaç birim veya santimetre olduğunu bulunuz.

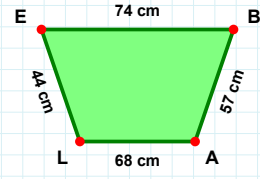
|ED| kaç cmdir?

- ☐ 81 cm  
☐ 79 cm  
☐ 86 cm



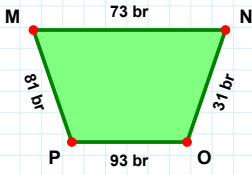
|LE| kaç cmdir?

- ☐ 45 cm  
☐ 44 cm  
☐ 47 cm



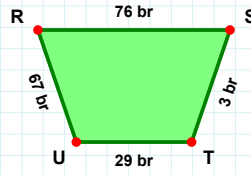
|EL| kaç cmdir?

- ☐ 39 cm  
☐ 34 cm  
☐ 36 cm



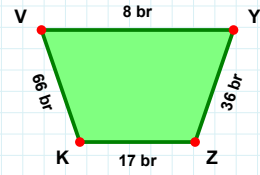
|TU| kaç brdir?

- ☐ 30 br  
☐ 26 br  
☐ 29 br



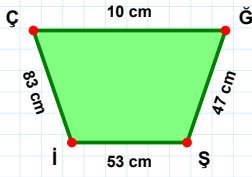
|ZK| kaç brdir?

- ☐ 15 br  
☐ 20 br  
☐ 17 br



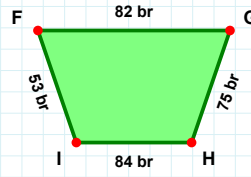
|OP| kaç brdir?

- ☐ 88 br  
☐ 93 br  
☐ 98 br



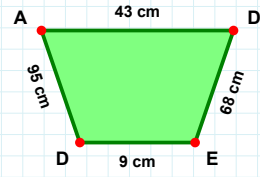
|ED| kaç cmdir?

- ☐ 14 cm  
☐ 9 cm  
☐ 4 cm



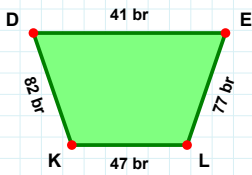
|HI| kaç brdir?

- ☐ 84 br  
☐ 87 br  
☐ 79 br



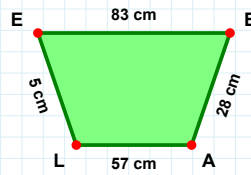
|Şİ| kaç cmdir?

- ☐ 53 cm  
☐ 52 cm  
☐ 50 cm



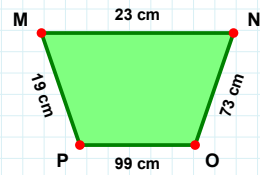
|AL| kaç cmdir?

- ☐ 47 cm  
☐ 57 cm  
☐ 60 cm



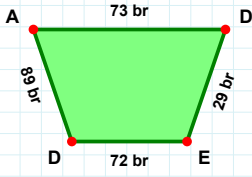
|OP| kaç cmdir?

- ☐ 94 cm  
☐ 97 cm  
☐ 99 cm



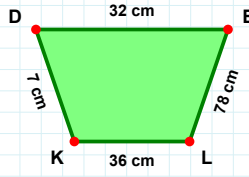
|EL| kaç brdir?

- ☐ 77 br  
☐ 80 br  
☐ 67 br

**SORU:** Aşağıdaki şekillerde istenen kenarın kaç birim veya santimetre olduğunu bulunuz.

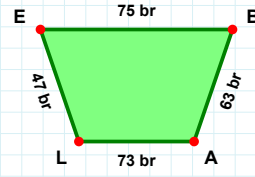
|BA| kaç brdir?

- ☐ 61 br  
☐ 73 br  
☐ 63 br



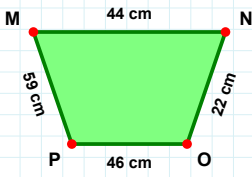
|KD| kaç cmdir?

- ☐ 2 cm  
☐ 7 cm  
☐ 6 cm



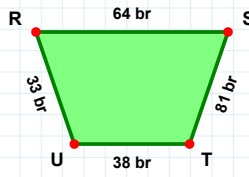
|DE| kaç brdir?

- ☐ 30 br  
☐ 32 br  
☐ 29 br



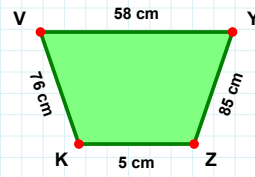
|ST| kaç brdir?

- ☐ 86 br  
☐ 80 br  
☐ 81 br



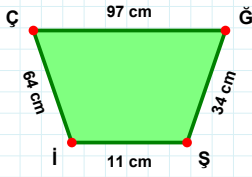
|YZ| kaç cmdir?

- ☐ 90 cm  
☐ 85 cm  
☐ 95 cm



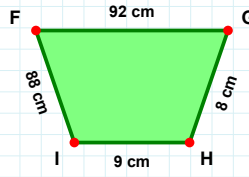
|PM| kaç cmdir?

- ☐ 62 cm  
☐ 69 cm  
☐ 59 cm



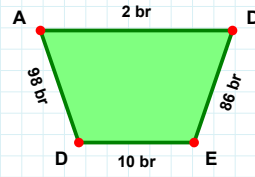
|DE| kaç brdir?

- ☐ 86 br  
☐ 88 br  
☐ 85 br



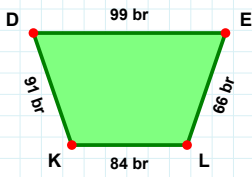
|FG| kaç cmdir?

- ☐ 89 cm  
☐ 92 cm  
☐ 82 cm



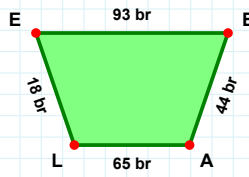
|ÇĞ| kaç cmdir?

- ☐ 96 cm  
☐ 97 cm  
☐ 99 cm



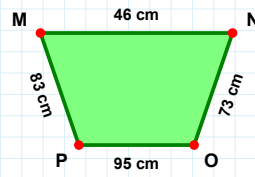
|KD| kaç brdir?

- ☐ 94 br  
☐ 88 br  
☐ 91 br



|BA| kaç brdir?

- ☐ 39 br  
☐ 44 br  
☐ 54 br



|PM| kaç cmdir?

- ☐ 84 cm  
☐ 86 cm  
☐ 83 cm

## SÜREÇ ODAKLI DEĞERLENDİRME ÖLÇEĞİ

Doğru Sayısı: ..... / 24

Öğretmen ilgili kutucuğu işaretler.

Geliştirilmeli (0-8)

İyi (9-14)

Çok İyi (15-20)

Mükemmel (21-24)

☐
☐
☐
☐

Hazırlayan: .....

Bu bölüme sınıfınızın ilgili kazanıma yönelik genel durumuna ilişkin gözlem ve izlenimlerinizi, öğrencilerinizin bu kazanımla ilgili öğrenme eksikliklerini ve bu eksikliklerin giderilmesi amacıyla yaptığınız/yapmayı planladığınız faaliyetleri not edebilirsiniz.

No	Adı - Soyadı	Toplam Puan	Değerlendirme
1			
2			
3			
4			
5			
6			
7			
8			
9			
10			
11			
12			
13			
14			
15			
16			
17			
18			
19			
20			
21			
22			
23			
24			
25			
26			
27			
28			
29			
30			
31			
32			
33			
34			
35			

Hazırlayan: .....