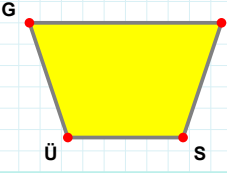
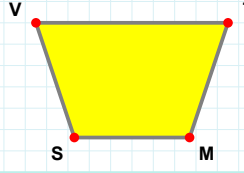


SORU: Aşağıdaki şekillerde verilen kenarlardan şekle ait olmayanı bulunuz.



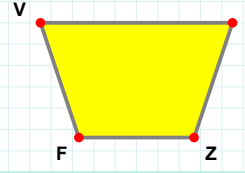
Şekle ait olmayan kenar/kenarları işaretleyelim.

- ☐ GE kenarı
☐ GS kenarı
☐ EÜ kenarı



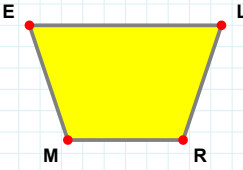
Şekle ait olmayan kenar/kenarları işaretleyelim.

- ☐ TM kenarı
☐ VT kenarı
☐ VM kenarı



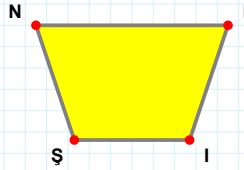
Şekle ait olmayan kenar/kenarları işaretleyelim.

- ☐ BZ kenarı
☐ FV kenarı
☐ VZ kenarı



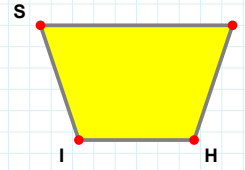
Şekle ait olmayan kenar/kenarları işaretleyelim.

- ☐ LM kenarı
☐ ER kenarı
☐ ME kenarı



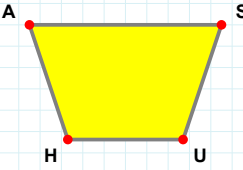
Şekle ait olmayan kenar/kenarları işaretleyelim.

- ☐ İŞ kenarı
☐ FŞ kenarı
☐ Nİ kenarı



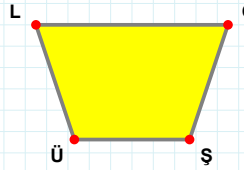
Şekle ait olmayan kenar/kenarları işaretleyelim.

- ☐ FH kenarı
☐ Fİ kenarı
☐ SH kenarı



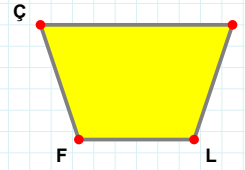
Şekle ait olmayan kenar/kenarları işaretleyelim.

- ☐ AU kenarı
☐ SH kenarı
☐ UH kenarı



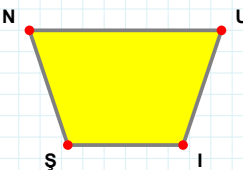
Şekle ait olmayan kenar/kenarları işaretleyelim.

- ☐ ÇÜ kenarı
☐ ŞÜ kenarı
☐ LŞ kenarı



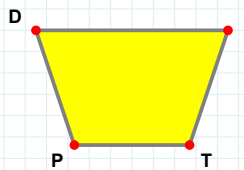
Şekle ait olmayan kenar/kenarları işaretleyelim.

- ☐ ÇL kenarı
☐ ZF kenarı
☐ ZL kenarı



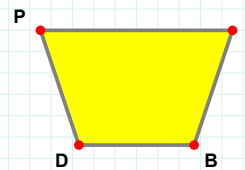
Şekle ait olmayan kenar/kenarları işaretleyelim.

- ☐ Nİ kenarı
☐ ŞN kenarı
☐ NU kenarı



Şekle ait olmayan kenar/kenarları işaretleyelim.

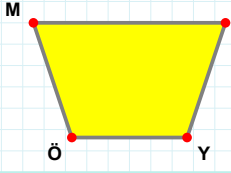
- ☐ DT kenarı
☐ İP kenarı
☐ PD kenarı



Şekle ait olmayan kenar/kenarları işaretleyelim.

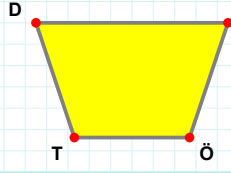
- ☐ İB kenarı
☐ İD kenarı
☐ Pİ kenarı

SORU: Aşağıdaki şekillerde verilen kenarlardan şekle ait olmayanı bulunuz.



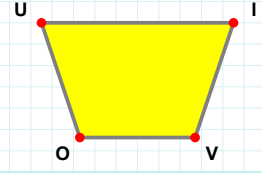
Şekle ait olmayan kenar/kenarları işaretleyelim.

- ☐ MY kenarı
☐ MZ kenarı
☐ ZÖ kenarı



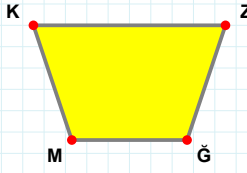
Şekle ait olmayan kenar/kenarları işaretleyelim.

- ☐ DÖ kenarı
☐ KÖ kenarı
☐ KT kenarı



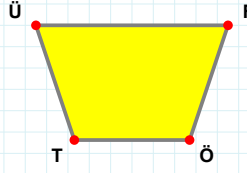
Şekle ait olmayan kenar/kenarları işaretleyelim.

- ☐ OU kenarı
☐ UV kenarı
☐ IO kenarı



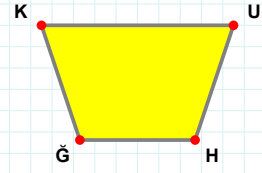
Şekle ait olmayan kenar/kenarları işaretleyelim.

- ☐ ĞM kenarı
☐ ZM kenarı
☐ KĞ kenarı



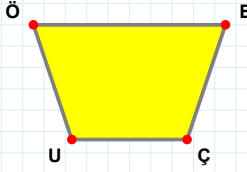
Şekle ait olmayan kenar/kenarları işaretleyelim.

- ☐ ÜÖ kenarı
☐ ÖT kenarı
☐ FT kenarı



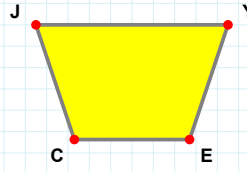
Şekle ait olmayan kenar/kenarları işaretleyelim.

- ☐ UĞ kenarı
☐ ĞK kenarı
☐ UH kenarı



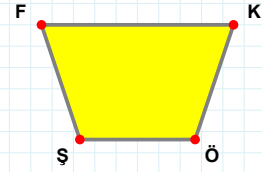
Şekle ait olmayan kenar/kenarları işaretleyelim.

- ☐ ÖB kenarı
☐ BU kenarı
☐ ÖÇ kenarı



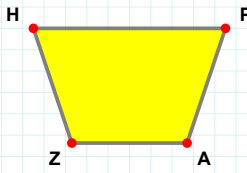
Şekle ait olmayan kenar/kenarları işaretleyelim.

- ☐ YC kenarı
☐ JE kenarı
☐ CJ kenarı



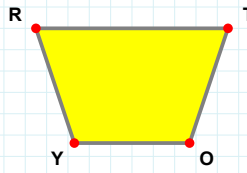
Şekle ait olmayan kenar/kenarları işaretleyelim.

- ☐ KÖ kenarı
☐ KŞ kenarı
☐ FÖ kenarı



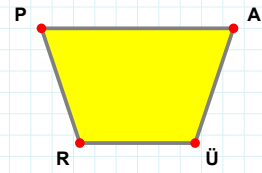
Şekle ait olmayan kenar/kenarları işaretleyelim.

- ☐ HA kenarı
☐ HP kenarı
☐ PZ kenarı



Şekle ait olmayan kenar/kenarları işaretleyelim.

- ☐ RT kenarı
☐ TY kenarı
☐ RO kenarı



Şekle ait olmayan kenar/kenarları işaretleyelim.

- ☐ PÜ kenarı
☐ AR kenarı
☐ AÜ kenarı

SÜREÇ ODAKLI DEĞERLENDİRME ÖLÇEĞİ

Doğru Sayısı: / 24

Öğretmen ilgili kutucuğu işaretler.

Geliştirilmeli (0-8)

İyi (9-14)

Çok İyi (15-20)

Mükemmel (21-24)

☐
☐
☐
☐

Hazırlayan:

Bu bölüme sınıfınızın ilgili kazanıma yönelik genel durumuna ilişkin gözlem ve izlenimlerinizi, öğrencilerinizin bu kazanımla ilgili öğrenme eksikliklerini ve bu eksikliklerin giderilmesi amacıyla yaptığınız/yapmayı planladığınız faaliyetleri not edebilirsiniz.

No	Adı - Soyadı	Toplam Puan	Değerlendirme
1			
2			
3			
4			
5			
6			
7			
8			
9			
10			
11			
12			
13			
14			
15			
16			
17			
18			
19			
20			
21			
22			
23			
24			
25			
26			
27			
28			
29			
30			
31			
32			
33			
34			
35			

Hazırlayan: