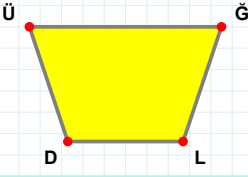
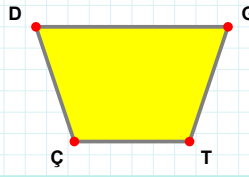


**SORU:** Aşağıdaki şekillerde verilen kenarlardan şekle ait olmayanı bulunuz.



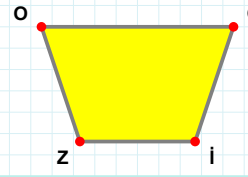
Şekle ait olmayan kenar/kenarları işaretleyelim.

- ☐ ĞL kenarı  
☐ ĞD kenarı  
☐ ÜL kenarı



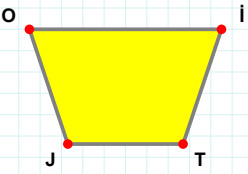
Şekle ait olmayan kenar/kenarları işaretleyelim.

- ☐ GÇ kenarı  
☐ DT kenarı  
☐ TÇ kenarı



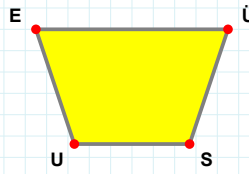
Şekle ait olmayan kenar/kenarları işaretleyelim.

- ☐ OG kenarı  
☐ Oİ kenarı  
☐ GZ kenarı



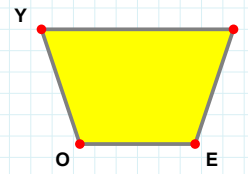
Şekle ait olmayan kenar/kenarları işaretleyelim.

- ☐ JO kenarı  
☐ İJ kenarı  
☐ OT kenarı



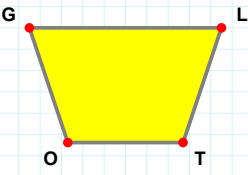
Şekle ait olmayan kenar/kenarları işaretleyelim.

- ☐ ES kenarı  
☐ ÜS kenarı  
☐ ÜU kenarı



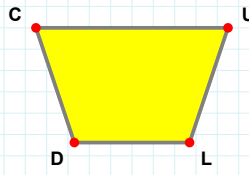
Şekle ait olmayan kenar/kenarları işaretleyelim.

- ☐ OY kenarı  
☐ ÜE kenarı  
☐ YE kenarı



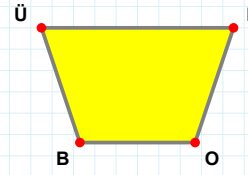
Şekle ait olmayan kenar/kenarları işaretleyelim.

- ☐ TO kenarı  
☐ LT kenarı  
☐ LO kenarı



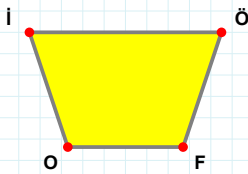
Şekle ait olmayan kenar/kenarları işaretleyelim.

- ☐ CL kenarı  
☐ DC kenarı  
☐ UD kenarı



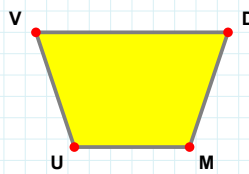
Şekle ait olmayan kenar/kenarları işaretleyelim.

- ☐ MB kenarı  
☐ MO kenarı  
☐ ÜO kenarı



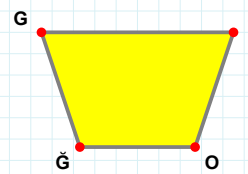
Şekle ait olmayan kenar/kenarları işaretleyelim.

- ☐ İÖ kenarı  
☐ ÖO kenarı  
☐ İF kenarı



Şekle ait olmayan kenar/kenarları işaretleyelim.

- ☐ VM kenarı  
☐ DU kenarı  
☐ DM kenarı



Şekle ait olmayan kenar/kenarları işaretleyelim.

- ☐ SĞ kenarı  
☐ GS kenarı  
☐ GO kenarı

SORU: Aşağıdaki şekillerde verilen kenarlardan şekle ait olmayanı bulunuz.

Şekle ait olmayan kenar/kenarları işaretleyelim.

☐ OY kenarı  
☐ MO kenarı  
☐ PY kenarı

Şekle ait olmayan kenar/kenarları işaretleyelim.

☐ UK kenarı  
☐ ÜK kenarı  
☐ ÜU kenarı

Şekle ait olmayan kenar/kenarları işaretleyelim.

☐ ÖÇ kenarı  
☐ YP kenarı  
☐ ÖP kenarı

Şekle ait olmayan kenar/kenarları işaretleyelim.

☐ TG kenarı  
☐ GL kenarı  
☐ PT kenarı

Şekle ait olmayan kenar/kenarları işaretleyelim.

☐ AG kenarı  
☐ GU kenarı  
☐ ÜG kenarı

Şekle ait olmayan kenar/kenarları işaretleyelim.

☐ İE kenarı  
☐ YU kenarı  
☐ Yİ kenarı

Şekle ait olmayan kenar/kenarları işaretleyelim.

☐ GZ kenarı  
☐ ZÇ kenarı  
☐ ÇG kenarı

Şekle ait olmayan kenar/kenarları işaretleyelim.

☐ UP kenarı  
☐ GU kenarı  
☐ GT kenarı

Şekle ait olmayan kenar/kenarları işaretleyelim.

☐ ZS kenarı  
☐ ZG kenarı  
☐ GS kenarı

Şekle ait olmayan kenar/kenarları işaretleyelim.

☐ EG kenarı  
☐ Nİ kenarı  
☐ GN kenarı

Şekle ait olmayan kenar/kenarları işaretleyelim.

☐ ĞÖ kenarı  
☐ ÇÖ kenarı  
☐ ĞV kenarı

Şekle ait olmayan kenar/kenarları işaretleyelim.

☐ EV kenarı  
☐ VN kenarı  
☐ MV kenarı

## SÜREÇ ODAKLI DEĞERLENDİRME ÖLÇEĞİ

Doğru Sayısı: ..... / 24

Öğretmen ilgili kutucuğu işaretler.

Geliştirilmeli (0-8)

İyi (9-14)

Çok İyi (15-20)

Mükemmel (21-24)

☐☐☐☐

Hazırlayan: .....

**Bu bölüme sınıfınızın ilgili kazanıma yönelik genel durumuna ilişkin gözlem ve izlenimlerinizi, öğrencilerinizin bu kazanımla ilgili öğrenme eksikliklerini ve bu eksikliklerin giderilmesi amacıyla yaptığınız/yapmayı planladığınız faaliyetleri not edebilirsiniz.**

No	Adı - Soyadı	Toplam Puan	Değerlendirme
1			
2			
3			
4			
5			
6			
7			
8			
9			
10			
11			
12			
13			
14			
15			
16			
17			
18			
19			
20			
21			
22			
23			
24			
25			
26			
27			
28			
29			
30			
31			
32			
33			
34			
35			

Hazırlayan: ..... ..