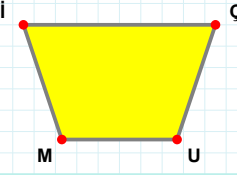
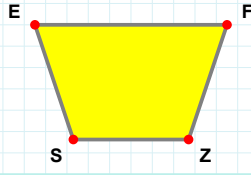


SORU: Aşağıdaki şekillerde verilen kenarlardan şekle ait olmayanı bulunuz.



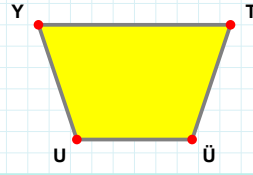
Şekle ait olmayan kenar/kenarları işaretleyelim.

- ☐ ÇM kenarı
☐ İU kenarı
☐ İÇ kenarı



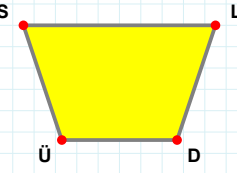
Şekle ait olmayan kenar/kenarları işaretleyelim.

- ☐ FS kenarı
☐ EZ kenarı
☐ FZ kenarı



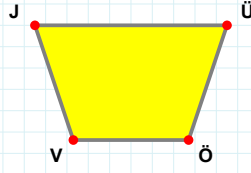
Şekle ait olmayan kenar/kenarları işaretleyelim.

- ☐ UY kenarı
☐ YT kenarı
☐ YÜ kenarı



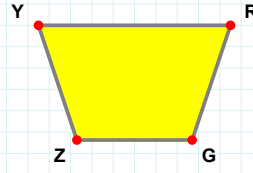
Şekle ait olmayan kenar/kenarları işaretleyelim.

- ☐ SL kenarı
☐ SD kenarı
☐ ÜS kenarı



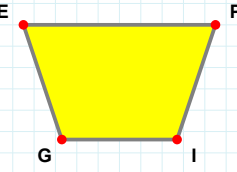
Şekle ait olmayan kenar/kenarları işaretleyelim.

- ☐ ÜV kenarı
☐ ÖV kenarı
☐ VJ kenarı



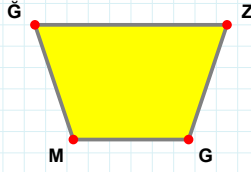
Şekle ait olmayan kenar/kenarları işaretleyelim.

- ☐ RG kenarı
☐ YR kenarı
☐ RZ kenarı



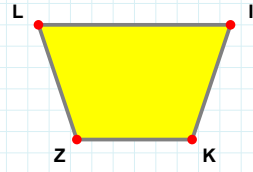
Şekle ait olmayan kenar/kenarları işaretleyelim.

- ☐ GE kenarı
☐ PG kenarı
☐ EI kenarı



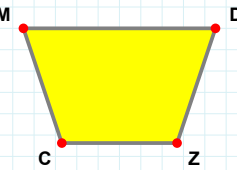
Şekle ait olmayan kenar/kenarları işaretleyelim.

- ☐ ĞG kenarı
☐ ZG kenarı
☐ ZM kenarı



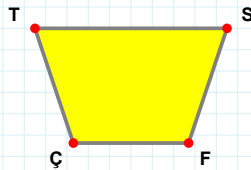
Şekle ait olmayan kenar/kenarları işaretleyelim.

- ☐ ZL kenarı
☐ İZ kenarı
☐ LI kenarı



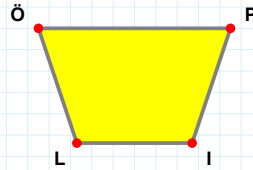
Şekle ait olmayan kenar/kenarları işaretleyelim.

- ☐ DC kenarı
☐ DZ kenarı
☐ MZ kenarı



Şekle ait olmayan kenar/kenarları işaretleyelim.

- ☐ ÇT kenarı
☐ SÇ kenarı
☐ FÇ kenarı



Şekle ait olmayan kenar/kenarları işaretleyelim.

- ☐ PL kenarı
☐ ÖP kenarı
☐ Öİ kenarı

SORU: Aşağıdaki şekillerde verilen kenarlardan şekle ait olmayanı bulunuz.

Şekle ait olmayan kenar/kenarları işaretleyelim.

- ☐ ĞC kenarı
- ☐ CJ kenarı
- ☐ JĞ kenarı

Şekle ait olmayan kenar/kenarları işaretleyelim.

- ☐ ŞP kenarı
- ☐ İŞ kenarı
- ☐ İP kenarı

Şekle ait olmayan kenar/kenarları işaretleyelim.

- ☐ SE kenarı
- ☐ SC kenarı
- ☐ CR kenarı

Şekle ait olmayan kenar/kenarları işaretleyelim.

- ☐ RS kenarı
- ☐ ES kenarı
- ☐ SI kenarı

Şekle ait olmayan kenar/kenarları işaretleyelim.

- ☐ DÖ kenarı
- ☐ ÖZ kenarı
- ☐ UZ kenarı

Şekle ait olmayan kenar/kenarları işaretleyelim.

- ☐ YO kenarı
- ☐ İT kenarı
- ☐ YT kenarı

Şekle ait olmayan kenar/kenarları işaretleyelim.

- ☐ PC kenarı
- ☐ İP kenarı
- ☐ İÖ kenarı

Şekle ait olmayan kenar/kenarları işaretleyelim.

- ☐ YO kenarı
- ☐ PF kenarı
- ☐ OF kenarı

Şekle ait olmayan kenar/kenarları işaretleyelim.

- ☐ UÇ kenarı
- ☐ ÇD kenarı
- ☐ FD kenarı

Şekle ait olmayan kenar/kenarları işaretleyelim.

- ☐ UÖ kenarı
- ☐ ŞS kenarı
- ☐ US kenarı

Şekle ait olmayan kenar/kenarları işaretleyelim.

- ☐ HJ kenarı
- ☐ CH kenarı
- ☐ YH kenarı

Şekle ait olmayan kenar/kenarları işaretleyelim.

- ☐ MH kenarı
- ☐ MP kenarı
- ☐ HÇ kenarı

SÜREÇ ODAKLI DEĞERLENDİRME ÖLÇEĞİ

Doğru Sayısı: / 24			Öğretmen ilgili kutucuğu işaretler.
Geliştirilmeli (0-8)	İyi (9-14)	Çok İyi (15-20)	Mükemmel (21-24)
<input type="checkbox"/>	<input type="checkbox"/>	<input type="checkbox"/>	<input type="checkbox"/>

Hazırlayan:

Bu bölüme sınıfınızın ilgili kazanıma yönelik genel durumuna ilişkin gözlem ve izlenimlerinizi, öğrencilerinizin bu kazanımla ilgili öğrenme eksikliklerini ve bu eksikliklerin giderilmesi amacıyla yaptığınız/yapmayı planladığınız faaliyetleri not edebilirsiniz.

No	Adı - Soyadı	Toplam Puan	Değerlendirme
1			
2			
3			
4			
5			
6			
7			
8			
9			
10			
11			
12			
13			
14			
15			
16			
17			
18			
19			
20			
21			
22			
23			
24			
25			
26			
27			
28			
29			
30			
31			
32			
33			
34			
35			

Hazırlayan: