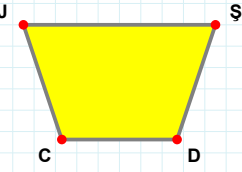
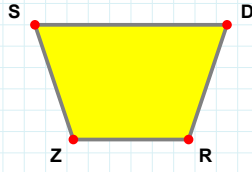


**SORU:** Aşağıdaki şekillerde verilen kenarlardan şekle ait olmayanı bulunuz.



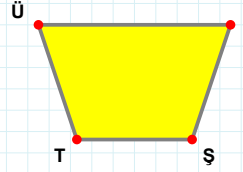
Şekle ait olmayan kenar/kenarları işaretleyelim.

- ☐ CJ kenarı  
☐ JD kenarı  
☐ ŞC kenarı



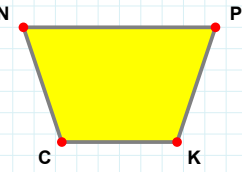
Şekle ait olmayan kenar/kenarları işaretleyelim.

- ☐ DZ kenarı  
☐ DR kenarı  
☐ SR kenarı



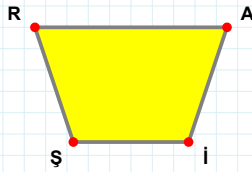
Şekle ait olmayan kenar/kenarları işaretleyelim.

- ☐ ET kenarı  
☐ ÜŞ kenarı  
☐ TŞ kenarı



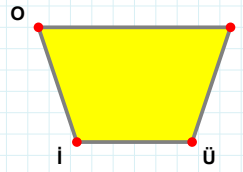
Şekle ait olmayan kenar/kenarları işaretleyelim.

- ☐ CN kenarı  
☐ PC kenarı  
☐ NK kenarı



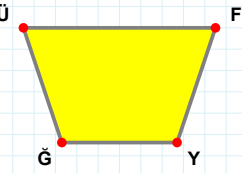
Şekle ait olmayan kenar/kenarları işaretleyelim.

- ☐ RI kenarı  
☐ AŞ kenarı  
☐ AI kenarı



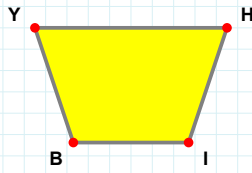
Şekle ait olmayan kenar/kenarları işaretleyelim.

- ☐ LÜ kenarı  
☐ İO kenarı  
☐ LI kenarı



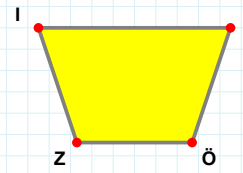
Şekle ait olmayan kenar/kenarları işaretleyelim.

- ☐ FY kenarı  
☐ FĞ kenarı  
☐ YĞ kenarı



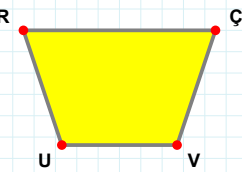
Şekle ait olmayan kenar/kenarları işaretleyelim.

- ☐ HB kenarı  
☐ BY kenarı  
☐ HI kenarı



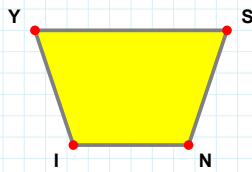
Şekle ait olmayan kenar/kenarları işaretleyelim.

- ☐ İÖ kenarı  
☐ IL kenarı  
☐ LZ kenarı



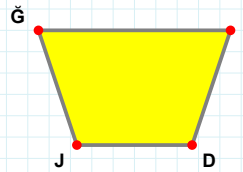
Şekle ait olmayan kenar/kenarları işaretleyelim.

- ☐ ÇU kenarı  
☐ RV kenarı  
☐ UR kenarı



Şekle ait olmayan kenar/kenarları işaretleyelim.

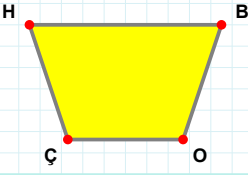
- ☐ SI kenarı  
☐ YN kenarı  
☐ SN kenarı



Şekle ait olmayan kenar/kenarları işaretleyelim.

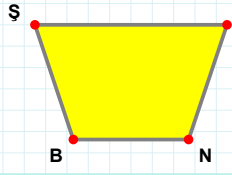
- ☐ GJ kenarı  
☐ ĞD kenarı  
☐ GD kenarı

SORU: Aşağıdaki şekillerde verilen kenarlardan şekle ait olmayanı bulunuz.



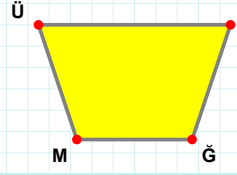
Şekle ait olmayan kenar/kenarları işaretleyelim.

- ☐ BO kenarı  
☐ BÇ kenarı  
☐ OÇ kenarı



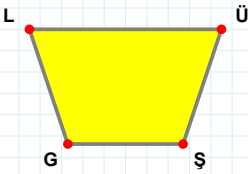
Şekle ait olmayan kenar/kenarları işaretleyelim.

- ☐ EN kenarı  
☐ ŞE kenarı  
☐ ŞN kenarı



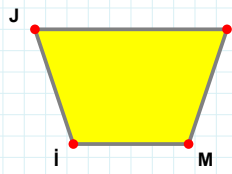
Şekle ait olmayan kenar/kenarları işaretleyelim.

- ☐ ÜĞ kenarı  
☐ UM kenarı  
☐ ÜU kenarı



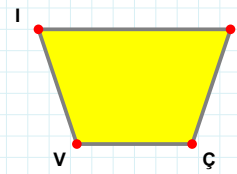
Şekle ait olmayan kenar/kenarları işaretleyelim.

- ☐ LŞ kenarı  
☐ LÜ kenarı  
☐ ÜG kenarı



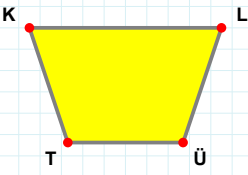
Şekle ait olmayan kenar/kenarları işaretleyelim.

- ☐ İI kenarı  
☐ JM kenarı  
☐ JI kenarı



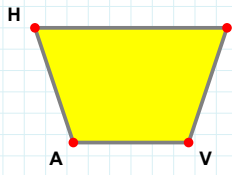
Şekle ait olmayan kenar/kenarları işaretleyelim.

- ☐ VI kenarı  
☐ IÇ kenarı  
☐ OÇ kenarı



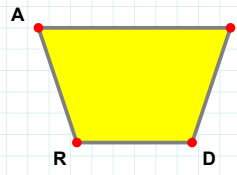
Şekle ait olmayan kenar/kenarları işaretleyelim.

- ☐ KÜ kenarı  
☐ LT kenarı  
☐ TK kenarı



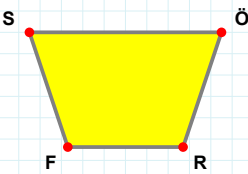
Şekle ait olmayan kenar/kenarları işaretleyelim.

- ☐ VA kenarı  
☐ AH kenarı  
☐ HV kenarı



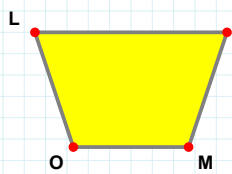
Şekle ait olmayan kenar/kenarları işaretleyelim.

- ☐ AD kenarı  
☐ AZ kenarı  
☐ ZR kenarı



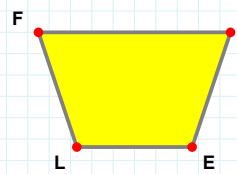
Şekle ait olmayan kenar/kenarları işaretleyelim.

- ☐ ÖR kenarı  
☐ SR kenarı  
☐ SÖ kenarı



Şekle ait olmayan kenar/kenarları işaretleyelim.

- ☐ MO kenarı  
☐ FO kenarı  
☐ FM kenarı



Şekle ait olmayan kenar/kenarları işaretleyelim.

- ☐ EL kenarı  
☐ FP kenarı  
☐ PL kenarı

## SÜREÇ ODAKLI DEĞERLENDİRME ÖLÇEĞİ

Doğru Sayısı: ..... / 24

Öğretmen ilgili kutucuğu işaretler.

Geliştirilmeli (0-8)

İyi (9-14)

Çok İyi (15-20)

Mükemmel (21-24)

☐
☐
☐
☐

Hazırlayan: .....

**Bu bölüme sınıfınızın ilgili kazanıma yönelik genel durumuna ilişkin gözlem ve izlenimlerinizi, öğrencilerinizin bu kazanımla ilgili öğrenme eksikliklerini ve bu eksikliklerin giderilmesi amacıyla yaptığınız/yapmayı planladığınız faaliyetleri not edebilirsiniz.**

No	Adı - Soyadı	Toplam Puan	Değerlendirme
1			
2			
3			
4			
5			
6			
7			
8			
9			
10			
11			
12			
13			
14			
15			
16			
17			
18			
19			
20			
21			
22			
23			
24			
25			
26			
27			
28			
29			
30			
31			
32			
33			
34			
35			

Hazırlayan: ..... ..