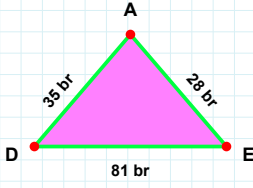
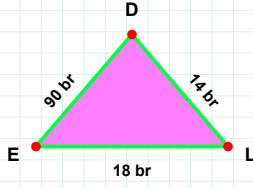


**SORU:** Aşağıdaki şekillerde istenen kenarın kaç birim veya santimetre olduğunu bulunuz.



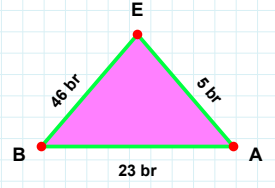
|AD| kaç brdir?

- ☐ 35 br  
☐ 37 br  
☐ 30 br



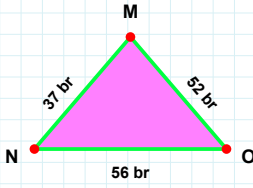
|LD| kaç brdir?

- ☐ 14 br  
☐ 9 br  
☐ 24 br



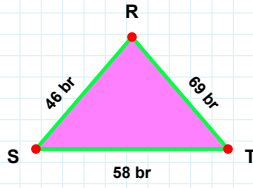
|AE| kaç brdir?

- ☐ 2 br  
☐ 5 br  
☐ 3 br



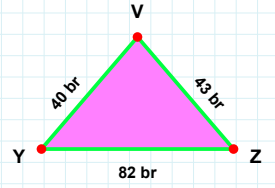
|NO| kaç brdir?

- ☐ 56 br  
☐ 61 br  
☐ 55 br



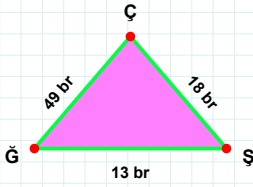
|TR| kaç brdir?

- ☐ 71 br  
☐ 79 br  
☐ 69 br



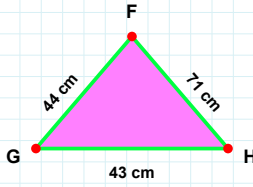
|YZ| kaç brdir?

- ☐ 87 br  
☐ 82 br  
☐ 72 br



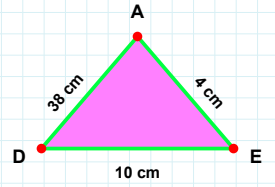
|AD| kaç cmdir?

- ☐ 28 cm  
☐ 38 cm  
☐ 43 cm



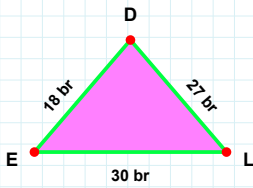
|FG| kaç cmdir?

- ☐ 42 cm  
☐ 44 cm  
☐ 47 cm



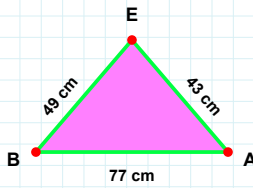
|ŞÇ| kaç brdir?

- ☐ 13 br  
☐ 18 br  
☐ 23 br



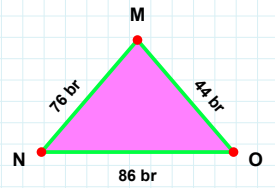
|AE| kaç cmdir?

- ☐ 43 cm  
☐ 42 cm  
☐ 53 cm



|DE| kaç brdir?

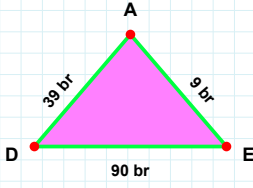
- ☐ 18 br  
☐ 15 br  
☐ 16 br



|NO| kaç brdir?

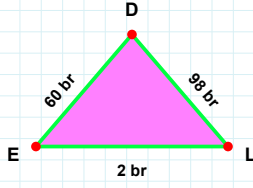
- ☐ 96 br  
☐ 86 br  
☐ 89 br

**SORU:** Aşağıdaki şekillerde istenen kenarın kaç birim veya santimetre olduğunu bulunuz.



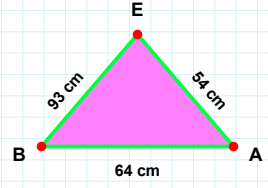
|DE| kaç brdir?

- ☐ 90 br  
☐ 89 br  
☐ 92 br



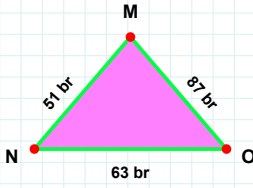
|LD| kaç brdir?

- ☐ 98 br  
☐ 95 br  
☐ 99 br



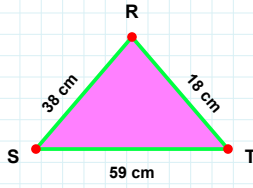
|BA| kaç cmdir?

- ☐ 59 cm  
☐ 64 cm  
☐ 65 cm



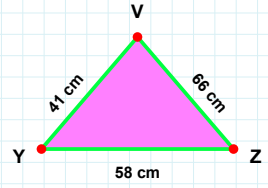
|RS| kaç cmdir?

- ☐ 36 cm  
☐ 33 cm  
☐ 38 cm



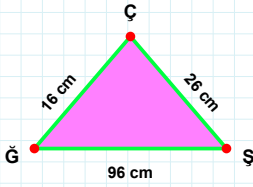
|YZ| kaç cmdir?

- ☐ 61 cm  
☐ 63 cm  
☐ 58 cm



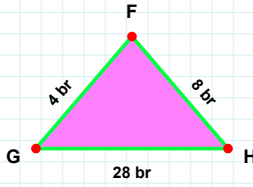
|NO| kaç brdir?

- ☐ 63 br  
☐ 53 br  
☐ 62 br



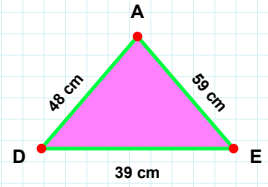
|GH| kaç brdir?

- ☐ 25 br  
☐ 28 br  
☐ 29 br



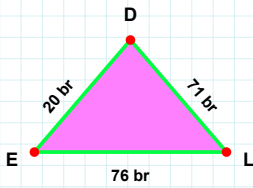
|DE| kaç cmdir?

- ☐ 49 cm  
☐ 39 cm  
☐ 42 cm



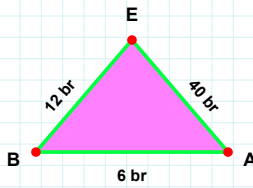
|GŞ| kaç cmdir?

- ☐ 96 cm  
☐ 95 cm  
☐ 86 cm



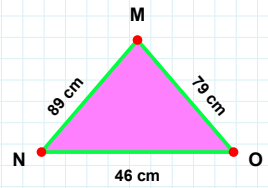
|OM| kaç cmdir?

- ☐ 79 cm  
☐ 89 cm  
☐ 74 cm



|BA| kaç brdir?

- ☐ 8 br  
☐ 11 br  
☐ 6 br



|EL| kaç brdir?

- ☐ 81 br  
☐ 76 br  
☐ 77 br

SÜREÇ ODAKLI DEĞERLENDİRME ÖLÇEĞİ

Doğru Sayısı: ..... / 24

Öğretmen ilgili kutucuğu işaretler.

Geliştirilmeli (0-8)

İyi (9-14)

Çok İyi (15-20)

Mükemmel (21-24)



Hazırlayan: .....

Bu bölüme sınıfınızın ilgili kazanıma yönelik genel durumuna ilişkin gözlem ve izlenimlerinizi, öğrencilerinizin bu kazanımla ilgili öğrenme eksikliklerini ve bu eksikliklerin giderilmesi amacıyla yaptığınız/yapmayı planladığınız faaliyetleri not edebilirsiniz.

No	Adı - Soyadı	Toplam Puan	Değerlendirme
1			
2			
3			
4			
5			
6			
7			
8			
9			
10			
11			
12			
13			
14			
15			
16			
17			
18			
19			
20			
21			
22			
23			
24			
25			
26			
27			
28			
29			
30			
31			
32			
33			
34			
35			

Hazırlayan: .....