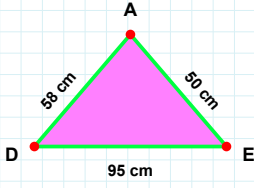
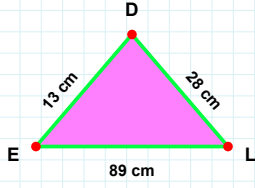


SORU: Aşağıdaki şekillerde istenen kenarın kaç birim veya santimetre olduğunu bulunuz.



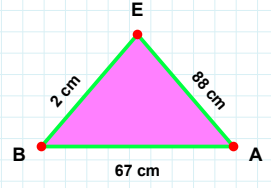
|EL| kaç cmdir?

- ☐ 89 cm
☐ 91 cm
☐ 90 cm



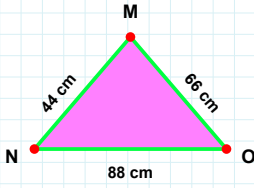
|AD| kaç cmdir?

- ☐ 58 cm
☐ 57 cm
☐ 56 cm



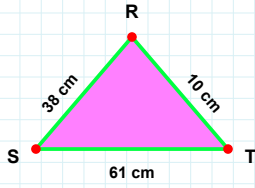
|BA| kaç cmdir?

- ☐ 68 cm
☐ 62 cm
☐ 67 cm



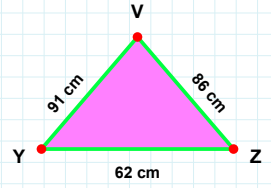
|YZ| kaç cmdir?

- ☐ 61 cm
☐ 62 cm
☐ 67 cm



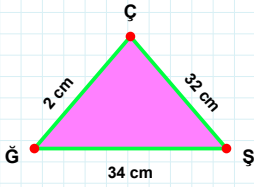
|MN| kaç cmdir?

- ☐ 43 cm
☐ 42 cm
☐ 44 cm



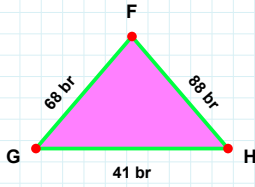
|TR| kaç cmdir?

- ☐ 12 cm
☐ 10 cm
☐ 13 cm



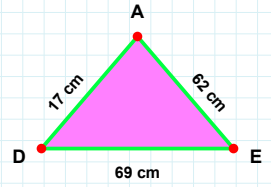
|ÇĞ| kaç cmdir?

- ☐ 2 cm
☐ 4 cm
☐ 7 cm



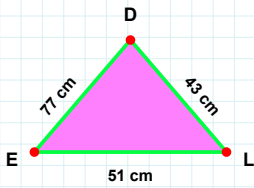
|EA| kaç cmdir?

- ☐ 62 cm
☐ 52 cm
☐ 61 cm



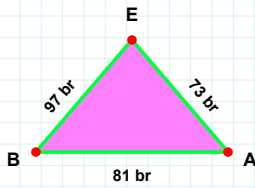
|GH| kaç brdir?

- ☐ 46 br
☐ 36 br
☐ 41 br



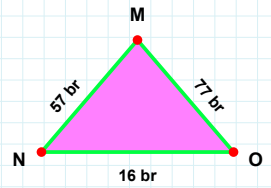
|EB| kaç brdir?

- ☐ 96 br
☐ 92 br
☐ 97 br



|OM| kaç brdir?

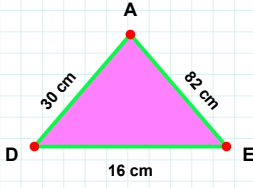
- ☐ 77 br
☐ 75 br
☐ 80 br



|DE| kaç cmdir?

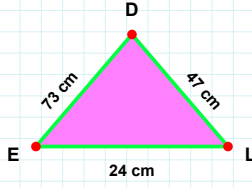
- ☐ 74 cm
☐ 77 cm
☐ 72 cm

SORU: Aşağıdaki şekillerde istenen kenarın kaç birim veya santimetre olduğunu bulunuz.



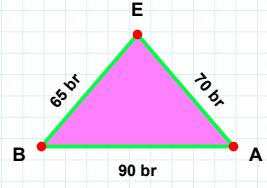
|DE| kaç cmdir?

- ☐ 16 cm
☐ 6 cm
☐ 21 cm



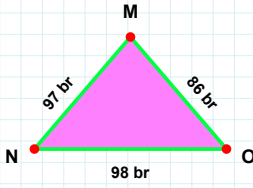
|DE| kaç cmdir?

- ☐ 78 cm
☐ 73 cm
☐ 71 cm



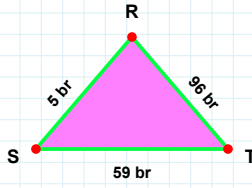
|AE| kaç brdir?

- ☐ 65 br
☐ 70 br
☐ 73 br



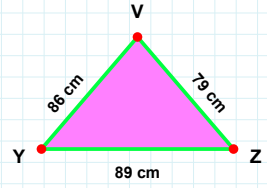
|RS| kaç brdir?

- ☐ 5 br
☐ 6 br
☐ 15 br



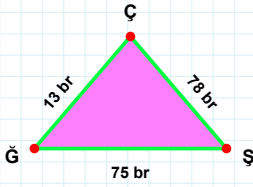
|MN| kaç brdir?

- ☐ 97 br
☐ 96 br
☐ 98 br



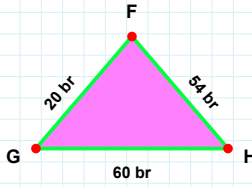
|YZ| kaç cmdir?

- ☐ 84 cm
☐ 89 cm
☐ 87 cm



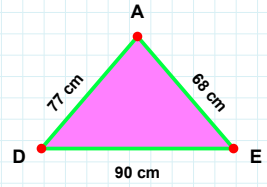
|ÇĞ| kaç brdir?

- ☐ 11 br
☐ 12 br
☐ 13 br



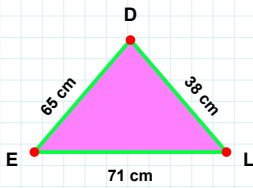
|HF| kaç brdir?

- ☐ 44 br
☐ 54 br
☐ 64 br



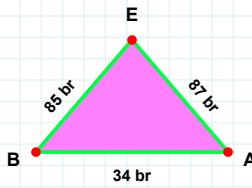
|EA| kaç cmdir?

- ☐ 66 cm
☐ 68 cm
☐ 69 cm



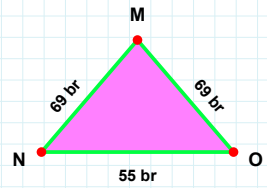
|DE| kaç cmdir?

- ☐ 67 cm
☐ 65 cm
☐ 55 cm



|AE| kaç brdir?

- ☐ 97 br
☐ 88 br
☐ 87 br



|NO| kaç brdir?

- ☐ 65 br
☐ 53 br
☐ 55 br

SÜREÇ ODAKLI DEĞERLENDİRME ÖLÇEĞİ

Doğru Sayısı: / 24

Öğretmen ilgili kutucuğu işaretler.

Geliştirilmeli (0-8)

İyi (9-14)

Çok İyi (15-20)

Mükemmel (21-24)

☐☐☐☐

Hazırlayan:

Bu bölüme sınıfınızın ilgili kazanıma yönelik genel durumuna ilişkin gözlem ve izlenimlerinizi, öğrencilerinizin bu kazanımla ilgili öğrenme eksikliklerini ve bu eksikliklerin giderilmesi amacıyla yaptığınız/yapmayı planladığınız faaliyetleri not edebilirsiniz.

No	Adı - Soyadı	Toplam Puan	Değerlendirme
1			
2			
3			
4			
5			
6			
7			
8			
9			
10			
11			
12			
13			
14			
15			
16			
17			
18			
19			
20			
21			
22			
23			
24			
25			
26			
27			
28			
29			
30			
31			
32			
33			
34			
35			

Hazırlayan: