

SORU: Aşağıdaki geometrik şekillerle ilgili soruları cevaplayınız.

35 br hangi kenara aittir?
☐ FÜ kenarı
☐ ZÜ kenarı
☐ ÜU kenarı

23 br hangi kenara aittir?
☐ İU kenarı
☐ UÜ kenarı
☐ Üİ kenarı

$|ÖO| + |OG| = \dots$
Cevap: br

28 cm hangi kenara aittir?
☐ HI kenarı
☐ IO kenarı
☐ OH kenarı

70 br hangi kenara aittir?
☐ ŞĞ kenarı
☐ ÇĞ kenarı
☐ İÇ kenarı

73 br hangi kenara aittir?
Kenar:

$|İÜ|$ kaç brdir?
☐ 21 br
☐ 22 br
☐ 23 br

65 cm hangi kenara aittir?
Kenar:

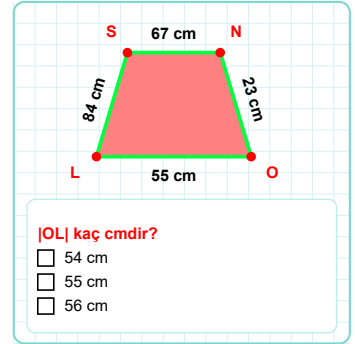
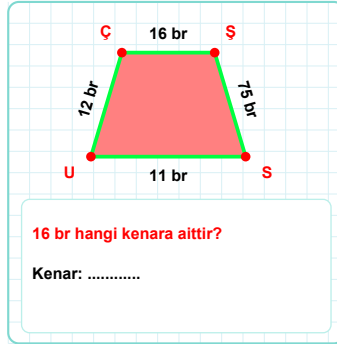
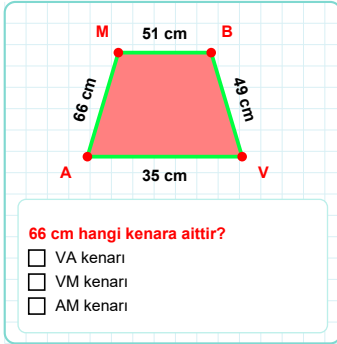
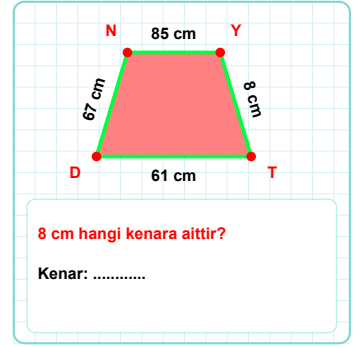
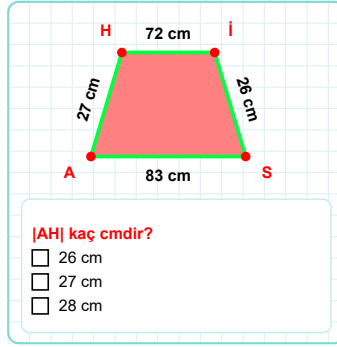
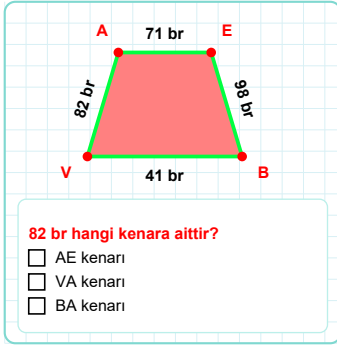
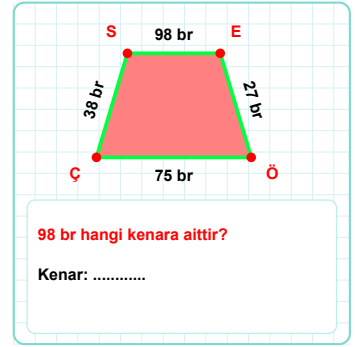
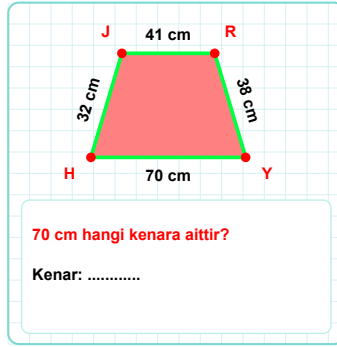
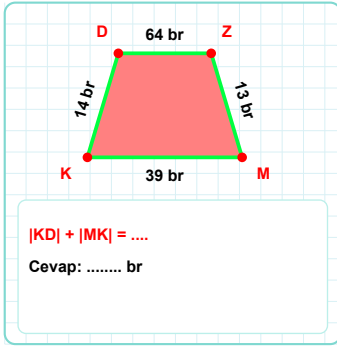
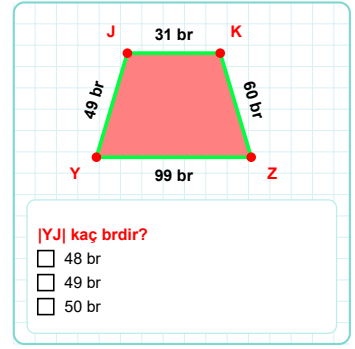
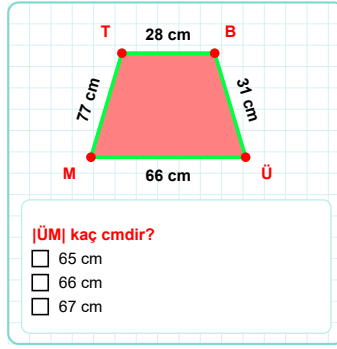
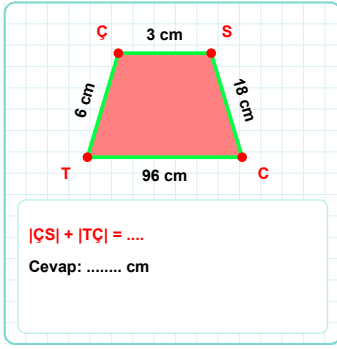
$|ÜN| + |AÜ| = \dots$
Cevap: cm

$|TG| + |ŞŞ| = \dots$
Cevap: cm

$|ÇR|$ kaç cmdir?
☐ 93 cm
☐ 94 cm
☐ 95 cm

49 br hangi kenara aittir?
☐ GJ kenarı
☐ YJ kenarı
☐ GY kenarı

SORU: Aşağıdaki geometrik şekillerle ilgili soruları cevaplayınız.



SÜREÇ ODAKLI DEĞERLENDİRME ÖLÇEĞİ

Doğru Sayısı: / 24

Öğretmen ilgili kutucuğu işaretler.

Geliştirilmeli (0-8)

İyi (9-14)

Çok İyi (15-20)

Mükemmel (21-24)

☐☐☐☐

Hazırlayan:

Bu bölüme sınıfınızın ilgili kazanıma yönelik genel durumuna ilişkin gözlem ve izlenimlerinizi, öğrencilerinizin bu kazanımla ilgili öğrenme eksikliklerini ve bu eksikliklerin giderilmesi amacıyla yaptığınız/yapmayı planladığınız faaliyetleri not edebilirsiniz.

No	Adı - Soyadı	Toplam Puan	Değerlendirme
1			
2			
3			
4			
5			
6			
7			
8			
9			
10			
11			
12			
13			
14			
15			
16			
17			
18			
19			
20			
21			
22			
23			
24			
25			
26			
27			
28			
29			
30			
31			
32			
33			
34			
35			

Hazırlayan: